

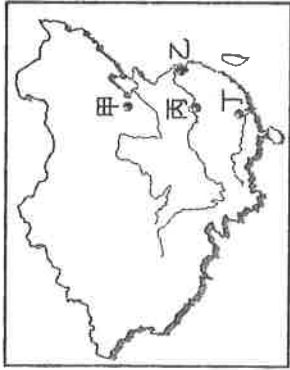
選擇題：(第 1 題~第 48 題，每題 2 分；第 49~52 題，每題 1 分；滿分 100 分)

1. 依據《民法》規定，下列何者的法律行為原則上必須經法定代理人事先允許或事後承認，才具有效力？ (A) 18 歲的派大星 (B) 17 歲的王太太 (C) 6 歲的海綿寶寶 (D) 20 歲的鮭魚。
2. 下列何者在《民法》上屬於限制行為能力人？ (A) 長年在美國居住，已 20 年沒回臺灣的陳老閩 (B) 因車禍致腦部受傷，受到法院輔助宣告的李太太 (C) 因公司倒閉失業在家 2 年，申請急難救助金的已而立之年的阿明 (D) 剛過 18 歲生日，就和同班女同學結婚的浩子。
3. 下列何者不屬於《民法》規範中的財產關係？ (A) 怡文買了一麻袋文旦 (B) 梁實向房東租了一間套房 (C) 又春放棄爺爺去世後留給她的遺產 (D) 林其向堂姐借了 30 萬元。
4. 根據目前《民法》的規定，婚姻要成立，不需要下列何種要素？ (A) 書面形式 (B) 兩人以上證人 (C) 向戶政機關登記 (D) 公開儀式。
5. 依現代法律觀點，下列哪個故事所描述的行為，屬於我國《民法》規範的範圍？ (A) 清明祭拜祖先 (B) 端午白素貞為救許仙盜採仙藥 (C) 西門慶教唆潘金蓮殺武大郎 (D) 四大美女之一王昭君出塞和親。
6. 關於契約的敘述，何者錯誤？ (A) 結婚屬於要式契約，買早餐屬於非要式契約 (B) 契約可以書面或口頭約定的方式成立 (C) 簽訂書面契約時，一定要蓋章才有效 (D) 契約成立後，即產生債權、債務的關係。
7. 花輪和小丸子因為結婚而互相產生配偶關係，這樣的關係在民法上稱為【甲】；雅雅因為媽媽再婚，與繼父經收養程序後，成為【乙】。上述內容依序應填入下列何者？ (A) 身分關係、自然血親 (B) 身分關係、法定血親 (C) 財產關係、自然血親 (D) 財產關係、法定血親。
8. 15 歲的凱凱在未經父母同意下，向商店老闆購買一臺電視遊樂器，如果父母事後反對，則這項買賣契約的法律效力為何？ (A) 無效，父母可以要求退貨還錢 (B) 有效，因為老闆已經交付約定商品 (C) 有效，因為雙方有簽訂書面買賣契約 (D) 無效，但父母不能代替小齊要求解除契約。
9. 阿行：「前天我到同學家玩時，不小心把他家的手機弄壞了。我該怎麼辦？」關於阿行上述行為所須承擔的法律責任，下列何人的回答正確？ (A) 阿城：「必須負起債務不履行行的損害賠償。」 (B) 多多：「並非故意，不須負擔法律責任。」 (C) 新卉：「應以修好遊戲機為原則。」 (D) 易男：「買一支新手機給同學以示負責。」
10. 當事人為節省解決衝突的時間，在雙方同意的的前提下，可以進行調解以處理糾紛。關於調解進行的過程，下列哪項敘述是正確的？ (A) 調解委員會製作的調解書，須送交當地縣市政府核定 (B) 調解成立後，由法官製作調解書 (C) 調解委員會的委員由政府官員擔任 (D) 調解書的法律效力和法院判決相同。
11. 和解可分為訴訟外和解和訴訟上和解，關於兩者間的差異，哪項敘述是正確的？ (A) 法律上的效力不同 (B) 訴訟的對象不同 (C) 適用的案件不同 (D) 判決的結果不同。
12. 阿華與莊哥發生債務糾紛，兩人希望採取「省時、省錢、具法律效力」的途徑來化解衝突。下列何種方式最符合上述需求？ (A) 和解 (B) 調解 (C) 訴願 (D) 訴訟。
13. 楊先生開車時不小心和他人擦撞，雙方自行協議之後，解決此項糾紛。下列相關敘述，何者正確？ (A) 這是訴訟上和解 (B) 須由法官做成和解筆錄 (C) 這是訴訟外和解 (D) 日後雙方依法都不得再提起訴訟。
14. 下列哪些是與《民法》有關的常見法律行為？(甲)小愛、弘傑因個性不合，決定離婚 (乙)阿松看到宇宣的筆記做得很棒，向他借筆記來學習 (丙)婷婷違規停車被警察開罰單 (丁)淑卉拿信用卡到中友百貨公司購物 (A)甲乙丙 (B)甲乙丁 (C)甲丙丁 (D)乙丙丁。
15. 典典和朋友簽訂買賣房屋契約，後因房價上漲，典典想要反悔，而與朋友發生糾紛。請問：典典可能須負起何種法律責任？ (A) 契約自由責任 (B) 誠實信用責任 (C) 侵權行為責任 (D) 債務不履行責任。
16. 不法侵害他人的生命、身體、健康或財產，會構成侵權行為。下列關於侵權行為的敘述，何者錯誤？ (A) 拒絕履行契約是常見的侵權行為 (B) 因故意或過失，不法侵害他人權利，須負起侵權行為責任 (C) 須負擔損害賠償責任 (D) 違反《民法》所必須負起的責任。

17.我們常以孫文革命第十一次才取得成功的例子，用來勉勵他人不要放棄成功的希望。事實上，孫文最後革命成功並非僥倖，而是因為下列何事的推波助瀾，才讓武裝起事一舉成功？

(A)庚子拳亂 (B)保路風潮 (C)太平天國 (D)甲午戰爭

18.1911 年 10 月 10 日，革命軍發動起義，此役不僅為中國政局開創新的里程碑，也替中華民國的歷史翻開新頁，因此政府定每年的 10 月 10 日為「國慶日」。上述武裝起義的地點位於附圖中何處？



(A)甲 (B)乙 (C)丙 (D)丁

19.晚清知識分子為了救亡圖存，有兩種不同的救國模式，一是保皇立憲，一是革命運動。兩者在做法上的相似之處為何？

(A)發動武裝抗爭，以推翻清廷為目的 (B)改革現有體制，倡導君主立憲政體 (C)引進西方科技，提倡「船堅炮利」 (D)結合民間力量，推動國內政治改革

20.孫文於民國元年三月底，宣布辭去中華民國臨時大總統的職位。在讓位給袁世凱之前，頒布了下列哪項法令作為正式行憲前的國家根本大法？

(A)中華民國臨時政府組織法 (B)中華民國建國綱領 (C)中華民國臨時約法 (D)中華民國憲法大綱

21.袁世凱在民國初年的許多作為，引起時人爭議，而他在歷史上的定位亦是十分極端且具有討論的空間。下列何事曾是他的引起爭議的作為之一？

(A)主張全盤西化 (B)讓清皇室復辟 (C)賄選當上總統 (D)同意接受「二十一條」部分要求

22.發動辛亥革命是為了推翻滿清政府。國民黨發動二次革命的原因之一是因為何人被暗殺身亡？

(A)宋教仁 (B)孫文 (C)袁世凱 (D)黃興

23.當中央政府權力式微，就容易形成地方軍人割據的局面，如唐末藩鎮與民初軍閥都曾出現這種情形。藩鎮或軍閥的特色為何？

(A)重視民族精神，團結一致對付外敵 (B)彼此之間倘若有紛爭，多靠關說協調 (C)注重個人利益，用軍事力量解決紛爭 (D)以國家興亡為己任，置個人死生於度外

24.清末民初以來，中國知識分子在外力衝擊下，無形中加深、加廣了他們的視野，於是在思想行為上有了很大的轉變，下列哪項有關此時知識分子的敘述錯誤？

(A)他們以接受西式教育為主 (B)他們漸漸取代傳統士紳的社會地位 (C)他們繼續以考科舉作為人生的規劃 (D)他們的想法衝擊了傳統的婚姻與家庭觀念

25.民初知識分子大量引進西方思潮，使學術呈現百家爭鳴的熱烈氣氛，其中「德先生」和「賽先生」被視為救中國的良方。上文的德先生和賽先生是指以下何者？

(A)民主、科學 (B)民主、自由 (C)平等、科學 (D)民族、科學

26.清末以來，中國為因應西方勢力的入侵，內部發生了一連串運動，從「自強運動」、「戊戌變法」、「武昌起義」到「新文化運動」的陸續推行來看，下列何者最能夠解釋這段轉變過程？

(A)民間「夷夏之防」的思想成為人們關注課題 (B)知識分子在變局中努力為國家發展尋找出路 (C)西方國家嘗試在中國推行各種新思想新制度 (D)傳統宗教信仰的影響力在中國社會日趨壯大

27.清末以來，以器物、制度為重心的改革均未使中國擺脫積弱不振的命運，屢次遭受西方列強的侵略。但在新知識分子大量學習西方文化之後，卻一致認為中國唯有進一步致力於思想文化的徹底西化，才能成為一個現代化的國家，因而導致下列哪個活動的興起？

(A)自強運動 (B)維新運動 (C)立憲運動 (D)新文化運動

28.第一次大戰結束之後，中國以戰勝國的身分受邀參加巴黎和會，但和會的某個決議卻揭露當時中國國際社會地位低落的事實。這個決議應為下列何者？

(A)將朝鮮的主權讓與日本 (B)將山東的權益讓給日本 (C)將臺灣割讓給日本 (D)將遼東半島割讓給俄國

29.清朝末年，在日本東京成立的某個革命團體誓詞如下：「驅逐韃虜、恢復中華、建立民國、平均地權。」上述是指哪個革命團體 (A)籌安會 (B)興中會 (C)同盟會 (D)華興會

30.中國革命第一人在《黃花岡烈士事略》序文中高度評價了黃花岡之役：「是役也，碧血橫飛，浩氣四塞，草木為之含悲，風雲因而變色，全國久蟄之人心，乃大興奮。怨憤所積，如怒濤排壑，不可遏抑，不半載而武昌之大革命以成。則斯役之價值，直可驚天地、泣鬼神，與武昌革命之役並壽。」請問：文中的黃花岡之役是指以下哪場革命事件？

(A)廣州之役 (B)雲南起義 (C)辛亥革命 (D)惠州之役

31.下列哪一作品是新文化運動期間，主張以白話文代替文言文，求通俗易懂，成普通流行的文體？

(A)文學改良芻議 (B)新青年雜誌 (C)兒童世界 (D)新中國

32.新文化運動之後，婦女權益逐漸受重視，開啟婦女解放運動，下列哪一項不屬於解放的項目之一？

(A)男女共學 (B)投入社會 (C)身體自主 (D)三從四德

33.傳統中國忽視兒童教育與權益。請問：從何時中國兒童地位開始受到關注？

(A)明末清初 (B)清末民初 (C)民國以後 (D)第二次世界大戰後

第一話 大雄的進擊

家住日本東京的大雄考試常在及格邊緣掙扎，哆啦A夢的出現讓大雄燃起鬥志，哆啦A夢說：「讀萬卷書不如行萬里路」！於是帶著大雄和他的夥伴先從熟悉的家鄉日本出發，來趟東北亞走讀之旅，希望回來後定評衝到滿分！！



34.哆啦A夢拿出了道具「竹蜻蜓」與「時光機」，一行人沿太平洋沿岸在空中飛行，來到七

月盛夏、氣象廳發布了豪雨特報，請問日本太平洋沿岸夏天多雨的原因可能為何：(甲)緯

度 (乙)地形 (丙)黑潮 (丁)親潮 (戊)季風？(A)甲乙丙 (B)乙丙戊 (C)丙丁戊 (D)甲乙戊

35.小夫覺得七月實在太熱了，哆啦A夢就拿出「時光布」把大家瞬移到寒冷的雪季，打算滑

雪消暑氣。然而受限於地形、年降雪量及積雪深度，各地滑雪場狀況不同。日本全國有數百處的滑雪場，其中特別集中的地區，多位於長野縣、新潟縣、及北海道等積雪豐富的地區，由此來判斷雪場集中位置，在氣候上多具有何種特點？

滑雪場數量排名	行政區	滑雪場數量
第 1 名	長野縣	79 座
第 2 名	北海道	51 座
第 3 名	新潟縣	48 座
第 4 名	群馬縣	22 座
第 5 名	岐阜縣	22 座

(A)位於環太平洋板塊交界帶上，地震特多
(B)親潮寒流必經之地，冬季氣候特別嚴寒
(C)位於西北季風迎風面上，冬季降水豐富
(D)冬季水氣由太平洋進入，帶來豐富降雪
36.下表是幾個熱門滑雪場營運時程表，從自然條件及表中營運時間判斷，這些雪場由北向南的分布是？

(A)甲乙丙丁 (B)乙丙甲丁 (C)丙丁乙甲 (D)甲乙丁丙

	滑雪場	營運時間
甲	富良野滑雪場	11 月 21 日 - 05 月 05 日
乙	星野度假村滑雪場	12 月 01 日 - 04 月 04 日
丙	天山滑雪場	12 月 10 日 - 03 月 17 日
丁	六甲山滑雪場	12 月 05 日 - 03 月 29 日

37.影響滑雪場營運日期的原因中，除了海拔高度之外應該還有下列何者？(A)距海遠近 (B)季風 (C)經度 (D)緯度
38.滑完雪後，愛吃的胖虎嚷著肚子餓，哆啦A夢拿出了道具「請客桌巾」變出一大堆日本傳統美食，其中有好多都是米製品。以米飯為主食的日本人，除了白米飯之外，還用米制作了酒、味噌、醋、年糕等食品。哆啦A夢說他去過同緯度的中國華北地區，當地米食卻並不盛行，多以麵食為主。請問，造成兩地飲食文化差異的主要原因為何？(A)距海遠近 (B)緯度高低 (C)季風有無 (D)地形差異

39.大雄是「阪神虎」棒球隊的死忠球迷，於是提議要到阪神甲子園棒球場來看球，

請問球場位於右圖中何處？(A)甲 (B)乙 (C)丙 (D)丁

40.來到球場，比賽正進行到九局下半，眼看敵隊打擊者大棒一揮，球剛好順著夏季盛行季風的風向，被風直吹向外野飛去，眼看敵對就要全壘打了，哆啦A夢緊急拿出道具「天氣衛星」來控制風向，準備來個逆風干擾，請問要變出何種風才能阻止球的去向？(A)西南風 (B)西北風 (C)東北風 (D)東南風

41.承第39題，阪神地區是日本工業發達的地區之一，以鋼鐵機械、石油化學工業為主，下列何者最不可能 是此地工業發達的原因？(A)海運便利 (B)礦產原料豐富 (C)勞工素質高 (D)都市密集人口多

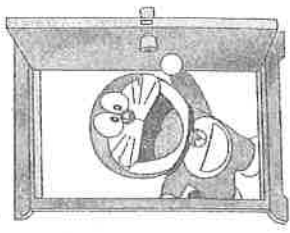
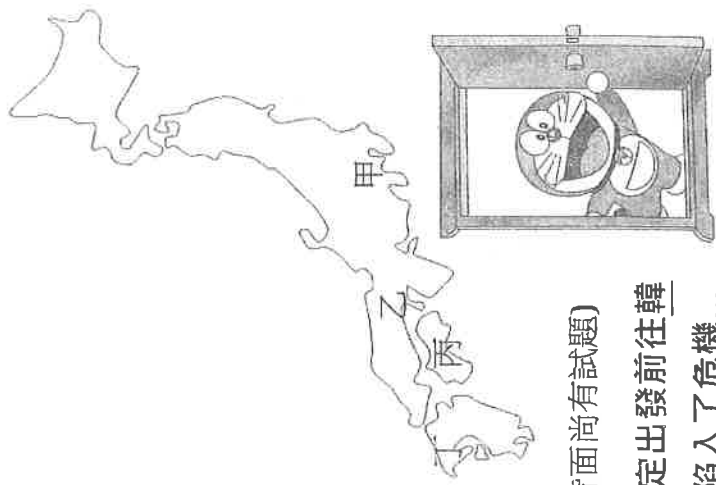
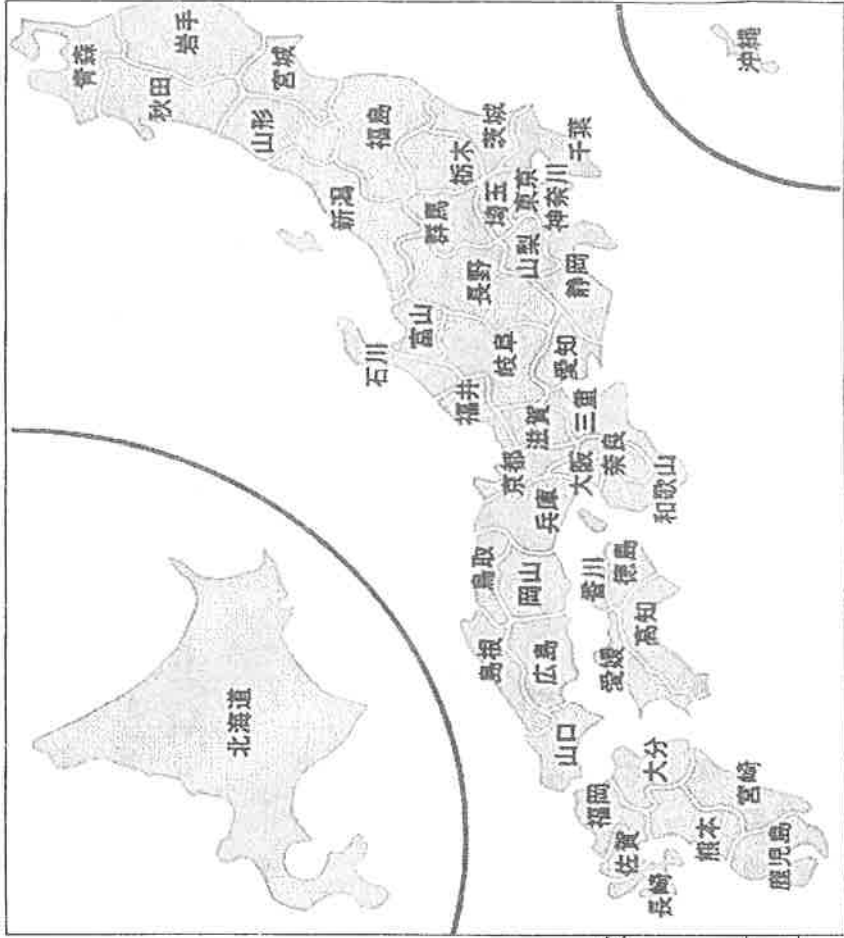
富

第二話 朝鮮驚魂記

第 3 頁 (背面尚有試題)

靜香最近迷上了韓劇與韓流歐巴，滿懷憧憬的想要前往韓國朝聖，大雄與同伴們決定出發前往韓國，於是哆啦A夢拿出了道具「任意門」，想著穿過這扇門就到韓國啦！沒想到..卻陷入了危機...

42.他們瞬間出現在某條大街上，街邊看板大大寫著「朝顯閃耀的太陽!! 金正恩將軍萬歲!!」等標語歌頌該國領導



人，有關此國的描述何者正確？(A)首都是首爾市 (B)國民所得高 (C)地形西高東低 (D)以軍事工業為主

43.為了解一行人所在的地理環境，哆啦A夢從道具「地圖百寶箱」摸出一張朝鮮半島七月的等值線圖（如右圖），此圖乃依某種地理特性繪製而成的。他們發現圖中有兩個區塊越往中央、數值相對越低(黑色圓圈處)，可能的原因是？ (A)距海較近 (B)洋流經過 (C)地勢較高 (D)盛行風向吹拂

44.在朝鮮半島的兩韓邊界地帶守軍嚴密、氣氛詭異，哆啦A夢拿出了道具「隱形斗篷」，想讓大夥兒平安通過。想要逃離這個國家有幾條路線選擇，以下何者正確？ (A)越過鴨綠江就是南韓 (B)渡過黃海就是日本 (C)翻過大白山脈就是中國 (D)越過38度停戰線就是南韓

45.大家成功隱形到韓國後，哆啦A夢打開「時光電視」想要了解韓國的工業演變，從50年代、70年代到今日分別出現何種代表性的產品？(A)假髮→汽車→半導體 (B)汽車→假髮→半導體 (C)假髮→半導體→汽車 (D)半導體→假髮→汽車

46. 一行人感覺到南北韓有極大的差異，哆啦A夢拿出「萬用百科」查閱，但書中表格似乎出了錯，只有哪項是完全正確呢？

地區	(A)收穫次數	(B)生長季	(C)冬季風向	(D)降水量
北韓	一次	較長	西北風	較少
南韓	一次	較短	東北風	較多

47.愛看電影的靜香把大家拉到韓國的電影院觀賞2020奧斯卡最佳外語片--《寄生上流》，劇情深刻描寫了韓國的社會階級、貧富差異和衝突，以及底層社會人們的掙扎，請問：南韓貧富不均的社會階級現象與其哪一項經濟發展策略最有關聯呢？(A)21世紀後進行工業升級 (B)政府扶持大型財團 (C)文化立國發展政策 (D)積極發展國際貿易

48.在結束這趟的旅行後，大雄發現朝鮮半島與家鄉「日本群島」有許多相似之處，關於這兩個地理區的比較，何者有誤？(A)皆為溫帶季風氣候 (B)夏秋皆受可能到颱風侵襲 (C)地形皆以山地為主 (D)皆缺乏礦產資源

◎右圖是日本九州地方的大分河川管理局網站資料・此圖呈現了日本幾條重要河流與世界他國河流的河床坡度比較・圖的縱軸是河床的海拔高度、橫軸代表該河流與河口的距離；請參考此圖回答下列 49~51 題：（註:日文的川即河流的意思）

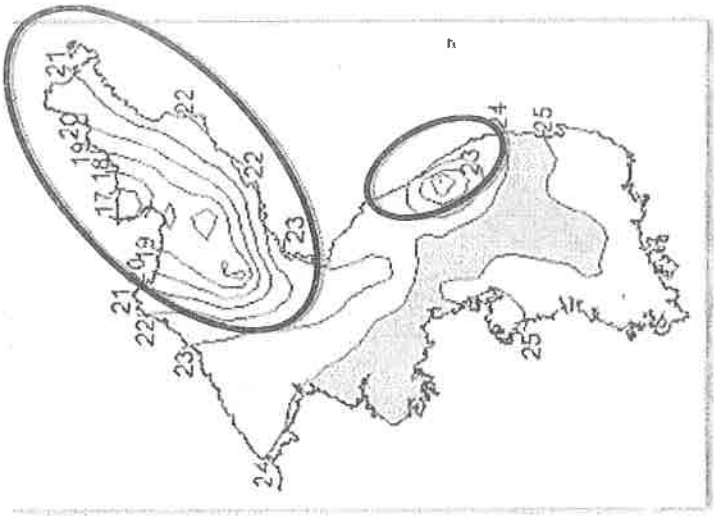
49.觀察圖中的資訊，以下哪一個論述較不適切呢？

- (A)此圖呈現的日本重要河川，與河口距離均少於 400 公里
(B)此圖呈現的日本河川中，最長的河流是信濃川 (C)由圖可知湄公河的海拔高度比利根川來的高
(D)從與河口距離來看，萊茵河比信濃川總長度更長

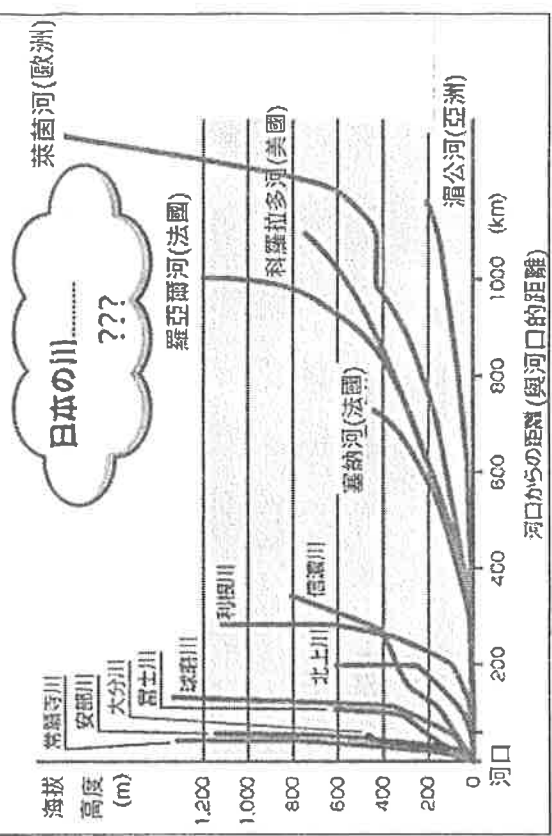
50.圖中???, 是這張圖主要想呈現的日本河川的特點，請問這個??? 填入什麼就對了!?(A)日本的河川數量眾多 (B)日本的河川河短流急 (C)日本的河流流量相對較 (D)日本的河流空間分布密集

51.承上題，日本的河流會有如此特性，與下列何者的關聯性最高？ (A)位處板塊交界帶，山地高聳崎嶇 (B)人口密集，用水需求量大 (C)島嶼數量眾多，海岸線曲折綿長 (D)四面環海，年降水量充沛

52.右圖是2019年日本從【國民健康與營養調查】中，依各行政區走路步數排行繪製的地圖，圖中顏色越深、表示平均步行數越多。該圖呈現了公共交通網絡發達的地區，「步行到車站」或「從車站步行」等行為較常見；反之交通網絡較少的地方人們會更仰賴汽車進行通勤、購物，步行數因而較少。若要用其他地圖輔助說明此現象，下列何種圖最適合？(A)年降雨量分布圖 (B)人口分布圖 (C)年均溫分布圖 (D)斷層帶分布圖



◎日本與世界河流河床坡度比較



各都道府縣平均步數圖