

台中市三光國中一〇九學年度第二學期第一次定期評量七年級社會科試卷(第一頁)

選擇題：1-50 題每題 2 分

- () 1. 花子的媽媽說：「花子自從參加國中校友會，就常參加其所舉辦的各項活動，和校友的感情變得很好。」由此可知，「校友會」主要具有哪種功能？ (A)增進私人利益 (B)培養共同興趣 (C)建立人際關係 (D)達成工作任務
- () 2. 「靖娟基金會」從環境分析、協調會議開始，動用各種相關資源，在交通局與教育局的大力協助下，排除道路上的阻礙，讓學童能安全的走路上學。此團體主要具有哪種功能？ (A)增進私人利益 (B)培養共同興趣 (C)建立人際關係 (D)達成工作任務
- () 3. 壽思國中七年級班的同學利用班會時討論班級出遊的地點，班上分為兩派各自表述意見，誰也不退讓，最後會議在吵鬧中收場。班上同學在互動的過程中，缺乏了哪項基本素養？ (A)遵守法律 (B)相互尊重 (C)捍衛正義 (D)發揮道德
- () 4. 洪老師退休後，擔任社區志工，常常慰問社區中的獨居老人，指導社區孩童課業。洪老師的行為展現了哪種公民素養？ (A)充實知能 (B)促進公益 (C)遵守法律 (D)理性思考
- () 5. 高雄市政府社會局結合數十個志願團體，共同辦理「青少年志工體驗營」活動，藉此鼓勵青少年發揮服務精神。有關於上述團體的敘述，下列何者正確？ (A)志願團體是個人基於法律規範的義務而加入的 (B)志願團體主要目的在保障參與成員的職業利益 (C)參與公益性志願團體的目的是在追求聲勢名譽 (D)志願團體可以凝聚眾人力量進而影響整個社會
- () 6. 針對校園裡是否要放置零食飲料智慧販賣機，家長、學生和教師在公聽會上各自表達觀點、熱烈討論。上述說明家長、學生和老師三方主動參與公共事務，能帶來何種好處？ (A)促進性別平權 (B)爭取個人權益 (C)表達多元意見 (D)增進公共利益
- () 7. 「綠色公民行動聯盟」(簡稱綠盟)是一個由民間發起的全國性組織，秉持「議題結盟、社區串連、公民行動、永續社會」的理念，長期致力於臺灣環境政策的建構與環境議題的推動。從上述內容判斷，綠盟屬於何種組織？ (A)政府組織 (B)營利組織 (C)民間組織 (D)幫派組織
- () 8. 六太所居住的社區，部分居民隨意堆放廢棄物，為了處理這個問題，社區居民決定開會商討辦法。收到開會通知的六太，應該抱持何種想法才能替社區謀求最大利益呢？ (A)不必出席，因為廢棄物又沒有影響到我權益 (B)不必出席，我的意見與想法又不會獲得採納 (C)出席，但是為了避免衝突而不提出任何建議想法 (D)出席，並提出個人建議讓居民思考如何解決難題
- () 9. 菸害防治團體透過遊行或是遊說等方式，爭取提高菸稅及要求政府立法規範無菸環境，經過了許多努力，使得整體國民的健康與環境品質得到改善。上述事例反映出人民對於公共事務的參與有助於提高生活品質、也是何種精神的表現？ (A)人人都有平等的尊嚴 (B)尊重人際之間的差異 (C)國家主權屬於全體人民 (D)正確行使個人的權利
- () 10. 竹雄由於認同某政黨的理念而申請而成為該黨的黨員。下列關於竹雄所加入的團體敘述何者正確？ (A)是為了擴展人際關係而成立 (B)是以保障成員的權益為目標 (C)可以提名候選人來參與選舉 (D)以實現公共利益為主要目的
- () 11. 志願團體可以自行訂定組織章程、會有正式的組織架構、明訂規範進行專業分工等。上文所指為志願結社的哪一項特徵？ (A)組織性 (B)民間性 (C)自主性 (D)志願性
- () 12. 團體是由兩個或兩個以上的個人所構成，對團體有歸屬感，享有共同的規範，依據共同目標進行互動與溝通。根據上述內容判斷，下列何者不是團體？ (A)菜市場買菜的群眾 (B)臺灣電力工會 (C)人本教育基金會 (D)國中校友會
- () 13. 人類是群居的動物，往往透過血緣、地緣或同業團體的力量，來滿足個人的需求。請問：下列何者無法歸類為上述三種人民團體？ (A)林氏宗親會 (B)消費者保護委員會 (C)宜蘭同鄉會 (D)醫師公會
- () 14. 我國人民滿 18 歲可行使公民投票權，可透過此表達對國家政策的看法，進而影響政府決策。此種概念與下列哪項作法相同？ (A)七年信班同學主動籌備班級募款的音樂會 (B)義勇參加路跑協會舉辦的公益馬拉松比賽 (C)彼方參加學校舉辦關於服裝儀容規定的公聽會 (D)炭彥在公車上遇見老人或孕婦會主動讓座
- () 15. 治郎在圖書館和同學討論問題時，越講越大聲，結果遭到館方人員的勸導。請問：治郎的行為是未做到何項公民素養？ (A)充實知能 (B)發揮道德 (C)促進公益 (D)捍衛正義
- () 16. 「沒有廣告收入，維基百科是如何養活自己 18 年？不用廣告，也不與大公司合作，純粹是靠捐款支援。但除了網站捐款外，也透過販售商品取的營運資金，T-shirt 20 元、筆記本 8 元、還有 11 元美金的原子筆。組織運作完全由維基百科自主管理，不受政府支配。」根據上文，呈現志願結社的何項特徵？ (A)自主性 (B)志願性 (C)民間性 (D)組織性

17. 日治時期，臺灣各地仍不斷發生武裝抗日事件。下列武裝抗日事件與領導者配對，何者正確？ (A)霧社事件——丘逢甲 (B)噍吧哖事件——余清芳 (C)臺灣民主國——羅福星 (D)苗栗事件——莫那魯道。
18. 在臺北大稻埕迪化街有一間「阿嬤家—和平與女性人權館」是臺灣第一個由民間募資興建的女性人權館，這是臺灣第一座記錄著「慰安婦」歷史傷痛的實體博物館。請問：這座博物館的成立主要是紀錄臺灣何時的受害者、犧牲者？ (A)清法戰爭 (B)甲午戰爭 (C)第一次世界大戰 (D)中日戰爭。

19. 日本政府統治臺灣初期，連年虧損，然而當時總督府實施某一政策後，臺灣的財政收入在短短一年左右的時間便轉虧為盈，收入也逐年增加。請問：當時總督府主要所使用的是什麼政策？ (A)實施專賣與基礎建設 (B)興建水力發電廠 (C)土地、林野全收歸國有 (D)實施皇民化運動。

20. 三光國中校外教學參觀臺中古蹟「帝國糖廠」，解說員告訴大家：「日治時期臺灣製糖業蓬勃發展，蔗糖產量增加、品質良好，被稱為糖業王國……。」請問：製糖業成為日治時期最具代表性的產業，與下列哪一政策有關？ (A)工業臺灣，農業日本 (B)南進政策，工農並重 (C)工業日本，農業臺灣 (D)工業臺灣，農業南洋。

21. 課堂上，老師要學生討論「日治時期在臺灣的殖民經濟發展」，哪位同學發言有誤？ (A)耀鈞：「日治後期，總督府曾以發展軍需工業為主軸。」 (B)興豐：「成立臺灣銀行，統一貨幣。」 (C)冠齊：「總督府曾整建淡水港與安平港，方便運輸。」 (D)偉智：「進行土地調查，使得田賦收入大為增加。」

22. 附圖是臺灣近代史上相當著名的旗幟，它的出現與下列哪件史實有關？ (A)配合皇民化運動，代表日本出征的旗幟 (B)反對清朝統治臺灣，反清復明的旗幟 (C)原住民反抗日本，成立獨立國家的旗幟 (D)反抗日本占領臺灣，對抗日本的旗幟。

23. 下列有關日本殖民統治時期行政的特色，何者是錯誤的？ (A)臺灣總督握有行政、立法及軍事權力 (B)警察是從壯丁團中選出表現優秀的人士擔任 (C)在臺警察無所不管，權力極大 (D)利用保甲組織協助穩定統治秩序。

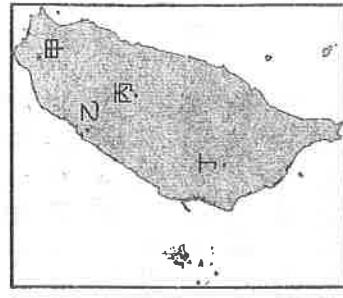
24. 臺灣烏山頭水庫有一座八田與一銅像，以紀念他對臺灣的貢獻。關於八田與一所設計的「嘉南大圳」，下列敘述何者正確？ (A)為了要達成「工業臺灣，農業日本」的政策而興建 (B)興建完成後，使蘭陽平原的農作物產量增加 (C)使得臺灣電力充足，奠定工業化基礎 (D)興建完成後，增加水稻、甘蔗的種植面積。

25. 有關日本在臺推行的皇民化運動，不包括下列哪項政策？ (A)鼓勵參加政治 (B)說日語 (C)改日本姓氏 (D)供奉日本神祇。

26. 日本為了攫取豐富的山林資源，還是決定強力鎮壓原住民。請問：他們不惜付出代價也要從山區得到的資源有以下哪些？ (甲)樟腦 (乙)鹿皮 (丙)林木 (丁)蔗糖 (A)甲乙 (B)乙丁 (C)甲丙 (D)丙丁。

27. 阿翔的爺爺說他小時候曾經送村裡的大哥哥去南洋，出發之前大家一起唱歌、合照，還拿著寫上「武運長久」的太陽旗，氣氛相當哀淒。此情形可能發生在什麼時候？ (A)1900 年代 (B)1920 年代 (C)1940 年代 (D)1960 年代。

28. 皓皓訂閱《臺灣歷史吧》頻道，其中一段影片內容如下：「某一事件假藉宗教名義起事抗日，失敗後多人被捕，受審被告有一千多人，是臺灣當時最大規模的刑案，最後有 866 人被判死刑，後因天皇登基頒布大赦，僅 95 人遭到處決。」請問：此事件發生在右圖何處？ (A)甲 (B)乙 (C)丙 (D)丁。



29. 有關日治時期政府對原住民統治政策敘述，何者錯誤？ (A)起初採取安撫政策，引進現代化文明 (B)以鐵絲電網圍堵原住民，限制生活空間 (C)一律採用武力鎮壓，強制學習日式教育 (D)設立學校教化原住民，使傳統文化備受威脅。

30. 日治時期，警察掌管多項業務，甚至被稱為「南無警察大菩薩」。下列哪個選項不是日治期間警察的業務或權力？ (A)處理戶口調查與環境檢查 (B)為維持治安可以當街鞭打人民 (C)逮捕抗日份子與救災 (D)擔任保正或甲長。

31. 日治時期所發生的霧社事件當初事發地點是位處山區，然而現今的賽德克聚落(馬赫坡社)卻集中在山下的清溪部落。請問：為何會有如此的轉變呢？ (A)剩餘族人發現山下土地更加肥沃，決議遷徙 (B)日本政府強制要求，集中管理剩餘族人 (C)為了躲避其他原住民追殺，選擇遷到較安全的山下 (D)剩餘族人為免觸景傷情，選擇遠離原居地。

32. 西元 17 世紀以來，治理臺灣的政府皆未曾確實掌握臺灣的人口狀況，直到何時臺灣才實施第一次人口普查，建立詳實的戶籍資料以便政府管理？ (A)1895 年 (B)1905 年 (C)1915 年 (D)1937 年。

33. 日治時期中，關於臺灣工業化的進展，下列敘述何者正確？ (A)此時發展是為了配合日本的南進政策 (B)這時期的工業動力主要依靠核能發電 (C)以民生輕工業為發展主要方向 (D)吸引許多歐美資本家來臺投資設廠。

(下頁尚有地理科試題，請繼續作答！)

34. 右列為台灣 1975 年以來的「學齡人口變化及未來人數預估圖」，根據圖中

資訊可對台灣的學齡人口變化做出下列哪一正確推論？(A)應是受少子化影響
(B)將導致扶養比下降 (C)老人照護機構增加 (D)人口素質逐漸下降

35. 根據內政部最新公布的統計資料顯示，台灣的 109 年戶籍人口總數為 2356 萬

1236 人，相較 108 年減少 4 萬 1885 人，人口總數首度負成長，請問造成台灣

此一人口成長變化現象的主因為何？(甲)出生率下降 (乙)移入率下降 (丙)自然增加率下降

(丁)社會增加率下降 (A)甲、乙 (B)甲、丙 (C)乙、丁 (D)丙、丁

36. 右圖是清朝嘉慶十六年，台灣各縣的人口數推估資料，從圖中的顏色深淺變化，
可以推知當時的台灣人口分布，具有下列何特徵？

(A)山地因為有原住民開墾，人口多於平地 (B)南部地區因開發較早，人口數多於北部

(C)東部觀光就業機會多，人口數多於西部 (D)南、北部人口分布與台灣目前狀況一致

37. 《中高齡者及高齡者就業促進法》於去年 12 月實施，若僱主繼續僱用依法退休者
達一定比例以上，每僱用一人，僱主可獲補助 1.3 萬到 1.5 萬元，最長補助 18 個月。
請問：這個法規的制定主要為了解決什麼人口問題？

(A)社會增加率上升 (B)性別比上升 (C)扶養比上升 (D)人口分布不均

38. 右列為台灣的「出生率與死亡率變化趨勢及未來預估圖」，

請根據圖中資訊判斷，下列哪一敘述有誤？

(A)1975~2015 年間，自然增加率為正值

(B)預估 2020 年之後，自然增加率為負值

(C)1975 時，該年的自然增加率數值約為 18.3‰

(D)1975 年之後，自然增加率下降，人口成長停滯

39. 判斷一地勞動力是否充足，常用「人口紅利」作為依據，人口
紅利係指工作年齡人口占總人口比率大於 66.7%作為衡量標
準，右圖為台灣近年及推估未來的「工作年齡人口數及占比
圖」，請依圖中資料判斷下列哪一推論有誤？

(A)現今的台灣仍處於人口紅利階段

(B)台灣未來將逐漸面臨勞動力不足問題

(C)台灣未來的工作年齡人口結構趨於老化

(D)人口紅利期間亦為台灣扶養比較高的階段

【題組 40-42】

※近年，台灣對外來勞動力的需求與日俱增，來台移工主要分成產業移工與社福移工。在台產業移工 45.6 萬人中，以男性
較多，年齡分布以 25-34 歲為主，占 56.3%，35-44 歲及 24 歲以下則各占約 2 成，3 者合占約 9 成 7。社福移工則以女性
居多，年齡分布以 35-44 歲及 25-34 歲者分占 44.1%及 35.4%最多，類別以看護工 26.1 萬人（占 99.3%）為主要。請問：

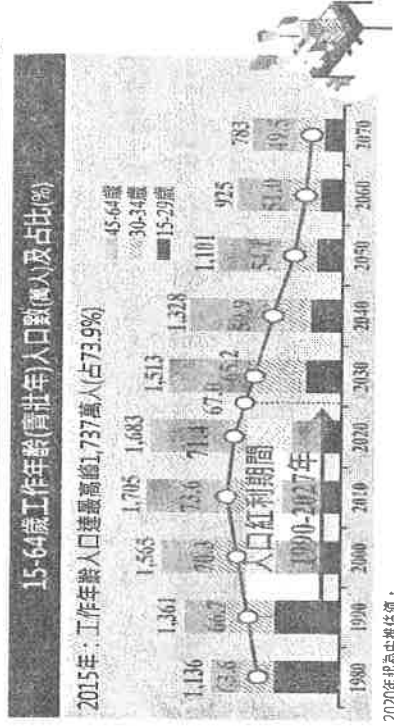
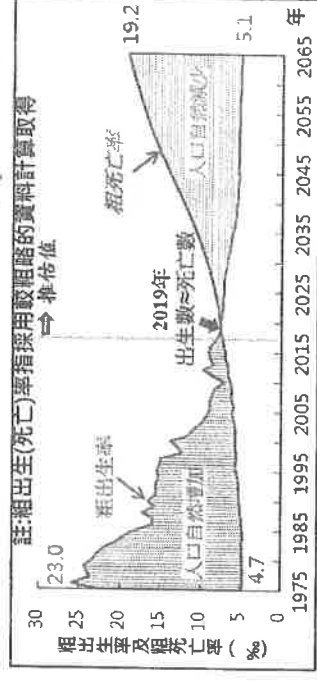
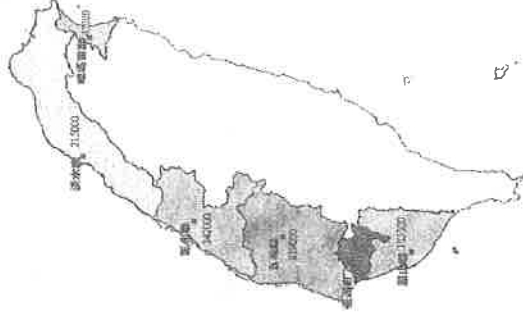

40. 右列為 2020 年的台灣人口金字塔，根據上文所述可判斷，來台的產業移工，主要是

補充右圖中哪一個位置的勞力？(A)甲 (B)乙 (C)丙 (D)丁

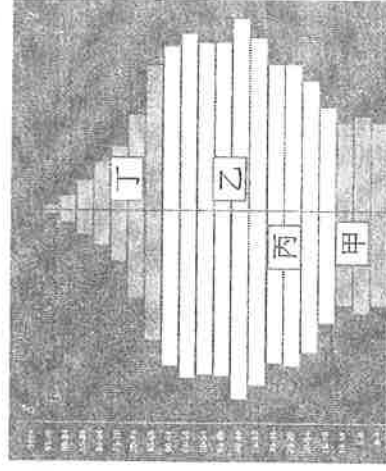
41. 承上題，圖中哪一年齡層的台灣人口，是社福移工來台後的主要服務對象？

(A)甲 (B)乙 (C)丙 (D)丁

42. 新冠肺炎疫情從 2019 年底爆發後，至今疫情仍未停歇，下列為台灣在疫情初期時，
政府因應眾多的新住民製作不同語言版本的防疫文宣，若依來台的「移工人數」判
斷，哪一語言版本的需求度最高？(A)印尼文 (B)越南文 (C)菲律賓文 (D)泰文



註1：2070年認為中報估值。



〔背面尚有試題，請翻面作答〕

【題組 43-44】

※右列為國發會所提出因應台灣人口現況的對策，請根據內容回答問題。請問：

43. 「對策ㄅ」所因應的問題，主因為台灣社會的哪些現象所導致？

- (甲)義務教育年限延長 (乙)醫療技術進步 (丙)實施全民健保
(丁)開放外籍移工來台 (A)甲、乙 (B)乙、丙 (C)乙、丁 (D)丙、丁
44. 而「對策ㄆ」所因應的問題，又是台灣社會的哪些現象所造成？
(甲)晚婚、不婚的風氣 (乙)婦女生育年齡下降 (丙)教育資源分配不均
(丁)整體育兒成本提高 (A)甲、乙 (B)乙、丁 (C)丙、丁 (D)甲、丁

【題組 45-47】

※右圖為台灣近年的扶養比推估圖，請根據圖中資訊回答下列問題。請問：

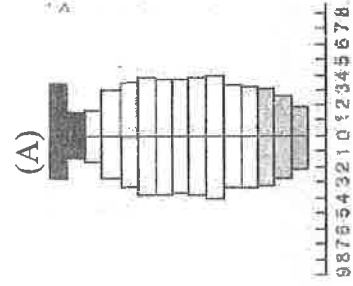
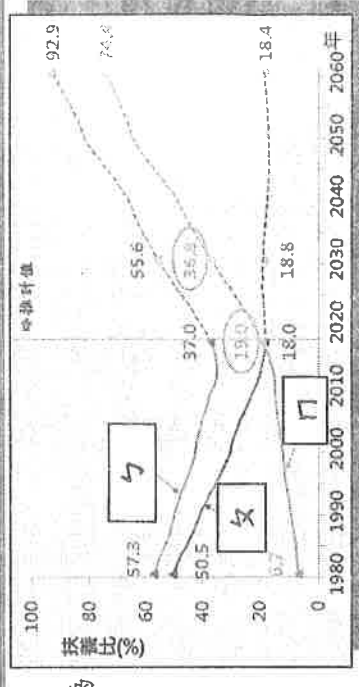
45. (甲)扶老比、(乙)總扶養比、(丙)扶幼比，請問圖中ㄅ、ㄆ、ㄇ依序分別為何種比例？(A)甲、乙、丙 (B)乙、丙、甲 (C)乙、甲、丙 (D)甲、丙、乙
46. 政府因應「ㄆ」的變化應實施下列哪些對策？(甲)力推平價托育環境
(乙)推展節育家庭計畫 (丙)提供兒童照顧津貼 (丁)育嬰留職津貼補助
(A)甲、乙、丙 (B)乙、丙、丁 (C)甲、乙、丁 (D)甲、丙、丁
47. 下列哪一人口金字塔圖，最能呈現「ㄇ」的變動趨勢所帶來的問題？

ㄅ 因應高齡者多元需求，建構共融自主的高齡社會

- ✓ 促進總所稅與照顧扣除額，持續充實長期照顧資源；落實社會性計畫，建構青銀共居環境
- ✓ 研修「高齡社會白皮書」，提升老人福祉，建構友善環境，推展世代共融

ㄆ 落實0至6歲國家一起養政策，完備幼兒全面照顧環境

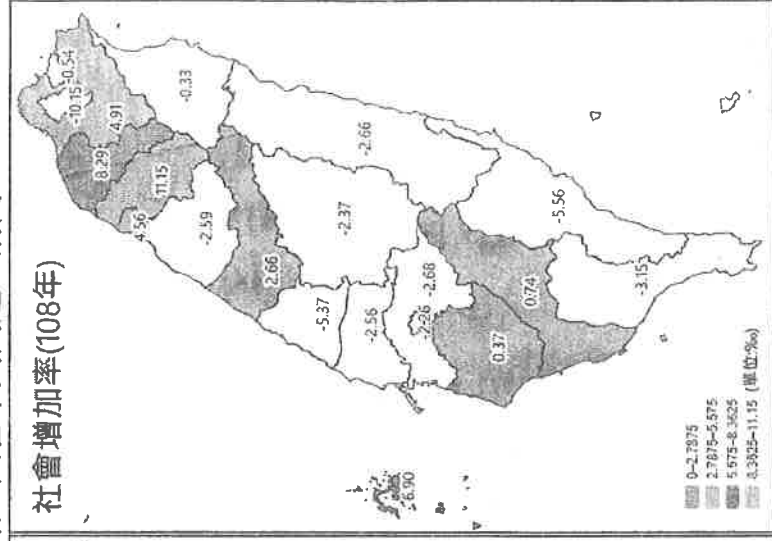
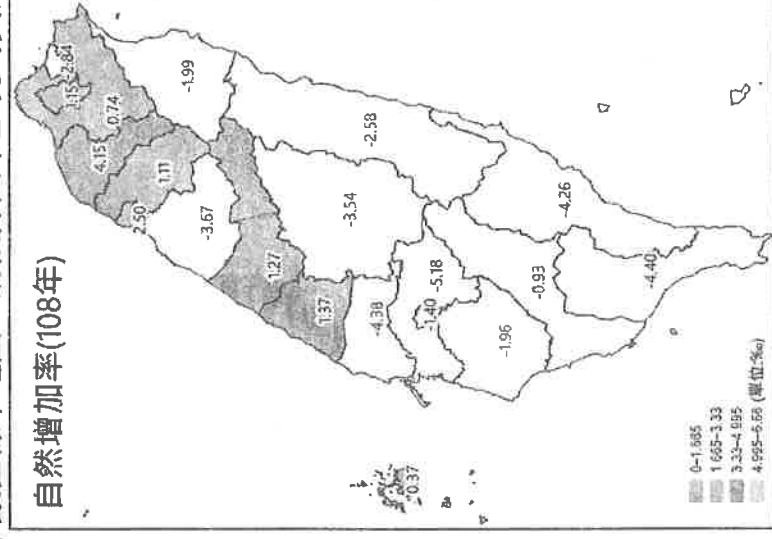
- ✓ 推動「我國少子化對策計畫」，擴增平價托育服務，並提高育兒補助，減輕家長負擔，同時營造友善職場環境，提高國人生育意願
- ✓ 調配教育資源，提升教育品質
- ✓ 研擬「私立高級中等以上學校退場條例」，協助私立高級中等以上學校合併、改制或轉型



【題組 48-50】

※右列為 108 年台灣的自然增加率及社會增加率數值縣市地圖，請根據圖中呈現的資訊，回答下列問題。請問：

48. 哪一縣市的人口「正成長」趨勢最顯著？
(A)台北市 (B)桃園市 (C)新北市 (D)台中市
49. 台灣 108 年社會增加率呈現這樣的數值分布狀況，主要受下列哪些因素影響？(甲)地形
(乙)工作機會 (丙)開發早晚 (丁)交通建設
(戊)購屋成本 (A)甲、乙、丙 (B)乙、丙、丁
(C)乙、丁、戊 (D)丙、丁、戊
50. 由 108 年社會增加率數值地圖資料，最能判斷出台灣的哪一人口現象？
(A)北部人口密度最高
(B)人口往都會區集中
(C)六都皆移入大於移出
(D)新竹縣移入人數最多



〔試題到此結束，請仔細檢查!!〕