

一、選擇題(每題2分，共50題，總分100分)：

- 01.下列有關「機會成本」的敘述，何者正確？(A)機會成本是指放棄的代價中價值最高的 (B)機會成本包含所有被放棄的代價 (C)機會成本是指放棄的所有機會的價值總和 (D)機會成本是無形的，無法被計算出來。
- 02.公民課老師要同學從「稀少性」討論地球上的自然資源。下列何者的觀念錯誤？(A)周訓：陽光、空氣、水是取之不盡、用之不竭的 (B)含雲：隨著經濟發展，資源遭到破壞，現在必須付出代價才能取得 (C)又珍：由於資源有限，我們應珍惜它、善用它 (D)阿美：要將有限的資源做「最有效率」的使用。
- 03.雁君原本在中友百貨上班，薪水有2萬8千元。最近她想要換工作，便應徵了兩個工作，一個是一中街販賣服飾，薪水3萬元；一個是手機製造公司，薪水3萬2千元。請問：雁君如果選擇手機製造公司的工作，她的機會成本為多少？(A)3萬2千元 (B)3萬元 (C)2萬8千元 (D)5萬8千元。
- 04.燕玲：「陪我去超商買東西，我要集點數換小熊抱枕。」佳玉：「我已經集到50點，換到小熊杯子了。」請問，兩人的消費行為受到下列哪一項因素的影響？(A)商品價格 (B)所得 (C)個人偏好 (D)預期心理。
- 05.便利商店為了刺激消費者的購買欲望，暑假會針對飲料推出「同款商品第二件六折」的促銷活動。請問：上述做法是採取下列哪一種策略？(A)提高飲品種類 (B)增加產品利潤 (C)降低產品價格 (D)改變消費型態。
- 06.下列四則新聞中，何者可用來形容需求法則？(A)便利商店產品紛紛推出自有品牌商品，吸引消費者 (B)建築公司可在七期推出千萬元豪宅，中科技新貴紛紛下單，毫不手軟 (C)因應萬聖節到來，諾貝爾、大買家推出琳瑯滿目的應景商品 (D)百貨年中慶，舉辦化妝品買2000元送200元活動，女性消費者瘋狂搶購。
- 07.育晟最近天天到大賣場報到，為的就是買宣傳單上的特價零食，但是卻天天買不到，向賣場人員詢問所得到的答覆是「缺貨」。育晟認為將「缺貨」的商品放在傳單上，是「欺騙消費者的行為」，於是憤而向「主管機關」投訴。請問：上述的「主管機關」為下列何者？(A)消費者文教基金會 (B)公平交易委員會 (C)行政院消費者保護處 (D)消費者權益促進會。
- 08.木康遇到購物問題，於是在網路上發問尋求解答：「我買了禮物送朋友，但是他不喜歡，不知道可以退換貨嗎？」其中哪一位網友的答覆符合法律規定？(A)雨蓓：網路購物有10天購物鑑賞期 (B)彤彤：網路購物不接受商品瑕疵退換貨 (C)雲右：實體商店有權拒絕商品瑕疵退換貨 (D)阿駿：實體商店無購物鑑賞期。
- 09.在國內，農作物盛產往往會造成「果賤傷農」的現象，農作物價格跌落谷底，連採收的成本都不夠，農民也因此放棄採收。請問：這種現象可用下列何種經濟概念說明？(A)需求法則 (B)供給法則 (C)負擔能力原則 (D)受益原則。
- 10.百貨公司在週年慶時，許多商品會以低價格促銷，因此吸引了許多人潮。這是供需法則中的哪一個現象？(A)價格降低，生產增加 (B)價格降低，需求量增加 (C)價格增加 (D)價格降低，生產減少。
- 11.假如麵包師小莊每月可賣出500個單價15元的麵包、200個45元的小西點和200包35元的蛋糕，則小莊每月的銷貨收入為何？(A)23,500元 (B)19,500元 (C)11,500元 (D)15,500元。
- 12.俗話說：「殺頭生意有人做，賠錢買賣沒人要。」這句話的意思是指就個人利益而言，生產者從事生產工作所追求的目標為何？(A)總產量最大 (B)總供給最大 (C)總利潤最大 (D)總收入最大。
- 13.老楊所種的柚子今年大豐收，扣掉損壞的20斤後，所剩產量為180斤。老楊所投入的總生產成本為2,200元，大盤商用1斤30元的價格收購所有的柚子。請問老楊所得到的「利潤」是多少？(A)6,000元 (B)3,800元 (C)2,200元 (D)3,200元。
- 14.桂玲開了一家蛋糕店，每個蛋糕統一售價350元，每做一個蛋糕就要成本150元，若是發傳單宣傳則一天增加10,000元的支出，而發傳單後則每天多賣出60個蛋糕。以利潤來說，桂玲應該要怎麼做，利潤的增加才能最快？(A)廣發傳單 (B)不發傳單 (C)提高蛋糕售價 (D)延長每天的營業時間。
- 15.阿旺辭去原本月薪5萬元的工作，選擇自己創業，某月總共賣出6萬元的好業績，扣除生產成本3萬元，太太卻嫌他「倒賠」。請問：阿旺太太的說法正確嗎？理由為何？(A)正確，阿旺應把原本的月薪計算在機會成本內 (B)正確，除非阿旺業績為7萬元，才不會虧錢 (C)不正確，阿旺的利潤應為6萬元 (D)不正確，阿旺其實賺了3萬元。
- 16.志任賣牛肉麵，如果是手工麵條，一份牛肉麵成本40元，售價80元，一天可賣200碗；若將手工麵條售價改為85元，則一天賣150碗；改用機器做的麵條則一份成本30元，售價80元，一天卻只能賣100碗；若用機器麵條，將售價降為75元則一天可賣180碗。以追求利潤來說，他應該做哪項選擇？(A)賣手工麵，售價80元 (B)賣手工麵，售價85元 (C)賣機器麵，售價80元 (D)賣機器麵，售價75元。

17. 歐洲許多國家的文字都是由希臘字母轉變而來，而追溯希臘字母的最初源頭，此文字應是下列哪一個民族創立的？ (A)羅馬人 (B)蘇美人 (C)腓尼基人 (D)埃及人。
18. 目前世界通用的阿拉伯數字「0123456789」概念，而其中「零」的觀念與數字系統，最早是由哪一個民族發明的？ (A)蘇美人 (B)埃及人 (C)印度人 (D)中國人。
19. 宗教信仰的流行有時和帝王的提倡、信仰有莫大關連。在中國歷史上，魏晉南北朝因為君王的推廣，使得佛教和道教大為興盛；而在西方，下列哪一組人物對於基督教推展最有貢獻？ (A)凱撒、屋大維 (B)君士坦丁、狄奧多西 (C)阿育王、釋迦牟尼 (D)漢摩拉比、亞歷山大。
20. 小蘭想要了解古代希臘時期的文化，請問：下列四本她在圖書館裡找到的書籍，哪一本最有幫助？ (A)凱撒：《高盧戰記》 (B)希羅多德：《歷史》 (C)荷馬：《十二表法》 (D)歐基里德：《幾何原理》。
21. 小安遇見一位修行者，修行者告訴他：「生命萬物都是平等的，只要能拋開欲望，領悟正道，就能超脫輪迴，進入沒有生死，也沒有痛苦的境界。」從上述言論判斷，小安遇見的修行者最有可能是何人？ (A)耶穌 (B)釋迦摩尼 (C)凱撒 (D)蘇格拉底。
22. 傅恆參加聯合國考古隊，到了某地進行考古工作，無意間發現右圖這種古老文字，依照目前歷史學的判斷，傅恆最有可能在何地考古？ (A)愛琴海旁的特洛伊城 (B)尼羅河畔的底比斯城 (C)底格里斯河畔的摩蘇爾古城 (D)印度河畔的摩亨約達羅城。
23. 魏璿珞在復習歷史，發現中國的漢朝與羅馬帝國有許多相似之處。請問：何者不是漢朝與羅馬帝國的共同點？ (A)都是大一統帝國 (B)都曾向外開疆拓土 (C)都曾遭受北方民族的襲擾 (D)後來都分裂為東西兩部。
24. 出生於距今 3000 年前的印度王子阿里，他的生活情景會是以下列何種狀況？ (A)身分屬於種姓制度中的第一等人 (B)他幫助國王阿育王四處宣揚佛教 (C)他當上國王以後被稱為法老 (D)他相信因果報應和靈魂輪迴的觀點。
25. 中國古代成語說到「鷸蚌相爭，漁翁得利」，此句話如果用來解釋古希臘時期的歷史發展，哪個國家在波希戰爭後，成為最後得利的漁翁？ (A)馬其頓 (B)斯巴達 (C)雅典 (D)特洛伊。
26. 下列對《漢摩拉比法典》的敘述，何者正確？(甲)條文中強調「法律之前，人人平等」(乙)強調「以牙還牙」的報復原則(丙)為巴比倫國王下令編訂(丁)法典的原文應是由象形文字寫成 (A)甲乙 (B)乙丙 (C)甲丙 (D)乙丁。
27. 大雄最近正在閱讀小說《埃及守護神》，情節中常常提及古埃及人的生活，請問下列哪一景象不可能在小說中看到？ (A)民眾正在為尼羅河神舉行奧林匹克運動會 (B)民眾正在重新測量尼羅河氾濫之後的土地 (C)祭司正在將亡者製作成木乃伊 (D)法老王動員人力建造金字塔。
28. 古代希臘有位名列「希臘三哲人」之一的學者曾說：「吾愛吾師，吾更愛真理。」這位哲學家也曾擔任過亞歷山大大帝的老師，這最可能是哪位哲學家？ (A)亞里斯多德 (B)柏拉圖 (C)歐基里德 (D)希羅多德。
29. 上古時期，羅馬人曾在歐、亞、非洲建立廣大的帝國，並且對當時的建築、文化造成相當大的影響。而今日如果要找尋古羅馬文化的蛛絲馬跡，最不可能在何處找到？ (A)英國 (B)以色列 (C)埃及 (D)瑞典。
30. 下列有關古埃及各分期的特色配對，何者正確？ (A)古王國時期→領土最大 (B)中王國時期→商業興盛 (C)新王國時期→興建金字塔 (D)新王國時期→發明一週七天制。
31. 歷史課時，老師要同學分別針對羅馬文明的歷史發表提出各自的看法，下列何人的觀點正確？ (A)甲生：羅馬文明在政治發展上，先後經歷了王政、帝國到共和三個階段 (B)乙生：共和時期的所有政治事務由執政官決定，最後再交由元老院監督 (C)丙生：羅馬帝國的開創者為凱撒 (D)丁生：西羅馬帝國最後是被日耳曼人所消滅。
32. 右圖為西亞相關地圖，請問：下列對於圖中各地的古西亞民族特色，何者正確？ (A)甲→發明六十進位法 (B)乙→擅長製作鐵器 (C)丙→創立最早的一神信仰 (D)丁→擅長占星及天文學。
33. 下列關於基督教發展的敘述，何者正確？ (A)起源於歐洲 (B)相信耶穌是該教唯一的神 (C)狄奧多西皇帝將其定為國教 (D)受到亞歷山大的支持，四處推廣。

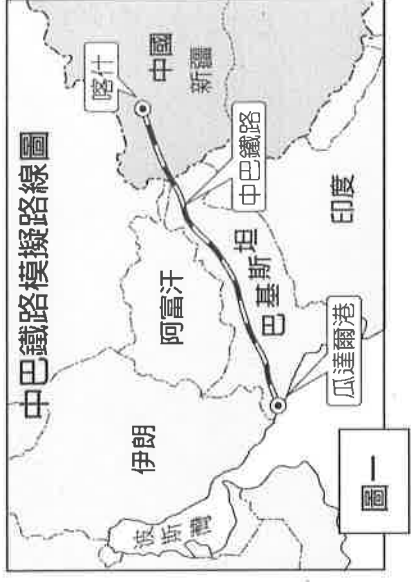


34. 培倫在線上遊戲中扮演一位必須穿過有「歐洲屋脊」之稱的阿爾卑斯山的士兵，為自己的軍方傳送重要訊息，他穿過其間的寬平谷地，安全的完成任務。請問：培倫所通過谷地是由何種作用所形成？


(A) 冰河作用 (B) 風蝕作用 (C) 溶蝕作用 (D) 斷層作用

35. 近年來中國計畫在西部邊疆打通一條新的絲綢之路（如圖一），興建中國、巴基斯坦之間的跨國鐵路網。中國希望藉此計畫讓巴基斯坦成為中國進口重要資源的轉運站。請問圖中的鐵路的規畫路線上，沿途及起點都市的主要宗教信仰特色為何？ (A) 星期日需進教堂禱告 (B) 居民禁食牛肉 (C) 宗教經典為社會戒律 (D) 推行種姓制度，社會階級分明。

★各國往往會將最重要的人、事、物，印製在鈔票上，鈔票，就像一個國家的名片；這些圖案反映了各國文化，瀏覽各國紙鈔，有時就好像身歷該國，一覽該國文化及風景呢！讓我們看看以下這些鈔票，回答 36-39 題吧！



圖一



▲鈔票一



▲鈔票二



▼鈔票三



▼鈔票四

36. 鈔票一為西亞某國紙幣，圈起來的部分是卡巴天房—伊斯蘭教義中『天使崇拜真主之處』，也是全球的穆斯林每天禮拜的朝向之處，請問該建築所在的都市，位於圖二何國境內？

(A) 甲 (B) 丙 (C) 丁 (D) 己

37. 鈔票二是伊拉克的 50 元紙幣，上面印有該國重要的作物之一，關於該國的相關描述，下列何者正確？

- (A) 此作物是棗椰樹，其果實營養價值高，有『沙漠麵包』之稱
(B) 該國因深居內陸、距海遙遠，使得氣候乾燥少雨
(C) 該國農作物栽種主要仰賴高山融雪、利用坎井來灌溉
(D) 該國位於圖中的乙，是西亞古文明的起源地

38. 鈔票三是敘利亞的千元紙幣，上面呈現了該國自古以來的葡萄酒文化與經濟；

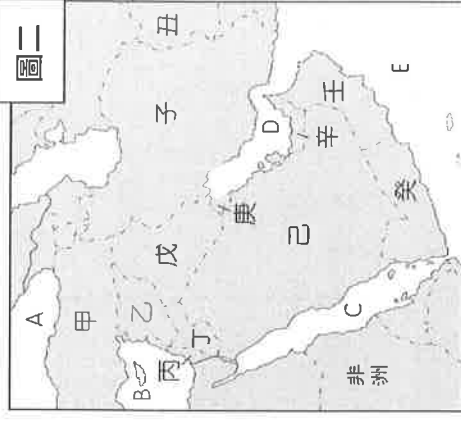
這與該國部分地區位於下列何種氣候有關？

(A) 溫帶沙漠 (B) 溫帶地中海 (C) 熱帶莽原 (D) 溫帶大陸 氣候

39. 鈔票四是亞洲某國的 5 元鈔票，該動物有『高原之舟』的稱號，能適應高地環境的牠，除了提供當地居民毛皮何食物所需，更是重要運輸工具唷！請問這最可能是下列何國的紙鈔？ (A) 沙烏地阿拉伯 (B) 伊朗 (C) 尼泊爾 (D) 孟加拉

40. 圖三是某經濟組織內的活動狀況，下列關於該組織的敘述，何者『錯誤』？

- (A) 該組織的總部設立在比利時首都布魯塞爾 (B) 挪威、冰島、瑞士未加入此組織
(C) 區域內資金、商品、人員及勞務皆可以自由流通 (D) 所有的會員國皆以歐元為主要貨幣



圖二

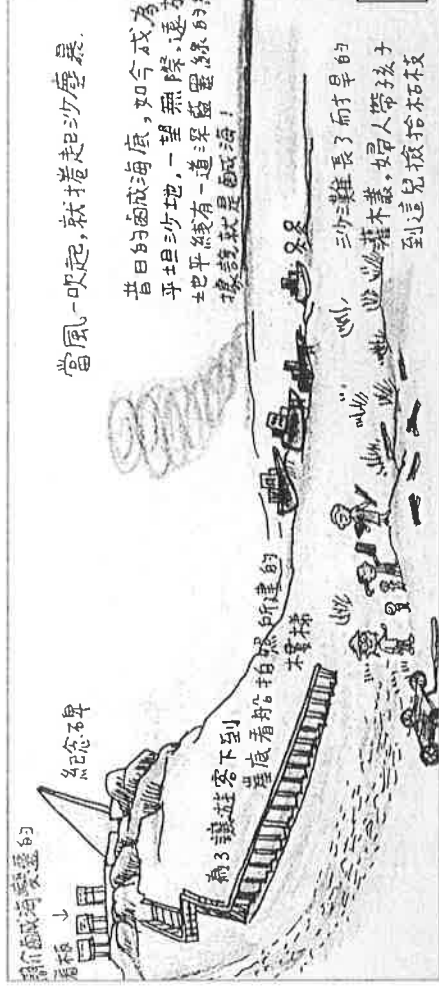


圖三

41.『這座城市是猶太教、伊斯蘭教與基督教的聖地，十一世紀末展開的十字軍東征，起源即是基督徒為了從穆斯林手中收回這座聖城…』由可知此城市在宗教信仰上的重要地位，請問：

上述的城市位於圖四的何處？ (A)甲 (B)乙 (C)丙 (D)丁。

42.木伊那克澤是距離鹹海最近的城鎮。旅行指南上寫著：「假使荒涼、孤寂吸引你，那麼歡迎來到這裡。」鹹海，在一個世紀內劇烈的改變，從全球第四大內陸湖變成漁船的墳場（如圖五所示）。請問：下列何者是造成鹹海劇烈改變的主要原因？ (A)引河水灌溉種植棉花 (C)全球暖化加劇 (D)抽取地下水種植穀物

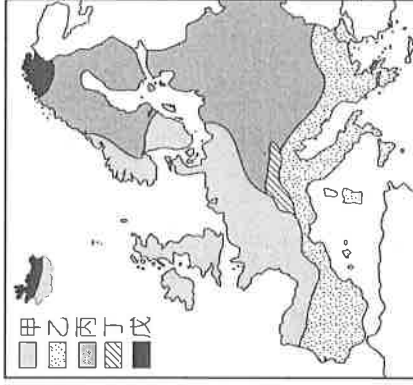


圖五

★歐洲的自然環境相當優良，因此人口稠密且分布平均。而各地不同的氣候形成多樣化的區域特色，也為歐洲文化增添了許多色彩。請參考圖六、圖七，回答第 43-45 題：



圖六



圖七

43.歐洲因為具有下列哪些自然環境的特色，所以人口分布最為平均，大部分地區皆適宜人居？ (A)地形平坦、面積廣大 (B)海岸線長、漁業發達 (C)溫和溼潤、平原廣大 (D)終年高溫、面積廣大

44.圖六是歐洲地區的氣溫分布圖，請由圖中資料判斷，影響沿海地區氣溫高低的最主要因素為下列何者？

(A)北大西洋暖流 (B)西風吹拂 (C)面積大小 (D)植被分布。

45.圖七是歐洲氣候分區圖，關於歐洲氣候的敘述下列何者『有誤』？

- (A)甲氣候區主要分布在西歐和北歐西部 (B)丙氣候區主要的作物為夏季耐旱的葡萄和橄欖
(C)乙氣候區因受到行星風帶隨季節南北移動的影響，夏乾冬雨 (D)丙氣候區的年溫差比甲氣候區來的大

★每年這幾個月份都是最難熬的一段時間，持續高溫乾熱天氣肆虐著每個城市。根據統計，近十年來首都新德里平均氣溫都在 40 度以上、甚至曾有地方出現過 52 度的極高溫天氣，當地居民只好想出各種辦法來度過這些漫長炎熱的日子；好在印度大多地區無需為寒冷發愁，印度的冬季向來比同緯度其他地區來的溫暖…。請問：

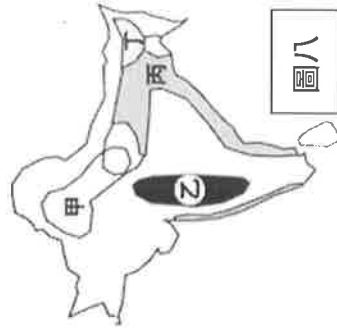
46.請排列出印度半島由北到南的等高線圖地形？(A)甲乙丙 (B)甲丙乙 (C)乙甲丙 (D)乙丙甲
47.上文所指印度半島高溫乾熱、難熬的月份，最可能出現在？

(A)3 月 (B)5 月 (C)8 月 (D)11 月

48.『印度的冬季向來比同緯度其他地區來的溫暖』之原因為何？ (A)沿岸有

- 暖流經過 (B)盆地地形使氣候悶熱 (C)位於西南季風之迎風坡 (D)北方有高山屏障
49.有關印度半島的社會、人口及環境問題，何者敘述正確？ (A)印度廢除種姓制度，社會階級的衝突和對立逐漸消失 (B)印度與巴勒斯坦因宗教、水源及領土問題而紛爭不斷 (C)印度人口眾多，雖有豐沛勞動力，卻也造成經濟負擔 (D)過度依賴恆河灌溉，使中下游土壤鹽鹼化嚴重
50.圖八為印度半島主要農作物分布圖，關於途中代號與農產的配對，何者正確？

(A)甲—甘蔗 (B)乙—小麥 (C)丙—棉花 (D)丁—茶葉



圖八