

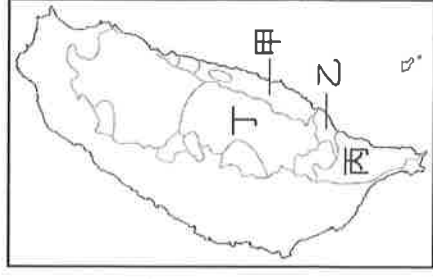
台中市三光國中一〇七學年度第一學期第一次定期評量七年級社會科試卷(第一頁)

選擇題：1-50 題每題 2 分

1. 小丸子與小玉感情很好，但是小丸子常會覺得自己不如小玉。小丸子的想法有何值得商榷之處？ (A)沒有看出小玉的諸多缺點 (B)沒有真正認識、接納進而欣賞自己 (C)缺乏「向上努力」的動機 (D)缺乏「超越」小玉的企圖心。
2. 有位哲學家說：「我所想的，比我所知的要少得多，現在的我，比真實的我和未來的我要少得多。」從這段話中，可知青少年對自我的成長應該要有什麼觀念？ (A)努力探索自我，發揮潛能 (B)自己的未來，發展有限 (C)別人都能做得比我好 (D)現在的我，沒有希望。
3. 法國的寓言故事作家拉·封登寫了家喻戶曉的伊索寓言《龜兔賽跑》。我們可從《龜兔賽跑》的寓言故事裡得到哪種啟示？ (A)兔子的休息是為了走更長遠的路 (B)了解自己的優勢特質，堅持不懈怠 (C)具有先天優勢者通常不會成功 (D)在工作中休息將導致失敗。
4. 有人曾說：「人若想要了解自己的特質，就應多問自己親近的朋友或親人，看他們認為你是怎樣的人，而且也應該要在群體中多了解自己在別人眼中是屬於什麼樣的一個人。」上述觀點主要在強調哪方面的重要性？ (A)人際互動 (B)自我欣賞 (C)認識自我 (D)實現自我。
5. 網路流傳一張玩笑圖：「如果要運用馬斯洛的需求層次理論，來激勵在物聯網時代的 Me 世代（30 歲以下的年輕人），恐怕金字塔底下還要加上電池、Wifi 無線網路、社群軟體，才能滿足他們最基本的需求了。」依據原本的馬斯洛需求層次理論，最基本的需求是指哪種需求？ (A)生理需求 (B)愛與歸屬需求 (C)尊重需求 (D)自我實現需求。
6. 不論是在日本發生的大海嘯，還是發生在臺灣的莫拉克風災，都在一瞬間奪去了許多人的生命。這些令人措手不及的巨變，正提醒著我們生命的哪種特徵？ (A)生命是一個連續的過程 (B)人的一生不能重新來過 (C)生命無常、瞬息萬變 (D)每個生命都是平等的。
7. 周瑜與周榮是一對雙胞胎，但是個性卻截然不同：周瑜比較內向，遇到挫折容易退縮；周榮活潑外向，勇於面對挑戰。由此可知，每一個人都具備屬於自己的何種特性？ (A)無常性 (B)獨特性 (C)延續性 (D)平等性。
8. 動物保護團體認為《動物保護法》對於非法宰殺或虐待動物的處罰太輕，因此向政府要求對於累犯者或是惡性重大者，必須提高罰責，才能達到嚇阻的作用。上述動物保護團體的作法是基於下列何項生命態度？ (A)欣賞生命的獨特性 (B)接納生命中的不完美 (C)延續生命的價值 (D)愛惜生命與尊重生命。
9. 媒體走在時代的前端，然而在文字、圖片與影像的表達過程中，仍不免有性別的刻板印象，下列何者可能會使觀眾產生特定的性別角色形象？ (A)卡通節目裡的美少女總是大眼長腿 (B)報導女性計程車司機的新聞 (C)報導男性護士達成工作目標的新聞 (D)報導優秀女軍官的生平故事。
10. 麗香的朋友小余個性獨立、脾氣固執，其外向的性格與行為，不符合社會對女性溫柔婉約的期待。此時她身邊的朋友應該用什麼態度來和她相處？ (A)責備她，並要求她要改變氣質 (B)稱讚她，因為她的行為很特別 (C)尊重她，因為每個人本來就存在差異 (D)引導她回歸到社會對性別角色的期待。
11. 在人際相處的過程中，如果發生令人感到不舒服的語言或肢體動作，就可能構成性騷擾。面對這些令人尷尬不悅的行為，我們應採取哪種態度因應？ (A)為了不破壞人際關係，所以隱忍在心 (B)以嚴肅而堅定的態度表達拒絕 (C)只是開開玩笑而已，不必放在心上 (D)有助表達親近感，不需要太在意。
12. 「池玉蘭上校是國軍第一位女性發言人，之後更成為我國史上第六位女將軍。」以上內容最能證明哪種觀念？ (A)國軍兵力嚴重不足，需要女性加入 (B)女性能力增強，因此無須保障女性權益 (C)智慧與能力不因性別有所差異 (D)男兒當自強，女性已危及男性工作權益。
13. 刻板印象是指未經思考，便直接接受且深信不疑的觀念。要達到性別平等，首先要破除性別的刻板印象，因此我們應該要抱持何種態度？ (A)刻板印象形成已久，破除不易 (B)刻板印象深植人心，我們無法影響他人 (C)不管是在生理或能力上，男女生先天上就不同 (D)使每個人可以展現其個性與特質，不受歧視與壓抑。
14. 性別平等在現今的社會中已漸漸形成共識。當學校教師在分配班上同學的工作時，下列哪一種方式較為適當？ (A)男生較強壯就負責外掃區 (B)女生較細心，適合排桌椅 (C)開學時，搬書本是男生應該做的事 (D)个子高的人負責擦氣窗，較矮小者負責擦桌椅。
15. 這間廁所看上去跟其他廁所沒有什麼區別，門可以從內部鎖上，室內寬敞，設有洗手臺等。不同的是，這間廁所顯得有些隱密，每一個隔間的門上都貼有「男/女輪椅」的醒目標識。這樣的廁所設計，主要是為了呼應何種理念？ (A)生理性別 (B)性別角色 (C)性別多元 (D)社會性別。
16. 「過去政府沒有針對公共場所的『鹹豬手』制定相關規範，使得有些行為沒有違反《刑法》，卻造成受害民眾困擾，最終也只能跟人訴苦或忍氣吞聲。」上述內容在討論與性別平等有關的哪一部法律？ (A)《民法》 (B)《性騷擾防治法》 (C)《性別平等教育法》 (D)《性別工作平等法》。

背面尚有試題，請翻面作答

17. 「在壺、罐裝上清水，插上草葉，象徵祖靈。祭品以檳榔、米酒等為主。」請問：上述這種「祀壺信仰」是某一族原住民的信仰特色，請問此族應是下列何族？ (A)西拉雅族 (B)阿美族 (C)泰雅族 (D)卡那卡那富族。
18. 下列有關 17 世紀歐洲國家在亞洲的貿易據點，何者正確？ (A)西班牙→巴達維亞 (B)英國→馬尼拉 (C)荷蘭→澎湖 (D)葡萄牙→澳門。
19. 臺灣在哪一個時期由史前時代進入歷史時代？ (A)十三行時期 (B)荷治時期 (C)鄭氏時期 (D)清領時期。
20. 「新港文書」是由一群學者在臺灣南部蒐集、整理，最後加以命名而成的。從這批古文書中，可獲得哪些歷史訊息？ (A)海商集團登陸臺灣的最早紀錄 (B)葡萄牙殖民統治臺灣時的傳教證明 (C)鄭氏時期漢人在臺拓墾土地的結構與類型 (D)平埔族受到荷蘭傳教而產生的轉變。
21. 董仔是澎湖人，他很驕傲地說他的祖先曾在巡檢司當過官。中國歷史上哪一個朝代首次在澎湖設官治理？ (A)宋朝 (B)元朝 (C)明朝 (D)清朝。
22. 荷蘭人治理臺灣時曾說「臺灣真是一頭好乳牛」，象徵臺灣為荷蘭聯合東印度公司賺取極大利潤。而考量到商業貿易的利益，該公司鼓勵漢人在臺灣種植哪些農作物，以謀取利潤？ (A)稻米、茶葉 (B)茶葉、樟腦 (C)鳳梨、荔枝 (D)稻米、甘蔗。
23. 下列有關臺灣各族原住民民族與其慶典的配對，何者是正確的？ (A)賽夏族—矮靈祭 (B)阿美族—打耳祭 (C)卑南族—豐年祭 (D)鄒族—飛魚祭。
24. 開學時，有臺灣原住民血統的安那自我介紹：在我們族裡，是由女生繼承財產，而男生負責部落裡的公共事務。我家附近就是新石器時代晚期的著名文化遺址。請問：安那最有可能是右圖中的哪一個原住民？ (A)甲 (B)乙 (C)丙 (D)丁。
25. 資料一：曾出土玻璃手環、瑪瑙珠飾、中國銅錢；資料二：已懂得煉鐵技術；資料三：可能是凱達格蘭族的祖先。由上述資料推測，這應是以下哪一文化？ (A)長濱文化 (B)十三行文化 (C)卑南文化 (D)圓山文化。
26. 茵聲要寫一篇有關長濱文化小說，為了符合歷史的正確性，下列哪一項敘述可以出現在小說中？ (A)人們以狩獵的方式取得食物 (B)用精美的陶器來盛水 (C)利用石鋤耕作獲得糧食 (D)為了捕捉獵物製作玉器。
27. (甲)以臺灣作為跳板，攻占澎湖 (乙)積極傳播天主教 (丙)搶奪葡萄牙人的海外殖民地 (丁)作為對日貿易的中繼地點。以上哪些是 17 世紀西班牙人占領臺灣的目的？ (A)甲乙 (B)甲丙 (C)乙丁 (D)丙丁。
28. 蔡阿嘎與家人到臺北淡水逛老街、看夕陽。請問：他們可以順道在當地參觀哪些史前遺址？ (A)大坌坑文化、卑南文化 (B)圓山文化、十三行文化 (C)大坌坑文化、十三行文化 (D)長濱文化、卑南文化。
29. 展榮生活在十六世紀中，他參加了顏思齊的海商集團。但後來在走私物品時，他們將據點由澎湖轉移至臺灣，主要與哪一因素有關？ (A)荷蘭人佔領了澎湖的商業利益 (B)西班牙人占領臺灣北部，威脅到澎湖的貿易 (C)明朝政府派軍隊駐守澎湖 (D)日本人禁止漢人在澎湖進行貿易。
30. 臺灣的史前文化，如長濱文化、圓山文化、卑南文化等，其命名的由來是依據下列何者？ (A)最早發現地的地名 (B)測定出來的生活時代 (C)出土器物的製作方式 (D)最早發現者的名字。
31. 清領時期，政府對已接受官方治理，並納稅與服役的原住民，如何稱呼？ (A)生番 (B)山地同胞 (C)高山族 (D)熟番
32. 荷蘭人統治臺灣時，招攬許多漢人來臺開墾。但荷蘭人卻對漢人收取重稅，且不許漢人私藏武器及私下集會等，因而引起漢人反抗事件，其中規模最大的抗荷事件的領導者是誰？ (A)沈有容 (B)鄭成功 (C)郭懷一 (D)鄭芝龍。
33. 荷蘭聯合東印度公司曾管理臺灣 38 年的時間，請問下列有關這段時間的敘述，何者正確？ (A)以羅馬拼音拼寫文字，教導原住民天主教教義 (B)先以武力征服原住民，再派遣荷蘭人在各社嚴格管理 (C)在大員建熱蘭遮城，成為當時的政治中心 (D)建普羅民遮城，就是現在的安平古堡。

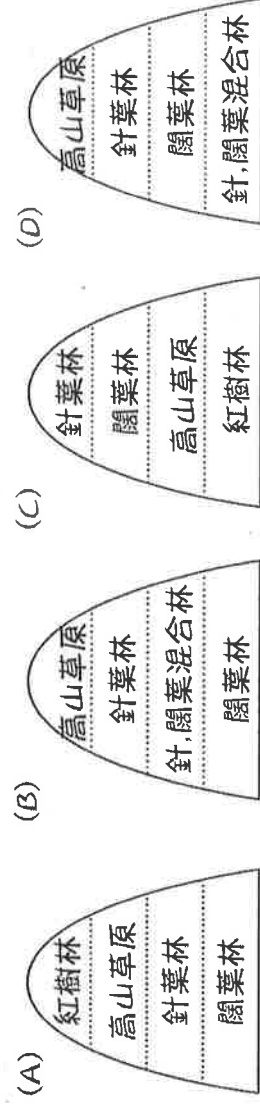


34.有四個同學正在討論「臺灣地區生態多樣性的可能原因」，其中哪位同學的說法有誤呢？

- (A)造咸：因為板塊擠壓，陸塊劇烈抬升，地勢高低落差大 (B)感旱：位於氣候帶的交界，成為生物南北遷移必經之地
(C)乙誌：地處歐亞大陸板塊邊陲，自古與世隔絕 (D)小儀：位於太平洋與歐亞大陸接觸地帶，擁有海、陸兩域的生態
35.「屏東塹豐村為預防淹水，把村內路面一次一次填高，村民採用填土加高屋內地面的方法，使房屋能夠繼續住人。嘉義型厝村則有泡水的墳墓、淹水荒廢的田地，村民以升屋的方法來防止淹水。」兩地的淹水災害皆由於超抽地下水所導致，請問這些地區抽取地下水的主要用途是？ (A)水力發電 (B)養殖漁業 (C)工業用水 (D)蓄水灌溉
36.地理課時老師請同學將台灣的環境問題加以分類、做成筆記；其中哪一項的內容出錯了呢？

- (A)高山區--超限利用導致森林資源破壞、動植物數量減少
(B)丘陵區--因地下水超抽，造成地層下陷，引發海水倒灌、土壤鹽化現象
(C)平原區--因人口、工業活動移入，產生空氣、水、噪音、固體廢物等汙染
(D)離島地區--近年因推展觀光活動，導致垃圾汙染和水汙染，增加生態負擔

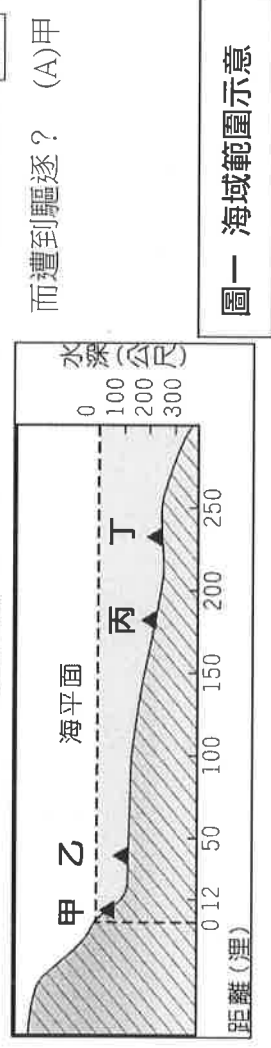
37.臺灣山區天然植物景觀豐富。請問由平地至山區的植物分布變化，下列何者的順序是正確的？



38.松詰想用 A4 大小的紙，繪製一幅三光國中的地圖，請問他用下列哪種比例尺繪製，能將地圖資料呈現的最詳盡呢？ (A) 1/100 (B) 1/500 (C) 1/1000 (D) 1/2000

39.為響應 4 月 22 日世界地球日拯救地球活動，全球主要城市的地標都會在當天晚間關燈 1 小時，請問：澳洲雪梨歌劇院 (151°E)、紐約時代廣場 (74°W)、巴黎艾菲爾鐵塔 (2°E) 以及臺北 101 (120°E)，在上述四個都市中，何地會是最「早」舉辦這個活動的城市呢？ (A)雪梨 (B)紐約 (C)巴黎 (D)臺北

40.航海王皓任，喜歡駛著他小任號探索世界各偉大航道；當皓任航行到圖一的何處時，往往會因侵犯沿海國家的領海主權而遭到驅逐？ (A)甲 (B)乙 (C)丙 (D)丁



41.下列有關經緯線的特性描述，何誰的說法有誤？ (A)小姪：每條經線都是一樣長的，而且匯集於南、北兩極點
(B)小煙：每條緯線都一樣長，彼此平行沒有交點呢 (C)阿倫：緯度最高到 90 度，也就是極點唷！ (D)梵梵：東經 180 度與西經 180 度其實是同一條線啦！

42.饜涵正在倫敦參加世界田徑錦標賽，她的首場賽事將於當地時間 10 月 13 日上午九點舉行，住台中的我們若想看電視實況轉播，應該何時打開電視才能幫饜涵加油？ (A) 10 月 13 日凌晨 1 點 (B) 10 月 12 日晚上九點 (C) 10 月 13 日下午五點 (D) 10 月 13 日上午九點

43. 右圖是地球上重要的經緯線段，三光飛行團的四位團員，打算挑戰同時從本初經線出發、沿甲～丁

四條緯線各自向東飛行環繞一周後，再同時回到原處。請問：

沿哪一條緯線出發的飛機其飛行速度必需最快才行？

- (A) 甲 (B) 乙 (C) 丙 (D) 丁。

