

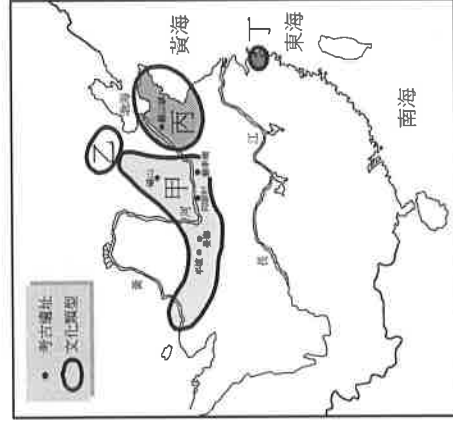
台中市三光國中一〇七學年度第一學期第一次定期評量八年級社會科試卷(第一頁)

選擇題：1-50 題每題 2 分

- 立法院日前修正《國籍法》，讓對於我國有特殊功勳的外國人不用喪失國籍，也可申請變成擁有我國國籍的人民。上述國籍的取得方式，與下列何項的內容最為類似？ (A)小優的母親是中華民國國民，父親是日韓混血的美國華僑 (B)小智的父母都是在臺灣土生土長的中華民國國民 (C)小剛的爸爸是臺灣人，但卻出生在美國本土 (D)自越南嫁到臺灣超過八年，並取得我國國籍的阮氏香。
- 新加坡國父李光耀逝世，擔任總理的長子李顯龍如何處理國內外的挑戰，引發各國關注新加坡的未來走向。下列關於該國國家組成要素的配對敘述，何者正確？ (A)政府：人民行動黨打造廉潔有效率率的執政團隊 (B)人民：新加坡僅是大小和臺北市相當的小島嶼 (C)主權：新加坡計四大種族和十個官方認可的宗教 (D)領土：新加坡於一九六五年正式成為獨立共和國。
- 日本天皇明仁向大眾表達希望「生前退位」的消息，然而因相當於皇室法律的《皇室典範》並無相關規定，國會因此通過特別法，讓明仁天皇可以依此退位。若以國家的型態來看，日本和下列何者的國體相同？ (A)法國 (B)北韓 (C)荷蘭 (D)古巴。
- 總統上任後出訪中南美洲邦交國，期盼強化雙邊關係，創造互惠互利的雙贏夥伴關係。根據上述內容判斷，總統此行將有助於實現國家組成的哪種目的？ (A)維持秩序 (B)保障安全 (C)提供福利 (D)伸張正義。
- 為提供弱勢團體更多的工作機會，財政部要求發行「運動彩券」的機構應研擬對具有工作能力的身心障礙者、原住民及低收入單親家庭之僱用計畫或回饋機制。上述做法主要發揮國家的哪一項組成目的？ (A)保衛國家安全 (B)推動社會福利 (C)維護社會秩序 (D)促進經濟發展。
- 雲門舞集排練場遭遇大火，引起大眾對於藝文團體長期以來缺乏排練場地問題的注目，也終於讓新北市府承諾要提供表演團體排演的空間。上述新北市府的做法，展現了國家所具備的哪一個目的？ (A)發展經濟 (B)保存文化 (C)提供福利 (D)伸張正義。
- 行政院國家發展基金匡列 1,000 億元，設立「產業創新轉型基金」，並訂定「產業創新轉型基金作業要點」，希望能有效帶動國內產業轉型及投資，並創造就業機會。根據上述內容，此項措施主要彰顯出國家成立的何種目的？ (A)發展經濟 (B)維持秩序 (C)保存文化 (D)保障安全。
- 前立法院秘書長就其辦理的多起電腦軟硬體設備招標案，涉嫌收受賄賂後洩漏底價，包庇讓某科技公司取得採購標案，日前遭檢方起訴，全案朝違反《貪汙治罪條例》等罪嫌偵辦。根據上述內容，屬於民主政治的何種特色？ (A)極權政治 (B)政黨政治 (C)民意政治 (D)責任政治。
- 某法官在審理案件時，不當斥責、恫嚇被告，還違法將其上銬。被告因此情緒激動崩潰，兩度用頭重重撞桌面而受傷。對此，某機關對於該法官的失職行為提出彈劾案。上述彈劾案的提出機關為下列何者？ (A)大法官 (B)立法委員 (C)司法院 (D)監察院。
- 一位正直優秀的員警在緝捕毒販時遭槍殺身亡，家人悲痛、社會大眾不捨。該名員警身後留下年邁的母親與妻兒，政府表示將從優撫卹、照顧他的家人。上述撫卹事宜，屬於哪個政府機關的業務？ (A)考試院 (B)立法院 (C)監察院 (D)行政院。
- 立法院副院長表示，對於開放公民記者進入國會採訪一事，立法院會先聽取各界的意見，再整合出最大公約數，並以此做為未來公民記者到立法院採訪的標準與辦法。下列何者屬於立法院的職權？ (A)審定各項決算 (B)制定並公布法律 (C)提出施政報告 (D)提出領土變更案。
- 在一場新春聚會中，作東的「國會議長」邀請「最高行政機關首長」及「三軍統帥」共同赴宴，並由「國家元首」與「閣揆」先後發表新春賀詞。關於上述政府公職的敘述，何者正確？ (A)「最高行政機關首長」就是「國家元首」 (B)「最高行政機關首長」及「閣揆」指同一人 (C)「國會議長」由「三軍統帥」直接任命之 (D)「三軍統帥」就是我國的「最高行政機關首長」。
- 某一政府機關宣布通過下年度施政方針，提出六大施政策略與工作重點，包括將從內需、外銷雙管齊下推動住宅改造等「生活產業」，並推行專案性攬才計畫，鬆綁簽證、居留及金融稅務保險法規，讓臺灣成為亞洲創新人才舞臺。根據上述內容，此一政府機關最有可能為下列何者？ (A)行政院 (B)立法院 (C)司法院 (D)監察院。
- 南韓前總統朴槿惠涉嫌與閹密崔順實合謀，向財團施壓並收賄，被國會彈劾入獄受審。上述情形如果發生在我國，應該是下列何者負責審理總統的彈劾案？ (A)立法委員 (B)監察委員 (C)憲法法庭 (D)大法官會議。
- 行政院依法對立法院負責，並執行國家法律和政策。當行政院無法接受立法院所通過的法律案、預算案、條約案時，該如何處置？ (A)呈請總統核可，移請立法院覆議 (B)呈請監察院核可，移請立法院覆議 (C)呈請監察院核可，移請總統附議 (D)呈請總統核可，移請監察院覆議。
- 若立法院通過對行政院院長的不信任案，則行政院院長在辭職的同時，也可以呈請總統解散立法院。上述是民主政府運作的哪種現象？ (A)政府獨斷專制 (B)政府以黨治國 (C)權力分立制衡 (D)政府互相攻訐。

背面尚有試題，請翻面作答

17. 附圖為中國石器時代的重要文化類型的分布圖。關於新石器時代文化類型的配對，下列何者錯誤？



(A)甲 - 仰韶文化 (B)乙 - 大坌坑文化 (C)丙 - 龍山文化 (D)丁 - 河姆渡文化

18. 下列有關商代的特色，何者敘述錯誤？

(A)甲骨文代表商代進入「歷史時代」 (B)商代也稱殷商，是因盤庚遷殷 (C)商代用天干地支紀日 (D)商人是最早使用青銅器的民族

19. 下列為西周所發生的大事，依其發生的時間順序排列，何者正確？(甲)周公東征(乙)管蔡之亂(丙)武王伐紂(丁)犬戎之禍

(A)甲乙丙丁 (B)丙乙甲丁 (C)乙丁丙甲 (D)丙甲乙丁

20. 電影《墨攻》是講述戰國時代的趙國領大軍攻打燕趙兩國之間的「梁城」，信守墨家的人物革離指揮梁城百姓抵抗的事跡。請問：劇中的革離應有下列何項主張？

(A)主張崇尚自然、清靜無為 (B)贊成賞罰、權術來治理 (C)認為戰爭乃不義之行，堅持反戰 (D)人民可透過教育與禮治，使人向善

21. 齊桓公成為春秋時代第一位霸主，並號召諸侯尊王攘夷。請問：尊王攘夷的涵義為何？

(A)尊稱自己為王，不服者皆當作外夷 (B)尊稱自己為天下共主，率領各國抵抗外族入侵 (C)尊崇周王室，不尊者視為外夷 (D)尊崇周王室，抵抗外族的人侵

22. 蘇秦、張儀、范雎、商鞅等人在不同的國家分別為相，這突顯出戰國時期的哪一種現象？

(A)舊貴族仍然掌握政權 (B)商人階級取得政權 (C)法家大行其道 (D)平民崛起，亦可參與國政

23. 秦末大亂，戰亂連年，社會經濟遭受嚴重破壞。因此漢初採行何種政策方向，以求恢復國力？

(A)尊王攘夷 (B)獨尊儒術 (C)休養生息 (D)富國強兵

24. 戰國時期，各國為了防禦游牧民族入侵，在其國內修築長城抵禦，但當時還是各自為段，尚未連接成一體。直到秦始皇時，才將其連接成一體，成就這萬世不朽的「萬里長城」。秦始皇連結的長城不包含戰國時代的哪一國？

(A)燕國 (B)齊國 (C)趙國 (D)秦國

25. 中國疆域遼闊、幅員廣大、族群眾多、方言各異，竟能在同一制度下綿延數千年，主要和哪一措施有關？

(A)統一文字 (B)統一度量衡 (C)統一貨幣 (D)統一車輛軌距

26. 從秦始皇到漢武帝，採用政治思想的歷經多次變化，若將這些思想流派依其成為主流思想的時間排序，下列何者正確？

(A)法家→道家→儒家 (B)道家→法家→儒家 (C)儒家→法家→墨家 (D)法家→墨家→儒家

27. 周朝與漢朝都曾因故中斷，而分為東西兩個時期。關於兩個朝代的比較，何者正確？

(A)西周的開國君主為武王，西漢的開國君主則為武帝 (B)西周與西漢都是被外族所滅 (C)東周定都雒邑，東漢定都洛陽 (D)東周與東漢都能收拾紛亂的局面，並重振聲威

28. 現今的中外學者均認為張騫出使西域是絲路開通的歷史指標。請問：他兩次出使西域有何重要的貢獻？

(A)擴大漢帝國的版圖 (B)促進海上國際貿易 (C)使漢帝國成為東亞盟主 (D)促進東西經濟文化交流

29. 秦始皇與漢武帝都是中國歷史上有名的君王，對比這兩位皇帝的政治作為，我們可獲得以下哪項共同的特色？

(A)都曾對匈奴發動軍事攻勢 (B)都有設立年號，並自稱皇帝 (C)都有統一思想，以法家思想為尊 (D)都曾實施鹽鐵酒專賣

30. 中國人對天地神明相當恭敬，下列關於中國宗教發展的敘述，何者正確？

(A)商人祭祀的對象僅分為天神和人鬼 (B)佛教在西漢末年經由絲路傳入 (C)新石器時代的人們尚未發展出宗教觀念

(D)夏朝皇帝於洛陽建造中國第一座佛寺「白馬寺」

31. 漢代學術與科技成就令後人驚嘆，下列相關人物及其成就的配對，何者錯誤？

(A)《漢書》 - 司馬遷 (B)地動儀 - 張衡 (C)外科手術 - 華佗 (D)造紙術 - 蔡倫

32. 最近電玩遊戲「秦漢帝國」深受歡迎，遊戲中有一關尋寶遊戲，任務是尋找東漢張衡的一項發明，尋獲的玩家可獲得虛擬金幣二枚。玩家應該找尋下列何者？

(A)陰曆 (B)天干地支 (C)半兩錢 (D)渾天儀

33. 禪讓政治從禹中斷，由禹的兒子啟繼位為王，夏朝開始，與之後的商周合稱三代。請問：

哪一個遺址的發現增加了夏朝文化的可信度？ (A)二里頭文化 (B)山頂洞文化 (C)周口店文化 (D)龍山文化

(下頁尚有地理科試題)

【題組 34-36】

※右圖為中國的行政區簡圖，請根據右圖代號回答問題。請問：

34. 「阿拉伯聯合大公國杜拜 Majid Al Futtaim 集團日前公告，他們將與亞洲地產業者合作，在『中國最大的工商都市』建造占地 9 公頃的室內滑雪場，這座滑雪場最快將在 2022 年開放，屆時將成為世界上最大的室內滑雪勝地，並有望趕上 2022 年中國主辦冬季奧運引發的觀光熱潮。」請問：上文所述的建設計畫位於圖中哪一地點？(A)甲 (B)丙 (C)戊 (D)己

35. 承上題，中國將於 2022 年主辦冬季奧運，而主辦的地點為中國首都，屆時這裡將成為世界第一個舉辦過夏季奧運與冬季奧運的城市。請問：關於這座城市的敘述何者正確？(A)位於右圖「己地」(B)地處長江出海口 (C)規劃為特別行政區 (D)中國以此地時間為統一時間

36. 中國的「廣深港高鐵香港段」(如右列示意圖)於日前正式通車，香港西九龍站全面投入運作，往來中港的旅客可以使用高鐵，往來香港及大陸多個城市。請問：上文所述的高鐵建設主要聯繫右圖中的哪一行政區？(A)ㄅ (B)乙 (C)丙 (D)ㄨ

【題組 37-39】

※中國面積廣大，國界線長鄰國眾多，與鄰國在陸地的未定界領土與海域多有糾紛。在中國西南方邊界即存在與鄰國間的領土糾紛(如右圖所示)，中國曾於 1962 年與★國開戰過，而 2017 年 6 月中國工程隊在主權歸屬有爭議的洞朗(Donglang)進行道路工程，引發不丹政府不滿、並要求中國停工。★國也在不丹的「邀請」之下，迅速增兵錫金段邊界，並越過邊界阻止中國的工程，而接下來幾天，雙方政府都繼續向邊境增援部隊、互不相讓，雙方更互擲石塊、造成多人受傷。請問：

37. 上文與右圖所示的「★國」為下列何國？(A)哈薩克 (B)越南 (C)印尼 (D)印度

38. 中國在此區與其他國家的邊境，主要以哪一山脈為國界？(A)阿爾卑斯山 (B)喜馬拉雅山 (C)大興安嶺 (D)阿爾泰山

39. 右圖中所出現的鄰國主要與中國哪一行政區接壤？(A)新疆維吾爾自治區 (B)內蒙古自治區 (C)西藏自治區 (D)黑龍江省

【題組 40-43】

※右圖為中國主要地形的簡圖，請根據右圖代號回答問題。請問：

40. 若坐飛機依相同高度飛行，沿著哪一路線飛行時，距離地面最為接近？

(A) X (B) Y (C) Z

41. 下表為絃哲根據右圖代號所做的四大高原筆記表格，請找出他哪個部分粗心出錯了？

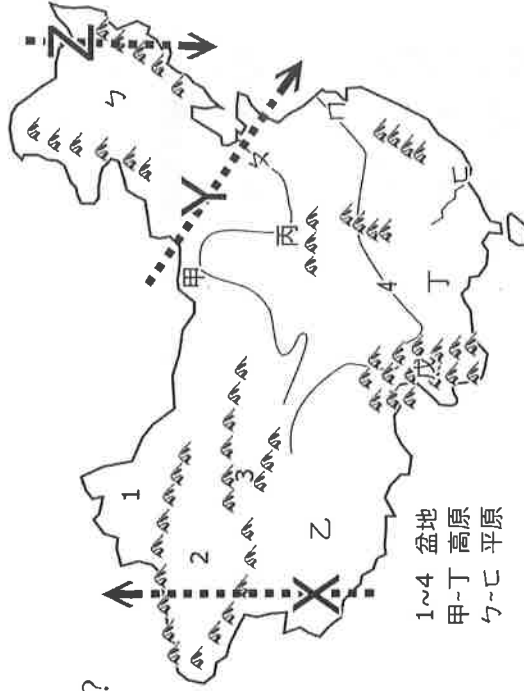
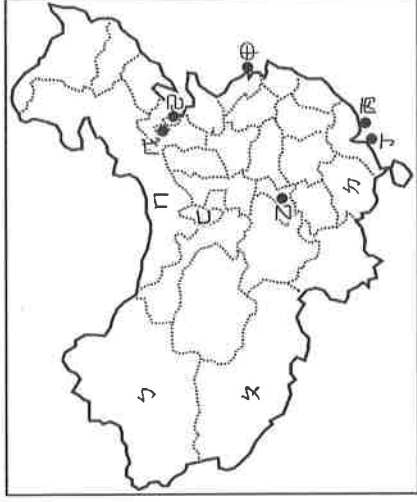
高原	位置	營力作用	地形特徵
(A)甲	第二級階梯	風力侵蝕	地表平坦遼闊
(B)乙	第一級階梯	板塊運動	地表崎嶇湖泊眾多
(C)丙	第二級階梯	風力堆積	世界最大風成黃土區
(D)丁	第二級階梯	冰河溶蝕	土壤貧瘠崎嶇不平

42. 下列為尚甫根據右圖代號所做的四大盆地與特色的配對連連看，請問：他只有哪個配對連線是正確的？

(A)盆地 1	(B)盆地 2	(C)盆地 3	(D)盆地 4
---------	---------	---------	---------

礦產豐富，有「鹽澤」、「聚寶盆」之稱	昔日交通不便，被稱為「蜀道難，難於上青天」	中國最大的沙漠—塔克拉瑪干沙漠位於此區	位於新疆北部，有豐富的風蝕地貌
--------------------	-----------------------	---------------------	-----------------

43. 下列關於中國海岸及島嶼的描述，何者正確？(A)海岸分界以秦嶺、淮河為界 (B)黃海的島嶼性質多為珊瑚礁島 (C)東海的資源開發最易與鄰國產生糾紛 (D)南部海岸線多為曲折的岩岸 (背面尚有試題，請翻面作答)



【題組 44-50】

※中國疆域廣大，地形多樣複雜，氣候、河流、人口、交通…等許多方面皆深受地形的影響。請問：

44. 中國疆域有「國土東西寬度寬」的特徵，請問此特色並未造成下列哪一現象？(A)東西時差四個小時 (B)南北四季景觀大不同 (C)西部內陸乾燥少雨 (D)國土橫跨五個時區

45. 右圖為沿北緯 36 度所畫的中國地形剖面圖，跟據圖中代號請判斷下列敘述何者正確？(A)圖中←的指向為北方 (B)甲區有「世界屋脊」之稱 (C)乙區石灰岩地形發達 (D)丙區為珠江三角洲

46. 下列哪張地圖可用來說明中國「地勢高低」的變化？

(A)



(B)





(C)



(D)



47. 中國是個多山的國家，請問下表對中國主要山脈的整理比較，哪個部分有誤？

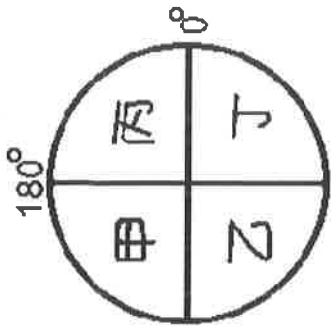
	(A)山脈走向	(B)示意圖	(C)形成原因	(D)代表山脈
西半部	東—西走向		印澳板塊⇌歐亞板塊碰撞	秦嶺、崑崙山
東半部	西北—東南走向		太平洋板塊⇌歐亞板塊碰撞	長白山、武夷山

48. 下列哪些敘述為中國整體地勢向東低降所造成的影響？(甲)東半部為人口稠密精華區 (乙)南北向水運交通便利 (丙)河流多向東注入印度洋 (丁)有利太平洋水氣深入東半部內陸 (A)甲乙 (B)乙丁 (C)甲丁 (D)丙丁

49. 右圖為地球經緯度座標的簡圖，請問中國疆域主要位於圖中哪一位置？(A)甲 (B)乙 (C)丙 (D)丁

50. 地理課時，下列同學對中國位置的說法，何者正確無誤？

- (A)耀宇：位置面海背陸有利對外發展 (B)延羽：中國東側面臨大西洋，向西深入歐亞大陸
(C)于皇：赤道貫穿中國的華南地區 (D)柏沅：由南而北分別為熱帶、溫帶、寒帶氣候



(試題到此結束，請仔細檢查)