

台中市三光國中一〇九學年度第一學期第一次定期評量九年級社會科試卷(第一頁)

選擇題：1~48 題每題 2 分，49~52 題每題 1 分；滿分 100 分

1. 資源的「稀少性」，在經濟學上是指什麼意思？ (A)人類的欲望有限而資源的數量無窮 (B)在現實生活中使用每樣東西都要付錢 (C)貧窮的人沒有錢，所以不能使用資源 (D)資源的數量相對於人類的欲望而言是不足的
2. 有三個節目製作希望小陳能夠擔任主持，甲節目一集給他 10,000 元；乙節目一集給他 8,500 元，丙節目一集則給他 7,000 元。如果小陳選乙節目則機會成本是多少？ (A)10,000 元 (B)8,500 元 (C)7,000 元 (D)17,000 元
3. 稚齡姐姐生日，曉堃哥哥請假沒去兼家教（家教費 1,500 元），兩人看電影 600 元，吃牛排 1,600 元，去 KTV 唱歌花了 1,800 元，以上花費全部由曉堃哥哥支付。請問曉堃哥哥為稚齡姊姊過生日的機會成本是多少元？ (A)5,500 元 (B)4,000 元 (C)1,500 元 (D)2,000 元
4. 面對每年夏季 6 至 9 月國內用電量的尖峰期，臺灣電力公司採取「以價制量」政策，也就是在夏月時收取較高的電費，以降低用電量。上述電力公司的做法，是運用下列哪一項經濟學的概念？ (A)需求法則 (B)供給法則 (C)公平交易 (D)機會成本
5. 氣象預報颱風即將來襲，許多主婦們擔心風災使得菜價飆漲更高，而搶購大量的蔬菜。上述消費行為主要是受哪項因素的影響？ (A)所得高低 (B)商品價格 (C)預期心理 (D)個人偏好
6. 飲料公司以高價聘請知名藝人拍攝形象廣告，並為其產品做代言人。上述飲料公司的作法，主要是考量藝人的代言，屬於影響消費行為的何種因素？ (A)所得高低 (B)預期心理 (C)消費人數 (D)個人偏好
7. 育安在某機構發放的宣傳手冊中看到以下訊息：「您只要拿起電話撥 1950 四個號碼，這個電話就會直接轉接到當地縣（市）政府消費者服務中心，即可迅速獲得服務，歡迎多加利用。」根據上述內容判斷，育安拿到的宣傳手冊最可能是哪一機構所發放的？ (A)董氏基金會 (B)勵馨基金會 (C)行政院消費者保護處 (D)經濟建設委員會
8. 在某公司的會議中，四位部門的經理分別針對部門內的需求，向公司提出要求。下列哪一個人所提出的需求，屬於生產要素中的「資本」？ (A)何經理：「需要低薪的外勞操作員。」 (B)林經理：「需要員工的創意好點子。」 (C)黃經理：「需要大面積的丘陵坡地。」 (D)陳經理：「需要高效能彩色印刷機。」
9. 李健星經營的池尚便當每天不多也不少，剛好固定可賣出 100 個，在不提高售價的情形下，若他想增加便當店的利潤，你認為他可以怎麼做？ (A)直接向菜農購買蔬菜 (B)印廣告傳單發送各處 (C)聘請更多員工工資便當 (D)做超豪華菜色的便當
10. 如果開工廠使用自有資金，雖然不用像貸款一樣要負擔利息，但是還是要考慮將自有資金從銀行提出來的利息損失，這就是經濟學中的何種觀念？ (A)機會成本 (B)需求法則 (C)供給法則 (D)資源有限
11. 生產者創造最大利潤的方法除了減少「生產成本」外，還有增加銷貨收入，下列那一種方法主要目的就是「增加銷貨收入」？ (A)減少員工人數 (B)提供網路訂單服務 (C)到國外尋找便宜的原料 (D)使用自有資金投資生產
12. 某瓜農在今年總共賣出 20,000 公斤的西瓜，其總生產成本為 330,000 元，總銷貨收入為 550,000 元，則其所獲的利潤為何？ (A)200,000 元 (B)220,000 元 (C)880,000 元 (D)550,000 元
13. 曜廷利用自己的家開了一家咖啡廳，其每月僱員費用約為 50,000 元，每月基本材料費為 65,000 元，倘若曜廷將此店面出租可得 30,000 元，則曜廷每月所付出的生產成本為多少錢？ (A)50,000 元 (B)115,000 元 (C)95,000 元 (D)145,000 元
14. 小岳岳在知名網路賣場經營「無法取代」個人工作室，他為客人量身訂做的文具、姓名貼紙以及印上個人照片的衣服、杯子等，皆成為網路上的暢銷商品，主要是因為小岳岳考量到下列哪一項生產課題？ (A)在哪生產 (B)如何生產 (C)何時生產 (D)為誰生產
15. 由於近來高級芒果大量外銷日本，使得單價也跟著水漲船高。雖然如此，許多人還是紛紛搶先預定。丸子水果店為了讓消費者可以買到高級好吃的芒果，故向中盤商買進比平常多三倍的芒果。上述丸子水果店的行為符合經濟學上的哪種概念？ (A)生產成本 (B)供給法則 (C)機會成本 (D)需求法則
16. 行政院某單位通過《高齡者消費生活保護政策綱領》，設定政策目標並提出推動策略，推動高齡者消費者保護工作。上述單位是指下列何者？ (A)消費者保護處 (B)消費者文教基金會 (C)公平交易委員會 (D)國家通訊傳播委員會

背面尚有試題，請翻面作答。

17. 追溯歐洲文字起源，可以發現最早是由北非的象形文字經過商業路線傳至歐洲，再經由歐洲各地修改成為現在的文字。
請問：在這段文字演變過程中，下列哪一民族無關？ (A)蘇美人 (B)埃及人 (C)腓尼基人 (D)希臘人。
18. 禰豆子想要了解古代希臘時期的文化，請問：下列四本她在圖書館裡找到的書籍，哪一本最有幫助？ (A)凱撒：《高盧戰記》 (B)荷馬：《伊里亞德》 (C)婆羅門：《吠陀經》 (D)歐基里德：《幾何原理》。
19. 歷史課時，老師要同學們尋找西亞文化的資料並且發表，請問下列哪位同學看法是正確的？ (A)逸豪：亞述人發明楔形文字 (B)佩盈：加爾底亞人創立一週七天的制度 (C)明哲：希伯來人擅長製作鐵器 (D)加豪：巴比倫帝國編訂《十二表法》。
20. 希臘化時期是歐洲歷史上「第一個科學革命」，至今仍有許多科學知識影響後世深遠，請問：若今日要尋找相關資訊，應以下列哪一組人物配對為主？ (A)歐基里德、阿基米德 (B)釋迦牟尼、耶穌 (C)蘇格拉底、亞里斯多德 (D)屋大維、君士坦丁。
21. 電影「偉大的法老一拉美西斯二世」為求符合史實，劇中所有服飾、布景等均依照古代裝扮，但播出後卻被觀眾發覺有一幕劇情錯誤了。請問：應是下列何者？ (A)曆法上使用太陽曆紀年 (B)人們紛紛進入金字塔祭拜太陽神 (C)相信通靈 (D)為了觀測尼羅河的氾濫，使得測量學技術高超。
22. 炭治郎到科博館參觀特展「文明曙光：美索不達米亞——兩河流域珍藏展」，他對《漢摩拉比法典》特別印象深刻，黑色石碑下半部分刻滿當時的文字，請問：上面的文字最接近下列何者？

Ελληνικό (B) 𐎶𐎵𐎲𐎠𐎺𐎡𐎴 (C) 𐎶𐎵𐎲𐎠𐎺𐎡𐎴 (D) 𐎶𐎵𐎲𐎠𐎺𐎡𐎴



23. 數字「1234567890」大家俗稱為「阿拉伯數字」，但實際上這種數字系統及「零」的觀念，最早是由哪一民族發明？

(A)印度人 (B)埃及人 (C)蘇美人 (D)西臺人。

24. 西方歷史著作《歷史》是由何人所寫，他重視求真的寫作方式，令後世的歷史學家以此為寫作範本。他在西方歷史學的地位可以媲美中國的《史記》？ (A)荷馬 (B)蘇格拉底 (C)柏拉圖 (D)希羅多德。

25. 斯巴達與雅典皆為希臘城邦的代表，下列兩者的比較，何者正確？ (A)地理位置皆位於愛琴海小島 (B)前者為商業為主；後者是以農業立國 (C)前者以軍國主義聞名；後者則是民主政治的先驅 (D)前者帶領希臘城邦打贏波希戰爭。

(C)阿利安征服 (D)亞歷山大東征。

26. 三光旅行社宣傳單以「羅馬競技場」、「萬神殿」為號召。請問：這個旅遊行程是要到右圖中哪個地區旅遊？ (A)甲 (B)乙 (C)丙 (D)丁。

27. 西元十八世紀末，考古學家在埃及發現《羅賽塔石碑》，上面刻著希臘文與埃及象形文字，對於日後解讀埃及象形文字及了解埃及文化有著極大的貢獻。請問該石碑上有著希臘文字應與下列何者的關係最密切？ (A)特洛伊戰爭 (B)波希戰爭 (C)阿利安征服 (D)亞歷山大東征。

(C)阿利安征服 (D)亞歷山大東征。

28. 資料一：「某段古埃及的發展時期，法老王致力於開鑿運河、發展航運。」資料

二：「此時期，受到海運發達的影響，使埃及成為商業貿易興盛的區域，並得以成為地中海東岸的商業重心。」資料中呈現的是古埃及的哪個時期？ (A)王政時期 (B)古王國時期 (C)中王國時期 (D)新王國時期。

(C)中王國時期 (D)新王國時期。

29. 某段文章中提到「此時期，國家實際政權掌握在元老院手裡，並積極向外擴展勢力，成為橫跨歐、亞、非三洲的國家，號稱地中海為他們的內海。」請問：上文應是指以下哪一時期？ (A)羅馬王政時期 (B)羅馬共和時期 (C)羅馬帝國時期 (D)希臘化時期。

30. 西元前六世紀的印度王子悉達多，他的生活情景會是以何種狀況？ (A)王子的身分屬於種姓制度的最高階級 (B)他愛上了平民耶輸陀羅，兩人準備結婚，受到家族的祝福 (C)融合了佛教、民間信仰創立了印度教 (D)相信因果報應和靈魂輪迴的觀點。

31. 小威跟其他同學在討論基督教的敘述，下列有關基督教的敘述，哪一個是正確的？ (A)小威：「基督教以耶穌為唯一真神。」 (B)瘋毛：「基督教創立於歐洲。」 (C)維京老大：「君士坦丁將基督教立為羅馬帝國國教。」 (D)胖胖：「經典為《舊約聖經》與《新約聖經》。」


(C)維京老大：「君士坦丁將基督教立為羅馬帝國國教。」

32. 俊宇的歷史報告資料中，出現以下內容：元老院、奧古斯都、羅馬和平等名詞。請問：俊宇的歷史報告和哪位人物最相關？ (A)狄奧多西 (B)君士坦丁 (C)凱撒 (D)屋大維。


33. 西元前五世紀左右，在西亞地區一帶的傳教士宣傳：「當世界末日來臨時，所有人都要接受審判，但善神終將打敗惡神。」請問：這應該是哪一宗教的傳教士？ (A)扶教 (B)猶太教 (C)基督教 (D)婆羅門教。

(下頁尚有地理科試題，請繼續作答！)


34.旅遊作家張佩瑜老師為了撰寫新書來到土耳其自助旅行，第一站來到伊斯坦堡享用經典的土耳其早餐，她感到印象深刻並畫在她的書中(如右圖)所示，加上土耳其咖啡或茶，便是經典的土耳其早餐。請根據早餐內容判斷，伊斯坦堡可能是何種氣候？




(A)



(B)




(C)



(D)



35.右圖為中亞國家之一--吉爾吉斯國旗，是一面紅地旗幟（紅色代表和平、開放）。中間為一十四道光芒的太陽，代表柯爾克孜族四十個部落。太陽中間為每組三條、互相交叉的兩組線條，來自當地傳統民居氈房（Tjundjuk）的房頂氈房，也稱為穹廬、氈帳或氈包等。吉爾吉斯的國旗反映出當地的氣候條件及居民的生活狀況，請問該國居民最有可能從事何種生活方式？(A)放牧 (B)綠洲農業 (C)游牧 (D)熱帶栽培業。



36.羅布泊是在中國新疆的一個已乾涸湖泊，據 1928 年的測量，面積為到 3,100 平方公里，曾經是中國第二大內陸湖，當時僅次於青海省的青海湖，只是至 1962 年完全乾涸，成為一處戈壁。鹹海在 1960 年代面積曾達 68000 平方公里，目前已下降至 28687 平方公里，並持續萎縮中。上述兩個湖泊的比較，何者正確？ (A)羅布泊位於鹹海西南方 (B)兩者皆因圍湖造田而逐漸消失 (C)兩者皆為熱帶沙漠氣候 (D)兩者主要經濟作物為棉花

37.小昱去圖書館查詢資料，無意中看到這份雜誌，他很好奇的翻閱其中內容，發現有許多西亞產油國家紛紛開始發展觀光業，請問這些國家開始經濟轉型的原因為何？(A)為了爭取加入世界重要的國際組織 (B)擔心經濟結構過度依賴石油資源 (C)石油產量不足 (D)配合 OPEC 的決議。



38.蘋果日報報導「2020.05.22 超級氣旋襲印度，暴風水浸夾擊 84 死!!印度西孟加拉邦首府加爾各答和孟加拉的薩德基拉縣很多村落淹水，鐵皮屋頂被吹走，電線折斷，樹木連根拔起；加爾各答街上汽車甚至被洪水淹至車頂…」此新聞發生地點最有可能位於右圖中何區？(A)甲 (B)乙 (C)丙 (D)丁



39.英國地緣政治學家麥金德曾說：「因為中亞地區有[]優勢條件，誰控制了中亞，進而統治歐亞大陸；誰統治了歐亞大陸，最後就控制世界！」請依前後文判斷：麥金德說的中亞優勢最有可能為何？

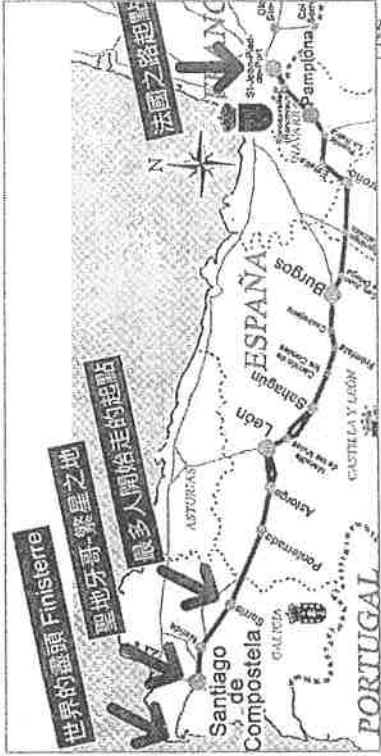
(A)棉花農田產量高 (B)歐亞非三洲交界之處 (C)裏海豐富石油資源 (D)歐亞必經的通道

40.歐洲風力發電產業為世界翹楚，近期英國有團隊根據歐洲各國風力開發狀況與相關法規，再透過地理資訊系統分析，排除軍事與住宅等不適合發展風電的地方，估算出歐洲約有 46%土地能裝設陸上風力發電機(發展潛力是過去認為的三倍)，其中西歐地區因為某些條件，具備很理想的風場。請問某些條件所指為何？：(甲)山脈呈東西走向 (乙)有北大西洋暖流流經 (丙)終年西風吹拂 (丁)歐盟政策支持 (戊)全區無沙漠分布(A)甲乙 (B)丙丁 (C)丁戊 (D)甲丙



41.聖雅各之路(Camino de Santiago)也被稱為朝聖者之路，是古時前往天主教勝地之一 聖雅各城 的徒步路線。路線始於西元九世紀，至今仍不斷吸引全世界旅人前來，其中最熱門的就是”法國之路”（如下圖），從法國南部進入西班牙，只是一開始就會面臨最具考驗的一段，要克服坡度的挑戰。下列何敘述較不符合”法國之路”旅途中的情境？

(A)一開始面臨的考驗，乃因要越過阿爾卑斯山 (B)旅途中常能見到大片的橄欖樹，令人心曠神怡 (C)若選擇在冬季前往，雨具是不可或缺的必備品 (D)抵達圖中世界的盡頭時，可見一望無際的大西洋

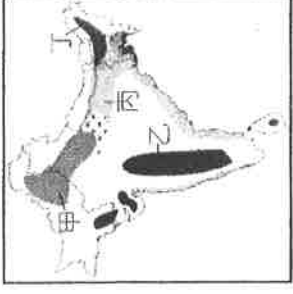


42. 2015 年中巴經濟走廊開始啟動（如右圖），興建一條包括公路、鐵路、油氣和光纜通道在內的貿易走廊，中國希望藉由巴基斯坦瓜達爾港能成為中國進口重要資源的轉運站。

請問：若搭乘中巴鐵路的沿途風景最不可能看見下列哪一種景觀？(A)黃澄澄的成熟麥田 (B)荒蕪

蒼涼的沙漠地 (C)聖獸牛隻成群逛大街 (D)壯觀又宏偉的清真寺

43.地理老師請同學搭配印度的地形圖、氣候圖來看印度的農作物分布圖，請問下列哪一同學對農作物的種類及環境分析完全正確？(A)小雯：「甲區位於西南季風的背風側屬乾燥之地，以種植小麥為主」(B)喬喬：「乙區位於背西南季風的德干高原，以種植棉花為主」(C)皓皓：「丙區在印度河下游的沖積平原，以種植稻米為主」(D)秉秉：「丁區因迎東北季風的地形雨區，丘陵地種植茶葉為主」



★在這個世界人口第二多且貧富差距大的國家，該國國產車 TATA（塔塔汽車）曾以「人人都能買得起」為口號，推出『全球最便宜的車』，只要六萬元新台幣就可以買到入門款。儘管為了壓低成本，配備陽春且安全測試不足、被諷刺為『僅能遮風避雨的四輪機車』，最後銷售不如預期而在去年停產，但其超低售價仍讓人感到不可思議呢！請問：

44.TATA 針對該國廣大平民市場而推出全球最便宜的車，由此來推論 TATA 最可能是下列哪國的汽車品牌呢？(A)哈薩克 (B)

法國 (C)印度 (D)以色列

45.承上題，TATA 除了用陽春的配備與減少安全測試來壓縮生產成本之外，該國具備的哪些條件也有助於 TATA 在當地生產低價汽車呢：(甲)海運便利 (乙)勞力充足 (丙)技術先進 (丁)礦產豐富 (戊)消費水準高？

(A)甲乙 (B)丙丁 (C)甲戊 (D)乙丁

★2015 年 11 月 13 日，法國巴黎六個公開場合(球場、酒吧、餐廳、廣場、劇院等)

受到 IS 組織的自殺式炸彈襲擊，造成至少 129 人死亡 352 人受傷，根據警方調查

發現：七個嫌疑犯可能是偽裝成敘利亞難民而入境歐洲，造成多個歐盟成員國反


對配合歐盟的接受移民配額政策。圖為敘利亞恐怖分子入侵歐洲路線，請問：

46.由地圖可知，恐怖份子的入歐路線，「沒有」經過下列哪個地區？(A)南歐 (B)


西歐 (C)東歐 (D)歐俄

47.承上題，此路線沿途「不可能」歷經下列哪一種氣候？


用難民身份入境德法




(A)



(B)



(C)



(D)

48.從報導可以知道，歐盟將因難民問題和恐怖攻擊頻臨分裂危機，回顧歐盟發展歷史，其成就是任一國際組織無法比擬的，關於歐盟的一切，下列敘述哪一項是「正確」的？(A)全部使用歐元做為統一貨幣 (B)成立目的為政治統合 (C)自臺灣進口產

品須課稅 (D)總部設於德國首都柏林

★右圖為西亞的時事諷刺漫畫，探討兩地水源分配不平等的問題。當地民眾表示：『我們家裡的水龍頭已經 2 個月沒流出一滴水了…』，這個景象在每個巴勒斯坦家庭上演，因為根據 1995 年奧斯陸協議，_____ 西岸 8 成的水資源都給了◎國，這裡的巴勒斯坦城鎮只能靠稀少的自然水源，以及◎國自來水廠供給飲用水，但最近水越來越少。

49.請問上述_____應為下列哪一條河？(A)約旦河 (B)阿母河 (C)錫爾河 (D)幼發拉底河。

50.漫畫中的泡澡男子最可能指下列哪一個國家？(A)伊朗 (B)哈薩克 (C)巴基斯坦 (D)以色列

★候鳥每年秋冬離開家鄉，是為了尋找溫暖，在歐洲許多人也跟候鳥一樣季節一到紛紛南下，為的是尋找太陽，這就是歐洲的

「候人」。為了吸引歐洲每年夏季出現的「候人」，有的海岸甚至喊出

了「來我們這裡如果曬不到太陽，我們賠錢!!」的口號。來此享受夏天、

曬太陽與玩水踏浪的人太多了，報紙上戲稱這些海岸是「無紡織工業

區」，任何紡織品到了這裡，都很礙眼呢！

51.下列哪個海岸最可能是「候人」心中的遷徙首選呢？(A)北海 (B)地中海

(C)裏海 (D)波羅的海

52.關於該海岸夏季吸引眾多「候人」的主要原因，下列哪個說法最適切？(A)有來自溫暖西風的吹拂，舒適宜人 (B)被副熱帶高

壓壟罩，天氣晴朗乾爽 (C)北方有阿爾卑斯山屏障，阻擋冷風南下 (D)地形平坦遼闊，適合旅遊

