

選擇題：1-50 題每題 2 分

1. 政府官員執行的政策失敗時，必須為政策負責，若是因此無法取信於民，更應該去職以示負責。上述說明的是下列哪一民主政治的特色？ (A)責任政治 (B)法治政治 (C)民意政治 (D)政黨政治。
2. 近年來地球海水面逐漸升高，造成有些太平洋島國因為國土僅高於海水面數公尺而需要「遷國」，例如吐瓦魯、馬紹爾群島，未來他們可能欠缺哪一項國家的組成要素？ (A)人民 (B)領土 (C)主權 (D)政府。
3. 彥忠：「關於這起爭議，我認為負責的官員處置適當。」藝萱：「嗯，政府依法行政，對我們才有保障。」，由對話內容可知，現代民主國家的哪一項功能發揮了效果？(A)保衛國民安全 (B)維護社會秩序 (C)推動社會福利 (D)保障基本人權。
4. 幾位網友在社群發表意見，下列何人的論點較為正確？ (A)胖虎：國家主權喪失表示國家瀕臨滅亡 (B)靜香：不同政黨執政會影響國家主權 (C)大雄：國家主權會隨政權轉移產生變化 (D)小夫：游牧民族雖無固定棲息地仍可組成國家
5. 「政府推動募兵政策，但招募的人數不盡理想。」根據上述報導，可知將對國家存在的哪一項目的產生影響？(A)人權 (B)安全 (C)正義 (D)秩序。
6. 有關國家與政府的區別，何者完全正確？ (A)國家主權需要政府機關執行公權力加以貫徹 (B)國家通常會因政權轉移或者制度變遷而改變 (C)國家應屬於負責制定政策與執行的行政單位 (D)國家只是構成政府部門成立的數個要素之一
7. 關於我國政黨輪替過程的資料。請問哪一組蒐集的資料最為正確？ (A)第一組：政黨輪替象徵我國民主政治不斷在進步 (B)第二組：第三次政黨輪替由中國國民黨成為執政黨 (C)第三組：我國在政黨輪替過程曾引發血腥衝突與軍事政變 (D)第四組：我國已經歷四次政黨輪替
8. 新聞報導「少子化問題日益嚴重，我國的人口自然增加率恐成為負值，政府已把此問題視為危及國家安全的國安議題，交由各部會擬訂妥善的因應政策。」上述內容最可能是在關切下列哪一項國家組成要素的變化？ (A)領土 (B)政府 (C)主權 (D)人民
9. 關於我國各種法律的制定、修正方式，下列配對何者正確？ (A)《大學遠距教學實施辦法》：由立法院修正 (B)《公民投票法》：由立法院制定、修正 (C)《毒品危害防制條例》：由行政機關制定、修正 (D)《中華民國憲法增修條文》：修正由總統提案，公民投票複決。
10. 網路新聞「地方政府基於經費考量，決定廢除多所偏遠地區小學，民間教育團體認為此舉已經嚴重損害 憲法保障的人民權利。」其中所提及的人民權利應是指下列何者？(A)平等權 (B)自由權 (C)受益權 (D)參政權。
11. 「唉，這次新冠肺炎疫情影響，我已經失業半年了！」「你可以申請就業輔導，這是我們享有的權利。」以上對話中所提及的權利，應是指下列哪一種 (A)平等權 (B)自由權 (C)受益權 (D)參政權
12. 楊先生覺得自家旁的巷子空地沒人使用，於是私自建了圍牆，行政機關卻以那條巷子是防火巷，不得有任何違建，而寄了一份違建查報拆除函給楊先生。如果楊先生認為這個行政處分函違法或不當，可以提起下列何者來確保權益？ (A)請願 (B)訴願 (C)複決 (D)訴訟
13. 今年參加國家高普考的人數再度創新高，民眾依舊搶當公職人員，請問這是《憲法》保障民眾的何種權利？(A)平等權 (B)自由權 (C)受益權 (D)參政權。
14. 為解釋各種權利與我國法律間的連結，珍珍找的資料，何者確實無誤？(A)隱私權—《全民健康保險法》 (B)平等權—《個人資料保護法》 (C)環境權—《水汙染防治法》 (D)財產權—《客家基本法》
15. 阿美對住戶伍先生通知如下「伍先生，本區為私人用地，請於一星期內清空您的個人物品，若依舊不予配合，本人將採取法律途徑，向法院提起訴訟。阿美」請問，阿美的行動屬於《憲法》所保障的何種權利？(A)平等權 (B)自由權 (C)受益權 (D)參政權。
16. 政府曾修《戶籍法》條文，強制民眾要按指紋才可以領身分證，引發各界撻伐，後來大法官解釋認定該條文抵觸《憲法》，於是政府刪除該條文。請問：上述凸顯《憲法》具有哪一項特性？ (A)技術性 (B)原則性 (C)固定性 (D)最高性。

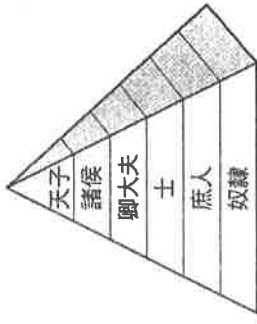
17.「溥天之下，莫非王土；率土之濱，莫非王臣」這句話的意思是，天下的土地名義上都是屬於天子的，而實際統治的則都是王的臣子。詩經裡的這句話，講述封建制度的理念，此現象存在的背景應該是哪個朝代？

(A)西周 (B)東周 (C)秦朝 (D)唐朝

18.現今中國境內的考古研究，發現了許多發展程度不一的古文明。其中以黃河流域與長江流域的古文明之間的互動和交流，印證了中國古代文化發展呈現何種現象？

(A)由北而南發展 (B)由南而北發展 (C)文化以黃河流域為重心 (D)多元並立

19.附圖是中國某朝代的社會階級示意圖，是屬於身分制的社會，每一個階級都必須接受各自的規範。這應是下列哪個朝代？



(A)商朝 (B)周朝 (C)秦朝 (D)漢朝

20.九品官人法設置的目的，是為評選人物設立標準，而將人物分九個等級。但因品評者容易受到當權者影響，導致品評結果不能客觀，反而成為鞏固世族權位的工具。九品官人法是從何時開始施行？

(A)東漢 (B)曹魏 (C)北魏 (D)隋

21.唐太宗曾說：「天下英雄全部成為被我網羅的人才。」這是實施何種制度的結果？

(A)九品官人法 (B)科舉制度 (C)察舉制度 (D)郡縣制度

22.西元 8 世紀，阿拉伯人從中國人手中學習到造紙技術。請問：促成造紙術西傳的原因為何？

(A)絲路西傳 (B)遣唐使學習 (C)永嘉之禍 (D)怛羅斯之役

23.中國的文官制度向來是研究中國歷史的重要課題。從周朝開始，隨著國家領土擴張與人口增長，開始擴大選才方式。從周朝到隋唐選才方式的演變，以下何者正確？

(A)親戚關係→推薦→考試 (B)推薦→親戚關係→考試 (C)親戚關係→考試→推薦 (D)推薦→考試→親戚關係

24.梁啟超稱讚他：「堅忍磊落奇男子，世界史開幕一偉人」，司馬遷稱他的行為是「鑿空」；他是中國歷史上第一位探險家，象徵漢族向西域的首次探險。此人應是下列哪一人？

(A)李斯 (B)班超 (C)張騫 (D)玄奘

25.唐朝高僧玄奘對佛教最大貢獻為何？

(A)開闢中國通往西域的新路徑 (B)創立新的佛教宗派 (C)廣建佛寺與石窟造像 (D)帶回經典並有系統翻譯佛經

26.附圖呈現某一時期中外交流概況，下列何者符合該時期的往來情形？



(A)雙方以紙幣作為交易的媒介 (B)伊斯蘭教隨著商人傳入中國 (C)西方出口玉米、番薯等作物 (D)中國以絲綢為主要輸出品

27.秦孝公重用商鞅變法，主張富國強兵，整頓軍隊、重賞重罰。強調為了國家的生存競爭，應當鞏固政權，重視君王的權力。其思想還包含以下何者？

(A)減少對人民的干涉 (B)提倡彼此相愛 (C)重視增加生產 (D)實施仁政

28.中國唐朝因國勢強盛，豐富多元的文化向外傳播，對周邊的國家影響甚深，使得東亞地區許多國家都興起唐化運動。下列哪個國家即曾受到唐文化的影響，推動「大化革新」，並派遣遣唐使與學問僧到中國學習？

(A)朝鮮 (B)日本 (C)吐蕃 (D)大食

29.佛教的發源地為印度，如今成為世界三大宗教之一。然而現今的印度並非佛教大國，反而是鄰近的中國擁有眾多的佛教信仰人口。源自於印度的佛教於何時傳入中國？

(A)秦朝 (B)漢朝 (C)隋朝 (D)唐朝

30.韓國史上曾有位官員在唐朝任官，他的名字是崔致遠，被視為是韓國漢文學的開創者。他能夠在中國擔任官員多年，與當時的文化氛圍有很大的關係。關於當時外國留學生與文人前往中國學習的形況，下列相關敘述，何者正確？

(A)引進琵琶與胡床 (B)經由陸上絲路來華 (C)新羅有君子國之稱 (D)積極學習片假名與平假名

31.從經濟面來看，中國開始進入全球化貿易體系的嚴格定義應該要從 1978 年的改革開放開始。但有學者認為，自從阿拉伯人勢力進入東南亞後，中國就已經算是進入全球貿易體系了。若依照此定義，中國最早在何時進入全球貿易體系？

(A)商周 (B)秦漢 (C)南北朝 (D)隋唐

32.2008 年北京奧運開幕式中，令人印象深刻的表演是中華民族中的 56 族穿著代表各自民族的服裝齊聚共舞，象徵族群融合、共生共榮。請問：中國歷史上最早具有這種「天下一家」、「胡漢融合」思想的是下列哪一個帝王？

(A)秦始皇 (B)漢武帝 (C)北魏孝文帝 (D)唐太宗


33.魏晉南北朝時期，南方逐漸開發，中國經濟重心南移。請問：下列何者不是此一時期的情形？

(A)大量人口南遷 (B)北方陷入長期戰亂 (C)進步技術傳入南方 (D)海外貿易發達

【題組 34-36】

※在多數人印象中，世界首條高速公路是德國 1931 年建成的「艾夫斯高速公路」。但事實上，如果按照現在高速公路的定義來看，中國在 2000 多年前就修建出高速公路了，這條高速公路就是「秦直道」。「秦直道」，位於內蒙古自治區、甘肅省和陝西省境內(如圖)，是秦始皇統一六國後為阻止和防範北方匈奴的侵擾，令大將蒙恬率 30 萬大軍修築的南北長達 700 多公里的一條軍事通道。如果說長城是中原王朝的一面盾牌，那直道無疑就是一把鋒利無比的寶劍。此道路始建於秦始皇三十五年（公元前 212 年），建成後的「秦直道」在清朝之前都有使用，至清朝時才逐漸廢棄。請問：

34. 「秦直道」的路線主要位於下列哪一地形階梯？(A)高階 (B)中階 (C)低階
35. 「秦直道」應可聯繫下列哪兩個地形區？(甲)塔里木盆地 (乙)內蒙古高原 (丙)四川盆地 (丁)黃土高原 (A)甲乙 (B)乙丙 (C)丙丁 (D)乙丁
36. 若考古學家一哥用空拍機進行「秦直道」沿途路線上地表景觀拍攝，請問：他最有可能拍攝到下列何圖所示的地景？

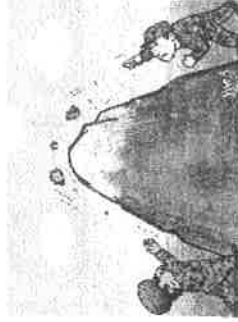


【題組 37-39】

※中國國土面積廣大，國界線長，鄰國眾多，在部分國界上與鄰國存在領土的爭議，甚至引發情勢緊張的邊境衝突。

近年，中國與鄰國 正試圖在有爭議的 山邊界上相互擴張邊界，常造成兩國駐守邊境的士兵，「在荒涼高寒的高原環境」，數次爆發互丟石塊、械鬥的衝突事件，兩個擁有核武國家間的紛爭是否會引發更大規模的衝突，引發國際關注。請問：

37. 上文所述的衝突地區應位於右圖何處？(A)甲 (B)乙 (C)丙 (D)丁
38. 文中鄰國 應為下列哪一國家？(A)北韓 (B)蒙古 (C)印度 (D)越南
39. 下列對文中 山的描述，何者正確無誤？



- (A)阻擋來自太平洋水氣 (B)此山脈為冬季風發源地
- (C)山脈為東北-西南走向 (D)印澳板塊碰撞歐亞板塊形成

【題組 40-42】

※右圖為中國主要地形的簡圖，請根據右圖代號回答問題。請問：

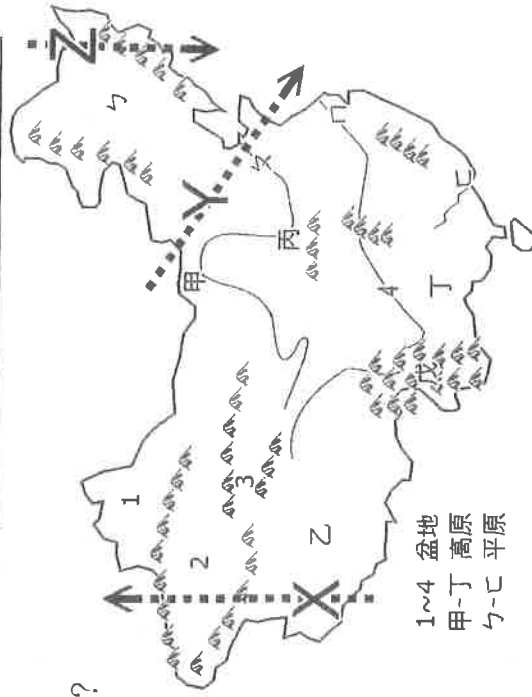
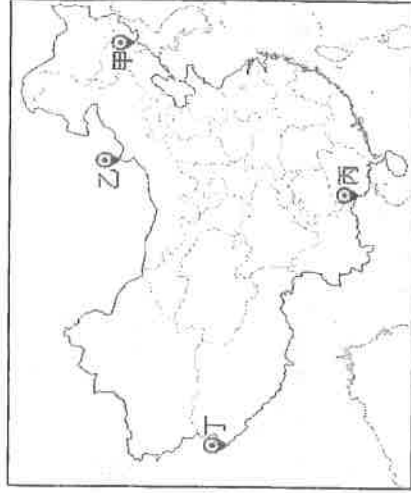
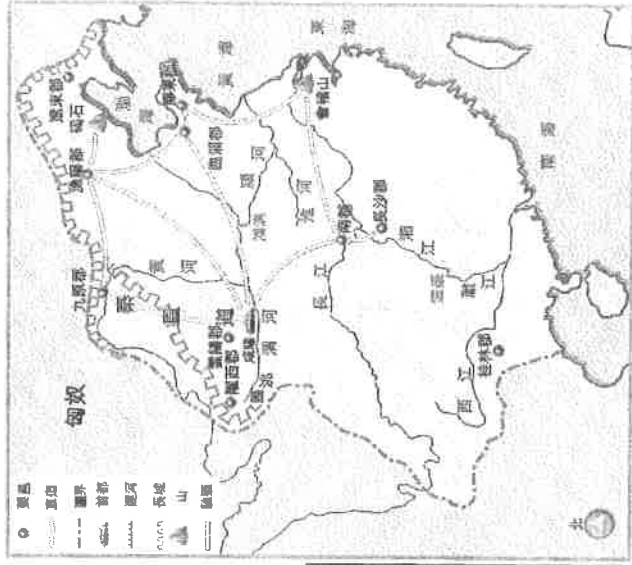
40. 若坐飛機依相同高度飛行，沿著哪一路線飛行時，距離地面最為接近？

(A) X (B) Y (C) Z

41. 下表為雄國根據右圖代號所做的四大盆地筆記表格，請找出他哪個部分粗心出錯了？

盆地	位置	地形特徵
(A)1	中階	位於新疆北部，有豐富的風蝕地貌
(B)2	中階	面積最大盆地，擁有中國最大的沙漠
(C)3	高階	礦產豐富，有「聚寶盆」之稱
(D)4	中階	黃河流經本區，有「天府之國」之稱

42. 下列哪些為中國整體地勢走向及其造成影響的正確描述？(甲)東半部為人口稠密精華區 (乙)南北向水運交通便利 (丙)河流多由西向東流入太平洋 (丁)地勢為東高西低 (A)甲丙 (B)乙丁 (C)甲丁 (D)丙丁




【背面尚有試題，請翻面作答!!】

【題組 43-48】

※西元 2020 年初，世界爆發新型冠狀病毒疫情(Covid-19)，當時武漢為疫情初始爆發地，造成當地醫療資源及醫療人員極度不足，因此有來自各地組成的醫護隊集結到武漢，協助救護武漢當地染疫的民眾。右圖所示為來自四個地區的醫療隊人員，請根據圖中資訊回答下列問題。請問：

43. 四個人在閒聊中，提到家鄉的特色，有一人說：「我們那兒因為冰河侵蝕，所以地形崎嶇。」是哪位醫療隊員的發言？(A)習習 (B)近近 (C)平平 (D)太太
44. 承上題，下列哪一敘述最有可能是平平家鄉的特色？(A)平坦遼闊的草原 (B)肥沃的黑土平原 (C)壯麗的石灰岩地形 (D)崎嶇的黃土溝壑
45. 下列氣候圖為各個醫療隊員的家鄉氣候，請問何者有誤？



46. 哪位醫療隊員到了武漢後，發現氣溫變低了？

(A)習習 (B)近近 (C)平平 (D)太太

47. 若結束醫療服務後，近近到了太太的家鄉作客一段時日後，請問：近近會感受下列哪些氣候現象的變化？(甲)年溫差變大 (乙)降水日數變長 (丙)年降水量變少 (丁)最冷月均溫變高

(A)甲乙 (B)乙丁 (C)甲丙 (D)丙丁

48. 右列為中國各省區在疫情初期的確診病例示意圖，根據圖中顯示資訊，請問下列哪一推論正確無誤？

(A)高階地形階梯的確診數較多
 (B)季風氣候區的確診人數較多
 (C)地勢較低的地區疫情較輕微
 (D)降水量少的地區疫情較嚴重

【題組 49-50】

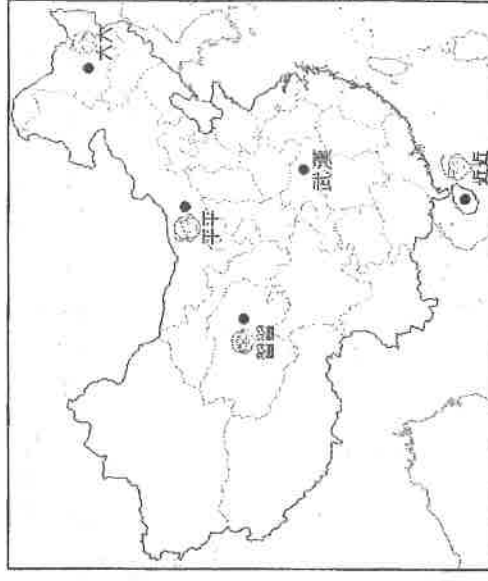
※右圖為東亞地區某日的地面天氣圖，請根據圖中資訊回答下列問題。請問：

49. 下列哪位同學對此圖判讀的當時天氣狀態，何者正確無誤？

(A)友喬：季風發源地為太平洋 (B)芝儀：有可能發生沙塵暴災害
 (C)若涵：中國北方為晴朗炎熱 (D)湘琪：台灣盛行風向為西南風

50. 中國屬於季風亞洲的一部分，下列哪些是對季風的正確描述？

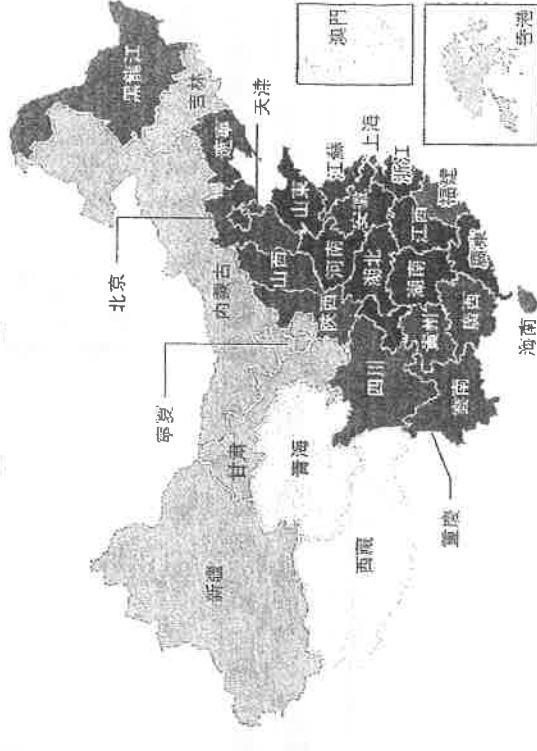
(甲)冬季陸地因比熱小散熱快，形成低氣壓 (乙)冬季為主要降水季節
 (丙)成為大範圍海陸性質差異 (丁)冬、夏季節風向相反
 (A)甲乙 (B)甲丙 (C)丙丁 (D)甲丁



新型冠狀病毒感染的確診病例
中國大陸、香港和澳門

病例數目

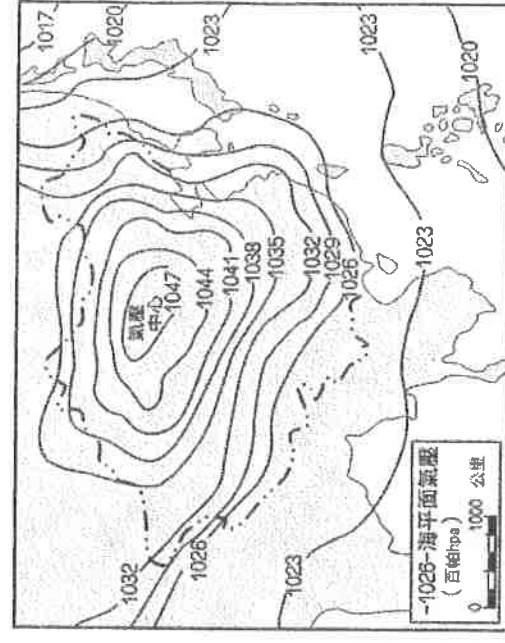
0 1-50 51-100 101-500 >500



最後更新：截至北京時間2020年2月14日15:30

來源：國家衛健委、大連省省衛健委和香港政府

國際版圖



【試題到此結束，請仔細檢查!!】