

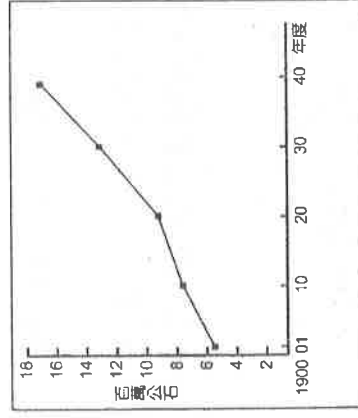
## 台中市三光國中一〇六學年度第二學期第一次定期評量七年級社會科試卷(第一頁)

### 選擇題：1-50 題每題 2 分

1. 丁泰豐最近加入了社區發展協會所舉辦的小小解說員行列，經過訓練之後，星期六、日他會在家裡附近的古蹟，為參觀民眾進行解說及導覽。丁泰豐的行為是何種公民素養的表現？ (A) 促進公眾利益 (B) 遵守公共秩序 (C) 秉持尊重與理性 (D) 追求社會正義。
2. 為了因應不斷變革的健保醫療環境，及加強基層醫師間的聯繫合作，多個縣市相繼成立診所協會，希望藉由積極的參與投入，為關懷社會盡一分心力。各地診所協會的成立互通有無，包含哪些互動形式？ (A) 合作、交換 (B) 衝突、競爭 (C) 競爭、合作 (D) 交換、衝突。
3. 每逢選舉，各政黨之間為了獲得選票而相互競爭、批評對手。這種政黨之間的互動為哪一種型態？ (A) 人與人 (B) 個人與團體 (C) 團體與團體 (D) 國家與國家。
4. 農曆春節前夕，張家利用空檔大掃除，張家三兄妹分別負責地板、窗戶、家具的打掃工作，果然花不到半天的時間，家中煥然一新。張家三兄妹分別負責打掃工作，屬於哪種社會互動的方式？ (A) 交換 (B) 合作 (C) 衝突 (D) 競爭。
5. 有一則國外新聞報導：「印尼雅加達一場足球賽，因為售票問題，引發球迷暴動，數千名無法進場觀賽的球迷，相當憤怒，朝售票亭放火，並且爆發嚴重推擠，造成 2 死、10 傷的意外。」上述內容最能說明哪種社會互動的方式？ (A) 合作 (B) 交換 (C) 競爭 (D) 衝突。
6. 銘謝在網路上得知臺北市本週的活動，下列何者較為可能為政治團體所舉辦？ (A) 週一在立法院，有市議員候選人造勢活動 (B) 週二在行政院前，有抗議無薪假的活動 (C) 週三晚上在大安森林公園，有義賣的活動 (D) 週日在臺北市政府前，有萬人路跑活動。
7. 擔任護士的惠顧是高雄市護理公會的成員，該會向來以提升護理品質為主要任務。高雄市護理公會屬於何種性質的人民團體？ (A) 社會團體 (B) 職業團體 (C) 文化團體 (D) 政治團體。
8. 麥噹老對於政治一直有理想和抱負，在他成年之後，找到一群與他有共同政治理念的朋友組成新的政黨。這是下列何者賦予我國人民有結社自由的權利？ (A) 《人民團體法》 (B) 《集會遊行法》 (C) 《刑法》 (D) 《憲法》。
9. 日前業者邀請馬戲團來臺演出，這項舉動遭到動物保護團體的抗議，並痛斥馬戲團在訓練動物過程中極為殘忍，無疑是將人類的快樂建築在動物的痛苦之上，希望未來能禁止這一切的訓練及表演。此團體是屬於哪種類型的團體？ (A) 職業團體 (B) 社會團體 (C) 政治團體 (D) 非志願團體。
10. 戒嚴期間，臺灣地區的人民團體往往受到嚴密的控制。直到何時宣布解嚴，人民團體的發展才更為蓬勃？ (A) 民國七十年 (B) 民國七十二年 (C) 民國七十四年 (D) 民國七十六年。
11. 幫派犯罪古今中外皆然，並非某個地區、社會或國家所專有的社會問題。我國特別制定哪項法律以嚴懲幫派組織犯罪？ (A) 《組織犯罪防制條例》 (B) 《人民團體法》 (C) 《世界人權宣言》 (D) 《性別工作平等法》。
12. 李爺爺參加了李氏宗親會，進入團體後，常常參與此團體舉辦的各項活動。下列何者是此類團體成立的主要目的？ (A) 實踐共同的政治主張 (B) 推動各種社會慈善工作 (C) 聯絡同宗親族的感情 (D) 為李氏宗親爭取權益。
13. 美國政府針對全國性的電視節目推出新的處罰措施，禁止全國性電視節目出現聯誼與暴露兩點的鏡頭，違反者將被處以鉅額罰款。美國政府祭出這條新罰則，其主要原因為何？ (A) 這類節目嚴重破壞美國形象 (B) 傳播媒體應該發揮見義勇為的精神 (C) 傳播媒體在無形中影響人們的價值觀 (D) 政府經濟狀況不佳，需要經費。
14. 伊莎貝爾因身為私生子的身分而被監禁，與其既聾且啞的母親一起被監禁在黑暗的房間，與外界完全隔離，唯一的溝通方式就是與母親接觸所習得的姿態，也就是發出粗啞的聲音。這是在社會化過程中的哪個環節出現問題？ (A) 家庭 (B) 同儕團體 (C) 學校 (D) 傳播媒體。
15. 石虎是一名記者，某天他經過便利商店搶案的事發現場，發現店員受傷倒在地上，搶匪從小巷子逃跑。這時候的胖虎面臨了要先追搶匪，還是拍攝獨家新聞的難題。根據上述，石虎遭遇到了何種問題？ (A) 社會化困難 (B) 社會角色衝突 (C) 社區參與不足 (D) 社會性別混淆。
16. 「角色衝突」可說是每個人在團體生活中都會遭遇的難題，下列何人正面臨角色衝突的困境？ (A) 奈吉任職於外商公司，國內國外兩頭跑 (B) 瀑馬決定辭去現在的工作出國進修充電 (C) 艾迪達忙於工作而常常無法出席兒女的活動 (D) 銳跑曾經擔任社團的團長並將經驗與學弟妹分享。

## 臺中市立三光國民中學 106 學年度第二學期第一次定期評量 七年級 社會科試卷

17. 新聞報導如下：「日本將釣魚臺收歸國有」引發中共和臺灣反彈，就臺灣而言，釣魚臺本是臺灣固有島嶼，因歷史背景而隨臺灣割讓給日本，臺灣回歸國民政府時，理應將釣魚臺收回。」回歸歷史面，臺灣割讓和哪場戰爭有關？  
(A) 英法聯軍 (B) 牡丹社事件 (C) 甲午戰爭 (D) 中日大戰
18. 為方便研究，我們常依不同特色或性質將歷史分為若干時期。下列有關臺灣歷史分期的發展順序，何者正確？  
(A) 明鄭時期→清朝時期→荷蘭時期→明鄭時期→清朝時期→日本時期 (B) 荷蘭時期→明鄭時期→清朝時期→日本時期 (C) 明鄭時期→荷蘭時期→清朝時期→日本時期 (D) 荷蘭時期→清朝時期→明鄭時期→日本時期
19. 日治前期，臺灣人民以武力反抗日本，在哪個事件後，臺灣人民的武裝抗日行動轉趨沉寂？  
(A) 霧社事件 (B) 苗栗事件 (C) 西來庵事件 (D) 郭懷一事件
20. 「賽德克·巴萊」一片掀起了國片的高潮，也讓國人更加重視臺灣歷史。有關這部電影的描述，下列何者正確？  
(A) 是發生在阿美族的史詩故事 (B) 事件發生地點在今日的屏東縣車城鄉 (C) 當時原住民被荷蘭人施以種族歧視政策 (D) 發生於西元 1930 年，引發國際間的關注
21. 有關日本殖民統治時期的治臺措施，何者錯誤？ (A) 臺灣總督府是日人在臺的最高統治機關 (B) 初期總督由武官擔任 (C) 形成總督專制體制 (D) 地方政府有自主與自治權
22. 日治時期，日本對臺灣的管控採取嚴格的方式，並與哪兩種制度相互配合進行？(甲)總督(乙)議會(丙)警察(丁)保甲  
(A) 甲乙 (B) 甲丙 (C) 丙丁 (D) 甲丁
23. 第一次世界大戰結束後，世界上瀰漫著民族自決的潮流。日本派駐臺灣的第一位文官總督為因應民族自決的風潮，聲稱臺灣也是日本的「內地」，並標榜「日臺融合」、「一視同仁」。當時日本為安撫臺灣人，在臺採取何種方針？  
(A) 內地延長主義 (B) 南進政策 (C) 無方針主義 (D) 皇民化運動
24. 有一首歌曲《榮譽的軍伐》是日治時期日本為激發臺灣人「愛國」情操所改編的時代歌曲，其中部分的歌詞是「獻給天皇，我的生命；為了國家，不會憐惜……如要凋謝，必做櫻花；我的祖父，榮譽軍伐……。」這應該是日本統治臺灣的哪個階段？ (A) 無方針主義時期 (B) 同化政策時期 (C) 內地延長主義階段 (D) 皇民化運動時期
25. 西元 1930 年代中後期，日本積極對外擴張，並計畫將臺灣建設為對外擴張的前進基地，此時日本政府在臺的施政原則，不包括下列何者？ (A) 皇民化 (B) 工業化 (C) 無方針主義 (D) 南進政策
26. 為了聯絡日本內地與東南亞地區，總督府分別在臺灣擴建哪兩個港口，使臺灣因而成為往來東南亞的重要中繼站？(甲)高雄港(乙)蘇澳港(丙)基隆港(丁)臺中港 (A) 甲丁 (B) 乙丙 (C) 乙丁 (D) 甲丙
27. 日治時期，日本人為謀取資源，在臺灣積極進行基礎建設。日本在臺進行的基礎建設有哪些？(甲)度量衡規制的統一(乙)土地與林野調查(丙)發行統一貨幣(丁)完成環島縱貫鐵路(戊)人口普查  
(A) 甲丙丁戊 (B) 甲乙丁戊 (C) 乙丙丁戊 (D) 甲乙丙戊
28. 1898 年，日人設置某個機構發行銀圓兌換券；1904 至 1909 年間，改發行金幣兌換券，有效解除清代以來幣制紊亂的問題。上述的「某個機構」應是下列何者？ (A) 臺灣銀行 (B) 交通銀行 (C) 中央銀行 (D) 土地銀行
29. 同學參加「橋仔頭文化工作室」的活動，參觀糖廠，解說員告訴大家：「這是臺灣第一座新式製糖廠，此後臺灣製糖業蓬勃發展，成為糖業王國……。」製糖業成為日治時期最具代表性的產業，與下列哪項政策有關？  
(A) 公地放領，土地重畫 (B) 南進政策，工農並重 (C) 農業臺灣，工業日本 (D) 農地農有，農耕農享
30. 日治時期曾在日月潭進行大型建設，關於此一建設下列敘述何者正確？ (A) 是日治時期臺灣最重要的水利灌溉工程 (B) 完工於第一次世界大戰以前 (C) 最主要功用在於提供休閒觀光資源 (D) 提供臺灣工業化發展所需的電力
31. 日治時期，日本對臺灣的政策從「工業日本、農業臺灣」轉成「工業臺灣、農業南洋」的關鍵因素，是因為日本於 1930 年代後迅速擴張，企圖以臺灣成為日本前進哪裡的基地？  
(A) 中國 (B) 南洋 (C) 朝鮮 (D) 美國
32. 臺灣南部的平原地區，原本有許多排水不良的「看天田」，但自從日治時期□□完工後，就呈現綠意盎然的景象。上文中的□□應是指下列何者？ (A) 瑠公圳 (B) 八堡圳 (C) 嘉南大圳 (D) 曹公圳
33. 附圖為日治時期臺灣稻米生產量的曲線圖。西元 1920 年以後稻米生產量增加的原因：(甲)農業臺灣政策的推行(乙)蓬萊米改良成功(丙)嘉南大圳的興建(丁)中國大陸地區對臺灣稻米的大量需求。正確的有哪些？  
(A) 甲乙丙 (B) 甲丙丁 (C) 乙丙丁 (D) 甲乙丙丁



◎臺灣在西元 2002 年加入了世界貿易組織 (WTO)，這個組織成立的目的是在於解決各國的貿易爭端、處理各國間的貿易協定、監督各國貿易政策，希望能達成開放、公平的自由貿易市場。請回答 34~36 題：

34.臺灣加入上述的國際組織後，面對國外的農產品競爭，對本土農業的衝擊最大，其最主要的因素為何？ (A)臺灣農產品的品質較差 (B)農業人才與勞力嚴重不足 (C)缺少邦交國，導致缺乏國際市場 (D)耕地狹小，生產成本較高

35.加入 WTO 的會員國，必須開放市場、降低關稅以利其他會員國產品自由貿易，在這種情形下，以下哪一類產品受到的衝擊，相對會最大？ (A)鮮乳 (B)花卉 (C)蔬菜 (D)稻米

36.為了因應加入世界貿易組織所受的衝擊，以下誰提出的方法最適合呢？(A)阿儒：應該要用粗放式經營，才能降低成本

(B)昱玆：我想台灣應該要走向精緻農業、休閒農業比較好 (C)小颯：我們可以多開發山坡地，來增加耕地面積 (D)阿

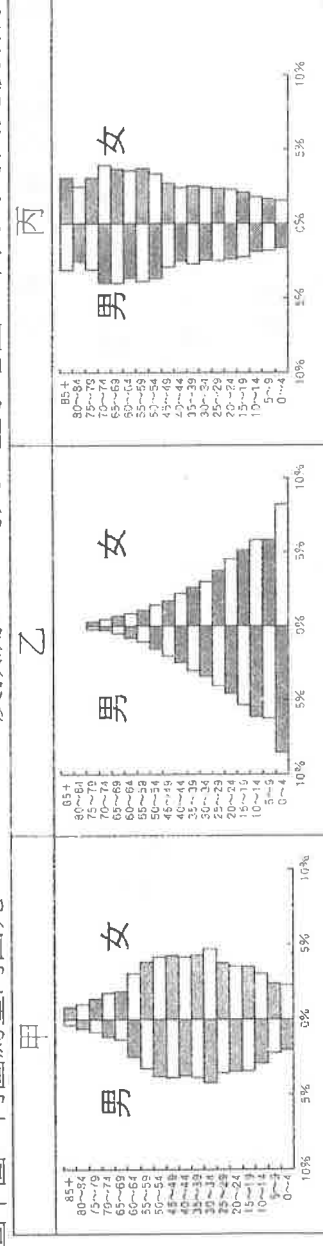
正：推廣機械化吧，可以增加產量來彌補目前糧食產量不足的問題喔！

◎就在 2018 年 3 月，台灣正式進入高齡社會了!!! 與「高齡化」的定義不同，「高齡社會」指的是老年人口突破總人口的十四%，高齡社會的特色在於，六十五歲以上老人人口已多過於十五歲以下幼年人口了！請回答 37-38 題：

37.下列何種現象與臺灣邁入「高齡社會」最無關？

(A)死亡率下降 (B)婦女生育數降低 (C)醫療衛生進步 (D)外籍配偶增加

38.下圖甲圖~丙圖為臺灣西元 1951、2012 及預測 2050 的人口金字塔圖，下列的時間先後排序，何者正確？



(A)甲乙丙 (B)甲丙乙 (C)乙丙甲 (D)乙甲丙。

◎為積極拓展臺灣農產外銷，今年 3 月初農委會帶領幾個縣市政府及農民團體組團參加「2018 東京國際食品展 (FOODEX JAPAN 2018)」，也請旅日棒球好手陽岱鋼先生擔任「臺日食品產業合作記者會」代言人，讓台灣這個「水果王國」的農產全力推進日本市場，尤其向來頗受歡迎的蜜棗、香蕉、鳳梨、芒果...等優質水果，更希望能藉此向日方積極爭取將臺灣農產品納入東京奧運採購食材範圍，把台灣優質農產推向國際，讓各國選手與遊客品嚐臺灣農業的美味。請回答 39~41 題：

39.臺灣不管是熱帶水果，如香蕉、芒果、鳳梨等；或是溫帶水果，如水蜜桃、蘋果、梨子等都有生產。請問台灣能成為

「水果王國」，主要是因為具備下列何種條件？ (A)年降水量豐富 (B)年均溫高 (C)地形起伏大 (D)緯度低

40.在臺灣的外交活動中，也能常見我國派遣團隊協助其他國家的農業生產。如帛琉的地質、氣候皆不適宜栽種水果，但經過臺灣團隊的指導、交流後，現在當地已經可以栽培約 15 種以上的水果。請問：上述現象與臺灣的何種農業特色最為相

關？ (A)集約耕作 (B)勞力老化 (C)技術先進 (D)農產商品化

41.近年來，臺灣陸續成立許多「休閒觀光農園」(如右圖)，這類結合休閒、觀光的農園產生，與下列哪個選項最有關連呢？

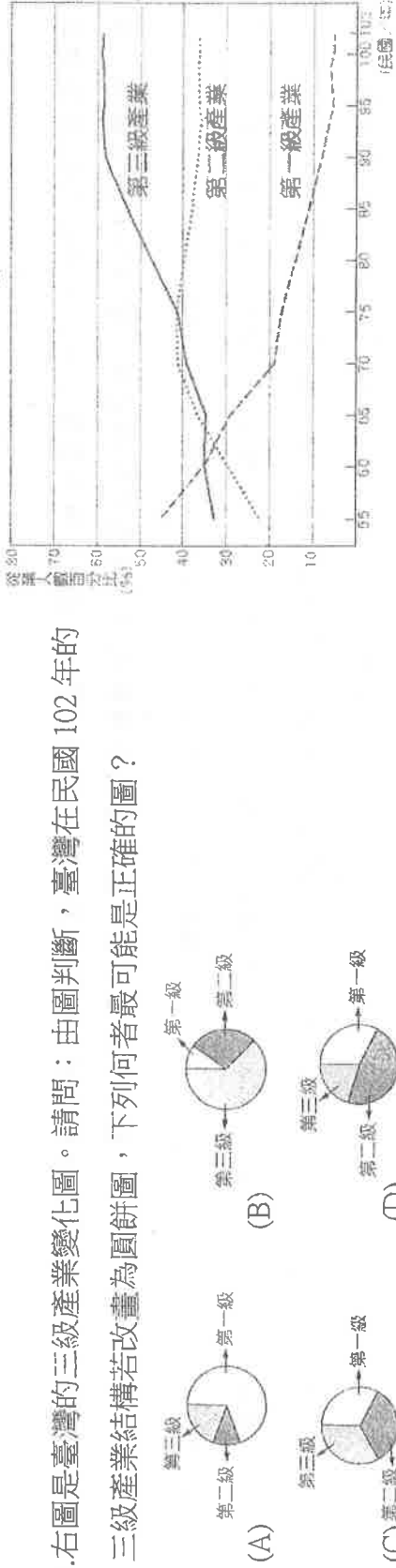
(A)農產消費市場的改變 (B)農業技術提高 (C)水利設施加強 (D)農業機械化程度提高

42.楷恩一家七口的組成分子為：(甲)楷恩爺爺：67 歲，退休人士 (乙)楷恩奶奶：64 歲，醫院志工 (丙)楷爸：42 歲，公司

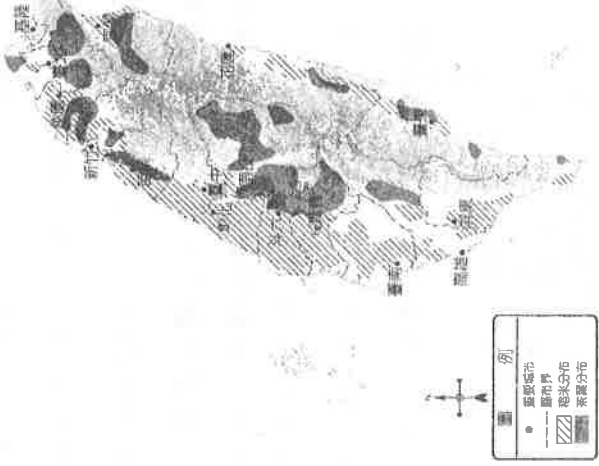
財務長 (丁)楷媽：41 歲，家庭主婦 (戊)楷哥：17 歲，高二生 (己)楷姊：15 歲，國三生 (庚)楷恩：13 歲，國一生。請

問：楷恩家裡共有幾個人屬於壯年人口呢？ (A)7 人 (B)6 人 (C)5 人 (D)4 人

43.右圖是臺灣的三級產業變化圖。請問：由圖判斷，臺灣在民國 102 年的三級產業結構若改畫為圓餅圖，下列何者最可能是正確的圖？



44.右圖為臺灣稻米、茶葉的主要產地分布圖。請問：稻米與茶葉分布地區不同，主要是受到下列哪項因素的影響？(A)地形差異 (B)降水量多寡 (C)交通便利性 (D)生長季長短



◎三光國是個小巧精緻的國家，雖然土地面積只有 1000 平方公里，但生活環境美好舒適；下表是三光國西元 2017 年的人口相關統計資料，請參考圖表資料回答第 45~50 題：

三光國人口統計資料（單位：人）			
出生	500	男性人口數	51000
死亡	200	女性人口數	49000
移入	350	土地面積	1000 平方公里
移出	200	總人口數	100,000

45.三光國 2017 年的出生率是多少？ (A)5% (B)5‰ (C)300 % (D)500 ‰。

46.從表中可以算出，西元 2017 年三光國屬於社會增加的人口有多少？ (A)150 人 (B)200 人 (C)350 人 (D)550 人。

47.西元 2017 年三光國的人口增加率是多少呢？ (A)1.5‰ (B)2‰ (C)4.5‰ (D)5‰

48.右圖是三光國的人口金字塔，由圖可推知三光國目前可能有以下哪些人口現象？

(甲)20~24 歲的人口比例約占 10% (乙)幼年人口性別比約為 50 (丙)移出率下降 (丁)人口高

齡化 (A)甲乙 (B)甲丁 (C)乙丙 (D)丙丁。

49.怡美想知道三光國的性別比，下列哪個選項最正確呢？(A)96 (B)100 (C)104 (D)116

50.三光國的人口密度為何？ (A)0.01 (B)1 (C)10 (D)100 人/km<sup>2</sup>

