

台中市三光國中一〇六學年度第二學期第三次定期評量七年級社會科試卷(第一頁)

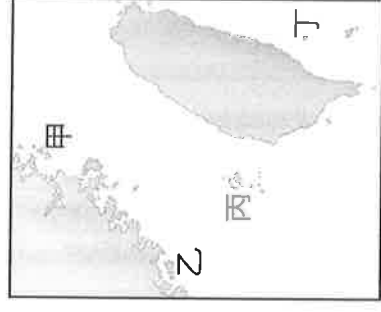
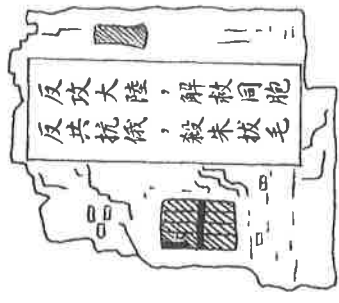
選擇題：1-50 題每題 2 分

1. 鑑於塑膠袋及保麗龍產品對環境造成的影響，環保署規定一定坪數以上的超商、超市、量販店禁用塑膠袋及保麗龍產品，也因此間接使人民在購物時開始自備環保袋。上述政策屬於哪一種層次的改變？ (A) 器物的改變帶動理念的改變 (B) 理念的改變帶動制度的改變 (C) 制度的改變帶動理念的改變 (D) 器物的改變帶動制度的改變。
2. 社會變遷是指人類社會不斷地改變與進步，造成社會變遷的原因錯綜複雜，絕非單一因素造成。下列何者不屬於重要的變遷因素？ (A) 自然環境的改變 (B) 傳統文化的刺激 (C) 科技的創新發明 (D) 社會運動的推動。
3. 傳統農業社會較為封閉，比較重視個人的家世地位、族群背景，然而教育普及，社會自由開放，使每個人有更多的機會發揮潛能，這是社會變遷所造成的何種正面的影響？ (A) 社會流動快速 (B) 弱勢族群被忽視 (C) 犯罪問題 (D) 價值觀念混淆。
4. 根據行政院主計總處所公布的「家庭收支調查報告」，去年所有家庭一般都變窮了，但位於金字塔頂端的消費族群卻有擴大的趨勢。上述現象呈現何種社會問題？ (A) 貧富差距日益擴大 (B) 都會地區的交通問題 (C) 科技進步造成環境汙染 (D) 升學主義造成教育問題。
5. 現代社會變化的腳步相當快速，個人在面對快速變遷的社會時，應抱持何種正確的態度？ (A) 捍衛傳統、阻止變遷 (B) 摒棄傳統、全面改革 (C) 勇於嘗試、終身學習 (D) 過去與現在完全對立。
6. 臺中市政府每年固定舉辦身心障礙者就業博覽會，為身心障礙者提供許多就業機會，此舉獲得大多數人的贊同。臺中市政府上述的作法是基於甚麼理念而實施？ (A) 促進社會流動 (B) 區隔特殊族群 (C) 維護社會正義 (D) 增進公共利益。
7. 社會福利政策雖然是我國的重要政策之一，但是此種政策的推動，仍需要倚賴許多志願團體的力量，才會更加完善。下列哪個團體是以幫助弱勢群體為主要工作目標的志願團體？ (A) 旅美台灣同鄉會 (B) 喜憨兒文教基金會 (C) 臺北律師公會 (D) 行政院衛生福利部。
8. 為了讓沒有參加軍公教勞保及各種公辦保險的民眾，在六十五歲以後仍擁有生活上的保障，因此有《國民年金法》的制定。《國民年金法》屬於哪項社會福利政策？ (A) 社會保險 (B) 社會津貼 (C) 福利服務 (D) 健康與醫療照護。
9. 剛從大學畢業的美華，因為找不到適合的工作，於是前往職訓中心報名電腦網頁設計課程，希望日後能夠找到一個適合自己的工作。由以上這段描述，美華最有可能因為哪項社會福利政策獲益？ (A) 福利服務 (B) 健康與醫療照護 (C) 就業安全 (D) 社會保險。
10. 對於遭遇變故之不幸婦女，政府除提供家庭扶助相關措施外，全國各地也分別設有三十八所婦女福利服務中心，二十八所婦女庇護中心，七所單親家庭服務中心，提供婦女各項福利及保護安置服務。以上所描述的是哪種社會福利政策？ (A) 社會保險 (B) 就業安全 (C) 福利服務 (D) 健康與醫療照護。
11. 衛生福利部相關單位邀請志玲姐姐拍攝廣告，倡導「子宮頸抹片檢查——六分鐘護一生」的觀念，提醒婦女定期接受子宮頸抹片檢查。上述屬於何種社會福利措施？ (A) 就業安全 (B) 福利服務 (C) 健康與醫療照護 (D) 社會救助。
12. 「靜文一家因為颱風的關係，房屋嚴重受損；爸爸因車禍待在家裡調養，只靠媽媽出去打零工維生；家裡還有年邁的爺爺、奶奶，以及兩歲的妹妹，現在全家經濟陷入困境。」上述的靜文一家該怎麼辦？ (A) 靜文應該休學，出去工作，賺錢養家 (B) 把妹妹送給別人撫養，減輕家裡負擔 (C) 主動向政府申請社會保險，貼補生活費 (D) 向政府相關單位提出急難救助金的申請。
13. 小奇最近盲腸炎住院開刀，在醫院住了幾天，他以為住院開刀要花家裡很多錢，但是媽媽告訴他實際支付的醫藥費並不是太多，因為我們國家有全民健康保險。上述的全民健保是屬於社會福利中的哪項政策？ (A) 社會津貼 (B) 福利服務 (C) 社會保險 (D) 健康與醫療照護。
14. 「使老有所終，壯有所用，幼有所長，矜寡孤獨廢疾者，皆有所養」，意謂社會中的弱勢者必須獲得社會的照顧，才有能力生活。請問：這種仁愛思想出自於哪部著作？ (A) 禮記 (B) 大學 (C) 中庸 (D) 倫語。
15. 新聞報導：「美國加州參議院通過數項反菸的立法，將購買香菸和其他菸草產品的法定最低年齡，從 18 歲調高到 21 歲，並對電子菸進行重新規範。一旦法令獲得州長簽署，將使加州成為全美第二個將合法吸菸年齡提高至 21 歲的州。」上述內容是屬於何種層次的社會變遷？ (A) 器物 (B) 制度 (C) 理念 (D) 科技。
16. 近年來由於溫室效應的影響，連帶造成全球氣候極端異常，許多地區雨期集中、降雨強度提高，導致全球水患情況日益嚴重。上述在強調社會變遷所帶來的哪項嚴重問題？ (A) 價值觀念混淆 (B) 犯罪問題 (C) 貧富差距的擴大 (D) 生活品質的下降。

背面尚有試題，請翻面作答

17. 下列哪些事件發生於民國六十年代？(甲)臺美斷交(乙)八二三炮戰(丙)雷震事件(丁)十大建設(戊)開放大三通 (A)甲乙(B)丙戊 (C)甲丁 (D)乙戊。
18. 臺灣在某一段時間，出現一批作家擅長描寫底層小人物為題材，關注農工為主的文學。請問：當時此種文學被稱為何者？ (A)鄉土文學 (B)反共文學 (C)儒家文學 (D)中華文學。
19. 解嚴後，臺灣政治逐漸開放，兩岸交流日益密切，而目前中國對於兩岸關係的態度為何？ (A)尊重臺灣主權 (B)同意臺灣人民的民主理念 (C)堅持「一個中國」的政策 (D)放棄武力犯臺。
20. 蔣伯伯回憶小學時代，正值政府播遷來臺時期，公共場所、校園的圍牆常出現（如附圖）的標語內容。請問：蔣伯伯就讀小學的時候，海峽兩岸應處於哪一階段？ (A)武力對抗 (B)兩岸交流 (C)政治對峙 (D)和平統戰。
21. 十大建設期間中，所占比例最高的建設，是哪一方面的建設？ (A)重工業建設 (B)資訊建設 (C)交通建設 (D)觀光建設。
22. 民國 103 年，高雄市區曾發生嚴重氣爆，造成道路與居民極大的損傷。若要探究高雄石化工業最初的規劃，應是開始於何時？ (A)民國 40 年代 (B)民國 50 年代 (C)民國 60 年代 (D)民國 70 年代。
23. 戰後臺灣經濟建設分成幾個階段：(甲)自由化、國際化(乙)進口替代(丙)出口擴張(丁)十大建設。按照時間的先後順序排列，下列何者正確？ (A)甲乙丙丁 (B)乙丁甲丙 (C)丙乙丁甲 (D)乙丙丁甲。
24. 解嚴後，各種社會運動盛行，政府逐漸重視弱勢團體，推動許多相關措施。下列何項措施不在此範圍內？ (A)成立原住民族委員會 (B)舉辦客家文化活動 (C)推動《殘障福利法》 (D)參加世界貿易組織。
25. 自國民政府遷台後，相繼實施三七五減租、公地放領、耕者有其田等農地改革政策，其主要目的為何？ (A)增加國家財政稅收 (B)土地收歸國有 (C)提高農民生產意願 (D)促進產業升級。
26. 阿美在民國 40 年出生於臺中，下列對於她的童年時代（民國四十年代）的生活回憶，何者有誤？ (A)美國與我國簽訂《中美共同防禦條約》 (B)山胞改稱為原住民 (C)學校推行「國語運動」 (D)牛仔褲和美國音樂流行。
27. 近年來，由於兩岸之間各種交流與合作也日趨熱絡。於是，兩岸雙方皆成立專責機構處理兩岸事務。下列相關敘述何者正確？ (A)臺灣方面成立國臺辦，負責兩岸事務 (B)大陸方面委由海協會負責對臺事務 (C)海協會與海基會都是官方機構 (D)兩岸已簽署和平協定，不再有戰爭威脅。
28. 民國五十年代，李大雄為了要找工作而翻閱報紙上的徵人廣告，他最有可能看到哪種產業徵人的廣告？ (A)高雄的加工出口區 (B)十大建設的各項工程 (C)新竹科學工業園區 (D)西進中國的臺商。
29. 民國 38 年，中共曾對何地進行強烈攻擊，國軍奮力抵擋獲勝，是為「古寧頭戰役」。此戰爭發生於附圖何處？ (A)甲 (B)乙 (C)丙 (D)丁。
30. 戰後國民政府來臺後，臺灣的政治民主化、經濟日益成長、文化多元發展。然而現今的臺灣社會仍面臨許多挑戰。請問：下列哪些是目前臺灣面臨的現象？ (甲)出生率過低與高齡化(乙)勞力不足，聘用外籍勞工(丙)空氣汙染、城鄉差距(丁)提倡中華傳統文化(戊)實施動員戡亂、戒嚴 (A)甲乙丙 (B)甲丙丁 (C)乙丙丁 (D)丙丁戊。
31. 下列有關「臺灣教育發展」的敘述，何者正確？ (A)政府遷臺初期，臺灣開始國民義務教育 (B)日治時期與中華民國時期，皆推廣職業教育 (C)我國目前實施的是十二年義務教育政策 (D)政府於民國 57 年開始推動九年一貫課程。
32. 韓戰結束後，臺灣曾獲得某國經濟協助，幫助臺灣農業改革、經濟重整，奠定日後臺灣經驗的基礎。請問：當時幫助臺灣的國家，應是何國？ (A)中國 (B)日本 (C)南韓 (D)美國。
33. 政府遷臺後，不論是外交或是兩岸關係皆有多次變化，請問：下列何項事件是在李登輝總統時代發生的？ (A)退出聯合國 (B)進入務實外交時期 (C)因應中國「一國兩制」，提出三不政策 (D)美國制定「臺灣關係法」。

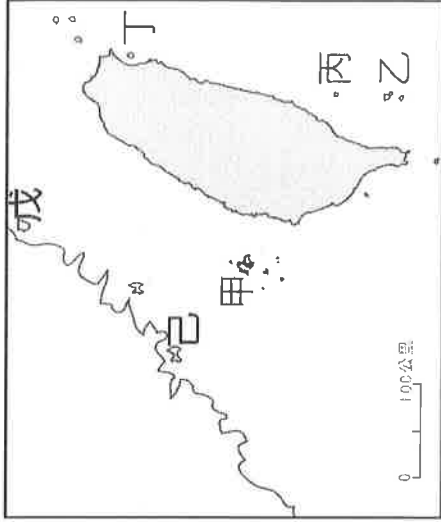
（下頁尚有地理科試題，請繼續作答！）



【題組 34-36】

※台灣的離島有其獨特的自然與人文景觀，近來各離島除了本身的傳統產業之外，觀光業易日益興盛，右列為台灣離島分布圖，請根據圖中代號回答問題。請問：

34. 下列敘述中，何者為離島發展上的限制，使離島與本島發展落差擴大的主因？
(A)山脈阻隔，交通不便 (B)降水較本島多，易有水災 (C)開發較晚，經濟發展落後 (D)對外仰賴海空交通，易受天候影響
35. 擁有豐富自然景觀或人文史蹟而成為有國家公園規劃的離島為何？
(A)甲、戊 (B)甲、己 (C)甲、丙 (D)乙、己
36. 下列照片為各島嶼的代表景觀，請問：哪個選項的配對正確無誤？

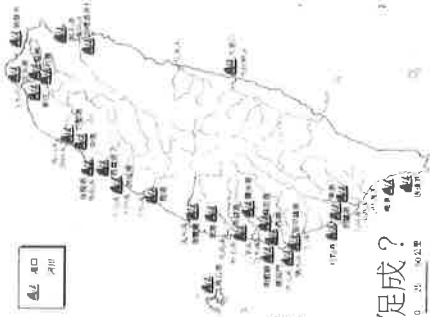


| (A)甲 | (B)乙 | (C)戊 | (D)己 |
|------|------|------|------|
| | | | |

【題組 37-41】

※人們因互動需求，產生各種交通方式，而交通也深深影響人類活動。請問：

37. 右圖為台灣早期聚落分佈，由圖可知聚落多分布於沿岸港口，下列哪些敘述為此現象形成主因？
(甲)東西向陸上交通受阻於氣候 (乙)南北往來以沿海海運為主 (丙)河川流向阻礙南北向陸上交通 (丁)清廷刻意發展沿海聚落 (A)甲乙 (B)甲丁 (C)乙丙 (D)乙丁
38. 下列四種交通方式，何項與另外三項屬不同類型？ (A)看世足賽的球賽轉播 (B)去電影院看侏羅紀世界 (C)聽 ICRT 廣播節目學英文 (D)打開水龍頭洗熱呼呼的熱水澡
39. 以下哪位同學對台灣水運的描述正確？ (A)皇辰：僅濁水溪下游可航行 (B)諺銘：流速平緩利於河運 (C)冠鈞：河川流量穩定，河運發達 (D)家豪：由潟湖改建的高雄港為第一大港
40. 中部區域的彰化、雲林從傳統農業逐漸轉型為花卉蔬果專業區，主因為下列哪一高速公路通車後所促成？



1 3 5 6
(A) (B) (C) (D)

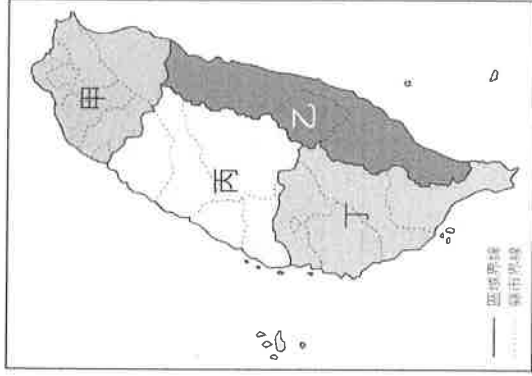
41. 下表是尚宏所做的運輸工具比較的整理表格，請問：他哪個部分的整理不小心出錯了？

| | (A)鐵路 | (B)水運 | (C)空運 | (D)公路 |
|----|--------|-------|--------|--------|
| 優點 | 適合長程運輸 | 運費低廉 | 載運量大 | 機動性強 |
| 缺點 | 受地形限制大 | 裝卸較費時 | 需與陸運配合 | 運量較鐵路小 |

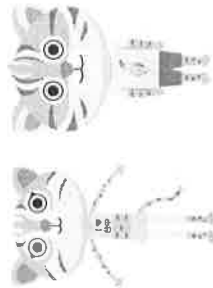
【題組 42-45】

※右圖為台灣四大區域分布圖，請根據圖中代號回答下列問題。請問：

42. 關於圖中「乙區」的描述，以及與其他三個區域的比較，何者正確？ (A)離島多為大陸島 (B)第二級產業人口比例最低 (C)人口數及人口密度最高 (D)位於東北季風背風側，常有焚風
43. 哪一區域的高科技產值居全台之冠？ (A)甲 (B)乙 (C)丙 (D)丁
44. 普悠瑪列車運行及蘇花公路改善計畫...等措施，主要是希望藉由提升交通便利性來促進哪一區域的發展？ (A)甲 (B)乙 (C)丙 (D)丁
45. 右列觀光巴士的一日遊行程，主要位於圖中哪一區域？
(A)甲 (B)乙 (C)丙 (D)丁



請翻面作答!!



【題組 46-48】

※佐真老師預計暑假來越南部行，以下是她規劃的行程參觀重點，請根據行程內容及地圖回答下列問題。

- 第一天：昔日打狗英國領事館、駁二特區下午茶、夜逛六合夜市。
第二天：海生館看企鵝、恆春古城巡禮、國境之南的落日。
第三天：安平古堡、台江坐竹筏體驗「台灣亞馬孫」、七股鹽業博物館。
第四天：奮起湖森林鐵道、阿里山祝山日出、森林遊樂區神木。

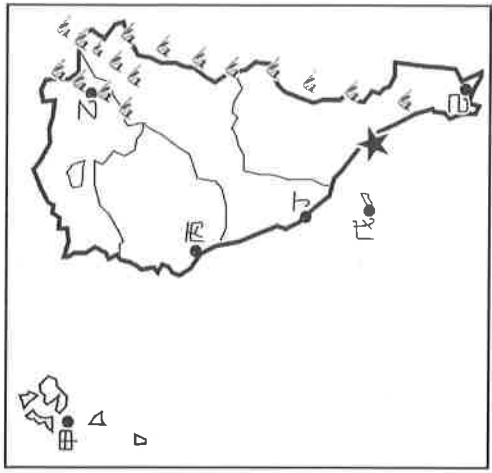
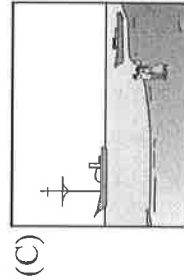
46. 佐真老師的行程路線，逐天依序為何？(A)甲→丁→己→乙 (B)戊→己→丙→乙

(C)丁→己→丙→乙 (D)丁→甲→丙→乙

47. 到了圖中「★」，佐真老師主要可考察哪一環境災害？(A)都市空汙 (B)地層下陷

(C)土石流 (D)水土流失

48. 本區沿海主要的海岸型態為下列何圖所示？



【題組 49-50】

※右圖為台灣「國土空間發展策略計劃」中的「國土空間規劃架構圖」，請根據圖中代號回答下列問題。請問：

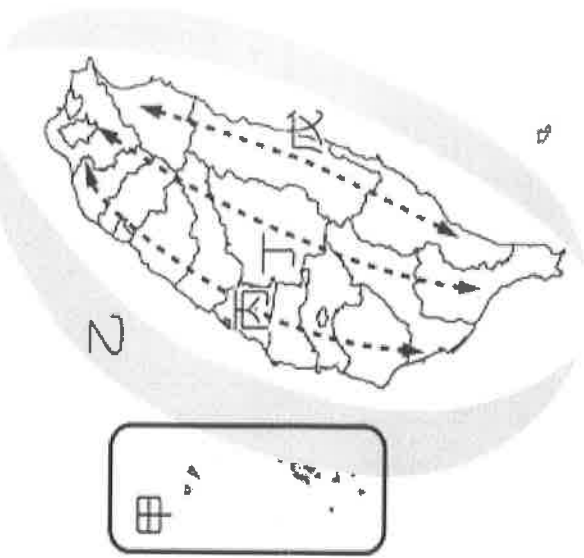
49. 此架構為透過因地制宜適性發展的策略，主要試圖來解決下列的哪一問題？

(A)均衡各地發展，縮小區域差距 (B)改善經濟發展瓶頸，促進產業升級

(C)提高人均所得，縮小貧富差距 (D)均衡各級產業發展，避免產業失衡

50. 下列關於圖中各區域的名稱與定位，何者正確無誤？

| | 區域 | 名稱 | 定位 |
|-----|----|-----------|------------------|
| (A) | 甲 | 離島生態觀光區 | 強調都市與創新產業發展 |
| (B) | 乙 | 海洋環帶 | 強調海岸及海洋之自然珍貴資產 |
| (C) | 丙 | 西部優質生活產業軸 | 以適性發展優質生活產業 |
| (D) | 丁 | 玉山山脈保育軸 | 以生態環境資源保育為重心 |
| (E) | 戊 | 東部創新發展軸 | 強調人文及自然環境保全與觀光發展 |



〔試題到此結束，請仔細檢查〕