

選擇題：1-50 題每題 2 分

1. 小楊：「這個毀謗案件，我已經在法官面前進行和解，但我覺得不太滿意。」；小賴：「你可以提起訴訟來爭取自己的權益」。根據上述對話判斷，小賴的回應是否正確？(A)正確，因並無法院確定判決 (B)正確，和解不具強制執行力 (C)不正確，未先經過調解程序 (D)不正確，訴訟程序在和解成立後終結。
2. 博鈞看到一則宣導資訊，「您擔心勞資爭議纏訟不休？調解不成免煩惱，1.免費，為雙方節省金錢；2.迅速，為雙方節省時間；3.效力與法院確定判決相同」。請問：此應為何種權利救濟途徑？(A)訴訟上和解 (B)訴訟外和解 (C)仲裁 (D)訴訟。
3. 胖虎家所養的土狗未栓好，衝出院子咬傷恰好從旁經過的大雄，大雄憤而委任律師向地方法院提出訴訟。請問：大雄的行為在刑事訴訟上稱什麼？(A)上訴 (B)自訴 (C)告訴 (D)公訴。
4. 關於「調解」與「仲裁」的比較，下列敘述何者正確？(A)「調解」與「仲裁」的效力都等同法院判決 (B)「調解」是向調解委員會聲請解決紛爭，「仲裁」是由法庭解決紛爭 (C)「調解」不透過法院進行，「仲裁」則是透過法院進行 (D)所有的刑事訴訟案件均可用「調解」的方式解決，所有的民事案件均可用「仲裁」的方式解決。
5. 兄弟兩人看新聞報導。哥哥：「這起案件，檢察官已經介入調查了。」請問這新聞事件應為下列何者？(A)藝人離婚爭產糾紛 (B)通勤列車遭放置爆裂物 (C)宜婷無照駕駛 (D)志伶被國稅局要求補稅。
6. 偉庭在網路上詢問好友們。偉庭：「瑞恩遲遲不還錢，我決定提起告訴。」慧喬：「欠錢不還的行為屬於犯罪行為。」賢重：「你應該去搜尋有關行政訴訟的資料。」跟碩：「你要先提起訴訟，法院才會開始審理。」何娜：「我建議你先向檢察官報案。」。哪一個朋友的法律觀念最正確？(A)慧喬 (B)賢重 (C)跟碩 (D)何娜。
7. 胡律師：「對於你持有贓物的這件案子，我們需要再討論一下具體做法。」育維：「唉，我真的是很冤枉。」由上述對話可知，此案件最高可上訴到哪一級法院？(A)高等法院 (B)高等行政法院 (C)最高行政法院 (D)最高法院。
8. 小夫向監理站申請換發行車執照遭拒，若要爭取自己權益，下列敘述何者正確？(A)經由公路總局監理所監理站向交通部提起訴願 (B)此案件屬於民事訴訟案件，應由普通法院審理 (C)此案件若以地方法院行政訴訟庭為第一審法院，可上訴到最高法院 (D)若不服第一審高等行政法院的判決，可向最高行政法院提起訴願。
9. 俊偉在未告知同學的情況下，將同學的零食吃光了。請問：俊偉觸犯下列何種罪行？(A)贓物罪 (B)竊盜罪 (C)強盜罪 (D)搶奪罪。
10. 【台中訊】警方逮捕馮姓男子，該男子稱15歲少女與他是情侶關係，自願與他發生性行為，他也經常買禮物送給該名少女的父母。新聞中的馮姓男子是否會受到《刑法》的處罰？(A)不會，因該少女出於自願 (B)不會，因少女的父母並未表示反對 (C)會，因雙方存在交易行為 (D)會，目的是為保護青少年。
11. 亭亭：「你現在在幹嘛？」亮亮：「我偷偷用前女友的帳號和密碼登入她的信箱，看看她和朋友在聊什麼。」以上對話中，請問，亮亮的行為已經觸犯了何種罪？(A)妨害電腦使用罪 (B)公然侮辱罪 (C)強盜罪 (D)竊盜罪。
12. 恩詳：「老闆，我的薪水比《勞動基準法》規定的基本工資低。」老闆：「你還小，不用拿這麼多錢啦！」請問雇主的作法可能面臨何種處分？(A)罰鍰 (B)罰金 (C)拘役 (D)有期徒刑。
13. 【暑假快到了，婦幼警察隊與民間團體聯手推廣「網路安全守則」，呼籲家長必須注意孩子上網的情形，確保個人隱私安全，同時替孩子們做好網路內容分級的動作】。請問此是提醒家長留意哪一項法律內容？(A)《少年事件處理法》(B)《兒童及少年性剝削防治條例》(C)《兒童及少年福利與權益保障法》(D)《勞動基準法》。
14. 針對犯罪情節輕微的少年，法官依照《少年事件處理法》，一般會如何處理？(A)處以刑罰，但念其年幼，故由家長代替少年被罰 (B)免除刑罰，但念其年幼，改由學校代為處罰 (C)處以刑罰，並為了預防犯罪，由法官假日生活輔導 (D)免除刑罰，而讓少年接受保護處分。
15. 依照《勞動基準法》的規定，關於「童工」的工作時間，下列敘述何者正確？(A)例假日上班可算加班的薪資 (B)每天工作超過8小時以上，以加班工時計算薪資 (C)每天工作不得超過8小時 (D)不得於晚上6點至隔日早上6點的時間內工作。
16. 「我玩線上遊戲時，有一位玩家公開罵我“白痴”，線上所有的玩家都看到他的發言，我想請問這樣是否觸犯法律？」請問：哪一則回應最正確？(A)回應一：通常在網路上的發言並不受法律的規範 (B)回應二：在公開場合以不雅言詞侮辱他人已經構成公然侮辱罪 (C)回應三：只是在玩遊戲，不需要太認真 (D)回應四：辱罵的言詞並非事實，因此不具有法律效力。





17. 民國十三年，孫文採取「聯俄容共」的態度，因此國民黨與共產黨大致上還算是相安無事的，直到哪個事件發生後，國、共才正式決裂？  
(A) 濟南慘案 (B) 西安事變 (C) 寧漢分裂 (D) 七七事變
18. 下列關於十年建設時期的敘述，何者錯誤？  
(A) 陸、海、空的發展皆頗有成就 (B) 平民教育水準提升 (C) 積極從事經濟建設，實施財政改革 (D) 民國後唯一的和平時期，建設期間沒有受到列強的侵略
19. 鴉片戰爭後，清朝喪失某項權益，所有進口稅需要列強同意才能徵收，因此對於國內產業多所打擊，此項權益直到十年建設時才收回。上述權益所指為何？  
(A) 領事裁判權 (B) 片面最惠國待遇 (C) 租界 (D) 關稅自主
20. 張學良所屬的東北軍，在西安拘禁蔣中正，引發西安事變。而原先隸屬東北的張學良之所以離開故鄉，是因為何事的發生，導致他們轉往陝西剿共？  
(A) 九一八事變 (B) 北伐 (C) 一二八事變 (D) 七七事變
21. (甲)九一八事件(乙)七七事變(丙)濟南慘案(丁)一二八事變，上述為日本侵略中國而引發的事件，若依時間先後排列，何者正確？  
(A) 甲乙丙丁 (B) 丁丙甲乙 (C) 丙甲丁乙 (D) 乙丙甲丁
22. 日本侵華期間，曾用「以華制華」的政策來安撫民心。關於其所扶植的傀儡政權，下列何者正確？(甲)溥儀的滿洲國(乙)孫文的中華民國軍政府(丙)汪兆銘的國民政府(丁)段祺瑞的北京政府  
(A) 甲乙 (B) 乙丙 (C) 乙丁 (D) 甲丙
23. 國民政府在此事件後制定《訓政時期約法》，作為國家行憲前的根本大法，但以黨治國的做法，引起輿論的批評與譴責。上文所述發生於何時？  
(A) 聯俄容共實施後 (B) 北伐完成統一後 (C) 寧漢復合後 (D) 西安事變後
24. 抗戰期間，中國採取「以空間換取時間」的戰略，將重要的物資、工廠、行政機關都遷往大後方，與日軍展開長期的戰鬥。抗戰時期中國將首都遷往何處？  
(A) 南京 (B) 重慶 (C) 西安 (D) 廣州
25. 關於國共關係的消長現象，國民黨一開始占上風，但是不少史事對於提升共產黨的勢力卻有絕對性的影響。上述史事不包括下列何者？  
(A) 清黨 (B) 聯俄容共 (C) 西安事變 (D) 八年抗戰
26. 中共在大躍進的政治策略裡，迷信只要投入大量的人力，便可以在短時間內完成極高的產值。因此中共在下列哪個行業中提出了好高騖遠的指標，來增加生產力？  
(A) 商業、農業 (B) 農業、工業 (C) 農業、礦業 (D) 工業、交通
27. 毛澤東在執政期間有過許多作為。請問：下列哪個口號或政策，不是他所提出的？  
(A) 超英趕美 (B) 破四舊，立四新 (C) 外爭主權，內除國賊 (D) 革命有理，造反無罪
28. 歷史學家的主要工作是針對史料的描述，加以考證以確認其正確性，並對已故的歷史人物給予評價。近年來歷史學家所作「建國有功，治國無能，文革有罪」的評論，應是對何人的評價？  
(A) 毛澤東 (B) 鄧小平 (C) 江澤民 (D) 胡錦濤
29. 從鄧小平、江澤民到胡錦濤的開放政策，對中國的經濟帶來什麼樣的影響？  
(A) 社會主義愈來愈明顯 (B) 人民生活愈來愈民主 (C) 言論愈來愈自由 (D) 資本主義愈來愈濃厚
30. 下列何者為六四天安門事件的主要訴求？  
(A) 政治民主化 (B) 經濟開放化 (C) 國家共產化 (D) 軍隊國有化
31. 第二次世界大戰最後由同盟國陣營取得勝利，中國也包括在其中，但是對國民政府而言，抗戰勝利卻是另一個隱憂的開始。這個隱憂不包括下列何者？  
(A) 通貨膨脹嚴重，經濟失序 (B) 人民傷亡慘重，造成人力耗損 (C) 經濟損失過大，人民生活困頓 (D) 中共勢力遭受削弱，影響政黨政治運作
32. 民國三十七年，國民政府通過《動員戡亂臨時條款》，希望在動員全國人力、物力之下可以打贏這場戰爭。上述的「戰爭」所指為何？ (A) 北伐之役 (B) 剿共 (C) 國共內戰 (D) 中日戰爭
33. 八年抗戰初期，日軍誇下海口說要「三月亡華」，但是這場戰事徹底打了日軍一個耳光，因為日軍非但沒有將中國滅國，還耗損大量兵力。這場戰事指的是下列何者？  
(A) 九一八事件 (B) 一二八事件 (C) 淞滬會戰 (D) 七七事變

\* 朝鮮半島向來有「東亞橋梁」之稱，自1945年的雅爾達會議後，因為政治立場不同分裂為南北兩部分。請問：

34. 朝鮮半島的人喜歡將蔬菜醃製成泡菜、白米飯要用石鍋拌煮保溫，這些食物烹調方式反映出下列哪項朝鮮半島的特色？

(A)缺畜牧業發展(B)雨量稀少不足(C)耕地面積狹小(D)冬季較為嚴寒

35. 以下是四個同學在課堂上製作有關南北韓的介紹海報，其中哪張海報的內容最貼近實情、並非誇大不實的隨便胡謔呢？

(A)	(B)	(C)	(D)
<div></div>	<div></div>	<div></div>	<div></div>

36. 根據各地的建築樣式，可以推知當地的自然或人文環境特徵，請問關於”建築特色深受當地氣候的影響而生”，下列哪個選項**完全正確**：(甲)日本似雙掌合十的合掌村 (乙)東南亞的高腳屋 (丙)中國的黃土窯洞 (丁)阿拉伯洋蔥狀屋頂的清真寺 (戊)日本的膠囊旅館？ (A)甲乙丙 (B)乙丙丁 (C)甲丁戊 (D)乙丙戊

37. 秋天是日本賞楓的季節，各地陸續有火紅的楓葉綻放。因此旅行社推出[日本賞楓趣]行程，並製作各地楓紅時序表如右下圖。請問影響日本各地賞楓時間不同的原因為何？

(A)距海遠近 (B)季風交替 (C)緯度高低 (D)洋流交會

38. 下列有關世界人口分布的敘述，何者**錯誤**？ (A)全球人口分布不均(B)南極大陸無長住人口 (C)沙漠、極地因氣候極端，不適人居，人口密度低 (D)世界人口主要集中在北亞、中亞、歐洲和北美洲

39. 附圖是亞洲及南極洲以外的五洲人口數曲線，由其數量及增加快慢來看，

甲線最可能是哪個洲的資料？ (A)非洲 (B)歐洲 (C)北美洲 (D)大洋洲。

40. 2020 年東京奧運預計將有大量外國旅客訪日，為了方便旅客辨識，日方打算修改溫泉符號，在浴盆和三道水蒸氣之間，加了 3 個人型剪影。請問：日本當地泡湯文化盛行的原因與下列何者最相關？ (A)形成溫帶季風氣候 (B)沿海有寒暖流交會 (C)日本的食魚文化 (D)多火山地震

41. 一直以來，台灣與日本關係極為密切，當日本在 20110311 遭逢大地震之時，台灣

人也感同身受的將物資與金錢送往日本災區；事實上，台灣日本在地理環境的條件中就有不少的異同點，請根據右方表格選出正確敘述？ (A)甲乙丁 (B)乙丁己 (C)甲丙戊 (D)丙丁己

42. 右圖是東南亞政區圖,請問以下描述與圖中國家的配對，甲至丁**依序何者正確**:

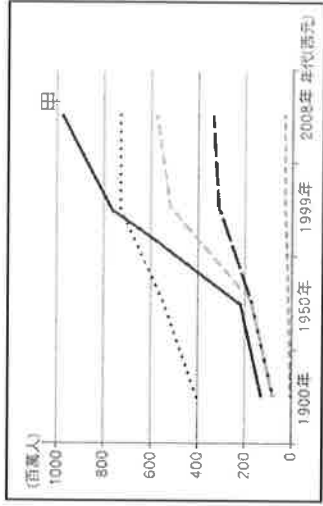

甲國:位於中南半島，受中華文化影響最深遠。

乙國:水上市場及莊嚴的金塔佛寺，是稻米出口大國。

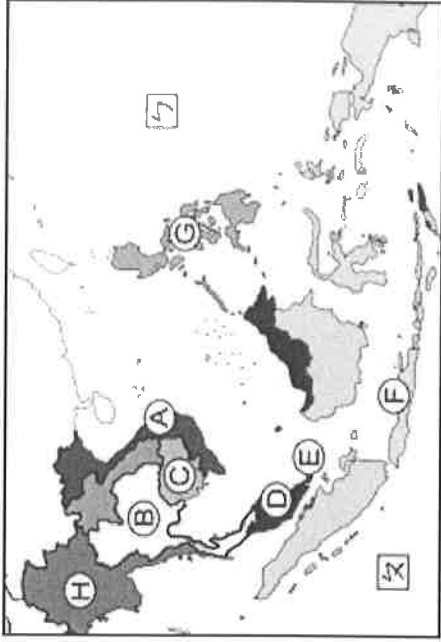
丙國:為世界上最大的群島國家，火山多，也是伊斯蘭教徒最多的國家。

丁國:北部島嶼因殖民影響信仰天主教，地震頻繁，夏、秋常受颱風侵襲。

(A) A-B-F-G (B) A-H-E-F(C) C-B-D-G (D) A-B-C-D



	日本	台灣
相 同	(甲)位置	位於太平洋東側的火山地震帶上
	(乙)地形	板塊擠壓，地形起伏落差大，島窄山多，平原狹小
	(丙)河川	河長流急
相 異	(丁)平原	濱太平洋的東岸較寬廣
	(戊)季風	冬季：↙ 夏季：↗
	(己)氣候	溫帶季風氣候為主
		冬季：↘ 夏季：↗
		熱帶季風、副熱帶季風



43. 右圖為東南亞的氣候分區圖：(甲)X 為熱帶季風氣候、Y 為熱帶雨林氣候 (乙)X 多對流雨、Y 多地形雨 (丙)X 氣候主要分布於中南半島 (丁)Y 氣候主要分布於菲律賓群島 (戊) Y 氣候比 X 氣候雨季長。請問：關於東南亞氣候類型的比較，下列何者正確？
- (A)甲乙丁 (B)乙丙戊 (C)甲乙丁 (D)甲丙戊



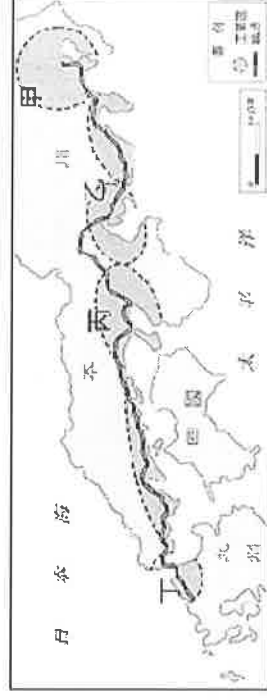
44. 右圖的甲為東南亞某國的主要生產作物，關於其生產型態或特色的說明，哪個選項正確的？



- (A)適合在溼冷的氣候種植，殖民時期由殖民母國發展  
(B)大量生產單一作物，市場風險性較低  
(C)此國極可能為馬來西亞，為東南亞國協的成員國之一  
(D)此類產業以機械化模式生產，耕作粗放，可削減人力成本
45. 承上題，在此類產業發展下，東南亞地區的都市發展都具有下列何種特色？(A)多為港埠型都市 (B)內陸都市規模大 (C)都市貧富差距小 (D)各城鎮人口密度相當
46. 右圖為日本工業區分布圖，請問：關於工業區選擇位置的原因及描述何者有誤？

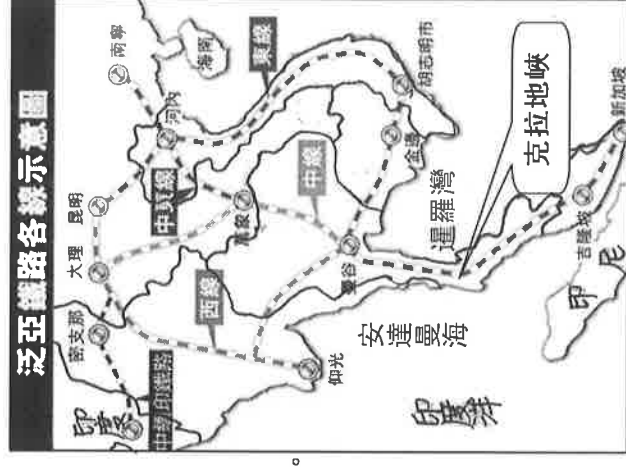
- (A)日本缺乏天然資源，原料大多仰賴進口  
(B)日本的工業產品依賴海外市場，有助外銷  
(C)國際貿易為日本的經濟命脈，港口多發展為重要都市。  
(D)日本人口老化嚴重，為了引進外籍勞工，沿海都市興起。

47. 承上題，台灣虎航推出[桃園-日本大阪]優惠機票促銷，限時特價只要 2999 元，吸引旅客暢遊日本京阪神地區。請問旅客抵達的都市位於右圖何地？(A)甲 (B)乙 (C)丙 (D)丁



48. 以世界四大宗教的分布區域而言，伊斯蘭教的主要分布地區可能有：(甲)西亞 (乙)北非 (丙)北美 (丁)西歐。以上正確的為何？ (A)甲乙 (B)甲丙 (C)乙丁 (D)丙丁

\* 中國對某國提出了開鑿該國南部克拉地峽、興建運河的計畫，預計其長度是 102 公里、寬 400 公尺、水深 20 公尺、雙向航道，完工後，船隻可直接由太平洋的暹羅灣進入印度洋的安達曼海，無須再行駛狹窄及危險性（海盜）較高的麻六甲海峽，航程至少縮短約 1200 公里，可節省航運 2 至 5 天時間。另外，中國也積極計畫從雲南、廣西延伸鐵道與中南半島相接，打造泛亞高速鐵路（路線如右圖），因應經濟發展下對原物料需求的與日遽增，並能拓展市場，尤其在加入東協之後大幅提高與東南亞各國的合作緊密度。請問：



49. 中國在中南半島籌畫興建的泛亞鐵路（如圖）多呈南北走向，這是為了順應中南半島的何種地理特色？(A)山間河谷的走向 (B)雨量多寡的分布 (C)人口密集區的分布 (D)新興工業區的分布

50. 若上述所有交通建設接完工且開通，東南亞的「新」海陸十字路口地位，將會由誰取代？ (A)馬來西亞 (B)新加坡 (C)寮國 (D)泰國

〔試題到此結束，寫完別忘了再檢查一次唷！〕

預祝各位同學 考試順利 😊