

台中市三光國中一〇六學年度第二學期第二次定期評量九年級社會科試卷(第一頁)

選擇題：1-50 題每題 2 分

1. 人類的歷史總是受到三種動力影響：人口的增長和遷徙、自然環境的限制和機會，以及新科技的突破。我們無法遏止全球變遷，但是我們至少可使它放慢腳步。下列何種觀念最能表達上述的意涵？ (A)重視優生學的觀念 (B)重視科技倫理 (C)物競天擇 (D)科技能使人類人定勝天。
2. 國際特赦組織創立於西元1961年，主要的工作為：「預防及終止肆意侵犯身體以至精神方面的健全、表達良心的自由，以及免受歧視的自由。」根據上述判斷，國際特赦組織所關注的議題為下列何者？ (A)生態環境 (B)基本人權 (C)貧富差距 (D)種族紛爭。
3. 國際原子能總署為降低戰爭的威脅，避免國與國間引發的戰爭或軍備競賽，威脅到國際社會的和平與安全，因此協調各國簽訂什麼？ (A)《世界人權宣言》 (B)《禁止核子武器擴散條約》 (C)《京都議定書》 (D)《聯合國憲章》。
4. 「法藍瓷」是臺灣自創的陶瓷設計品牌，曾在法國巴黎展出，並以「福海騰達」系列作品得到了大獎，獲得法國藝術界的高度肯定。請問：「法藍瓷」成功的達成下列哪一項國際互動？ (A)國際合作 (B)國際衝突 (C)國際救援 (D)國際交流。
5. 「……目前阿爾卑斯山在海拔高度 1200 公尺的地方就有滑雪場，但是再過數十年，想滑雪的人就得爬到 1500 公尺以上的地方，才會足夠的雪量滑雪。……」上述說明了「全球暖化」的現象，這屬於世界各國所面臨的何項課題？ (A)疾病傳播 (B)國際犯罪 (C)環境生態 (D)貧富差距。
6. 近年來非政府組織 (NGO) 在國際社會的重要性逐漸提高，臺灣亦積極參與各類的非政府國際組織，其中哪一個組織曾發動「資助兒童計畫」幫助國內、外的貧困兒童？ (A)臺灣團結聯盟 (B)臺灣紅十字會 (C)臺灣世界展望會 (D)臺灣路竹會。
7. 臺灣成功研發複製牛「如意三、四號」，有助於複製優良種畜，提升經濟價值，而此技術若是使用於環保生態方面可以有什麼貢獻？ (A)可以創造新品種的生物 (B)可以拯救瀕臨絕種的動物 (C)可以提供優良的生態環境 (D)可以清除生態環境汙染。
8. 日前某媒體指出：「桃園大溪介壽路路面凹凸不平，不到 500 公尺路面竟遍布近 190 個填補坑洞和人孔蓋，造成許多機車騎士摔倒受傷，主管機關應立即出面解決。」以上內容最能突顯傳播媒體所扮演的哪項功能？ (A)休閒娛樂 (B)教育文化 (C)監督政府 (D)提供訊息。
9. 南韓保健福祉部表示，2015 年 6 月 MERS 確診病患增為 30 人，被隔離人數則暴增為 1,312 人。相關的國際政府組織已將此視為緊急事件，呼籲各國政府慎重因應。關於上述國際組織的敘述何者正確？ (A) 簡稱為 WTO (B) 是由民間人士所組成 (C) 我國是會員國 (D) 目的在防止疫情傳播。
10. 依照成員性質，國際組織可區分為「政府的國際組織」與「非政府的國際組織」。下列何者屬於「非政府的國際組織」？ (A) 歐洲聯盟 (B) 國際反地雷組織 (C) 東南亞國家協會 (D) 亞太經濟合作會議。
11. 民主國家中的傳播媒體被視為第四權，具有相當的重要性。媒體在製播新聞時，須確實查證新聞來源，不做誇大不實的報導。上述作法最符合下列何者的內涵？ (A) 新聞媒體自律 (B) 新聞內容多元 (C) 新聞雙向互動 (D) 培養媒體素養。
12. 近年來網路購物風行，許多人喜歡在虛擬市場買賣商品。相較於以往買東西必須眼見為憑，現代的網路拍賣則是透過圖片的介紹來決定是否消費。這是科技發明帶來的何種影響？ (A) 充實文化生活 (B) 提升物價水準 (C) 改變人類的消費習慣 (D) 改善人類的精神生活。
13. 人口販運與毒品、汽油等違禁品走私，多年來在泰國、馬來西亞的邊界相當猖獗。泰、馬的領導人日前達成推動安全合作共識，並計畫在兩國邊界築牆，上述邊界築牆的目的為何？ (A) 阻止跨國犯罪 (B) 預防疾病傳播 (C) 縮小貧富差距 (D) 維護環境生態。
14. 為避免西方國家咖啡商的剝削，全球各地出現「公平咖啡」的市場，協助第三世界國家的咖啡農以較高價格賣出咖啡豆，持續改善該國家人民的生活環境。上述做法最有助於改善哪種跨國問題？ (A) 貧富差距 (B) 疾病傳播 (C) 國際犯罪 (D) 環境生態。
15. 網路上經常流傳一些似是而非的消息，而這些訊息在接收者未加以查證的情況下，又再一次的被廣為傳遞。在這一過程中，訊息是否被加油添醋，再次接收者無從得知。像這樣盲目傳遞訊息的人，缺乏何種道德素養？ (A) 環境倫理 (B) 家庭倫理 (C) 生命倫理 (D) 資訊倫理。
16. 由於國際網路成本低、隱密性高，近年來被不少犯罪組織用於非法交易，以獲取不法利益。面對日益增加的網路犯罪行為，下列哪個應對方法最為適當？ (A) 嚴格規定網路使用者的資格 (B) 全面停止國際網路的使用 (C) 加強立法規範，宣導正確觀念 (D) 中斷國際之間網路的交流。

背面尚有試題，請翻面作答

臺中市立三光國民中學 106 學年度第二學期第二次定期評量 九年級 社會科試卷

17. 第一次世界大戰之後，印度、朝鮮、土耳其等地皆出現民族復興運動。這主要是受到何種思潮的影響所產生的現象？ (A) 民族自決 (B) 理性主義 (C) 姑息主義 (D) 民主自由
18. 第一次世界大戰後，英、法、義等協約國強迫鄂圖曼帝國簽訂了屈辱的《色佛爾條約》，鄂圖曼帝國面臨著被徹底瓜分的危險。為了挽救民族的獨立，一位軍官開始組織和領導民族抵抗運動，並取得了輝煌的勝利，而該位軍官也成為土耳其的總統。下列何者是這位軍官對內的重要貢獻？
(A) 推翻共和政府，擁立鄂圖曼皇帝，以穩定政局 (B) 取消伊斯蘭教政教分離的傳統 (C) 要求同盟國陣營重新簽訂對土和約 (D) 提高婦女的社會地位
19. 美國在第一次世界大戰後，國土未受到戰爭的直接波及，戰後成為國際間重要的強國，下列對於美國的敘述，何者有誤？
(A) 加入國際聯盟 (B) 主張孤立主義 (C) 拒絕簽署《凡爾賽條約》 (D) 威爾遜提倡民族自決
20. 聯合國成立至今，安全理事會難以適時發揮制裁侵略、維護和平的功能，其主要原因為何？(A) 受到「國際法庭」的牽制 (B) 遭到「國際聯盟」的抵制 (C) 聯合國沒有武力可供運用 (D) 各常任理事國擁有否決權
21. 「轉型正義」指的是轉型或新興民主國家，針對過去極權政府利用公權力侵害人權的行為，進行真相調查並對受害者給予補償，甚至給予加害者懲罰的作為。自第一次世界大戰末期，哪些國家相繼發展極權政治？
(A) 英國、日本、德國 (B) 英國、德國、義大利 (C) 日本、法國、德國 (D) 日本、義大利、德國
22. 大多史學者認為第二次世界大戰，在中國是以 1937 年七七事變為起始，稱為「八年抗戰」，而在西方卻被稱做「六年戰爭」。西方是以哪件事的發生開始算起？
(A) 德國侵略波蘭 (B) 義大利侵衣索比亞 (C) 德國進占法國 (D) 義大利退出國際聯盟
23. 美國在第二次世界大戰後，為了防範蘇聯共產勢力的擴張，因此採取了一些對策。下列何者不是對策之一？
(A) 在西歐進行馬歇爾計畫 (B) 在東歐成立華沙公約組織 (C) 拋棄孤立主義，與盟邦合作 (D) 在北美及西歐成立北大西洋公約組織
24. 古巴危機和柏林危機與冷戰期間美、蘇兩國的對峙有關，柏林危機時，美英利用空投物資解決立即性的危機。下列對古巴危機的描述，何者正確？ (A) 英法也參與其中，與蘇聯對峙 (B) 蘇聯將核彈對準古巴 (C) 美國將核彈對準古巴 (D) 蘇聯最後讓步，撤除飛彈
25. 第二次世界大戰後，德國分裂為東、西德；韓國分裂為南、北韓；越南分裂為南、北越。造成此種情勢的原因與下列何者關係最為密切？
(A) 民族自決的呼聲 (B) 共產勢力的擴張 (C) 聯合國未能發揮作用 (D) 英、法的姑息政策
26. 下列哪個國家的建立，逼迫原先住在巴勒斯坦的阿拉伯人離開家園，使得此地區的民族衝突不斷？
(A) 印度 (B) 伊拉克 (C) 土耳其 (D) 以色列
27. 「冷戰」時期始於何時？終於何時？ (A) 蘇聯建立共產政權至東歐民主化 (B) 二次大戰結束後至蘇聯解體 (C) 二次大戰結束後至德國宣告正式統一 (D) 韓戰爆發後至蘇聯解體
28. 第二次世界大戰後，許多國家基於共同的文化或政治、經濟利益而結成區域性國際組織，稱為區域統合。下列何者不屬於區域統合的組織？ (A) 聯合國 (B) 東南亞國家協會 (C) 歐洲聯盟 (D) 非洲聯盟
29. 由於運輸與通訊科技的發達，以及跨國企業的擴張，世界幾乎形成一個全球性的經濟體系，其所帶來的影響不包括下列何者？(A) 美國與蘇聯形成對峙局面 (B) 造成大企業與大國壟斷經濟利益 (C) 擴大貧富差距，使得各國勢力嚴重失衡 (D) 改變傳統產業，進而威脅傳統文化的生存
30. 美國在第二次大戰後成為世界首要強國，但是在韓戰中，無法取得重大勝利，在越戰中又遭遇挫折，最後狼狽撤出越南。美國在越戰中失敗的原因不包括下列何者？
(A) 越共使用游擊戰術，美軍防不勝防 (B) 越南人民民族情緒高漲，阻礙美軍的行動 (C) 越共裝備精良，美軍無法匹敵 (D) 美國國內反戰聲浪四起，反對繼續作戰
- ※人類歷史上曾經經歷過兩次大規模的世界性戰爭，即「第一次世界大戰」與「第二次世界大戰」，兩次的戰爭都造成非常大的傷亡與損失。請問：
31. 關於兩次世界大戰的參戰國，正確的是哪個選項？ (A) 中國只參加第二次世界大戰 (B) 日本參加了第一次與第二次的大戰 (C) 美國第一次世界大戰加入同盟國的陣營 (D) 義大利在第一次世界大戰期間屬於同盟國陣營
32. 關於兩次世界大戰的經過，正確的是哪個選項？ (A) 兩次大戰各打了四年 (B) 美國兩次大戰都因德國而參戰 (C) 兩次世界大戰，英國與法國都有參戰 (D) 兩次世界大戰之後所成立的國際組織到現在仍在運作
33. 關於戰爭的結果，正確的是哪個選項？ (A) 兩次世界大戰都由同盟國獲得最後的勝利 (B) 第一次世界大戰結束後，美國的經濟高度繁榮 (C) 第二次世界大戰後，姑息主義盛行 (D) 第二次世界大戰後，成立國際聯盟

【題組 34-37】

※右圖為歐洲各地的年平均結霜期，請根據圖中資訊回答問題。請問：

34. 影響右圖呈現此分布型態的主要因素有哪些？(甲)緯度 (乙)地形 (丙)洋流 (丁)季風 (戊)距海遠近 (A)甲乙丙丁戊 (B)甲乙丙戊 (C)甲丙丁戊 (D)甲乙丁戊

35. 圖中所顯示「愈往內陸，結霜期日數漸增」的分布型態，應與下列哪一特色的分布型態最為相似？(A)七月均溫 (B)人口密度 (C)降水日數 (D)年溫差大小

36. 瑪喀紅若從圖中「丁地」搬到「甲地」生活，她最有可能體會到下列哪一現象的轉變？(A)夏季變乾熱 (B)冬季變乾冷 (C)降水日數增加 (D)日照時數變長

37. 右列為圖中何地的植物，因應當地氣候環境所呈現的生長特徵？



- (A)甲 (B)丙
(C)丁 (D)戊

【題組 38-41】

※2015 年底，聯合國氣候變化綱架公約締約國的代表，於巴黎舉辦的氣候峰會中一致同意通過《巴黎協議》，此協議主要探討 2020 年以後的國際氣候議題(如右列示意圖所示)，並以許多措施讓富國、窮國分別都有該遵守的標準與義務，且部分內容具有法律約束力，因此讓學者及民眾大感興奮！請問：

38. 此協議主要是取代即將於 2020 年到期的哪一氣候條約？(A)南極條約 (B)蒙特婁公約 (C)京都議定書 (D)生物多樣性公約

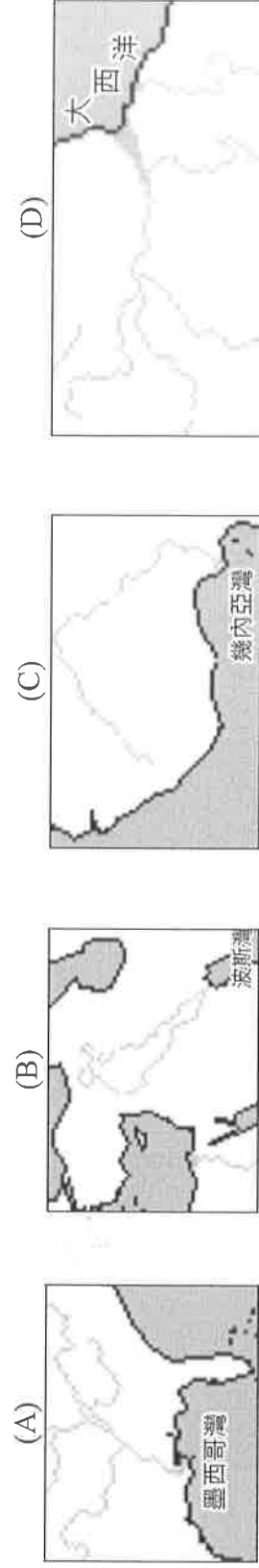
39. 下列哪一現象與此協議內容所因應的問題關聯性最小？(A)阿爾卑斯山的雪線上升

(B)義大利威尼斯的淹水頻率增加 (C)荷蘭發展海上漂浮屋科技 (D)南極上空的臭氧層濃度降低

40. 以下哪些國家的開發行為，無助於解決上文所述的環境問題？(甲)丹麥推廣節能綠建材 (乙)巴西開發雨林增加耕地

(丙)台灣擴建更新深澳燃煤發電廠 (丁)德國致力增加再生能源發電量 (A)甲乙 (B)乙丙 (C)丙丁 (D)甲丙

41. 氣候變遷亦造成極端氣候現象頻傳，對許多地區的用水資源造成衝擊，也造成相鄰國家水資源運用的緊張局勢。請問：下列哪一地區的河流最有可能因為當地氣候乾燥的自然環境，而發生鄰國間的水資源衝突？



【題組 42-43】

※右圖為某些國家的財富分布狀況，圖中數據顯示該國「前 1% 的富人佔國內財富的比例」。請問：

42. 此圖最主要呈現下列哪一問題？(A)貧富差距 (B)人口不均 (C)金融危機 (D)國際分工

43. 若將財富分配問題的形成比喻成下列示意圖，請問：圖中

★與☆應該分別為何？

| | ★ | ☆ |
|-----|----|----|
| (A) | 技術 | 資金 |
| (B) | 原料 | 技術 |
| (C) | 勞力 | 原料 |
| (D) | 資金 | 勞力 |

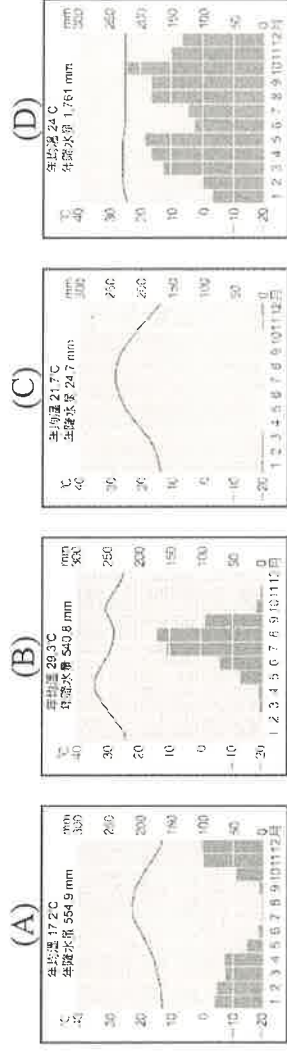


(背面尚有試題，請翻面作答!!)

【題組 44-46】

※右圖為非洲樹木高度的示意圖，請根據圖中資訊回答問題。請問：

44. 圖中所示樹木高度最高的區域，其氣候類型應為下列何圖所示？



45. 影響圖中「乙地」樹木高度的主要因素為何？(A)行星風系季節移動

(B)地處山脈背風側 (C)副熱帶高壓籠罩 (D)距海遙遠深居內陸

46. 家住「丁地」的馬拉松選手派克若要移地訓練，下列哪一地區的氣候環境

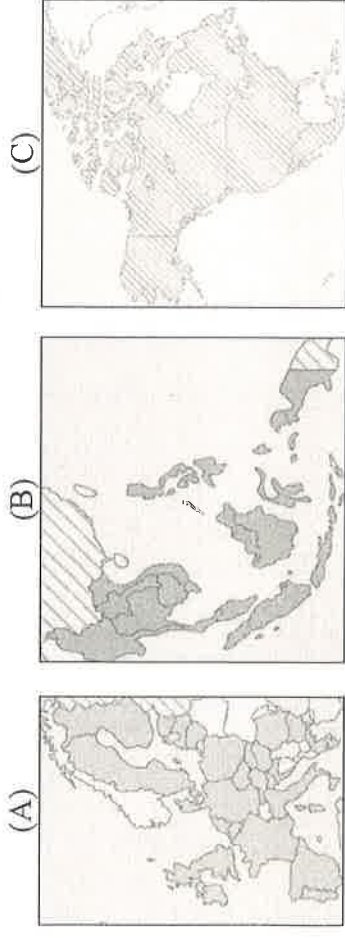
與原居住地最為相似，應是他的最佳選擇？(A)厄瓜多東部 (B)英國南部

(C)美國加州 (D)澳洲西部

【題組 47-48】

※右圖顯示某一區域組織的整合，請根據圖中資訊回答問題。請問：

47. 此組織的會員國主要分布的地區為下列何圖所示？

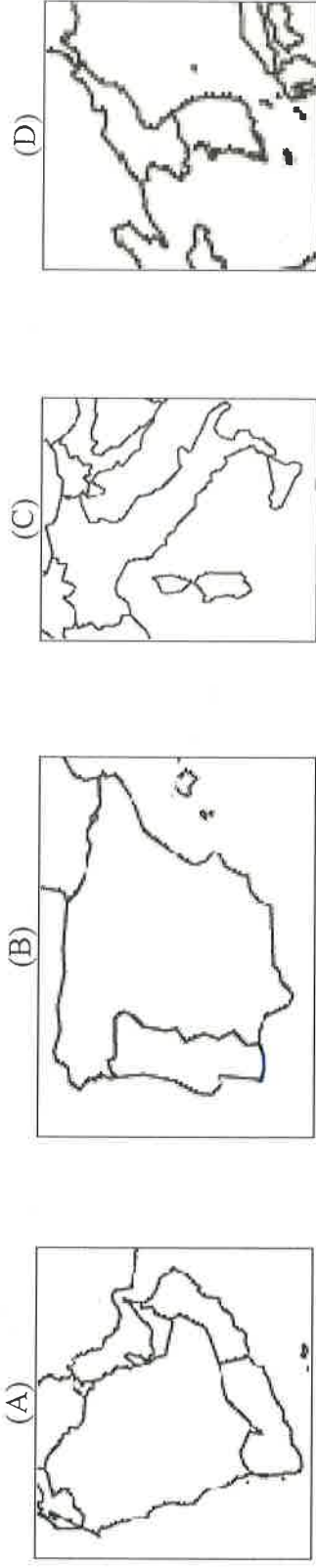


48. 此組織會員國人民常赴海外打工、幫傭，請問：哪一地區最不可能是人民前往之處？(A)西亞 (B)東亞 (C)南亞 (D)東北亞

【題組 49-50】

※1950 年韓戰爆發，1953 年簽署停戰協議，半島以北緯 38 度線劃分為南北韓兩個國家。分裂以來，雙方時有軍事衝突，造成民眾警戒及國際形勢的緊張狀態。2018 年 4 月 29 日，兩韓的領導人舉行了第三次的高峰會，金正恩成為停戰協議以來，首位進入南韓的北韓領導人。會談結束後，兩人簽署「板門店宣言」，宣布兩韓將致力於今年內簽署和平協定、終結韓戰，並以完全無核化為目標。北韓在 2015 年為紀念半島脫離日本殖民統治 70 週年時，將全國時區推遲 30 分鐘改用「平壤時間」，變成與南韓有半小時時差，是世界上唯一使用這個時區的國家，在此次峰會中，兩韓亦達成時區統一的共識，北韓於 2018 年 5 月 5 日恢復原本使用的時區。

49. 請問：文中提及的「半島」，其所在的地理位置應為下列何圖所示？



50. 恢復原先時區的「平壤時間」比台灣快一個小時，請問應是以下列哪一經度做為基準

設定？(A)105°E (B)135°E (C)120°E (D)135°W

〔試題到此結束，請仔細檢查!!〕



機會，是留給準備好的人!!

成功，是留給堅持到最後一刻的人!!