

台中市三光國中一〇六學年度第二學期第二次定期評量七年級社會科試卷(第一頁)

選擇題：1-50 題每題 2 分

1. 每年春節過年時，郝效舜總會和爸媽回鄉下老家向爺爺奶奶拜年；長輩疼愛晚輩，晚輩敬重長輩，一家人和樂融融。上述「長輩疼愛晚輩，晚輩敬重長輩」，是屬於哪種社會規範的內涵？ (A)風俗習慣 (B)倫理道德 (C)宗教信仰 (D)法律。
2. 清明掃墓時照例要把墳上的新草砍掉，然後在墳上壓紙，並準備祭品，祭拜後，家長以麵粿和紅色粿分給附近人家的小孩，稱「揖墓粿」。上述「揖墓粿」是屬於何種社會規範？ (A)法律 (B)倫理道德 (C)風俗習慣 (D)宗教信仰。
3. 社會上常以「舉頭三尺有神明」這句話勸誡人要心存善念，不要胡作非為，這句話最能代表宗教的哪種功能？ (A)解答人生的困惑 (B)形成約束的力量 (C)安定人們的思想 (D)提供精神的慰藉。
4. 法律是國家機關經由一定程序制定，規定人民某些應該做或不應該做的事。下列關於法律的敘述，何者正確？ (A)最低限度的行為準則 (B)萬物運行的自然法則 (C)最高標準的道德準則 (D)能夠約束一切不當行為。
5. 隨著時代變遷，遺棄自己年邁雙親的案例愈來愈多，讓人不勝唏噓。其實這樣的行為不但已經觸犯了《刑法》的遺棄罪，也違背了中國人孝順父母的傳統美德。上述遺棄父母的行為，同時違反了下列哪兩種社會規範？ (A)法律、風俗習慣 (B)風俗習慣、宗教信仰 (C)倫理道德、法律 (D)宗教信仰、倫理道德。
6. 社會生活中，個人行為常受到許多內外在的力量所影響，其中有些規範具有強制力，用以維護整個社會的穩定。下列哪項敘述符合上述的特性？ (A)教師帶領學生參與遊行 (B)汽車內須安裝兒童安全座椅 (C)學校推行反毒宣導活動 (D)參與寺廟舉辦宗教儀式。
7. 我們國家有各種不同的法律，從國家的根本大法《憲法》，到防止家庭暴力的《家庭暴力防治法》，都是國家法律的一部分。上述的法律是屬於文化哪個層面？ (A)器物 (B)制度 (C)理念 (D)宗教。
8. 清領時期移民臺灣的漢人，往往透過宗教活動求得心靈的平安和生存的保障，例如：為求航海順利而信仰媽祖；為求拓墾平順而祭祀土地公。這種宗教信仰是屬於文化內涵的哪一層次？ (A)制度 (B)器物 (C)工具 (D)理念。
9. 在國人的眼裡，「4」是個不好的數字，所以飯店的房間號碼永遠不會有「4」。但是，泰國人卻覺得「4」這個數字會為他們帶來好運。由上述內容判斷，這是屬於文化的何種特徵？ (A)普遍性 (B)差異性 (C)累積性 (D)制約性。
10. 文化會不斷的改變、調整或創新，下列哪項可說明文化的累積性？ (A)藉由各種慶典，以凝聚社會成員的向心力 (B)中國人習慣以紅包表示對新人的祝福 (C)清明節掃墓已經成為我國重要的節日 (D)手機的功能不斷地增強。
11. 「到東方人家中作客不能把食物都吃完，以顯示自己已經吃很飽了，到西方人家中作客則是要將食物都吃完，顯示女主人的手藝很棒。」以上現象顯示文化的哪種特性？ (A)普遍性 (B)累積性 (C)制約性 (D)差異性。
12. 「倫理」意指人際之間應有的相處之道，若個人行為違反倫理的規範，往往會遭致他人的批評，而倫理也是文化的一部分，對個人行為具有一定程度的影響力。上述是文化所具備的哪種特徵？ (A)普遍性 (B)差異性 (C)累積性 (D)制約性。
13. 我們可以在臺灣聽到各種方言，吃到各種具特色的美味小吃，也能同時欣賞到歌仔戲、京劇、相聲及原住民的傳統歌舞，這是在說明下列何種現象？ (A)弱勢文化 (B)次等文化 (C)多元文化 (D)主流文化。
14. 社會中某些團體的成員，由於年齡、職業、宗教及族群等方面的差異，會產生不同的想法與價值觀，而發展出獨特的文化，此稱為下列何者？ (A)次文化 (B)次等文化 (C)弱勢文化 (D)異質文化。
15. 政府開放外籍人士來臺工作，街頭上於是出現許多與我們面孔不同的「外籍勞工」。下列關於面對「外籍勞工」的認知，何者正確？ (A)外勞應該入境隨俗 (B)外勞搶走臺灣人的工作 (C)他們與臺灣文化有差異 (D)外勞來自落後野蠻地區。
16. 臺灣社會呈現多元的面貌，而多元的價值也愈來愈受重視。下列有關多元社會的敘述，何者正確？ (A)以自己的標準去衡量其他的族群 (B)各種文化都應明確區分其優劣等級 (C)僅有主流文化才是值得學習的對象 (D)每種文化都有值得欣賞與學習之處。

背面尚有試題，請翻面作答

17. 日治時期，總督府有計畫的培養臺灣人養成哪些習慣？(甲)吸食鴉片(乙)星期制(丙)衛生防疫(丁)遵守司法 (A)甲乙丙
(B)甲乙丁 (C)乙丙丁 (D)甲乙丙丁。
18. 中華民國政府在民國 37 年制定《動員戡亂時期臨時條款》。請問：當時制定該條例主要是受到哪一場戰爭的影響？
(A)甲午戰爭 (B)第一次世界大戰 (C)國共內戰 (D)第二次世界大戰。
19. 下列有關民國 36 年行憲後的中華民國總統敘述，何者正確？ (A)蔣中正→擔任行憲後第 1-5 任總統 (B)李登輝→宣布動員戡亂 (C)陳水扁→首任人民直選總統 (D)蔡英文→首次政黨輪替。
20. 附表顯示日治時期某一年臺灣的教育狀況，從表中可看出當時的教育情形為何？ (A)
政府對各族群的教育態度平等 (B)臺灣人就讀大學的比例比日本人高 (C)中等教育以「學術」為目標 (D)臺人基礎教育不足且升學不易。
21. 日治時期，政府開始在臺灣地區進行人口普查，當時的普查結果：西元 1905 年為 303 萬人，到了 1940 年增加為 587 萬人，人數增加了將近一倍。請問日治時期的人口增加因素主要為何？ (A)配合皇民化運動，政府鼓勵臺灣人多生育，以增產報國 (B)衛生習慣提升，糧食充裕，使得死亡率降低 (C)社會趨向安定，械鬥事件減少，死傷人數減少 (D)日本實施殖民政策，促使大量日本人移民到臺灣。
22. 老師正在講述臺灣史上的「二二八事件」，下列為他請同學提出的相關看法，只有何人的觀念正確？ (A)雅琦：發生於白色恐怖時期 (B)麗麗：僅在高雄市引發衝突 (C)嘉文：政府鎮壓後，進行清鄉 (D)玟好：政府組成「二二八事件處理委員會」進行改革。
23. 下列何者為臺灣史上第一個合法政黨？ (A)中國國民黨 (B)中國民主黨 (C)民主進步黨 (D)臺灣民眾黨。
24. 民國七十六年，蔣經國總統宣布解除戒嚴，對臺灣社會產生最直接的影響是什麼？ (A)憲政正常化 (B)總統直選 (C)黨禁與報禁的開放 (D)促進族群融合。
25. 臺灣自民國 39 年地方自治開始，然而因為戒嚴令的影響，仍有部份選舉受到限制無法民選。請問：在民國 60 年代，臺灣人民能選舉的地方官員為何？ (A)臺灣省長 (B)臺北市長 (C)高雄市長 (D)臺中市長。
26. 畢業於公學校的阿公回憶幼年時期的求學過程。下列何者符合他的成長經驗？ (A)同班的日本同學天天便當都有雞腿 (B)當時大力推廣漢語，同學們要背四書五經 (C)老師要求男學生辮髮、女學生纏足 (D)當時成績優良也可繼續升學到臺中中學校。
27. 日治時期某段時間受到民族自決思潮影響，產生許多社會運動：(甲)臺灣文化協會 (乙)臺灣地方自治聯盟 (丙)臺灣議會設置請願運動 (丁)臺灣民眾黨。上述運動的「成立時間排列」何者符合歷史順序？ (A)甲乙丙丁 (B)丙甲丁乙 (C)乙丙甲丁 (D)丙甲乙丁。
28. 臺灣文化協會是日治時期影響臺灣極深的一個組織團體。下列有關臺灣文化協會的敘述何者正確？ (A)發行《自由臺灣》 (B)由林獻堂、蔣渭水發起 (C)主要爭取臺灣獨立 (D)贊成鴉片漸禁政策。
29. 民國 106 年在某一紀念碑的落成典禮上，主席致詞時說：「希望臺灣 70 年前的悲劇永不再發生，使在事件中喪失寶貴生命的本省籍與外省籍同胞，他們的靈魂能得到最大的慰藉，也希望日後我們永遠沒有省籍問題……。」上述紀念碑是為了紀念哪個歷史事件？ (A)二二八事件 (B)美麗島事件 (C)臺灣光復 (D)野百合學運。
30. 臺灣史上何時開始實施義務教育，規定學齡兒童皆須入學？ (A)西元 1937 年 (B)西元 1941 年 (C)西元 1943 年 (D)西元 1945 年。
31. 歷史課上提到臺灣民主史上的兩大事件：雷震事件和美麗島事件。請問：右圖比較何者正確？ (A)時間 (B)領導人物 (C)創辦雜誌 (D)影響
32. 現在臺灣人民可以走上街頭，合法的遊行請願，主要是哪項政治措施影響？ (A)解除戒嚴 (B)實行地方自治 (C)終止動員戡亂時期 (D)三月學運。
33. 阿土伯是臺灣戰後初期的臺灣年輕人。下列哪種情景阿土伯當時沒有經歷過的事情？ (A)市場上到處都是中國進口的糧食 (B)通貨膨脹、米價昂貴 (C)政府官員多由大陸來台人士擔任 (D)常與大陸來臺人士因為語言不通發生爭執。
(下頁尚有地理科試題，請繼續作答！)

	雷震事件	美麗島事件
時間	民國 68 年	民國 49 年
領導人物	雷震	李登輝、陳菊
創辦雜誌	自由中國	美麗島
影響	政府終止動員戡亂	黨外人士其後成立民主進步黨

34. 以下何種環境最易出現「散村」景觀？ (A)山地、丘陵錯落地區 (B)治安不佳地區 (C)地形平坦寬廣處 (D)水源常有缺乏之虞的地方

35. 下列有關臺灣工業分布的描述，何者錯誤？ (A)雲林的六輕以石化工業為主 (B)水泥工業發展於基隆地區 (C)中南部以重工業及加工出口業為主 (D)高科技產業最早集中於新竹科學工業園區

36. 高雄港為臺灣最主要的重工業園區，其發展最有利的區位條件為下列何者？ (A)交通便利 (B)礦產豐富 (C)技術優良 (D)工資低廉。

37. 關於臺灣工業發展歷程的描述，下列誰的說法正確？ (A)阿泰：民國 50 年以前，以發展軍火重工業為主 (B)小詠：民國 50~70 年間，主要發展農、林產品的初級加工業 (C)莉婷：民國 70~80 年間，勞力密集工業興起 (D)小婕：民國 80 年以後，臺灣以高科技工業為發展重心

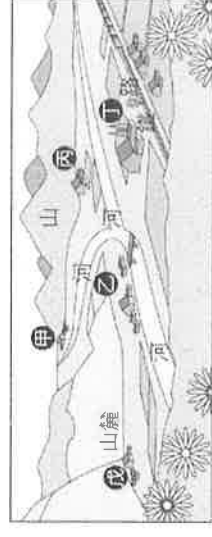
38. 「臺灣的鐵路分布不如公路普及。」此現象與下列鐵路的哪一特性關係最密切？ (A)適應地形能力較差 (B)運輸費用較昂貴 (C)行車花費時間較長 (D)客貨的載運量較小

39. 佐子老師喜歡到量販店採購生活用品，商品多樣、價格便宜，但是量販店多設在大都市的郊區，距離較遠，往往要開車前往。請問：量販店常選擇郊區作為商場位置的主因為何？ (A)地形較平坦 (B)土地較便宜 (C)市場較廣大 (D)交通較便利

40. 有人說：「國際貿易是臺灣的經濟命脈。」，因為臺灣的經濟發展至今仍十分依賴國外提供何種條件？ (A)原料、市場 (B)原料、技術 (C)資金、勞力 (D)土地、市場

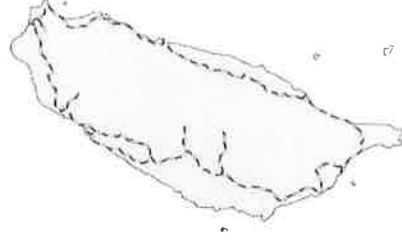
41. 「臺南市訂定太陽光電 2 年期計畫，要透過推動太陽光電專區、設置綠能設施，以及滯洪池浮動式太陽光電系統，發展低碳城市這個施政目標，在民國 107 年底完成 220MW 的發電目標。永康科技工業區、樹谷園區都已和系統商完成簽約，永康科技工業區目前已完成，樹谷園區則會 107 年底完成。」文中提到的工業區其工業發展類型，主要受下列哪項因素影響？ (A)原料 (B)動力 (C)市場 (D)政策

42. 圖中甲、乙、丙、丁、戊五個聚落中，何者最有可能發展為都市？
(A)甲乙 (B)乙丁 (C)丙丁 (D)丙戊



43. 電影《賽德克巴萊》中，賽德克族人為了生計，被迫砍下樹木，從山上扛下山賣給日本人，許多寶貴林木從此成為市場交易品。林木外銷雖然一度為臺灣賺進巨額的外匯收入，但是消失就難以復原。目前，政府已調整林業政策，並以下列何種作法為主要方向？ (A)適度砍伐一些普通天然林樹種 (B)全面禁止人民進入森林區 (C)禁采天然林、並加強造林與保育林地 (D)移植國外稀有樹種

44. 附圖為臺灣鐵路分布圖。由圖中路線的分布判斷，下列哪一項敘述正確？ (A)路線主要沿河川流向興建 (B)路線受地形影響而呈環狀 (C)東部幹線是最早興建的鐵路 (D)圖中西部由北而南的三條鐵路支線分別為集集線、內灣線、阿里山森林鐵路。



◎公共電視台曾製作過一部紀錄片--《戰浪》，刻劃臺東縣成功鎮的一群漁民，用傳統鏢旗魚的漁法，站在窄小鏢臺上，舉起 20 公斤重的鏢竿與大海奮戰。從海港向北出發，暖流的經過，帶來豐沛活躍的旗魚魚群，每年 9 月至 12 月是最主要的產季，季風吹拂海面，使旗魚漂浮到海面上層，旗魚是世界上游速最快的魚，每小時可達 120 公里，體重又多超過一百公斤，鏢槍手完全憑藉膽識和多年經驗，抓準旗魚現身的時機「下鏢」捕魚，那是驚險又刺激的一刻！請回答下列問題：

45. 文中提到：「從海港向北出發，暖流的經過，帶來豐沛活躍的旗魚魚群。」請問：該暖流最可能會下列何者？

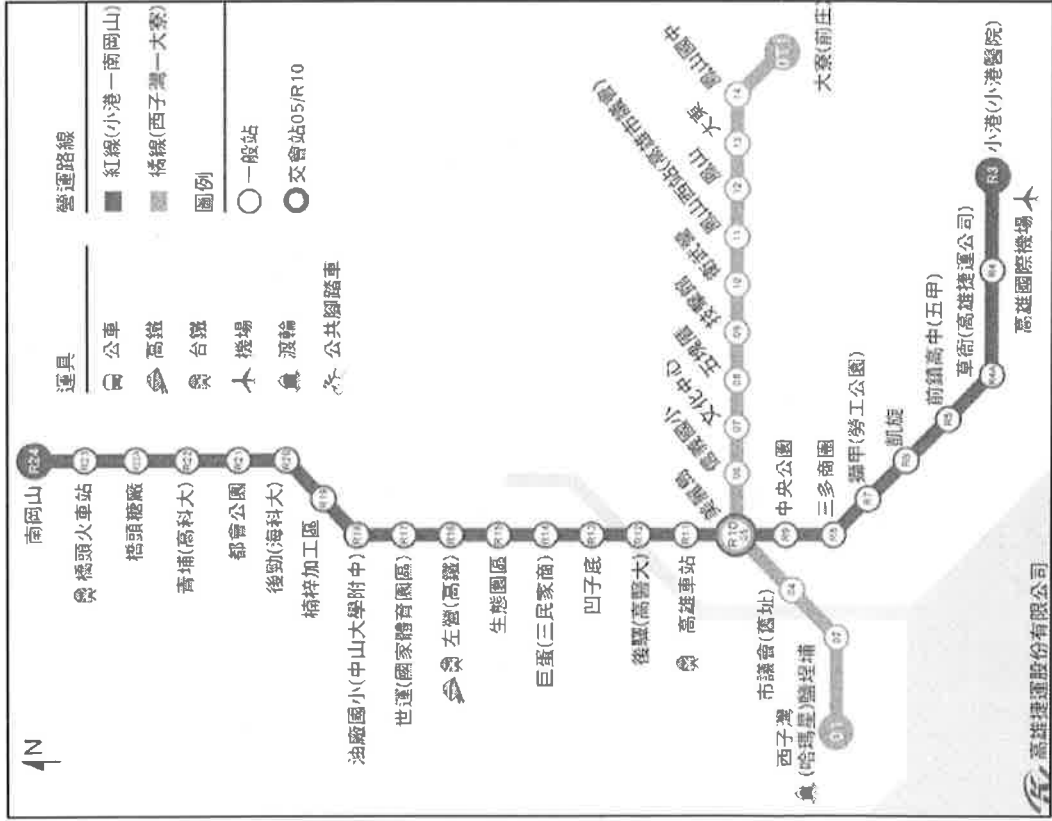
(A)中國沿岸流 (B)黑潮 (C)親潮 (D)暖潮。

〔背面尚有地理科試題〕

46.文中提到：「每年 9 月至 12 月是最主要的產季，季風吹拂海面，使旗魚漂浮到海面上層。」請問：當時漁船的風向最可能為下列何者？(A)→ (B)↑ (C)↙ (D)↗。

47.下列哪些可能是臺灣漁業的挑戰？(甲)漁業資源的枯竭 (乙)鄰近國家的競爭 (丙)捕撈技術不足 (丁)本地勞工缺乏 (戊)漁港數量不足。(A)甲乙丙 (B)甲乙丁 (C)乙丁戊 (D)丙丁戊

* 慈慈老師以捷運為主要交通工具到高雄進行地理實察，下圖是高雄捷運路線圖，請回答下列問題：



48.考察的第一站從楠梓加工區站(R19)開始，請問民國 58 年時在此設立加工出口區，最主要考量的是下列哪些因素？

(甲)地形 (乙)氣候 (丙)原料 (丁)勞力 (戊)交通 (己)市場 (庚)政策：(A)甲乙丙 (B)丙丁庚 (C)丁戊庚 (D)戊己庚。

49.第二站是三多商圈站(R8)，百貨公司跟商店林立，新光三越、大遠百、太平洋 SOGO 比鄰而居，這些百貨公司都選擇在此設點，有何優勢？

(A)因為這裡有大量廉價勞力，可以減少生產成本
(B)如此一來，可形成聚集經濟，增加逛街人潮
(C)兼具批發和零售的性質，達到以量制價
(D)都市繼續擴張，與臺南市形成都會區

50.慈慈老師的最後一站來到鹽埕埔站(O2)，這兒曾是高雄早期政治經濟中心，而日據到光復初期是鹽埕區的光輝時期，超級熱鬧又繁華，但隨著商業中心東移、人口漸減，80 年代以後開始走向落沒。請問：以下措施何者可能最無法幫助鹽埕區都市更新？

(A)整治愛河，改善汙染情況
(B)結合駁二藝術特區，推動文創產業
(C)整修古蹟，吸引觀光人潮
(D)嚴禁鹽埕區人口移出，降低移出率

〔 試題到此結束 〕

寫完別忘了再檢查一遍唷!

預祝各位同學考試順利☺