

選擇題：1-50 題每題 2 分

1. 媽媽積欠的債務共有500萬元，留下來的財產只有50萬元。姐姐：「我決定選擇拋棄繼承。」弟弟：「我決定選擇限定繼承。」根據這對姐弟對母親遺產的繼承方式，下列何者敘述正確？(A)姐姐將繼承財產，但不繼承債務 (B)弟弟將繼承財產，但不繼承債務 (C)姐姐將不繼承財產，亦不繼承債務 (D)弟弟將不繼承財產，亦不繼承債務。
2. 依據現行《民法》的規定，新人結婚應具備下列哪些要件，才具有效力？(甲)須有結婚儀式(乙)有兩人以上證人之簽名(丙)雙方當事人向戶政機關登記(丁)須公開宴客(戊)以書面為之 (A)甲乙丙戊 (B)乙丙丁戊 (C)乙丙戊 (D)甲乙丙丁。
3. 15 歲的佑珍最近想和青梅竹馬的男友結婚，在徵得父母親同意後，兩人便前往戶政事務所登記。請問：佑珍和男友至戶政事務所登記結婚，若戶政事務所拒絕讓他們登記，其最主要的原因應該是下列何者？ (A)未有公開宴客儀式 (B)未達法定結婚年齡 (C)缺乏二人以上的證人 (D)父母親未到現場。
4. 新羽去逛街時，不小心把店家的商品打破了。老闆說該商品是世界唯一，要求新羽要賠償商品的十倍價格，新羽無法接受，因此與老闆發生爭執。請問：依照《民法》的規定，新羽應該負擔的民事責任為何？ (A)因不是故意所以不須賠償任何金額 (B)賠償商品十倍金額 (C)購買類似的商品歸還給老闆 (D)依照商品價格賠償。
5. 陳家四姐妹正在討論年齡和法律行為效力的關係。大姐：「我已經大學畢業了，可以自行決定自己的終身大事。」二姐：「我快要升上大學，可以申辦信用卡了吧，不然，生活多不方便。」三姐：「我今年滿14歲了，可以自由使用自己的零用錢。」小妹：「我最可憐了，今年才8歲，做什麼事都要爸媽同意才可以。」請問以上幾人說法正確？(A)1人 (B)2人 (C)3人 (D)4人。
6. 故事小品：「一對貧困夫妻找到一間便宜的房子，但對方堅持不租給有小孩的家庭，於是夫妻很失望的準備離開，但13歲的女兒小含突然跑回向房東說：「您好，我想租房子，我沒有小孩，但有一對父母，請問您可以租給我嗎？」房東看著她，不由得微笑的點點頭。」若根據我國法律，小含應該無法承租房子，因為她是：(A)無行為能力人 (B)限制行為能力人 (C)無責任能力人 (D)限制責任能力人。
7. 顧客：「老闆，這支手機有修理過的痕跡，不是全新的，我要換貨。」老闆：「不好意思，貨物售出，概不退換喔。」請問，老闆已違反了《民法》規定的何項權利行使原則？(A)誠實信用原則 (B)契約自由原則 (C)權利濫用禁止原則 (D)消滅時效。
8. 黃瓜：「妳的狗每天在我這裡大小便，害得磁磚變色，妳要賠償整面牆重建的費用。」妹子：「真的很抱歉。」請問黃瓜的要求已經違反下列哪一項權利行使的原則？(A)誠實信用原則 (B)契約自由原則 (C)消滅時效 (D)權利濫用禁止原則。
9. 雅棠和同學因為玩線上遊戲發生衝突，於是多次向友人表示要給同學好看。同學聽到消息後心生恐懼，便向警察報案提告。請問：雅棠此種行為是否觸犯傷害罪？ (A)是，意思表示就構成犯罪 (B)是，雅棠已造成同學心理傷害 (C)否，雅棠並無實際的傷害行為 (D)否，友人構成傷害，雅棠則否。
10. 下列關於罰金和罰鍰的比較，何者錯誤？ (A)罰金屬於刑罰的從刑 (B)罰金是違反《刑法》的處罰 (C)罰鍰是違反行政法的處罰 (D)兩者都屬於金錢處罰。
11. 台中百貨公司因消防設施屢次複檢未通過，遭主管機關依法懲處，該百貨公司最可能面臨下列哪項行政罰？ (A)沒收百貨銷售商品 (B)對負責人褫奪公權 (C)賠償消費者損害 (D)要求負責人停止營業。
12. 關於《刑法》，下列何人的說法完全正確？ (A)甲：飆車、竊盜、販賣毒品屬於《刑法》約束的範疇 (B)乙：所有年滿18歲者都具有完全的責任能力 (C)丙：刑事責任包含侵權行為責任，須負起損害賠償的義務 (D)丁：《刑法》採取溯及既往原則，以有效嚇阻犯罪行為。
13. 李凱到同學家玩的時候，趁同學不注意，盜用他的帳號，並入侵其電腦。李凱此一行為觸犯了下列何種罪行？ (A)妨害電腦使用罪 (B)竊盜罪 (C)公共危險罪 (D)毀損罪。
14. 展榮某日突然察覺其鄰居展瑞之屋內有濃厚的瓦斯味，展榮未救人起見，立即持磚塊將展瑞屋之窗戶打破，讓新鮮空氣流入。展榮之行為應負何種責任？ (A)可依《刑法》「正當防衛」之規定，不構成違法 (B)可依《刑法》「業務上正當行為」之規定，不構成違法 (C)可依《刑法》「緊急避難」之規定，不構成違法 (D)仍構成毀損罪，但應減輕其刑。
15. 部分商家以花盆佔用路邊停車位，妨害大眾使用停車位的權益。若被行人或鄰居檢舉，這些商家應負哪種責任？ (A)賠償責任 (B)民事責任 (C)刑事責任 (D)行政責任
16. 聖嫂一家人要到餐廳聚餐，停好車後，他們不走行人穿越道，而直接穿越馬路，差點發生車禍，聖嫂一家人不遵守交通規則的行為，應負何種責任？(A)行政責任 (B)民事責任 (C)刑事責任 (D)交通責任。

17. 《水果日報》報導：「今年 3 月，中國全國人大全體會議以 2958 票贊成、2 票反對、3 票棄權通過修憲刪除國家主席任期限制，讓中國國家主席習近平將可以無限連任、宛如當皇帝。」請問：民國初年，何人也曾以類似的方式，擴大自身權利？ (A)段祺瑞 (B)張勳 (C)曹錕 (D)袁世凱。
18. 近來因為臺大校長任命一事，臺灣大學校園掀起一股「新五四運動」。小美看到相關報導後，對於何謂「五四運動」產生興趣，上網查詢資料，請問下列資料，何者正確？ (A)主要由新知識份子所領導起 (B)因是巴黎和會中的東北問題不滿 (C)其後，影響了新文化運動開始 (D)孫中山以發起護法運動響應。
19. 清末中國面臨列強挑戰，而其中有兩次戰役就連首都也被攻陷，請問是下列何種組合？ (甲)鴉片戰爭 (乙)英法聯軍 (丙)八國聯軍 (丁)日俄戰爭 (A)甲乙 (B)乙丁 (C)乙丙 (D)丙丁。
20. 清朝的「太平天國」與「義和團」均為中國境內重大內亂，兩者有何相似之處？ (A)均以山東做為叛亂的根據地 (B)均得到慈禧太后的默許 (C)都藉宗教力量吸引群眾 (D)皆得到外國列強的支持。
21. 西元 1900 年，北京流行著一首民謠：「拆鐵道、把線砍，徹底毀壞大輪船，見了鬼子一定斬！」民謠中所說之事後來帶給中國何種影響？ (A)列強劃分勢力範圍 (B)駐兵北京，國防盡失 (C)日本乘機侵占東北 (D)孫中山籌組興中會。
22. 清末以來中央政府權力縮小，造成地方軍人割據的局面，到了民初時期，形成軍閥割據的現象。請問下列有關軍閥的敘述，何者正確？ (A)北洋軍閥分為直系、桂系、奉系 (B)段祺瑞拒絕恢復新約法，導致南北分裂 (C)特色為注重個人利益，用軍事力量解決紛爭 (D)直系將領曹錕賄選議員，當選內閣首長。
23. 清末原本支持政府的立憲派人士，最後轉而支持革命。請問使得他們改變立場的原因為何？ (A)袁世凱拒絕恢復臨時約法 (B)政府取消科舉制度 (C)四川發起保路運動 (D)政府公布皇族內閣。

24. 下列哪一個事件是在右圖中的「丁」城市從發生的？ (A)辛亥革命 (B)中華民國軍政府

(C)復辟事件 (D)護國軍起義。

25. 民初青年世明參加救國救民為號召的「五四運動」。請問：世明當時理應跟著大家喊著什麼

口號？ (A)驅除韃虜，恢復中華 (B)師夷長技以治夷 (C)天下一家，共享太平 (D)外爭主權，內除國賊。



26. 慈禧太后為了安撫人心推動的制度改革，其中許多政策與之前戊戌變法相似，而當中最重要、影響最大的是下列哪項？ (A)成立北洋艦隊 (B)建立京師大學堂 (C)實施君主立憲 (D)廢除八股文及科舉制度。

27. 阿呆在玩《中國歷史知識王》題目出現：(甲)洪憲帝制(乙)五四運動(丙)二次革命(丁)復辟事件，請按照時間排列。正確答案應該為何？ (A)甲乙丙丁 (B)丙甲丁乙 (C)甲乙丁丙 (D)丙丁甲乙。

28. 辛亥革命事實上並沒有掀起大規模的戰爭，也沒有造成太多人員的傷亡，主要原因是下列何者？ (A)當時清廷立刻宣布投降 (B)各省很快紛紛響應獨立 (C)列強紛紛出兵協助 (D)地方提出東南互保支持。

29. 清朝末年發生過許多戰爭，對於政府施政產生諸多影響，請問下列這些戰爭與事件的因果關係，何者正確？ (A)日俄戰爭→戊戌變法 (B)英法聯軍→臺灣建省 (C)八國聯軍→庚子後新政 (D)鴉片戰爭→自強運動。

30. 清末民初，女性受教育機會增加，許多婦女團體紛紛成立，要求立法保障婦女應有的權利。當時婦女爭取的權利有許多，下列項目何者正確？ (A)主張三從四德 (B)小孩需從母姓 (C)推廣纏足為中國美的象徵 (D)教育平等。

31. 新文化運動是屬於思想文化層面的改革，對中國日後的發展造成極深的影響。下列有關新文化運動的敘述，何者有誤？

(A)提倡以文言文取代白話文 (B)部分知識分子主張全盤西化 (C)批判中國的儒家文化 (D)積極鼓吹「德先生」、「賽先生」。

32. 中華民國初建立時，政治發展仍不穩定，常有偶發事件發生。有關民國初年政治何者敘述正確？ (A)孫文辭職後，袁世凱出任臨時大總統 (B)袁世凱擁立溥儀為帝 (C)蔡鍔與唐繼堯發動「護國軍」討伐張勳 (D)國民黨在國會大選獲勝，孫中山出任內閣總理。

33. 某史料提及：「清廷政府原本允許民間修建粵漢、川漢鐵路，但在宣統三年突然宣布收歸國有，造成人民反彈，引發□□事件。」請問此文章中的□□應是指何事件？ (A)保路運動 (B)立憲運動 (C)新文化運動 (D)扶洋滅清運動。

(下頁尚有地理科試題)

34. 下列關於各地氣候影響因素的敘述，誰的說法有誤呢？ (A)宜嫻：只要有寒流及涼流流經的地區，氣候會冷溼多雨 (B)博凱：受高壓影響，天氣較為穩定，不易下雨 (C)建鉉：地勢愈高，氣溫愈低，氣壓也漸低 (D)育廷：緯度愈高，冬天溫度就愈低，年溫差通常愈大呢！

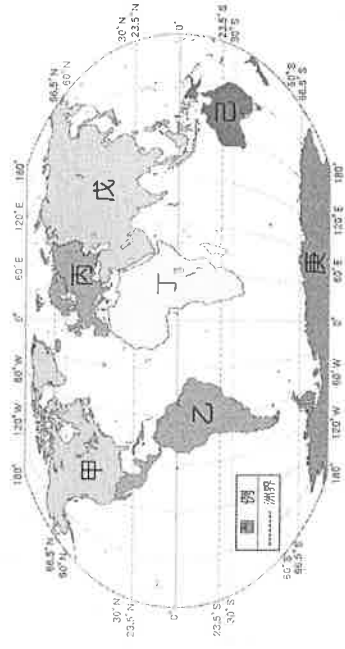
35. 坎兒井雖然有個「井」字，但其實不是井，而是種獨特的灌溉系統（如右圖），和大運河、萬里長城並列中國古代三大工程；林則徐當年被貶官途經吐魯番時曾稱讚嘆的說：“見沿途多土坑，詢其名曰：卡井，能引水橫流者，由南而北，漸引漸高，水從土中穿越而行，誠不可思議之事！”。下列關於坎兒井的敘述，何者有誤？ (A)主要是乾燥氣候區使用 (B)水源來自於內流河河水 (C)此構造可減少水分的蒸發 (D)吐魯番地區引坎井兒的水來發展綠洲農業。

36. 允瓜是從西藏來台讀書的西藏人，他常在臉書 po 文分享西藏地區的生活方式，透過書寫來抒發他的鄉愁；下列敘述中，何者正確？ (A)我們藏人喜歡以玉米製成糌粑為主食 (B)日喀則的布達拉宮是當地人的聖地 (C)藏人主要的宗教信仰跟蒙古族相同 (D)駱駝是當地主要的交通工具

37. 右圖是假想的世界洋流系統圖，請問：下列哪組洋流會使其流經的沿海地區溫暖濕潤呢？

(A)乙丙 (B)甲己 (C)丙戊 (D)乙丁

* 附圖為各大洲分布圖，請回答 38~40 題：

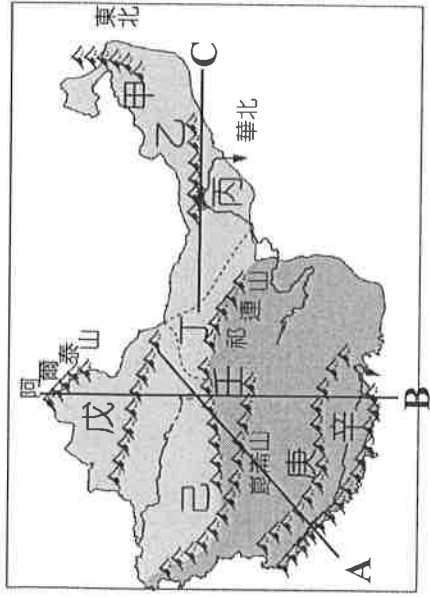


38. 關於各大洲的描述，誰的介紹完全正確？

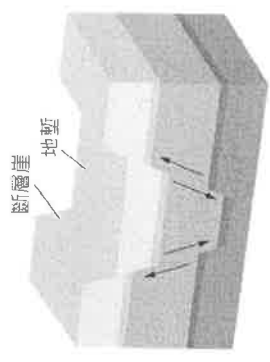
- (A)邵邵：甲洲西側的安地斯山是全球最狹長的山脈
(B)雅琪：乙洲東北部的亞馬孫盆地，有全世界最大的沙漠
(C)小鈺：戊洲有全球平均高度最高的高原-青藏高原
(D)小鈺：丁洲是總面積與人口數量均排名第一大的洲。

39. 陸半球及水半球的中心分別位於哪個洲？

- (A)戊、乙 (B)甲、己 (C)丙、乙 (D)丙、己。



* 三光考察隊想在暑假前往中國西部進行地理實察，隊員們打算廣泛閱讀相關資料，增進對當地的了解；左方是西部地區簡圖，請參考圖中代號回答 40~46 題：



40. 阿美老師從地理雜誌上得知右圖是某中國地理區的成因示意圖，請問：該雜誌最可能是在介紹圖中哪個地理區？ (A)甲 (B)乙 (C)丁 (D)辛

41. 阿典老師正在預想去各地區可能會遇到的情境，下列何者有誤？ (A)甲區水草豐美，放牧發達 (B)己區有全中國最大的沙漠 (C)丙區因為工礦發達，有聚寶盆的說法 (D)辛區有來自印度洋的水氣，相對較濕潤

42. 右方是小惠老師沿圖中某條線繪製的地形剖面圖，請問小惠老師可能是沿圖中

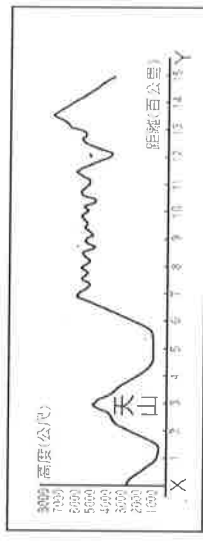
A~C 哪條線繪製而成的？ (A) A (B) B (C) C

43. 阿淮老師在中國地理學會刊物中看到關於圖中「乙區」的介紹，文中有篇標題為：“處處無家處處家”，主要在描述當地的哪項特徵？ (A)住：擋風防沙蒙古包 (B)交通：馬、驢運輸工具 (C)民俗：婚俗禮讚 (D)衣：人要衣裝馬要鞍

44. 小喻老師發現中國自西元 2000 年起，就提出了「西部大開發」政策，請問：當時中國提出此政策最主要的目的是什麼？

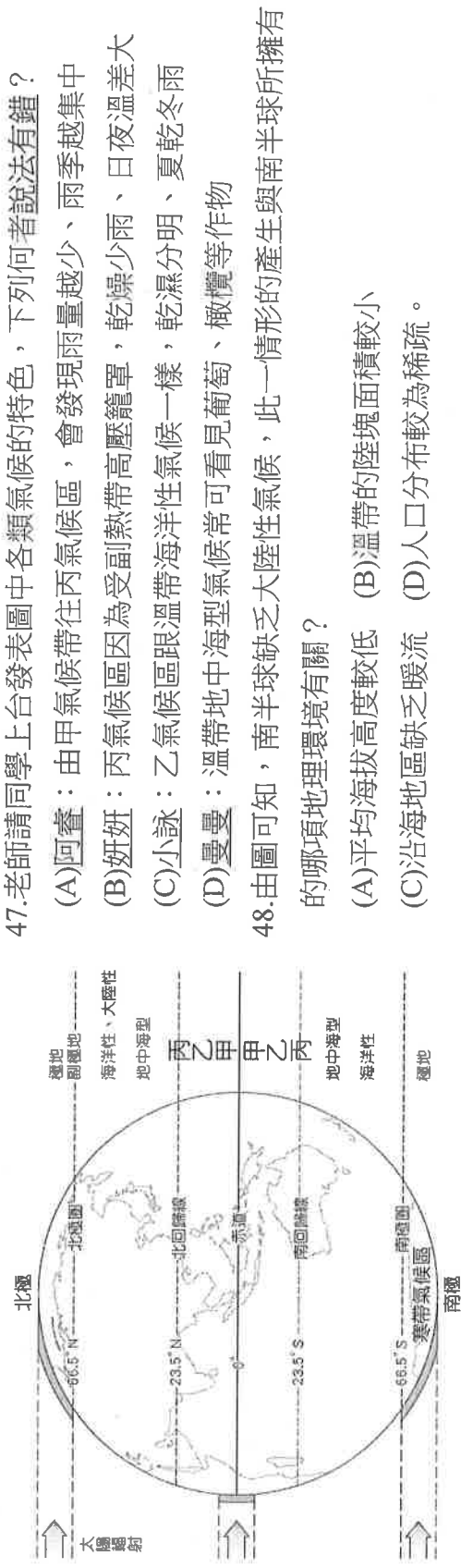
(A)平衡東西部的經濟差距 (B)加強邊境的國防 (C)保存少數民族的文化 (D)擴大領土範圍

45. 近年來全球提倡綠色能源，下列中國西部區域有關再生能源的配對，哪些選項正確？ (甲)拉薩：太陽能發電 (乙)青海湖：潮汐發電 (丙)內蒙古高原：風力發電 (丁)吐魯番窪地：水力發電 (A)甲乙 (B)甲丙 (C)乙丙 (D)丙丁



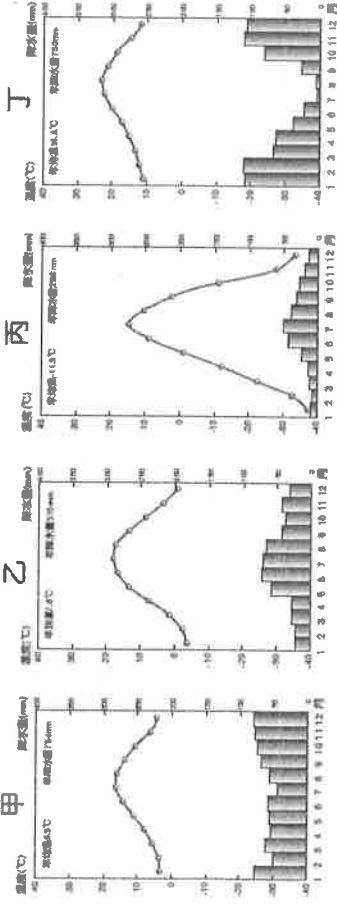
46. 慈慈老師發覺中國西部面積雖然廣、但大都市數量卻相對較少，規模大的都市如甘肅的蘭州、新疆首府烏魯木齊，其興起原因可能和下列何者最相關？ (A)觀光資源豐富 (B)稀土礦藏豐富 (C)位處交通要道 (D)位於中國邊界與鄰國來往密切

*附圖是阿明老師在某次課堂上呈現的圖示。請依據圖中資訊回答下列問題：



49. 若僅依據附圖判斷，下列哪種氣候區的年溫差值可能最大？ (A)雨林氣候 (B)莽原氣候 (C)溫帶海洋性氣候 (D)副極地氣候

50. 依據下列甲到丁四種氣候圖來看，何者最可能是地中海型氣候？ (A)甲 (B)乙 (C)丙 (D)丁。



〔試題到此結束〕

寫完別忘了再檢查一次唷！祝各位同學考試順利◎