

選擇題：1-50 題每題 2 分

1. 下列何者的做法是我們所追求的「公平正義」？ (A)禁止國中生生坐博愛座 (B)台中市政府發放清寒獎助學金 (C)館長捐贈健身器材給國軍 (D)責備阻止插隊買口罩的人。
2. 政府在制定政策或法律時，制定者應先忘掉自己的身分、地位與偏好，站在一個超然與中立的立場來制定政策或法律。這種思維是下列哪一概念？ (A)自由原則 (B)機會均等原則 (C)普遍原則 (D)無知之幕。
3. 承上題，存在的目的為何？ (A)消除性別刻板印象 (B)追求公平正義 (C)增進個人利益 (D)改善社會地位。
4. 《身心障礙者權益保障法》中的「定額進用制度」，規定公私立機關必須依據人數規模僱用特定比例的身心障礙者，確保身障者的就業機會。此屬於下列那一種原則？ (A)自由原則 (B)機會均等原則 (C)差異原則 (D)利他原則。
5. 台中市政府興建社會住宅，由中、低收入戶優先承租，照顧有住屋需求的弱勢民眾。這項政策對於下列哪一方面不公平現象有何改善？ (A)利益分配 (B)責任負擔 (C)貢獻程度 (D)需求滿足。
6. 城城的班上有許多新住民同學，老師請他們分享各自國家的歷史和傳統文化，讓同學對不同的文化能有更多的認識與尊重。請問此有助於改善哪一方面不平等？ (A)利益分配 (B)責任負擔 (C)貢獻程度 (D)需求滿足。
7. 慧星端午節看了一部電影《我和我的冠軍女兒》，內容描述一位父親打破傳統刻板印象，訓練女兒成為角力選手的故事故事。他告訴吉塔：「如果你成功拿到金牌，不只是妳的成功，而是印度女性的成功，因為未來會有無數女孩因為妳的成功而改變她們的人生，她們會知道人生不只是只有一條已被社會指定的路可走。」最終，吉塔成功奪得金牌。請問：慧星對於這部電影的解讀何者正確？ (A)個人的努力可以協助改善自身社會地位 (B)拿到金牌社會地位才能向上流動 (C)努力用功讀書有機會改變社會地位 (D)印度社會存在嚴重的貧富差距。
8. 日本新天皇德仁在2019年5月1日即位，根據1889年訂下的《皇室典範》，皇位僅能由男性繼承。由於新天皇僅育有一女，因此是否需要修法讓女性也能繼承皇位引發民眾討論。請問：對社會公平正義方面，顯現出哪一方面的不公平？ (A)利益分配 (B)責任負擔 (C)貢獻程度 (D)需求滿足。
9. 幸媛在美術館畫展中看到一幅宗教人士發放食物給窮人的畫，若該畫的主題為社會安全，其所呈現的時代最可能為下列何者？(A)17世紀 (B)19世紀 (C)20世紀 (D)21世紀。
10. 基於哪一部法規，人民可自由選擇職業，且有權請求國家保障工作權益？(A)《憲法》 (B)《勞動基準法》 (C)《就業保險法》 (D)《社會救助法》。
11. 目前政府針對弱勢兒童有提供課後輔導的服務，讓弱勢家庭免於後顧之憂。請問：這是政府制定哪一部法律所做的措施？ (A)《社會救助法》 (B)《憲法》 (C)《兒童及少年福利與權益保障法》 (D)《性別教育平等法》。
12. 關於社會安全的觀念與發展，下列何者最正確？ (A)我國《民法》規定國家必須提供人民符合人性尊嚴的生活 (B)科學革命後，社會安全才開始成為國家的制度或政策 (C)社會流動是社會安全思想的基礎 (D)社會安全制度是希望人民可以普遍擁有基本的保障。
13. 我國《憲法》規定對於老弱殘廢，無力生活，及受非常災害者，國家應予以適當之扶助與救濟，制定《社會救助法》由國家編列預算提供救助，使其能夠維持基本生活。請問：下列何者是此法律幫助的對象？ (A)受新冠病毒影響的餐廳 (B)被家暴的外籍新娘 (C)家中遭竊的大雄 (D)因天災流離失所的人民。
14. 以下的措施中，何者是政府建立的社會安全制度？ (A)就業服務中心負責失業給付請領、轉介就業等業務 (B)董氏基金會長期監督《菸害防制法》的修訂 (C)私立育幼院提供家庭失依的兒少替代式的家庭照護環境 (D)伊甸基金會臺中烘焙庇護工場落實身心障礙者職涯發展。
15. 有關「社會安全政策」的意義，下列何人的回答最正確？ (A)社會上所有的人都必須受到同等待遇 (B)讓社會中最弱勢的人得到最多的照顧 (C)人民所有的權利都已經包含在社會安全範疇內 (D)只能讓繳稅的國民享受。
16. 高齡化的社會，照顧年老長期失能的長者可能是未來家家會遇到的問題。根據我國老人福利政策實施現況，下列何者完全正確？ (A)鼓勵失能老人進入職場工作延緩失能 (B)相關政策都規定在《社會救助法》中 (C)可依需求向政府申請日間照顧的服務 (D)政府單位會全面承擔照顧老人的責任。

17. 李伯伯參加「金門戰地三日遊」，參觀了當地著名的「金合力鋼刀廠」，看到老闆示範切割廢棄炮彈的彈殼、鍛造鋼刀等過程。請問：金門會有「金門菜刀」這項名產，主要是因為何場戰爭造成的影響？ (A)國共內戰 (B)八二三炮戰 (C)古寧頭戰役 (D)第二次世界大戰。
18. 隨著環保意識逐漸形成，近年來臺灣常舉辦有關環保議題的抗爭活動，例如反六輕、反核四等社會運動。請問：這些抗爭最早何時出現在臺灣的社會中？ (A) 1960 年代 (B) 1970 年代 (C) 1980 年代 (D) 1990 年代。
19. 有關自中華民國遷臺到現今的國際關係的相關事件：(甲)退出聯合國 (乙)簽訂《臺灣關係法》 (丙)韓戰爆發 (丁)加入 WTO。若按照時間先後排列，下列順序何者正確？ (A)甲乙丙丁 (B)丙甲乙丁 (C)乙丙甲丁 (D)丙乙甲丁。
20. 西元 1960～1970 年代是臺灣經濟起飛的年代，隨著所謂的「臺灣錢淹腳目」，臺灣人民的生活水準日漸提升，但也為臺灣帶來許多負面影響。請問：下列何者並非當時經濟發展所帶來的負面影響？ (A)許多古蹟遭受破壞 (B)國民集會遊行次數增加 (C)生態保育浩劫 (D)工廠汙染河川。
21. 臺灣解嚴後，開始進入尊重多元民主開放的社會，為了保存傳統文化，制定文化政策，重視藝術自由。請問：我國行政編制下設立哪一個部門，處理相關事務？ (A)衛服部 (B)原住民委員會 (C)財政部 (D)文化部。
22. 臺灣某段時間，有些小朋友穿著印有「中美合作」的麵粉袋當內衣褲，也有高中生和大学生開始流行聽西洋歌曲與穿著 T 恤、牛仔褲。這些文化出現與何者最相關？ (A)美軍協防臺灣 (B)美麗島事件 (C)解除戒嚴 (D)退出聯合國。
23. 韓戰時期，美國曾派遣第七艦隊協防臺灣，並在戰後與臺灣簽訂《中美共同防禦條約》，提供軍事、經濟援助。請問：當時美國對臺灣提供協助的目的為何？ (A)美國想擴張領土 (B)協助南韓戰後重建 (C)阻止共產黨勢力擴張 (D)共同防止日本侵略。
24. 王小明與家人到中國旅遊，不幸發生意外，受傷住院，他的家人希望讓他回來臺灣接受治療。請問：他們最好可以找下列哪一個組織協助？ (A)海基會 (B)國臺辦 (C)海協會 (D)陸委會。
25. 「語言」是人類普遍使用的溝通方式，國民政府治臺初期為了便於推行政令，強行要求民眾一律使用什麼語言？ (A)國語 (B)閩南語 (C)日語 (D)客家話。
26. 臺灣的街頭小巷逐漸出現富有東南亞風味的商店與餐廳，主要是因為下列原因造成的特殊現象？ (A)政府推廣東南亞旅客來臺觀光 (B)東南亞動亂多，移民漸多 (C)東南亞文化成為全球時尚主流 (D)外籍配偶與國籍移工的大幅增加。
27. 近年來臺灣在經濟發展部分，面臨勞動力不足、生產成本提高的困境，政府為解決這些難題，大力提倡並推動「南向」政策，按此政策的內容來看，下列何國並不在「南向」的範圍之內？ (A)印尼 (B)菲律賓 (C)越南 (D)南韓。
28. 西元 1970～1980 年代，臺灣勞動成本持續增加，過去勞力密集的優勢已逐漸消失，臺灣產業面臨發展的瓶頸，因此，政府推動「產業升級」政策。請問：下列何者屬於當時的措施？ (A)在新竹建立科學工業園區，發展高科技產業 (B)引進國際移工，填補勞力空缺 (C)提升民生必需品生產，減少對外依賴 (D)廣設加工出口區，吸引外商投資。
29. 西元 1979 年，中共對臺政策改變策略，改為和平統戰原則。請問：當時對岸提出了哪些主張，以吸引臺灣接受統一的要求？ (甲)三通四流 (乙)一國兩制 (丙)完全放棄武力攻臺 (丁)三不政策 (戊)接受臺灣以「中華民國」的名義參加國際組織 (A)甲乙 (B)乙丙戊 (C)甲乙丁 (D)乙丙丁戊。
30. 洪醒夫是臺灣民國六十年代的文學作家，他的著名作品有《黑面慶仔》、《田莊人》等。他的小說以刻畫農村百姓的生活為主，流露出對小人物的關懷與同情。從上述判斷，洪醒夫應是哪種文學的代表作家？ (A)反共文學 (B)鄉土文學 (C)意識流文學 (D)愛國文學。
31. 林阿土家本來是窮苦的佃農，因為戰後政府為了增加農民生產意願，推行何種政策後，使得阿土家現在真正可以擁有自己的田地，每年的收成也越來越多？ (A)三七五減租 (B)加入 WTC (C)耕者有其田 (D)平均地權。
32. 經歷過民國六十年代的外交挫折後，目前我國所採取的外交策略不包括下列何者？ (A)積極參與國際組織與活動 (B)增加與我國免簽證互惠國家 (C)與無邦交國家發展經貿實質關係 (D)積極反共復國、光復大陸。
33. 住在眷村的老兵蔣伯伯，民國七十六年首度回江西老家探視老母，此後每隔三、四年即回大陸探視親友。請問：蔣伯伯能回大陸探親，是因為哪位總統宣布解嚴並且開放大陸探親？ (A)蔣中正 (B)蔣經國 (C)李登輝 (D)馬英九。

〔下頁尚有地理科試題，請繼續作答！〕

【題組 34-35】

※台灣某項交通建設於 2007 年 1 月通車後，對其他運輸工具的營運產生顯著影響。右表為此建設對台北往返四個地點的國內空運航線載客人數統計，其中一條為離島航線，三條為本島西部航線。請根據表中資訊，回答下列問題。請問：

航線	甲	乙	丙	丁
2005	3,403,189	1,161,108	77,127	64,488
2006	2,654,120	1,061,387	42,216	50,570
2007	1,335,717	541,670	3,559	45,829
2008	341,972	107,276	-	57,762
2009	22,784	-	-	69,121

註：- 表示該航線停飛

單位：人

34. 造成國內線空運的顯著衝擊與影響，指的是下列哪一交通建設的通車？

- (A)台灣高速鐵路 (B)桃園機場捷運 (C)北宜高速公路 (D)蘇花公路改善

35. 請問右表何者最有可能是離島航線？(A)甲 (B)乙 (C)丙 (D)丁

【題組 37-39】

※麵包老師計畫於暑假利用安心旅遊補助進行報復性出遊，右列台灣行政區圖的標示點，為她旅遊清單中計畫的地點，請根據圖中代號回答問題。請問：

36. 若麵包老師從台中出發，前往下列四個地點的交通工具選擇與敘述，何者有誤？

- (A)甲地—到基隆港搭台馬輪是費用最低的選擇 (B)丙地—到台中清泉崗機場搭飛機前往速度最快 (C)丁地—開車前往當地旅行的機動性最強 (D)己地—最快的陸運方式是搭環島的高速鐵路

37. 到哪一地點旅遊時，可以挑戰右列的人氣打卡景點賓果遊戲？

- (A)丙 (B)丁 (C)己 (D)庚

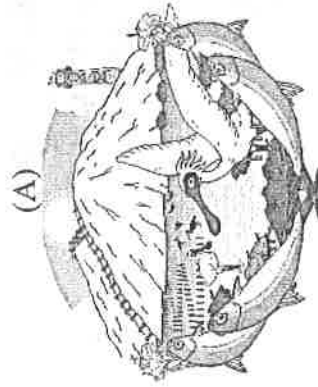
38. 承上題，當地位屬「國土空間發展策略計劃」中的哪個規劃？

- (A)西部創新發展軸 (B)中央山脈保育軸 (C)東部優質生活產業軸 (D)海洋環帶

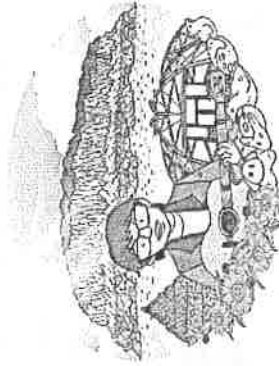
39. 若麵包老師選擇開車環島旅行，請問下列哪一敘述最有可能會是「由戊到己」這段旅程的遊記內容？(A)出發時可見外海基隆嶼的輪廓 (B)道路瀕臨壯闊大西洋讓人心曠神怡 (C)本路段行經台灣最曲折海岸線 (D)多斷崖的公路路段驚險萬分

40. 右列為麵包老師的 App 中旅蛙到了圖中某地所記錄的旅遊照片，根據資訊判斷，請問下列哪一敘述正確無誤？(A)旅蛙到了圖中乙地旅行 (B)此地行政區隸屬高雄縣 (C)該地設有金門國家公園 (D)達悟族文化特色與建築方式為當地特色

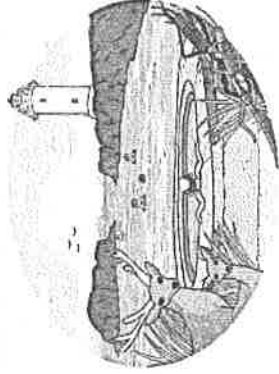
41. 下列插圖為國語日報 2018 年新專欄鄉鎮拼圖，每週會選出一個鄉鎮的特色物產出來，並將其濃縮在一個畫面之中。請問：哪一個鄉鎮拼圖是位於圖中的「王地」？



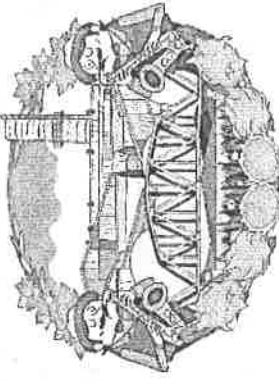
(A)



(B)



(C)



(D)

【鹽山、黑面琵鷺】

【玄武岩柱狀節理】

【朝日溫泉】

【薩克斯風產地】

42. 麵包老師比對圖中地點與地理課本中提及的各地特色景觀，請問下列哪一配對有誤？



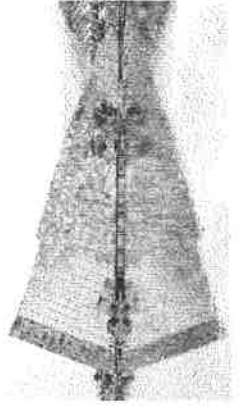
(A)甲地



(B)乙地



(C)丙地



(D)戊地

43. 臺灣在發展過程中，產生許多區域發展不均的現象。下列敘述若為新聞報導中政府所推動的相關措施，期望能縮小區域差異。請問：哪一項描述無法縮小城鄉差距？(A)「近年爆紅的藍眼淚照片打響馬祖名號，當地政府結合戰地文化吸引觀光人潮！」(B)「到金門念大學福利好，補助學費及雜費外，更補助往返臺灣的交通費呢！」(C)「台東人告別搶票的哀愁？花東鐵路除了電氣化，還要雙軌化，提升行車效率與效能！台鐵並表示將採購大量的鐵路車廂，每一班次增加 200 個座位！」(D)「科技部、教育部及外交部台辦獎學金計畫，獎助外國優秀學生來台，增加國際交流，也希望填補臺灣在少子化之下，學生流失的缺口」

(背面尚有試題，請翻面作答!)

【題組 44-45】

※右圖為台灣國家公園的分布圖，請根據代號回答問題。請問：

44. 右列為某座高山型國家公園的標誌，當地高聳峭直著名山脈為原住民所崇拜的聖山，這裡也是台灣國寶魚重要棲地，設立國家公園可維持當地的生物多樣性。請問下列關於此國家公園的敘述何者正確無誤？

- (A)位置為右圖代號丁區 (B)大甲溪上游集水區 (C)屬西部新發展軸 (D)大屯火山群為本區特殊地質景觀

45. 下表為慈慈老師地理實察時所拍攝的照片，請問：這是前住圖中哪一國家公園所在的

地區進行地理實察呢？

- (A)丙 (B)庚 (C)己 (D)壬



【第二天】

傳統聚落、菜宅景觀



【第一天】

奎壁山地質公園



【第三天】

珊瑚礁海域生態



【題組 46-47】

※下列兩則為台灣近期交通建設相關的時事新聞，請根據文中資訊回答問題。請問：

【時事一】

今年端午連假首日，雪山隧道路段創下史上最長壅塞時段紀錄，連續 32 小時處於時速低於 40 公里的壅塞狀態，高公局表示，會造成此次車流量的因素，是因許多用路人都有塞車的預期心理，選擇提早出門，交通部長林佳龍針對此情形亦發言提醒大家「要做聰明的用路人!!」。

【時事二】

歷時 8 年耗資 227.4 億，有「全台最美公路」的台九線新南迴公路截彎取直拓寬工程，於去年年底全線通車。最艱鉅的一段工程「草埔隧道」完工，通車後屏東到台東行車時間將能縮短 30 分鐘，此隧道通車後，將是雪隧、觀音古風、玉長、八卦山隧道之後，台灣第五長隧道。

46. 時事一為下列哪一交通系統所發生的雍塞狀況？ (A) 5 (B) 1 (C) 86 (D) 136

47. 時事二的工程難度主因為此道路穿越下列哪一山脈？ (A)海岸山脈 (B)玉山山脈 (C)雪山山脈 (D)中央山脈

【題組 48-50】

※下列為 1985-1990 年及 2014-2017 年台灣人口遷移路線概況圖，請根據圖中資訊回答問題。請問：

48. 從 1985-1990 年的圖判讀，「乙地」箭頭顯示人口移動的方向可以說明何種概念？

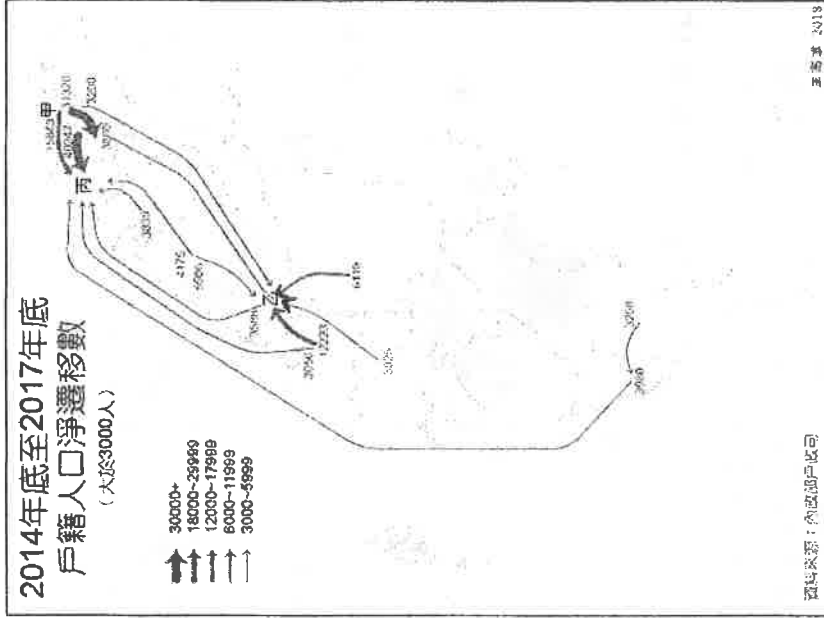
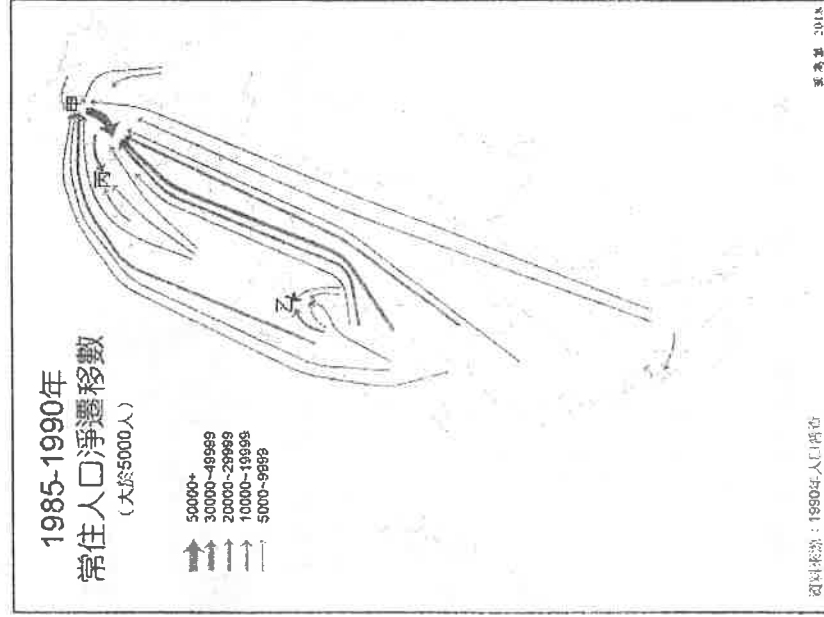
- (A)郊區化 (B)都市化 (C)推力大 (D)自然增加率大

49. 從 2014-2017 年的圖判讀，

下列哪些敘述最不可能為影響「甲地」箭頭流動方向的主因？ (A)房價高不可攀 (B)地層下陷嚴重 (C)市區交通擁塞 (D)捷運路線延伸

50. 根據 2014-2017 年的圖判

斷，以下對「丙地」箭頭顯示的人口移動方向敘述，何者有誤？ (A)丙地為新竹市 (B)交通建設促成 (C)社會福利誘因 (D)房價比首都親民



(試題到此結束，請仔細檢查!!)