

## 台中市三光國中一〇八學年度第二學期第三次定期評量八年級社會科試卷(第一頁)

### 選擇題：1-50 題每題 2 分

1. 紫薇和雲月原為好朋友，但因支持不同的市長候選人而發生衝突，事後雙方當事人經過溝通後，而簽下相互妥協讓步之契約。這是處理衝突的哪種途徑？ (A)調解 (B)和解 (C)訴訟 (D)訴願
2. 調解與和解都是常見的解決糾紛方式，若將兩者相比較，下列敘述可者正確？ (A)和解僅適用於民事案件 (B)調解可以避免費時、耗財 (C)和解僅能在訴訟後提出 (D)調解僅適用於告訴乃論的刑事案件
3. 小玉發現家中遭竊，價值百萬黃金珠寶不翼而飛，隨即報警處理。關於該事件的敘述，何者正確？ (A)向警方報案的小玉為自訴人 (B)該事件應屬於非告訴乃論罪 (C)警方於偵查結束後提起公訴 (D)該案件於起訴後將由仲裁庭處理
4. 在法庭上，我們看到身著不同顏色的法袍，負責不同職務的相關人員，如法官、律師、檢察官等。下列關於這些人員的敘述，何者正確？ (A)法官——判斷是否犯罪及如何實施刑罰 (B)律師——幫助國家追訴犯罪 (C)檢察官——負責幫忙被告辯護 (D)書記官——協助受害者提起訴訟
5. 英國媒體報導，有一名 46 歲女子自從 1986 年第一次做了鼻子整容手術後，竟對整容上了癮，發誓要將自己變成一個現實生活中的真人版「芭比娃娃」。倘若在整容過程中發生意外，導致整型失敗，那麼這名女子可透過哪種方式來獲得救濟？ (A)請願 (B)訴願 (C)訴訟 (D)國賠
6. 施島輝要到戶政事務所申請改名，可是戶政事務所覺得他的名字並未不雅而駁回申請。為了保障自身權利，施島輝依法可以向戶政事務所的上級機關提起哪一種權利救濟？ (A)請願 (B)公訴 (C)告訴 (D)訴願
7. 在我國，關於公訴制度，一種是告訴權人向檢察官提出告訴後，國家的刑罰權才能發動；另一種則是檢察官即可基於本身之職權發動。上述內容說明公訴程序發動方式主要是依據何種標準來區分？ (A)告訴、告發 (B)行政罰、刑罰 (C)刑事案件、保護事件 (D)告訴乃論、非告訴乃論
8. 耀邦老師一大早就陪太太到假日玉市逛逛，突然有三名歹徒在眾目睽睽之下，持槍搶走店家三袋價值二十萬的翡翠、鑽石，嚇得民眾紛紛躲到桌底下，而見義勇為的耀邦老師隨即利用手機報警。上述耀邦老師的行為在《刑事訴訟法》中稱為什麼？ (A)自訴 (B)告訴 (C)告發 (D)自首
9. 老坤積欠老陳新臺幣 5 萬元的債務不還，老陳一氣之下到「刑事法庭」告老坤欠錢不還，沒想到卻被法院駁回，不予處理。法院不受理的原因可能是什麼？ (A)老陳沒有請律師幫忙 (B)欠錢不還應該由「民事法庭」處理 (C)老陳沒有送紅包給法官 (D)訴訟金額太少所以不予處理
10. 依《少年事件處理法》的規定，少年除非犯了哪種刑罰的重罪，否則不用刑罰加以處罰？ (A)最重本刑 3 年以下有期徒刑 (B)最重本刑 5 年以下有期徒刑 (C)最輕本刑 3 年以下有期徒刑 (D)最輕本刑 5 年以上有期徒刑
11. 小銓在放學時看到有機車的鑰匙沒拔，於是順手騎走機車。小哲明知機車是偷來的，仍以低價向小銓購買。關於上文所述，警方最可能依何種罪嫌將兩人送辦？ (A)小銓：竊盜罪；小哲：無罪 (B)小銓：贓物罪；小哲：竊盜罪 (C)小銓：竊盜罪；小哲：贓物罪 (D)小銓：竊盜罪；小哲：竊盜罪
12. 政義今年 17 歲，因為想要購買最新的智慧手機而與同班同學共同犯下強盜殺人罪。根據我國現行法律，法院最可能會如何處理？ (A)對其實施感化教育 (B)直接判處有期徒刑 (C)由法官當面訓誡並要求其寫悔過書 (D)直接交付少年保護官執行保護管束
13. 臺中市警方掃蕩販毒集團，查出 60 多名國高中學生被誘騙染上毒癮後，女生被迫賣淫，男生則進入校園販毒，其中最年輕的只有 14 歲。該案經判決後，販毒學生須接受隔離式學校教育的收容措施，以矯正其犯罪習性。上述判決屬於哪一種性質的處分？ (A)感化教育 (B)保護管束 (C)安置輔導 (D)假日生活輔導
14. 某間高職電腦處理科的學生因一時興起入侵學校成績系統並造成學校雲端資料庫主機毀損，事後遭學校報警抓人此事才爆發。由上可知，他的行為已觸犯《刑法》中的何項罪名？ (A)誹謗罪 (B)公然侮辱罪 (C)妨害風化罪 (D)妨害電腦使用罪
15. 未經查證在網路或利用電子郵件散播如「某知名品牌的化妝品因化學成分過多，經長期使用會導致皮膚受損，有某消費者在使用過後已造成皮膚潰爛」的謠言，可能會觸犯哪種法律及罪名？ (A)《刑法》：公然侮辱罪 (B)《社會秩序維護法》：妨害安寧秩序罪 (C)《民法》：妨害名譽罪 (D)《刑法》：誹謗罪
16. 依法律規定，若少年年滿 15 歲有進修或就業意願者，教育、勞工主管機關應視其性向及志願，輔導其進修、接受職業訓練或就業。上述是依據哪部法律的規定內容？ (A)《刑法》 (B)《勞動基準法》 (C)《兒童及少年福利與權益保障法》 (D)《兒童及少年性剝削防制條例》

背面尚有試題，請翻面作答

17. 中華人民共和國自西元 1949 年建國以來，經歷多位領導人，各有各的特色，也帶給中國不同的發展影響。請問：下列五位中共領導人，按照統治中國時間順序排列，何者正確？ (甲)毛澤東(乙)江澤民 (丙)胡錦濤 (丁)習近平(戊)鄧小平  
(A)甲乙丙丁戊 (B)甲戊丙乙丁 (C)甲戊乙丙丁 (D)戊甲丙乙丁。
18. 由於孫中山採用「聯俄容共」策略，國共展開第一次合作。但中共採取既聯合又鬥爭的策略，利用群眾運動奪權，影響國民政府政權，所以蔣中正實行反共清黨。請問：而當時正值國民政府的哪個時期？ (A)八年抗戰 (B)北伐時期 (C)護法運動 (D)護國軍之役。
19. 中國某位領導人在推動改革開放時，曾說：「不管是黑貓或是白貓，能抓老鼠的便是好貓」、「不論姓『資』(資本主義)、姓『社』(社會主義)，能提高生產力，便加利用。」請問：上述所說的領導人應是何人？ (A)鄧小平 (B)毛澤東 (C)江青 (D)江澤民。
20. 戲劇《流轉的王妃》，劇情敘述一名日本貴族女子，下嫁給日本在中國東北所扶植政權的皇帝之弟一溥傑，在戰亂中顛沛流離的一生。請問：劇中的日本扶植政權最可能是何者？ (A)大清帝國 (B)滿洲國 (C)南京國民政府 (D)中華帝國
21. 八年抗戰期間，國民政府的外交發展相對順利，國際地位也有所提升。請問：下列何項外交成就，是在八年抗戰時期完成？ (A)與英美等國正式廢除不平等條約，簽訂平等新約 (B)與列強達成協議，收回關稅自主權 (C)參加雅爾達會議，東北、臺灣和澎湖在戰後歸還中華民國 (D)簽訂「二十一條要求」，獲得東北權利。
22. (甲)淞滬會戰 (乙)七七事變 (丙)南京大屠殺 (丁)美國投下原子彈 (戊)珍珠港事變。上述有關八年抗戰的事件，請依照時間順序排列？ (A)甲乙丙丁戊 (B)乙丙甲丁戊 (C)丁甲丙戊乙 (D)乙甲丙戊丁。
23. 「廢兩改元」、「發行法幣」是中國現代史的重要里程碑，解決了幣制長期混亂的局面，並且與國際貨幣制度接軌。請問：這項重要改變是中華民國的哪一個階段完成？ (A)北伐時期 (B)十年建設 (C)八年抗戰 (D)國共內戰。
24. 曾有人以「關懷之殷，情同骨肉；政見之爭，宛若仇讎」形容蔣中正與張學良的關係。請問：影響他們兩人從「情同骨肉」到「宛若仇讎」的關鍵事件為何？ (A)九一八事變 (B)滿洲國建立 (C)一二八事變 (D)盧溝橋事變。
25. 東漢明帝時，中國建立了第一座佛寺——白馬寺，白馬寺在中國宗教發展中占有重要地位。然而，在中國某段時間，白馬寺也難逃被損毀的惡運。請問：白馬寺最有可能在下列哪個行動中遭受嚴重損毀？ (A)大躍進 (B)五四運動 (C)文化大革命 (D)六四天門事件。
26. 《中國人民志願軍戰歌》的歌詞如下：「雄赳赳，氣昂昂，跨過鴨綠江。保和平，衛祖國，就是保家鄉。中國好兒女，齊心團結緊。抗美援朝，打敗美國野心狼！」請問：關於此歌描述的時代背景，下列敘述何者正確？ (A)為國共內戰時期 (B)中共與美國同一陣營 (C)中共協助北韓攻打南韓 (D)戰後朝鮮半島歸於統一。
27. 中華民國建國初期，軍閥割據，造成國家治理的困境，這種狀況終於在北伐後得到改善。請問：北伐是在何人率領軍隊歸順中央之後宣告成功，中國也因此統一？ (A)張學良 (B)吳佩孚 (C)張勳 (D)張作霖。
28. 在中華民國「黃金十年」時期，當時政府的政策是「先安內後攘外」，因此展開多次「剿共」行動。直到民國 22 年的第五次剿共較有成效，使得中共被迫離開原本的根據地，開始「二萬五千里長征」，最終中共抵達何地，結束長征？ (A)江西瑞金 (B)四川重慶 (C)東北瀋陽 (D)陝西延安。
29. 中國人權人士魏京生，在他的自傳中寫到：「五九、六〇年的共產風，使得豐收的稻子沒有人收割，因為農民們都餓得動不了，眼看著稻子被風吹到田裡而餓死的，就有不少人。」造成上述現象，是由於中共實行什麼政策的結果？ (A)改革開放 (B)抗美援朝 (C)人民公社 (D)破舊立新。
30. 日本自明治維新後，積極對外擴張，尤其對中國的侵略不曾間斷。下列是日本所用的理由與其所發動的侵略行動，何者正確？ (A)瀋陽郊外鐵路炸毀——一二八事變 (B)協助滿清重新建國——五三慘案 (C)殘殺濟南城居民——九一八事變 (D)演習士兵失蹤——七七事變。
31. 西元 1960 年代，毛澤東號召青年學生組成紅衛兵，以何為口號，協助他重新掌握政權？ (A)中國人不打中國人 (B)革命無罪，造反有理 (C)外爭主權，內除國賊 (D)中國人民站起來。
32. 在大躍進時期，中共政府迷信「人定勝天」，相信只要全民配合，就可在短時間內完成極高的產值。因此中共在下列哪兩個行業中提出了好高騖遠的目標？ (A)農業、工業 (B)商業、農業 (C)國防、科技 (D)工業、礦業。
33. 關於國共內戰的發展，國民黨一開始居於上風，但後來許多事件協助了共產黨的勢力擴張，最終中共統治中國。請問：下列何者並非影響中共擴張的因素？ (A)蘇聯協助取得東北、武器 (B)中共抗戰時趁機擴充勢力 (C)抗戰後，通貨膨脹嚴重 (D)美國馬歇爾調停成功。

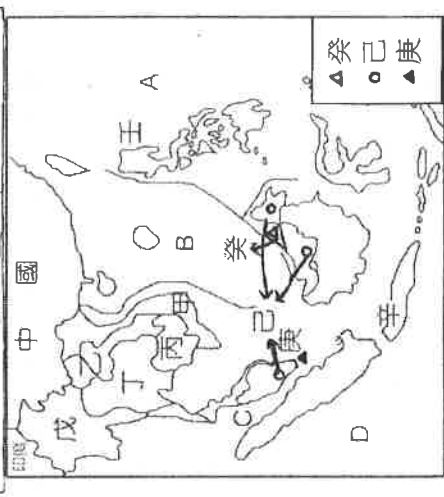
〔下頁尚有地理科試題，請繼續作答！〕

34.由於中國在湄公河上游興建水壩，使得仰賴此河為生的六千萬人口、生態與漁獲大受影響(如右圖)。請問：湄公河的上游位於中國境內哪個地理區？(A)橫斷山脈 (B)河西走廊 (C)嶺南丘陵 (D)東南丘陵



35.米是日本人的主食，非常愛吃米的日本人、除了將米與水一同煮成白米飯之外，還用米製作了酒、味噌、醃、年糕等食品，享受著米所帶來的美味。相較之下，中國華北米食並不盛行，多以麵食為主。請問，造成兩地飲食文化差異的主要原因為何？(A)距海遠近 (B)緯度高低 (C)季風有無 (D)地形差異

36.古代軍服常用醒目顏色，使軍容鮮明易識別、且用紅色的較多（可掩蓋血跡，減少本方士兵因此而生的恐慌），但鮮豔顏色在環境中格外容易暴露，因而漸發展出依所處背景的植被、土壤狀態而設計的軍裝，如山地型、海洋型、城鎮型…等各軍用迷彩服，希望快速融入環境，以達隱蔽、不被發現的訴求。例如：雪地就適合灰白系的雪地形迷彩服、叢林就該搭配深綠系的林地型迷彩服；以此角度看，阿兵哥到亞洲哪區作戰最適合卡其色系的沙漠型迷彩服？(A)北亞 (B)西亞 (C)東北亞 (D)東南亞



37.【全球穆斯林指數】是從世界各地共 130 個旅遊目的地，針對交通、通訊、環境與服

務進行評比，並在伊斯蘭國家與非伊斯蘭國家分別選出十大適合穆斯林旅遊的國家；台灣 2015 年首次進入非伊斯蘭國家的前十名，2019 年更晉升到第三名，與英國、日本並列，可見台灣在友善穆斯林環境上的進步；參考右上圖代號，下列哪個選項的國家因此來台觀光的意思願會升高？(A)甲乙丁 (B)丙戊壬 (C)戊己庚 (D)己辛癸



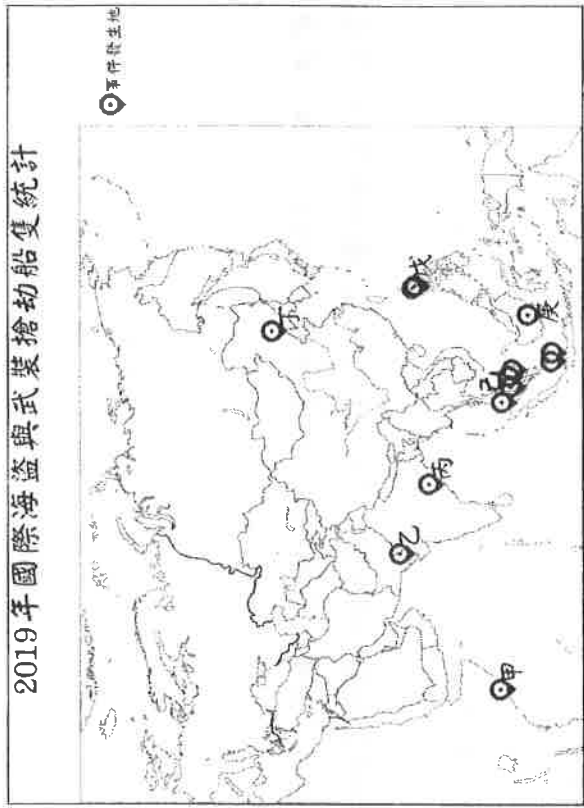
38.日本車向來因其可靠與省油特性在全球佔一席之地，世界十大汽車品牌就有三家是日本企業；右圖是日本主要汽車製造廠的分布簡圖，由圖可發現車廠多設於太平洋沿岸濱海處，其考量的區位條件與下列何者最相似？(A) 高雄的煉油廠 (B)北京的中關村 (C)內蒙古的風電廠 (D)花蓮的和平工業區

39.北韓是個極權國家，許多人不惜逃離北韓，成為所謂的「脫北者」。南韓的經濟發展與社會文化通常是脫北者所嚮往，比較

南北韓的差異，下列表格何者錯誤？

	南韓	北韓
(A)政體	民主政治	共產獨裁
(B)經濟	工業佳、高科技發達	重國防，輕民生
(C)農業	一年一穫	一年二穫
(D)首都	首爾	平壤

40.右圖是 2019 年國際海盜與武裝搶劫船隻統計，由圖可發現



己地是海盜頻繁出沒地點，導致圖中事件發生最密集的原因下列何者最符合?(A)為熱帶季風季候，便於船隻順風航行 (B)為港埠型都市，便於輸出農礦原料 (C)為半島地形，地處兩大洋交通捷徑 (D)位火環帶，多破碎島嶼火山地震。

41.這個國家位於火環帶的熱帶地區，飽受地震及颱風侵襲；因經濟蕭條，每年大約有 100 萬人到海外工作；80%的人口信奉天主教，與教廷是全世界唯二不允許合法離婚的國家。下列關於該國的相關敘述，何者正確?(A)實施種姓制度，階級分明

(B)屬於全年有雨的熱帶雨林氣候 (C)因殖民背景，英語普及 (D)天主教信仰是因過去阿拉伯人航海經商傳入

42. 春天至夏天這段期間亞洲東半部特別多雨，其降雨成因是陸地寒冷氣團與太平洋溫暖氣團相遇、大氣狀態不穩定，導致氣團停滯徘徊上空，使同一地區持續降雨，稱為梅雨。右表是日本推估各地進梅雨季的時間，造成日本各地梅雨季時間差異的主要因素是什麼？

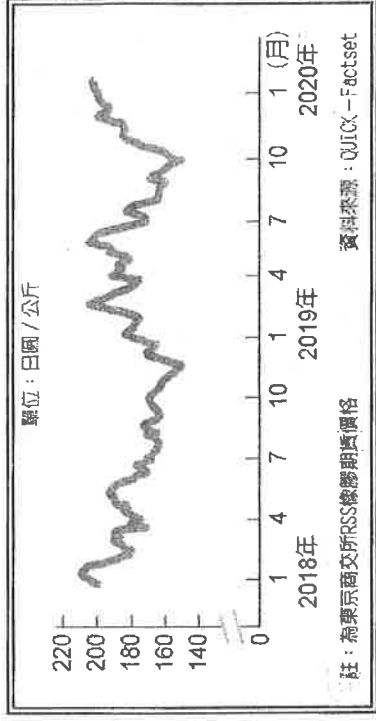
(A)國土南北狹長 (B)冬夏風向不同

(C)島國四周環海 (D)親潮、黑潮交會

地區	梅雨開始日期	
	2020年	2019年 平年
沖繩地方	5月11日頃	5月16日頃
奄美地方	5月10日頃	5月14日頃
九州南部	5月30日頃	5月31日頃
九州北部地方 (山口縣を含む)	6月11日頃	6月26日頃
四国地方	5月31日頃	6月5日頃
中国地方	6月10日頃	6月26日頃
近畿地方	6月10日頃	6月27日頃
東海地方	6月10日頃	6月7日頃
關東甲信地方	6月11日頃	6月7日頃
北陸地方	6月11日頃	6月7日頃
東北南部	6月11日頃	6月7日頃
東北北部	6月11日頃	6月12日頃
東北地方	6月11日頃	6月12日頃
東北北部	6月11日頃	6月14日頃



★天然橡膠具有很好的回彈性、鋇鏈性、耐水跟可塑性，在適當加工後又具有耐泡、耐酸耐鹼、耐熱耐寒的特性，因此有很廣泛的應用，尤其是交通運輸的各式輪胎、醫療或工業用手套...等，都會用到天然橡膠。下圖是近年來國際橡膠期貨價格的走勢圖，請問：



43. 依據價格變化的情形判斷，下列哪個國家的經濟發展受到的牽連會最

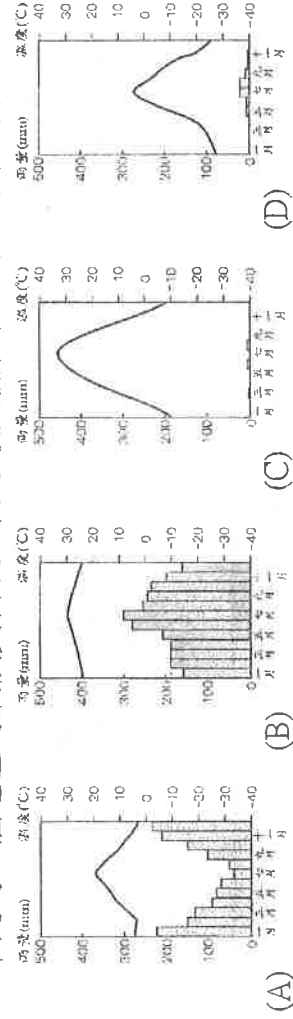
直接？(A)尼泊爾 (B)巴基斯坦 (C)馬來西亞 (D)韓國

44. 關於橡膠在該國的種植型態或特色說明，下列何者正確？ (A)大量生

產單一作物，市場風險性較低 (B)為了將成品或半成品輸出，長期發展下來易形成港埠型都市 (C)以機械化模式來生產，

可削減人力成本 (D)適合在溼冷的氣候種植，殖民時期由殖民母國發展

45. 下列為四個地區的氣候資料表，何地最具備種植橡膠的氣候條件？



★隨著時代變遷，臺灣民眾喜歡在新的一年就飛出國，到國外歡度新年。右

圖是旅遊搜尋引擎業者發布的統計分析表，請問：

46. 觀察此圖可知，台灣民眾出國地點，多選擇亞洲何區？

(A)北亞 (B)南亞 (C)東南亞 (D)東北亞

47. 若農曆新年到圖中何地區旅遊，不僅需帶防曬品避免日曬外，還需帶雨具，

以防午後常見的雷陣雨呢？(A)曼谷 (B)首爾 (C)新加坡 (D)名古屋

★附圖為各大洲分布圖，請回答 48-49 題：

48. 關於各大洲的描述，何者敘述完全正確？ (A)甲——人口分布最

平均的洲，工商業發達 (B)丙——人口總數最多的一洲

(C)丁——西側的安地斯山脈縱貫整個洲

(D)戊——東北的亞馬孫盆地擁有全世界最大的沙漠。

49. 陸半球及水半球的中心分別位於哪個洲？

(A)丁、戊 (B)甲、己 (C)丙、乙 (D)甲、戊

★東京奧運 (Tokyo 2020) 原計劃於 2020/7/24 至 8/9 舉行，但受新冠肺炎 (Covid-19) 影響，國際奧林匹克委員會於 3/24 與日

本討論後決定延期比賽 (2021/7/23~8/8)，並保留「東京 2020」的名稱，而本屆賽事為史上首屆延期舉行的奧運會。請問：

50. 在 2016 年 8 月 21 日里約(Rio)奧運的交接儀式上，日本首相安倍晉三化身為世界最知名的遊戲角色：瑪利歐(Mario)，透過

多啦 A 夢百寶袋中抽出的水管，從日本涉谷(139°E, 35°N)瞬間抵達巴西

里約(43°W, 22°S)的現場(如圖)。日本透過獨特的遊戲與動漫方式讓全世

界感到驚艷。影片中安倍擔心來不及趕到里約現場，是因為兩地所在

時區有所不同，請問兩地相差時間為多少？(A)4 小時 (B)6 小時 (C)12

小時 (D)14 小時

51. 為了因應 2020 年奧運所需的體育館場地，位於東京灣中央防波堤內側

的填海造陸島“海之森”被選定為馬術、皮艇、帆船、自行車等項目

的會場。除了“海之森”，東京灣的填海造地更是連續不斷，甚至連

東京主要的中央區、港區、品川區等都有不少地帶是填海造成的。請

問日本熱衷於填海造地的主要原因為何？(A)地震災害頻繁 (B)人口

密度偏高 (C)人口高齡化加劇 (D)擴展經濟海域

52. 各國運動員若想在賽事的空檔安排在地旅遊、感受日本，下列哪個觀光行程「不」在日本呢？(A)超值關東雙樂園和蟹宴吃

到飽 (B)可愛熊本熊陪你巡遊九州溫泉 (C)沖繩文化王國村欣賞傳統大鼓秀 (D)獅城夜間動物園朝聖超萌馬來獼

第 4 頁 (試題結束，寫完別忘了多檢查幾次唷！預祝考試順利☺)

(第 46~49 題每題 1 分；其餘每題 2 分)

