

## 台中市三光國中一〇八學年度第二學期第二次定期評量九年級社會科試卷(第一頁)

### 選擇題：1-50 題每題 2 分

- 國際組織中，依組織成員的性質可分為政府與非政府的國際組織。相較於「政府的國際組織」，非政府的國際組織較能自主從事國際活動的原因為何？ (A) 其成員全部由主權國家組成 (B) 在國際事務上具有較大的影響力 (C) 較不受各國政治立場之拘束 (D) 其會員人數眾多，遍及世界各地。
- 在全球化來臨的時代，許多國家為了保護自己的利益，紛紛展開區域合作。區域合作最具成效的就是成立區域性國際組織，以下哪一個國際組織屬於區域性？ (A) 世界衛生組織 (B) 聯合國 (C) 國際特赦組織 (D) 東南亞國家協會。
- 國際特赦組織創立於西元 1961 年，主要的工作為：「預防及終止肆意侵犯身體以至精神方面的健全、表達良心的自由，以及免受歧視的自由。」根據上述判斷，國際特赦組織所關注的議題為下列何者？ (A) 生態環境 (B) 基本人權 (C) 貧富差距 (D) 種族紛爭。
- 「法藍瓷」是臺灣自創的陶瓷設計品牌，曾在法國巴黎展出，並以「福海騰達」系列作品得到了大獎，獲得法國藝術界的高度肯定。請問：「法藍瓷」成功的達成下列哪一項國際互動？ (A) 國際合作 (B) 國際衝突 (C) 國際救援 (D) 國際交流。
- 日前某媒體指出：「桃園大溪介壽路路面凹凸不平，不到 500 公尺路面竟遍布近 190 個填補坑洞和人孔蓋，造成許多機車騎士摔倒受傷，主管機關應立即出面解決。」以上內容最能突顯傳播媒體所扮演的哪項功能？ (A) 休閒娛樂 (B) 教育文化 (C) 監督政府 (D) 提供訊息。
- 為避免西方國家咖啡商的剝削，全球各地出現「公平咖啡」的市場，協助第三世界國家的咖啡農以較高價格賣出咖啡豆，持續改善該國家人民的生活環境。上述做法最有助於改善哪種跨國問題？ (A) 貧富差距 (B) 疾病傳播 (C) 國際犯罪 (D) 環境生態。
- 清代畫師郎世寧是義大利人，原名 Giuseppe Castiglione，在中國宮廷當畫師的期間繪製了許多膾炙人口的作品，其中又以「八駿圖」為最。郎世寧筆法揉合了西式的寫實與中國的水墨風格，後人評價極高。郎世寧是做到了下列何者？ (A) 認識和發揚傳統文化 (B) 排斥不同文化的交流 (C) 融合文化並加以創新 (D) 對抗強勢文化的行銷
- 以色列與巴勒斯坦長期因為宗教與領土的爭議形成對立的局面，甚至發生戰爭。以、巴間的糾紛屬於國際社會中的哪種互動方式？ (A) 國際交流 (B) 國際合作 (C) 國際援助 (D) 國際衝突。
- 「水能載舟，亦能覆舟」，科技的運用亦是如此，既能促進社會發展，卻也可能造成社會問題，其結果完全取決於使用者。由此可見科技的運用，更應該注意下列何者的提升？ (A) 自我調適 (B) 倫理價值 (C) 生產技術 (D) 公平正義
- 某知名電視購物頻道，傳出有不肖員工將客戶的基本資料外賣給有心人士，引起社會關注與會員恐慌。購物臺員工洩漏個人基本資料給他人，已觸犯我國何種法律的規定？ (A) 《公平交易法》 (B) 《社會秩序維護法》 (C) 《刑法》 (D) 《個人資料保護法》
- 京都大學 iPS 細胞研究所山下潤教授近日發表應用人體 iPS 細胞製造心肌和血管細胞「心臟組織細胞膜」(sheet)，並成功的改善呈現心肌梗塞狀態的實驗鼠的心臟功能。若研究持續進展，可望治療嚴重心臟病。上述的研究成果，屬於何種科技的醫學應用？ (A) 生物科技 (B) 資訊科技 (C) 能源科技 (D) 國防科技
- 發生在臺灣的第一銀行盜領案是國際跨境犯罪集團所為，我國警方迅速破案並追回贓款，而兩名俄羅斯男子已潛逃出境，我國警方透過國際刑警組織傳真給俄羅斯有關單位，請俄國協助拘提。上述屬於何種國際互動的型態？ (A) 國際交流 (B) 國際合作 (C) 國際援助 (D) 國際衝突
- 「國際反地雷組織」致力推動《渥太華條約》禁止地雷，但部分「歐洲聯盟」會員國卻不願簽字，也不願遵守，以致歐洲仍有三千人因觸及地雷死亡或傷殘。上述兩個國際組織依序具有哪種性質？ (A) 皆為政府 (B) 政府、非政府 (C) 皆為非政府 (D) 非政府、政府
- 政府宣導民眾購買辦公室的影印機、事務機等產品，要選擇得「能源之星」標章產品，除可節省電力的使用，並可減少二氧化碳的排放，達到什麼目的？ (A) 減緩溫室效應 (B) 減少生產成本 (C) 避免疾病蔓延 (D) 解決貿易糾紛
- 根據報導，變種的禽流感病毒將提高人類互相傳染的可能，因此相關組織已著手進行研究。該組織最有可能是下列何者？ (A) 亞太經濟合作會議 (B) 紅十字國際委員會 (C) 世界衛生組織 (D) 國際特赦組織
- 數十年來，瑞典的福利國制度一直是許多歐洲左翼國家的社會民主制度模範，不過新任的瑞典總理所領導的政府上臺後，卻宣布將廢止財產稅和具象徵性的富人稅，推動一連串經濟自由化改革。瑞典原有的福利國制度有助於解決全球關聯所面臨的何項議題？ (A) 環境生態 (B) 貧富差距 (C) 疾病傳播 (D) 國際犯罪

背面尚有試題，請翻面作答

17. 「美國為了防堵共產黨勢力在東南亞的發展，派兵幫助該國打擊共產黨勢力。但在當地的游擊戰中卻重創了美軍，造成美國長期的人力、物力耗損，引發國內的反戰聲浪，終於使得美國退出該場戰爭。該國在兩年後遭到共黨赤化。」請問：上述的是哪一場戰爭？ (A)以阿衝突 (B)韓戰 (C)以阿戰爭 (D)越戰。
18. 興達在寫歷史課堂重點時，不慎將幾個事件的順序搞亂了，其事件排列如下：(甲)經濟大恐慌(乙)雅爾達會議(丙)韓戰(丁)柏林危機。請問：正確的順序應為何？ (A)甲乙丁丙 (B)丁丙乙甲 (C)丙甲乙丁 (D)甲乙丙丁。
19. 西元 1919 年在首爾有 33 名獨立運動參與者，發表了「獨立宣言」，群眾高呼「獨立萬歲」的口號，並舉辦示威遊行，之後運動遍布全朝鮮半島，日本政府採取血腥鎮壓，行動最後以失敗收場。請問：這應是下列哪個事件？ (A)三一運動 (B)五四運動 (C)五三慘案 (D)六四天安門事件。
20. 蘇聯為世界上第一個以共產主義建立的國家，但如今已成歷史名詞，創建蘇聯的共產黨何時開始執政？ (A) 1830 年七月革命 (B) 1848 年二月革命 (C) 1917 年二月革命 (D) 1917 年十月革命。
21. 浩貴參加歐洲旅行團，參觀了「柏林圍牆」，圍牆上標示了：1961-1989。請問：此遺跡代表著下列何種歷史記憶？ (A)冷戰時期 (B)蘇聯瓦解 (C)不合作運動 (D)法國大革命。
22. 在經濟大恐慌後，使得美國的工商業幾近停頓，失業率飆升、社會問題叢生。直到哪一位總統就職後，實施一連串的「新政」措施，才逐漸改善美國的經濟困境？ (A)川普 (B)羅斯福 (C)威爾遜 (D)門羅。
23. 下列有關「國際聯盟」和「聯合國」的比較，何者正確？ (A)國際聯盟因為在冷戰時期無法維護世界和平，戰後由聯合國取代 (B)總部皆設於瑞士日內瓦 (C)國際聯盟無法以武力制裁侵略國，但聯合國可組織聯合國部隊維護世界和平 (D)美國皆有參加，並在組織中具有重要地位。
24. 祐偉在書局看到《安妮日記》一書，書中主角是一位十五歲住在荷蘭的猶太裔少女安妮，她寫著：「我就像一隻斷翅的小鳥，在黑暗中起飛，卻難免會撞上囚禁自己的籠子……。」顯示她生命受到威脅而失去自由，也顯示了當時猶太人的艱難苦境。安妮應該活在哪個時代？ (A)第一次世界大戰 (B)戰間期 (C)第二次世界大戰 (D)冷戰時期。
25. 第二次世界大戰的規模遠勝過第一次世界大戰，幾乎世界各地均受到波及，人類再度遭受空前的浩劫。下列史實中，是哪一項因素助長了第二次世界大戰的戰火？ (A)巴爾幹半島紛爭不斷，列強加入干預 (B)英法採用姑息主義，避免大戰發生 (C)核子武器研發成功，各國軍備競賽 (D)猶太人重新在巴勒斯坦建國，引發以阿衝突。
26. 何人被譽為是土耳其共和國的國父，提倡政教分離、婦女權利，成功帶領土耳其現代化及宗教改革？ (A)凱末爾 (B)甘地 (C)戈巴契夫 (D)史達林。
27. 西元 1944 年 6 月 6 日，法國諾曼第地區發生二次大戰中相當重要的一場戰役，被稱為「D-DAY」。請問該場戰役代表何種意義？ (A)二次大戰歐洲戰場開始 (B)歐亞戰場自此合流 (C)迫使義大利投降 (D)開闢第二戰場。
28. 一位政治領導人提到：「我將領導法西斯政權一同打擊共產黨的勢力，並且帶領大家恢復古羅馬的光榮，奠定國家對外發展的基礎。」請問：這位政治領導人應該是何人？ (A)俾斯麥 (B)希特勒 (C)史達林 (D)墨索里尼。
29. 右圖是某時期蘇聯部署飛彈的射程範圍圖，從中可以看到蘇聯飛彈的射程幾乎涵蓋了美國本土的大部分地區。請問：這項軍事部署引發了哪起衝突爭端？ (A)第二次世界大戰 (B)越戰 (C)古巴危機 (D)柏林危機。
30. 所謂「時勢造英雄」是指特定的歷史條件下，例如：社會動盪，使人的聰明才智顯露出來，並相互作用，使之成為重要人物。而 20 世紀時希特勒的崛起，也與當時德國局勢息息相關。請問：下列哪些是狀況助長了希特勒取得政權？ (甲)戰敗和約的屈辱(乙)掌握軍隊發動政變(丙)經濟通貨膨脹(丁)共產黨造成社會動亂 (A)甲乙丙 (B)甲丙丁 (C)乙丙丁 (D)甲丙丁。
31. 第二次世界大戰後，美國與數個歐洲國家簽訂協議，締約國家間實行「集體防禦」，以防堵共產黨勢力的入侵，必要時可使用武力來保護各個締約國。請問：這是指下列哪一個組織？ (A)華沙公約組織 (B)聯合國 (C)國際聯盟 (D)北大西洋公約組織。
32. 第二次世界大戰是史上最大規模的戰役，而且戰場還分為歐洲、亞洲兩大部份。請問：二戰的歐洲戰場是以何事為開端？ (A)盧溝橋事變 (B)德國佔領捷克 (C)珍珠港事變 (D)德國進攻波蘭。
33. 聯合國設有安全理事會，由五個「常任理事國」與十個「非常任理事國」組成，「常任理事國」對於重大議案具有否決權。請問：下列哪個國家是聯合國安理會的「常任理事國」？ (A)英國 (B)德國 (C)義大利 (D)日本。

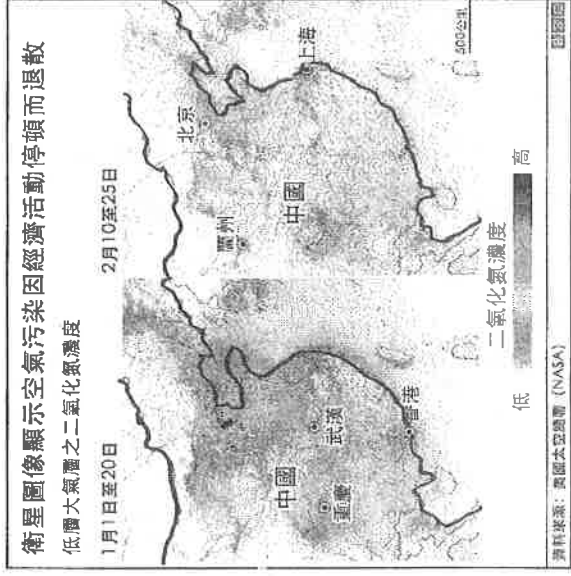
(下頁尚有地理科試題，請繼續作答！)



【題組 34-36】

※右圖為 2020 年爆發新冠肺炎前後，這段時間的中國二氧化碳濃度變化圖(二氧化碳是來自於高溫燃燒過程產生的廢氣，有毒具刺激性)，圖中顏色越深代表二氧化碳濃度越高。請問：

34. 關於這段期間疫情對中國造成的變化，下列哪一敘述「最不可能」是事實？  
 (A)溫室效應減緩，使喜馬拉雅山雪線上升 (B)在這期間減少使用石化燃料  
 (C)北京發生酸雨的頻率降低 (D)中國第二級產業 GDP 成長率趨緩
35. 根據 2020 年一月的資料顯示，當時中國哪個地區的二氧化碳濃度較高？原因為何？  
 (A)北部地區，重工業較發達 (B)北部地區，飼養過多牛羊 (C)南部地區，設立經濟特區 (D)南部地區，三峽大壩工程
36. 新冠肺炎疫情擴散至全球後，下列哪一地區疫情爆發前後的二氧化碳濃度變化，最有可能跟中國有類似的現象？  
 (A)西伯利亞地區 (B)北美五大湖區 (C)亞馬孫盆地 (D)東非大裂谷



【題組 37-39】

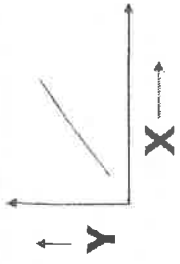
※2018 年的報告指出，世界每人每日平均上網時間為 6 小時 42 分鐘。平均上網時數最高的前五名是菲律賓、巴西、泰國、哥倫比亞和印尼。台灣人的每日平均上網時數為 7 小時 49 分鐘，屬於上網時數長的前段班。上網時數低於全球平均的國家，有美國、中國和日本(3 小時 45 分)等國。請問：

前段班					後段班				
菲律賓	巴西	泰國	哥倫比亞	印尼	美國	中國	英國	法國	德國
10:02	09:29	09:11	09:00	08:36	06:31	05:52	05:46	04:38	04:37

37. 上網時數前五名的國家，地理環境上有什麼共同點？  
 (A)位於亞洲 (B)信奉佛教 (C)說葡萄牙語 (D)地處低緯

38. 人類上網時數的增加，有一部分是因為許多服務，透過手機 app 在網路上便唾手可得，例如：uber、foodpanda、網路銀行等。請問，這種改變，屬於下列何種概念？  
 (A)人口成長 (B)國際分工 (C)交通革新 (D)工業區位


39. 若右圖的「X 軸是上網時間」，請比較前段班及後段班的國家，請問：「Y 軸」最有可能為何？  
 (A)海外工作人數 (B)人口老化指數 (C)經濟發展程度 (D)國家土地面積



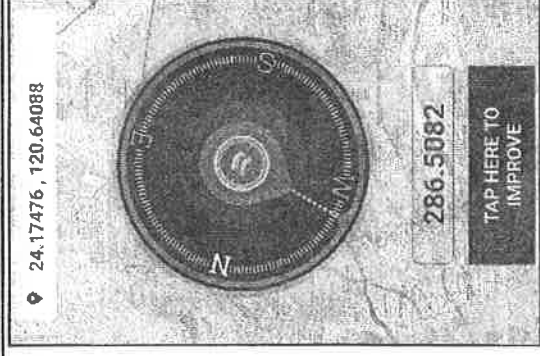
【題組 40-43】

※朝覲是伊斯蘭教的五功之一，所有身體許可的穆斯林一生至少要去聖地朝聖一次。隨著科技的進步，朝覲活動主辦國近年推出「聰明朝覲」(smart hajj)應用程式(App)，協助朝聖者從規畫朝覲行程到醫療照護等各項活動，另外，也引入「膠囊休息艙」，讓信徒朝覲更便利(如右圖所示)。請問：

40. 根據上文及圖片內容，下列哪一個敘述正確無誤？  
 (A)上文指的聖地為耶路撒冷 (B)主辦國為沙烏地阿拉伯  
 (C)此 App 下載者多來自印度 (D)朝聖路途多為崎嶇山地
41. 宗教活動亦受到這次新冠肺炎疫情的影響，伊斯蘭聖地的大清真寺宣布暫停朝聖的新聞，最有可能在下列哪個區域被視為全國性的消息？  
 (A)東北亞 (B)北非 (C)南亞 (D)北美

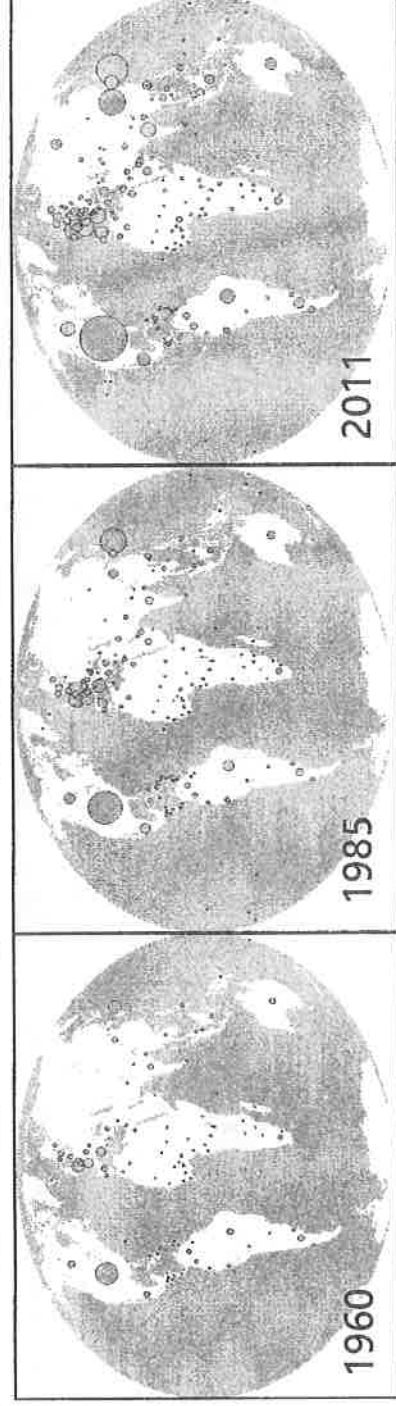


42. 除了「聰明朝覲」(smart hajj)的應用程式(App)外，穆斯林也常下載「可了解所在的地點，與聖地之間的相對方位」的 APP 來使用。若穆斯林-薩諾斯的手機使用的截圖如右，請問薩諾斯最有可能在哪一個國家旅行？  
 (A)台灣 (B)埃及 (C)瑞士 (D)巴西
43. 伊斯蘭教的重要節日「齋戒月」時，穆斯林白天時都不能吃東西，也不能喝水，要等到太陽下山才能進食。白天禁止飲食，等晚上再飽餐一頓，乍聽之下並不是無法忍受。但薩諾斯若於齋戒月到某個國家旅行時，透過 APP 才知道他只有三小時可以進食。請問：那他最有可能到了下列哪個國家旅行？  
 (A)印尼 (B)南非 (C)冰島 (D)秘魯



【題組 44-46】

※下圖顯示世界各國 GDP(國民生產毛額)三個時間點的演進，圈圈大小即代表 GDP 的多寡。請問：



44. 此圖所提供的資訊可推斷下列哪一現象？(A)GDP 演進與人口成長相符 (B)非洲國家成長幅度最大 (C)國與國間貧富差距拉大 (D)中國是目前 GDP 最高的國家
45. 由圖可知經濟發展的重心、世界三大經濟版圖位於哪些區域？(A)歐洲、亞洲、北美洲 (B)歐洲、亞洲、大洋洲 (C)歐洲、非洲、亞洲 (D)非洲、中南美洲、歐洲
46. GDP 成長幅度較大的國家主因為在國際貿易過程中，其所提供的是能夠創造更大利潤的○○、□□，因此成長幅度顯著。請問：○○、□□指的是？(A)資金、勞力 (B)技術、勞力 (C)勞力、原料 (D)原料、技術

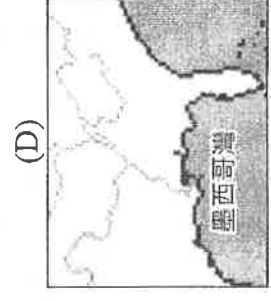
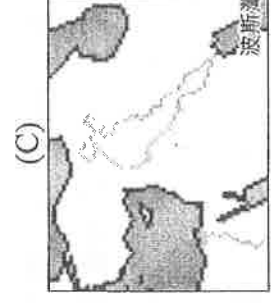
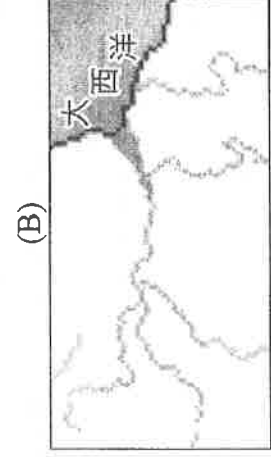
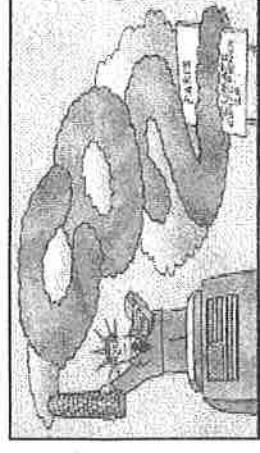
【題組 47-50】

※2015 年底，聯合國氣候變化綱架公約締約國的代表，於巴黎舉辦的氣候峰會中一致同意通過《巴黎協議》，此協議主要探討 2020 年以後的國際氣候議題(如右列示意圖所示)，並以許多措施讓富國、窮國分別都有該遵守的標準與義務，此外，協議中也要求富國提供較窮國家一定的「氣候資金」，讓他們可以面對氣候變遷的衝擊，並發展再生能源，但川普總統認為《巴黎協議》成為美國經濟發展的阻礙，於 2017 年中宣布美國將退出並停止履行的內容！請問：

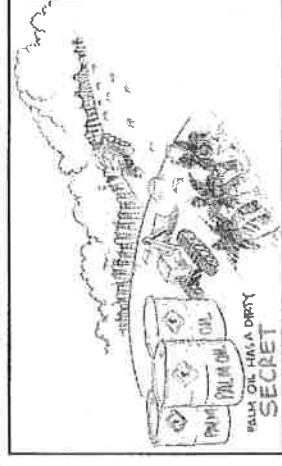
47. 此協議主要是取代即將於 2020 年到期的哪一氣候條約？(A)南極條約 (B)蒙特婁公約 (C)京都議定書 (D)生物多樣性公約

48. 下列哪一現象與此協議內容所因應的問題關聯性最小？(A)北極熊難以捕食瀕臨滅絕 (B)吐瓦魯氣候移民移居 (C)荷蘭發展海上漂浮屋科技 (D)以色列研發滴灌技術

49. 氣候變遷亦造成極端氣候現象頻傳，對許多地區的用水資源造成衝擊，也造成相鄰國家水資源運用的緊張局勢。請問：下列哪一地區的河流域內主要是乾燥的氣候環境，因此最有可能發生鄰國間的水資源衝突？



50. 棕櫚油化身存在於生活中不同的日用品，如洗髮精、清潔劑、牙膏、巧克力...，甚至是汽車燃料中。右圖呈現某國為生產棕櫚油，大量砍伐森林作為棕櫚樹種植園的狀況，此國已成為全球熱帶雨林消失速度最快的國家。請問：下列敘述何者錯誤？(A)文中指的某國應為印度尼西亞 (B)此開發行為造成南極臭氧空洞擴大 (C)本區的生物多樣性因開發而降低 (D)此舉將使溫室效應加劇



〔 試題到此結束，請仔細檢查!! 〕