

選擇題：1-50 題每題 2 分

1. 以「減少食物浪費，建構無飢餓網絡」為宗旨的臺灣食物銀行聯合會，可以自定組織章程，在辦理各項事務和活動的決策上，也能夠進行自我管理。上述最能說明志願結社的何種特徵？ (A)自主性 (B)民間性 (C)非營利性 (D)組織性。
2. 「法律扶助基金會宗旨：(一)落實憲法上的訴訟權及平等權、協助改善經濟地位；(二)保障弱勢者人權；(三)健全法治基礎。」由此可知「法律扶助基金會」的說明何者正確？ (A)基金會的盈餘都會做為工作獎金 (B)屬非營利性質，全部經費都是自行籌措 (C)是政府部門管理，最大的責任就是為民眾服務 (D)擁有自主精神及公權力。
3. 公民老師請同學們舉出結社自由的例子，下列何人的發言最為正確？ (A)靜文：我和家人週末時相約看國片 (B)文萱：爸爸參加遊行以表達對同婚的看法 (C)阿凱：奶奶前往觀賞台語歌手的告別演唱會 (D)貴林：我在學校組了一個跳繩運動社。
4. 近年來，國內交通運輸業相繼發生罷工事件，雖然對民眾交通便利產生極大影響，但卻是工會為了堅持宗旨所採取的行動，關於此類團體，以下說明何者正確？ (A)維繫成員情誼為其宗旨 (B)領導者多身為公司高層 (C)成員基於自由意願加入 (D)團體運作缺乏共同目標。
5. 2019 年香港民眾發起社會運動，臺灣多所大學的社團紛紛在校內舉辦演講或相關活動支持香港民眾。關於上述社團的說明，以下哪一項較為正確？ (A)社團發起人須向政府正式立案登記 (B)成立該類社團受我國《民法》保障 (C)是《憲法》參政權的表現 (D)校方應尊重並確保其權利不受侵害。
6. 格瑞是美食平臺的外送員，最近有感於車禍事故對於工作安全的威脅，於是想加入某團體，以維護自身的工作權益。由此判斷，格瑞應該加入何種團體？(A)同業公會 (B)職業工會 (C)政黨 (D)NCC。
7. 近年來，世界各國十分重視兒童福利與保障兒童人權，於是民國八十二年兒童福利聯盟文教基金會成立，以為兒童謀取最大的福利為宗旨。由此可知，該基金會主要是具有何項功能的團體？ (A)建立人際關係 (B)培養共同興趣 (C)達成工作任務 (D)獲取最大利益。
8. 下列有關「團體」的敘述，何者正確？ (A)團體內的成員具有共同目標 (B)我們只能選擇加入一個團體 (C)擁有相同政治理念的一群人可組成工會 (D)人民擁有組成團體的權利，不受法律的任何限制。
9. 環境保護團體號召民眾一起遞交請願書，要求政府停用燃煤電廠，避免破壞空氣品質。關於上述民眾表達意見的方式，下列說明何者正確？ (A)必須由民意代表為提出 (B)前往行政或民意機關遞交 (C)要找利益團體協助 (D)必須經過投票程序才有效。
10. 興虎欲收集資料解說公共意見的影響性，以下哪一則新聞標題符合他的需要？ (A)彰化虎山巖金針花海，吸引上千人爭睹 (B)中颱黃蜂即將來襲，政府呼籲民眾做好防颱準備 (C)頂尖電競比賽登臺，喜好電競民眾摩拳擦掌 (D)民眾千呼萬喚，政府宣布全長16.71 km的中捷即將通車。
11. 幾位同學為報告公共意見的特性進行討論，下列哪一位負責的部分是「差異性」？ (A)英文：「每場公聽會座無虛席，民眾參與極踴躍。」 (B)真昌：「面對多數民意，政府制定政策更加謹慎。」 (C)青得：「公投結果顯示贊成與反對方有巨大差距。」 (D)實忠：「公共意見不斷產生變化，尚未趨於穩定。」。
12. 網路上資訊繁多，莊哥收到一則訊息：「聽說這樣東西吃多了，會得癌症。」和家人討論，他們紛紛表達意見，請問誰較具有媒體識讀能力？(A)爸爸：我之看過類似文章，絕對是真的 (B)媽媽：我相信醫生的專業素養，少吃為妙 (C)哥哥：空穴不來風，科學報告不可能有假 (D)莊嫂：先確認作者信譽，並詢問專業人士。
13. 育凱在新聞上看到一則報導：「主播：經我們長期追查，已確認有多位政府高官涉及這起弊案，現已交由警調單位接手，本台將持續為民眾追蹤。」。請問哪一選項符合情境？(A)媒體身為第三權，扮演制衡政府權力角色 (B)媒體應抱持公正立場，不該干涉政府施政 (C)媒體揭露重大弊案，發揮監督政府的功能 (D)民眾使用媒體接近使用權，表達自身意見。
14. 小豬：「這篇報導與事實不符，嚴重損害我的名譽。」；小青：「你可以要求他們更正報導，這是你的權利。」此對話內容所提及的權利，應是指下列何者？(A)媒體接近權 (B)媒體使用權 (C)訴願 (D)請願。
15. 成語「三人成虎」可以用來說明假新聞的氾濫和可怕，即使是極為荒謬的假消息，只要開始傳播，就會有人相信，然後繼續被轉傳出去。為避免上述狀況，閱聽人應負起的責任，下列何者為是？ (A)限縮媒體新聞自由 (B)培養媒體識讀能力 (C)拒絕使用媒體發聲 (D)多向媒體投書。
16. 在多元民主的社會中，民眾可以自由表達意見，但民眾有時候很容易受到媒體影響，立場變來變去。所以說民意如流水，顯示公共意見的哪一個特性？(A)不穩定性 (B)公開性 (C)差異性 (D)影響性。

17.我國政府在民國 38 年 5 月實施全臺戒嚴主要的目的為何？ (A)防堵共黨思想及活動 (B)為實行憲政預作準備 (C)防範美國勢力干預 (D)因應民族自決的思潮。

18.日本統治臺灣 50 年，推動相關殖民教育政策，下列對於當時的教育發展狀況，何者敘述正確？ (A) 1895 年將小學校、公學校一律稱為國民學校 (B)公學校的師資、課程、設備皆比照日本內地 (C)臺灣總督府採取差別待遇、隔離政策的原則 (D)總督府陸續設立普通中學，提供給臺人就讀。

19.第一次世界大戰後，臺灣知識分子推動一連串政治社會運動的主要動機為何？ (A)促進臺灣經濟發展 (B)反對不合理的殖民統治 (C)發動革命，推翻日本的統治 (D)改善臺灣民眾的生活習慣。

20.解嚴以來，臺灣的政治性團體如雨後春筍般出現，個人的政治理念能獲得管道加以抒發，因而促進了社會的進步。下列何者是臺灣歷史上第一個合法的政黨？ (A)臺灣民眾黨 (B)臺灣民主黨 (C)中國國民黨 (D)民主進步黨。

21.蔣渭水曾診斷出臺灣人患有「缺乏知識的營養不良」症，普遍的症狀為「道德頹廢、物欲旺盛、精神生活貧瘠、風俗醜陋、圖小利、腐敗、虛榮……等。」蔣渭水認為醫治當時臺灣人的病症，可以利用下列哪一組織？ (A)臺灣文化協會 (B)臺灣民眾黨 (C)臺灣議會 (D)臺灣民主國。

22.臺灣在日本統治期間，人口數由近 300 萬增加到 600 多萬，人口增加迅速。下列何者是造成此現象的主要原因？ (A)日本地狹人稠，眾多日人移民來臺謀生 (B)為提高蔗糖產量，日人招募華南居民來臺 (C)糧食充裕，公共衛生觀念及現代醫療制度建立 (D)南進政策需大量人力，殖民政府積極獎勵生育。

23.臺灣史上的「白色恐怖」，是指下列哪一個時期政府對臺灣人民人權及自由的戕害？ (A)日本殖民統治時期 (B)戒嚴時期 (C)解除戒嚴後 (D)政黨輪替後。

24.下表為日治時期某一年台灣的教育狀況，從表中可看出當時的教育情行為何？

項目	基礎教育		中等學校學生數	專門學校學生數	高等教育學生數
	學生數	學齡兒童就學率			
台灣人	210727 人	28.4%	251 人	4642 人	28 人
日本人	23711 人	98.2%	477 人	6856 人	220 人

(A)臺人與日人同享平等受教權 (B)臺人基礎教育較日人更為普及 (C)升學管道暢通，臺人紛紛入學 (D)臺人基礎教育不足且升學不易。

25.歷史博物館策畫了關於臺灣某一歷史事件的展覽，除了介紹事件由臺北擴散到全臺的經過外，還展出受難者家屬提供的血衣、遺書，並搜羅當時國民政府進行清鄉的報導，讓民眾了解這個事件。請問：這個展覽的主題為何？ (A)雷震《自由中國》 (B)皇民化運動與臺灣社會運動 (C)二二八事件的始末 (D)美麗島事件與臺灣民主化。

26.《返校》線上遊戲在 2017 年推出，反應熱烈，後續還改編成電視劇、電影。該遊戲的背景設定是臺灣某一時期的高中校園，除了使用大量的臺灣文化，劇情中並提到禁書、匪諜、告密、黑名單等歷史背景。請問：這個遊戲的背景設定，可能是下列哪一時期？ (A) 1940 年代 (B) 1960 年代 (C) 1980 年代 (D) 1990 年代。

27.國民政府在國共內戰期間，為加強應變能力，明確規範政治運作，制定哪一法源授予總統緊急處分的權力？ (A)《戡亂時期檢肅匪諜條例》 (B)《戒嚴令》 (C)《動員戡亂時期臨時條款》 (D)《總統副總統選舉罷免法》。

28.近年來，臺灣人民請願遊行的情況屢見不鮮。臺灣人民真正擁有集會、請願的權利，其關鍵應是下列何事？ (A)國共內戰導致國民政府遷臺 (B)廢除《動員戡亂時期臨時條款》 (C)日本投降，國民政府接收臺灣 (D)解除戒嚴。

29.(甲)實行地方自治(乙)開放黨禁(丙)美麗島事件(丁)三月學運。上列臺灣政治發展史上的重大事件，若按照發生的時間先後排列，下列何者正確？ (A)甲乙丙丁 (B)丁丙乙甲 (C)甲丙乙丁 (D)乙甲丁丙。

30.附表是近二十年來臺灣社會所發生的重要紀事。根據內容判斷，下列何者最可能是影響這些社會變革的客觀條件？

西元（年）	紀事
1987	臺澎地區解除戒嚴
1991	終止動員戡亂時期
1996	首次總統、副總統直接民選

(A)人權與自由 (B)宗教與習俗 (C)科技與經濟 (D)倫理與道德，

31.1980 年代某一社會運動，高舉「還我正名」、「還我土地」、「還我語言」的訴求，此社會運動是由哪一族群所發起？ (A)閩南族群 (B)原住民族群 (C)客家族群 (D)外省族群。

32.在第一次世界大戰之後，臺灣的青年因為受到何種風潮的影響，引起日本人的恐慌，而使得殖民政策緩和下來？ (A)自由主義 (B)新帝國主義 (C)民族自決思潮 (D)亞洲團結組織思想。

33.臺灣在民主化的過程中，曾歷經許多困境與艱難。在下列的重要事件中，何者是最早發生的？ (A)三月學運 (B)首次政黨輪替 (C)廢除《動員戡亂時期臨時條款》 (D)首次總統直選。

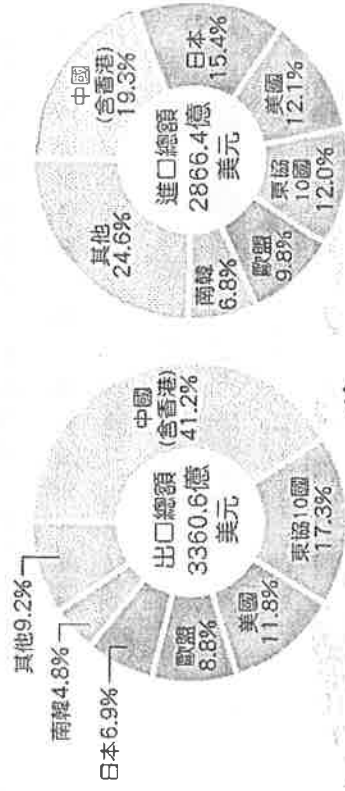
34. 慈慈老師發現一張 2019 年外埔區水流東休閒農業區所公告的「稻香忘憂谷」活動，從海報的活動內容可以判斷，這是屬於哪一種農業經營型態？(A)酪農業 (B)休閒農業 (C)精緻農業 (D)有機農業
35. 佑子老師某日看到捷安特發表了 The All New TCR 系列車款(如右下圖)，其中的廣告寫著：「以『輕量化管件造型』與『全面優化壓縮車架』為進化主軸，期許創造『競賽級舒適騎乘感、傳奇操控性能與優越傳動效率』等三大性能。透過優異的創新研發技術並結合了先進製造工藝設計出的車款…」由上述可知，捷安特 TCR 系列車款的製造，可能有哪些特色：(甲)動力密集 (乙)技術密集 (丙)能源密集 (丁)資金密集？(A)甲乙 (B)乙丙 (C)丙丁 (D)乙丁。



36. 民國 105 年我國與友邦吐瓦魯、諾魯(位在南太平洋的島國，距離臺灣 5600 公里)，簽訂漁業合作協定，我國籍的漁船可以合法到上述兩國的經濟海域捕撈鯖魚、鯉魚，並加強彼此的漁業合作。請問：上述的漁業協定，可增進下表中臺灣哪一類型的漁業發展？(A)甲類型 (B)乙類型 (C)丙類型 (D)丁類型

漁業類型	甲類型	乙類型	丙類型	丁類型
作業範圍	海岸線向外 12~200 哩海域	西南沿海與內陸	海岸線向外 12 哩以內海域	海岸線向外 200 哩以外海域
漁業產值比重	10.9%	42.8%	3.9%	42.4%

37. 台灣的國際貿易十分發達，右圖是 108 年台灣主要進出口貿易對象，若由此圖推論台灣在 108 年的貿易表現，下列描述何者正確？(A)臺灣對中國的貿易表現為人超 (B)整體而言臺灣的貿易結果是出超 (C)臺灣最大的貿易夥伴是日本 (D)臺灣的出口內容主要以工業產品為主



38. 下表是台灣不同時期工業發展的主軸，參考其內容，下列

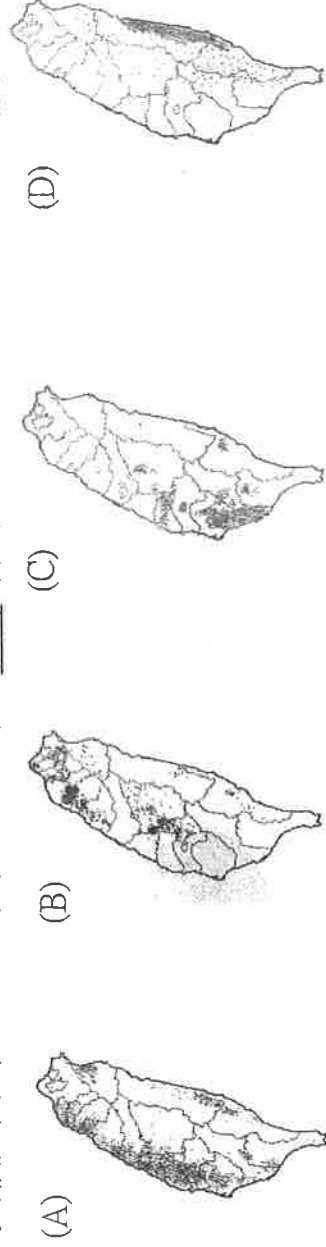
描述何者有誤？

甲	以農業政策為主，工業以進口替代
乙	政府政策轉型為發展新興高科技產業
丙	利用勞力密集的優勢，設立加工出口區
丁	政府推動十大建設，此時期經濟成長最為快速
戊	提倡產業升級，以設計、研發為重心，朝向自創品牌

- (A)在甲時期，台灣糖業公司砂糖外銷曾高居外匯收入 73.6%，奠定了國家經濟發展之基礎，(B)彰化的和美鎮在 50 年代家家戶戶以「家庭即工廠」的方式從事紡織工業，屬於表中的乙時期 (C)台灣中國鋼鐵公司、中國石油公司等重工業的設立是在丁階段 (D)在戊階段，在新竹成立了台灣第一個科學園區
39. 關於茶樹的生長環境與特色，下列敘述何者正確？(A)多種植在溫暖多雨的平原、盆地 (B)是製作糖的基本原料 (C)適合生長在溫暖濕潤多雲霧的丘陵地區 (D)是臺灣重要的糧食作物

★可可為巧克力的主要材料來源，是一種熱帶果樹，適合栽培於南北緯 20°之間、溫度介於 20~30℃、溫差小、年雨量達 1250mm 以上的地區，發源地為巴西亞馬遜河雨林，近年來主要種植區域為非洲、東南亞、拉丁美洲，而台灣是唯一一種植可可的已開發國家。請問：

40. 由上文敘述判斷，可可的種植環境和下列台灣哪種農作物的氣候生長環境最為類似？



41.台灣可和非洲、東南亞、拉丁美洲各大產區的價差起碼 5 倍以上，造成台灣可生產成本高的主要原因為？

- (A)農業技術的進步 (B)農場經營規模小 (C)農村人口老化 (D)生產集約度下降

★自 2014 年頂新味全集團爆發食安風暴後，社會大眾紛紛發起拒喝、拒買的抵制性動，連帶影響該品牌的鮮乳。由於消費者對大廠品牌有顧慮，進而注意到只在特定通路販售、標榜『小農鮮乳』的小眾乳品牌，世代從事酪農業的小安家，也因此而增加了銷售量。請問：



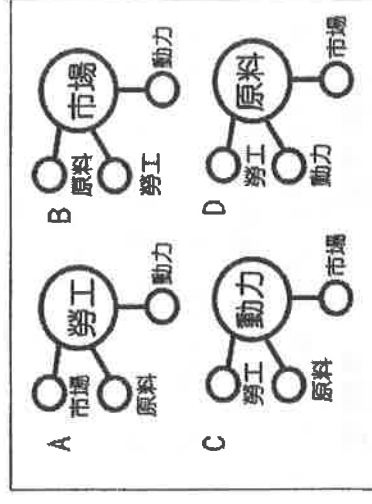
甲 乙 丙 丁

42.附圖為小安家的小農鮮乳生產流程圖，甲、乙、丙、丁哪些屬於第三級產業？

- (A)甲乙 (B)甲丙 (C)乙丁 (D)丙丁

43.右圖表示工業區位選擇的四種模式，圖中圓圈大小表示各因素對工業區位選擇

影響程度的強弱。酪農業的區位選擇應符合哪一張圖？(A) A (B) B (C) C (D) D



44.為了多方考察，小安前往紐西蘭的牧場打工度假；他發現當地牧場的乳牛都是在漫山遍野的廣大草地上漫步吃草，跟臺灣的畜牧型態有明顯的不同。導致臺灣畜牧型態跟紐西蘭大不相同的主要原因為何？

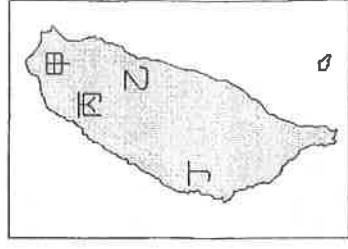
- (A)土地有限 (B)氣候濕潤 (C)山多平原少 (D)技術落後

★在對抗武漢肺炎疫情的當下，澳洲願意供應我國購買 100 萬公升的酒精原料，台灣供應澳洲欲購買的三噸不織布材料，使兩國人民受惠、達成雙贏。請問：

45.臺灣的台糖公司利用製糖的副產物－糖蜜(甘蔗汁無法結晶成砂糖的部分)，就近興建糖蜜酒精發

酵工廠，生產食用酒類、醫藥及工業用酒精。從自然環境推測，台糖的糖蜜酒精發酵工廠會分布

在右圖的哪個地方？(A)甲 (B)乙 (C)丙 (D)丁



46.承上題，糖蜜酒精發酵工廠分布是考慮到哪個區位因素？(A)交通 (B)勞力 (C)原料 (D)市場

47.臺灣雖有酒精原料，但跟澳洲的原料相比，成本較高，因此跟外國進口原料，反而比較有利。這

是因為臺灣農業的何種特性？(A)單位勞力投入多 (B)大規模機械耕種 (C)農業技術先進 (D)單

位面積產量低

48.醫療口罩的原料是不織布，不織布的原料是 PP(聚丙烯)，PP 是煉製原油裂解產生的丙烯聚合而成。臺灣的石化工

廠多分布在港口附近，跟下列哪個工廠的考慮因素一致？(A)高雄煉鋼廠 (B)新北市冰淇淋製造廠 (C)南方澳魚罐

頭加工廠 (D)新竹半導體製造廠

★《農試所育新種，種稻變黃金》

走進臺中市霧峰區農會的碾米廠，會有種迷惘卻美滿的感覺：明明是米倉，卻洋溢著芋頭的清新香味，讓人摸不清米倉到底是存放稻米，還是芋頭。不只稻米會散發芋頭香，當一般稻米每公斤只能賣三、四十元的價格時，益全香米每公斤卻可以賣到一百元以上，多出兩、三倍的利潤，「益全香米」也幾乎成為霧峰區的代名詞，街上到處可見標榜使用芋香米的便當店。

經過農試所稻作研究室多年來的推廣與輔導，益全香米每年栽種面積相當於半個臺北市。農試所估算，益全香米每年增加農民的收益約四、五億元、直接創造的商品價值則高達約四十四億元，增加的經濟效益近二十億元。時常有糧商肯定益全香米品質媲美日本越光米，將它視為臺灣國寶，做為抵抗進口稻米的利器…。

49.根據上文所述，當一般稻米每公斤只能賣三、四十元的價格時，益全香米每公斤卻可以賣到一百元以上，益全香米的成功代表臺灣農業的哪一種轉型策略？(A)集約農業 (B)觀光農業 (C)精緻農業 (D)休閒農業。

50.臺灣在 2002 年加入 WTO，第一級產業面臨國外農產品的競爭，經營策略勢必面臨轉型，下列哪一項經營策略較無法與國外農產品競爭？(A)獸醫師與酪農場合作創立的鮮乳坊 (B)三星蔥仔寮體驗農場採蔥、蔥油餅 DIY

(C)使用牛奶酵素，喝ㄋㄟㄋㄟ長大的牛奶草莓 (D)大規模、機械化栽種香蕉以降低成本

