

台中市三光國中一〇八學年度第二學期第一次定期評量九年級社會科試卷(第一頁)

選擇題：1-50 題每題 2 分

1. 西非迦納霍霍埃部落(Hohoe)的國王班沙(Céphas Bansa)登基後沒有住在自己的國家，反而是選擇住在歐洲的德國，每日用 Skype 等通訊軟體來遠端治理自己國家的人民。上述國王的治理方式，主要是受益於哪項因素的影響？ (A)電腦網路的普及 (B)民族主義的發展 (C)運輸工具的便捷 (D)人民的跨國移動
2. 受全球化的影響，全球的「人、事、物」聯繫更緊密，可是一旦出現變動，也更快產生骨牌效應。下列何者最有可能因為全球化而造成的骨牌效應？ (A)車借錢，免留車 (B)現金卡讓你輕鬆無負擔 (C)日本首相下臺，造成日本股票大跌 (D)國內 95 無鉛汽油明天零時起每公升調漲 0.3 元
3. 在「天涯若比鄰」的地球村中，某國的貧困很快會變成他國的問題，如產品缺乏市場、非法移民、汙染、傳染病、宗教狂熱、恐怖主義等。下列相關敘述何者正確？ (A)許多社會問題不再是單一國家的問題 (B)最好立法想辦法圍堵 (C)這些問題是無稽之談 (D)發展落後的國家只會製造全球性問題
4. 某家電視臺在晚餐時刻，播出血腥、暴力的節目內容，嚴重影響兒童的身心發展。觀眾除了可以直接向電視臺抗議之外，還可以向哪個專門監督媒體的政府部門申訴？ (A)內政部 (B)教育部 (C)公平交易委員會 (D)國家通訊傳播委員會
5. 《空中英語教室》在早期英語師資普遍不足的情況下，提供了聽、說、讀、寫的簡易美語教學，兼具廣播聽、說與雜誌讀、寫功能，讓廣大的民眾得以具備基礎英語能力。這是大眾傳播媒體的哪項功能？ (A)提供訊息 (B)監督政府 (C)教育文化 (D)休閒娛樂
6. 韓劇《來自星星的你》描述來自外太空的男子都敏俊和身為知名女明星的千頌伊陷入愛情的故事。此劇不僅在韓國創下收視奇蹟，也在兩岸三地掀起一股「星星旋風」。上述韓劇的熱播現象，主要是發揮了媒體的哪項功能？ (A)提供訊息 (B)休閒娛樂 (C)教育文化 (D)監督政府
7. 由於網際網路成本低、隱密性高，近年來被不少犯罪組織用於非法交易，以獲取不法利益。面對日益增加的網路犯罪行為，下列哪個應對方法最為適當？ (A)嚴格規定網路使用者的資格 (B)全面停止網際網路的使用 (C)加強立法規範，宣導正確觀念 (D)中斷國際之間網路的交流
8. 原住民電視臺的開播，是臺灣原住民族群共同的願望，而藉由媒體的傳播，可傳遞文化內涵與保障原住民的權利。原住民電視臺開播，代表著哪種意義？ (A)媒體內容的多元融合與共生 (B)漢人文化逐漸居於弱勢地位 (C)原住民文化躍升成為強勢文化 (D)原住民為臺灣最重要的族群
9. 華人很重視輩分及稱謂，但外國人常因無法找到適切的英文稱呼而省略用語，被許多華人認為是非常「失禮」的行為，這是哪種原因所造成？ (A)對強勢文化的排斥 (B)外國人教育程度較低 (C)以東方文化的標準來評價西方文化 (D)東方文化本來就比西方文化更有涵養
10. 「水能載舟，亦能覆舟」，科技的運用亦是如此，既能促進社會發展，卻也可能造成社會問題，其結果完全取決於使用者。由此可見科技的運用，更應該注意下列何者的提升？ (A)自我調適 (B)倫理價值 (C)生產技術 (D)公平正義
11. 臺北市一名郭姓會計師因為受不了廣告信件騷擾，於是要求大賣場刪除會員資料，半年後仍收到 52 封信件，憤而怒告大賣場。而法官則依相關法律判決大賣場需賠償郭男新臺幣 2 萬 6 千元，成為因電郵廣告擾人判賠的首例。法官最可能依哪部法律判賠 2 萬 6 千元？ (A)《刑法》 (B)《著作權法》 (C)《人工生殖法》 (D)《個人資料保護法》
12. 美國指控俄羅斯透過網軍干預總統大選，而且相關活動還在進行中。有議員寫信給參院領袖表示，資安單位面對駭客攻擊的反擊能力不佳。上述內容說明資訊科技帶來的哪種衝擊？ (A)資訊過多吸收不良 (B)資訊內容真偽難辨 (C)網路犯罪層出不窮 (D)資訊公開侵犯隱私
13. 依據我國《著作權法》規定，只要在合理範圍內，都可以使用他人智慧成果。下列何者即屬之？ (A)蔡老師在課堂播放《雞排英雄》的影片 (B)美美將阿妹的專輯上傳臉書與網友分享 (C)建治在家辦派對時播放女神卡卡的專輯 (D)米米寫報告時未標示引用他人著作來源
14. 近十年來生物科技愈來愈受重視，下列何者是生物科技所帶來的負面影響？ (A)透過基因科技改良農作物，可以增加糧食產量，及營養成分 (B)培養人體組織或複製器官，為需要器官移植的病人找到希望 (C)實驗室投入資金與技術研發藥物，對抗不斷出現的新型疾病 (D)用炭疽熱桿菌、天花病毒與肉毒桿菌等病菌，製作生化武器
15. 警方曾破獲網路販嬰，查獲嫌犯以代理孕母的方式，產下嬰兒，再利用網路販賣到國外，造成部分國人對研議中的「代理孕母草案」抱持質疑的態度。販賣嬰兒的行為已經違反了何種倫理？ (A)企業倫理 (B)資訊倫理 (C)生命倫理 (D)工程倫理
16. 有三名婦女因結婚多年未懷孕，但又害怕「試管嬰兒」的療程極為冗長，在醫師建議下透過輸卵管攝影檢查，在打通輸卵管且配合治療後，沒多久皆傳出懷孕喜訊。上述說明哪種科技的運用？ (A)資訊科技 (B)生物科技 (C)軍事科技 (D)太空科技

背面尚有試題，請翻面作答

17.影響十九世紀拉丁美洲、德意志、義大利等地區開始積極爭取獨立或統一的重要因素是下列何者的發展？

(A)自由主義 (B)社會主義 (C)君權主義 (D)民族主義

18.十九世紀初，拉丁美洲各國在短短幾十年間紛紛獨立。他們是利用什麼機會，逐一宣布脫離西班牙、葡萄牙而獨立？

(A)英法百年戰爭 (B)拿破崙入侵西班牙、葡萄牙 (C)三十年宗教戰爭 (D)第一次世界大戰

19.自西元 1991 年南斯拉夫各共和國掀起「獨立」狂潮以來，為戰後的歐洲帶來大規模、死傷慘重的武裝衝突。複雜的種族和宗教問題層出不窮是南斯拉夫內戰的主因，如信奉希臘正教的塞爾維亞與信奉伊斯蘭教的波士尼亞之間的流血衝突。巴爾幹半島上種族、宗教上的差異，是因為在歷史上經歷過哪兩個帝國的統治？

(A)俄羅斯帝國、阿拉伯帝國 (B)亞歷山大帝國、羅馬帝國 (C)拜占庭帝國、鄂圖曼土耳其帝國 (D)羅馬帝國、阿拉伯帝國

20.十九世紀有關德意志與義大利統一過程的比較，請選出正確的選項？(A)甲 (B)乙 (C)丙 (D)丁

項目	德意志	義大利
(甲)領導國家	普魯士王國	義大利王國
(乙)主導首相	加富爾	俾斯麥
(丙)主要障礙	奧地利、法國	奧地利、法國
(丁)建立國家	德意志帝國	薩丁尼亞王國

21.拿破崙稱霸歐陸期間，解散了神聖羅馬帝國，將德意志地區合併為三十幾個邦國。維也納會議後，並未恢復舊有邦國，而是以奧國為首與德意志各邦組成哪個組織？

(A)德意志邦聯 (B)德意志關稅同盟 (C)薩丁尼亞王國 (D)德意志帝國

22.十七世紀中期，日本曾實施鎖國令，關於其鎖國的敘述，何者錯誤？

(A)禁止日本船隻出航 (B)中國人可到日本貿易 (C)強迫幕府開港的是英國 (D)僅開放長崎作為通商口岸。

23.十八世紀至十九世紀的歐洲文學、藝術與文化發展主要有：(甲)浪漫主義；(乙)寫實主義；(丙)理性主義。這三個思潮盛行的先後順序排列，何者正確？

(A)甲→乙→丙 (B)丙→甲→乙 (C)丙→乙→甲 (D)乙→甲→丙

24.法國文學家雨果在《悲慘世界》的序文寫道：「只要是法律與習俗所造成的社會壓迫還存在一天，在文明昌盛時期因人為因素使人間變成地獄，並使人類與生俱來的幸福遭受不可避免的災禍，只要——貧困使男人潦倒、饑餓使女人墮落、黑暗使小孩孱弱——這三個問題尚未獲得解決；只要在某些地區還可能發生社會的毒害，換言之，只要這世界上還有愚昧與悲慘，那麼，像本書這樣的作品，也許不會是有用的吧！」。這是一本描寫社會中下階層悲慘生活的小說。這本書最能反映下列哪種思想？

(A)寫實主義 (B)浪漫主義 (C)民族主義 (D)自由主義

25.帝國主義者以下列何項理論作為帝國主義國家侵略和種族主義偏見的理論基礎？

(A)社會達爾文主義 (B)相對論 (C)社會契約論 (D)天體運行論

26.帝國主義國家向各地侵略，事蹟眾多。下列帝國主義國家與被侵略地區的配對，何者錯誤？

(A)英國：印度 (B)俄國：中國東北 (C)法國：緬甸 (D)德國：中國山東

27.第一次世界大戰的爆發，究其原因與下列哪項敘述無關？

(A)各國的競相增強軍備 (B)共產國家的對外擴張 (C)各國的連環結盟 (D)帝國主義國家的殖民衝突

28.第一次世界大戰，於 1917 年出現關鍵性的發展，主要是指何事？

(A)美國因國內發生革命退出、俄國參戰 (B)俄國因國內發生革命退出、美國由中立轉為參戰 (C)俄國因國內發生革命退出、中國因五四運動參戰 (D)奧國退出、美國由中立轉為參戰

29.國際外交有個不變的原則：「沒有永久的敵人，也沒有永久的朋友，只有永恆的利益。」很現實，但也是歷史上的鐵律。例如：十四到十九世紀，英、法兩國交戰不斷成為世仇，但在哪次戰爭中又能攜手合作？

(A)美國獨立戰爭 (B)拿破崙戰爭 (C)德法戰爭 (D)第一次世界大戰

30.巴黎和會中雖提出了民族自決的原則，但是卻並未完全執行，使得國際局勢仍然動盪不安。下列有關巴黎和會的敘述何者錯誤？

(A)主要由「三巨頭」控制會議 (B)美國國會拒絕簽署對德和約 (C)德國負擔嚴苛，種下二戰禍因 (D)德國歸還山東主權給中國

31.第一次世界大戰也被視為傳統帝國與民主立憲國家的對決，最後民主立憲國家獲得了勝利，傳統帝國——崩壞。有哪四個帝國在戰時或戰後瓦解？

(A)大英帝國、塞爾柱帝國、德意志帝國、俄羅斯帝國 (B)大英帝國、德意志帝國、俄羅斯帝國、鄂圖曼帝國 (C)德意志帝國、奧匈帝國、俄羅斯帝國、塞爾柱帝國 (D)德意志帝國、奧匈帝國、俄羅斯帝國、鄂圖曼帝國

32.關於二十世紀初期，社會與文化等方面的重要發展與成就，下列敘述何者正確？

(A)居禮夫婦研究病毒防治，帶動醫學的發展 (B)愛因斯坦提出的「絕對論」影響二十世紀物理學的發展 (C)佛洛伊德首先提出人類具有「潛意識」 (D)畢卡索是「印象派」的最傑出畫家


33.十九世紀，帝國主義國家之所以擁有對外侵略的優勢，下列哪個歷史事件最為關鍵？

(A)法國大革命 (B)科學革命 (C)地理大發現 (D)工業革命

34.近年平權主義興起，該國對毛利文化越來越受重視，定期舉行毛利語推廣週、發行一系列毛利語郵票(如右圖)，國歌也須以英語、毛利語雙語頌唱。請問關於該國的描述，下列何者**完全正確**? (A)有褐色大陸之稱，全境以高原為主體 (B)位於水半球的中心位置，有利工業發展 (C)位居板塊接觸帶，地質古老，礦產資源豐富 (D)與西歐主要氣候類型相同，全年有雨、氣候溫和



35.「在[]，最具代表性的菜餚就是用塔吉鍋做的塔吉料理。塔吉鍋的設計能讓水蒸氣在食材與鍋頂間的空隙循環，燒菜時不用加水，解決當地水資源不足的問題，鎖住水份之餘也讓菜餚更入味。當地料理少用豬肉，多以牛肉和羊肉搭配椰棗或橄欖，佐以香料與時間慢燉，是當地常見的美味。品嚐塔吉料理，就像跟[]的千年歷史對話...」。由上文推論，最適合填入下列哪個國家? (A)摩洛哥 (B)奈及利亞 (C)澳大利亞 (D)吐瓦魯



36.根據國際能源署的統計，澳洲礦產資源豐富，自產能源占了該國 87.8%、大部分以煤炭為主，進口能源僅佔 12.2% (台灣恰與之相反，有近九成能源需進口)，燃煤發電為澳洲電力主要來源，也因此澳洲平均每人碳排放量頗高。澳洲政府為了降低每人碳排放量，近年來除了開徵碳稅以外，把該稅收用來推動再生能源產業。若考量澳洲自然環境，下列哪種再生能源較不適合推動呢? (A)風能 (B)地熱能 (C)太陽能 (D)洋流能

37.全球暖化議題發燒，紐西蘭在 2018 年關閉最後兩座燃煤電廠後，成為無煤炭國家，預計 2025 年再生能源占比達 90%。南島以水力為主，佔總南島發電量的 76%，而北島則以開發甲、乙兩項再生能源為主。甲資源在北島資源豐富且開發成本低，只有冰島可與之匹敵；乙資源則受到氣候因素影響，全年皆可進行發電。請問甲、乙分別代表哪項天然資源? (A)水力、太陽能 (B)地熱、太陽能 (C)風力、地熱 (D)地熱、風力

38.南極在冬天時最低溫可達零下 90 度，而北極最低溫度只達零下 70 度，請問：南北極的緯度相同，但南極的溫度常比北極低的原因為何?

- (A)北極冰雪多，易吸收陽光能量 (B)南極有高壓盤據，而北極則沒有 (C)南極以大陸為主，而北極以海洋為主 (D)北極永晝時間較長，則南極永夜時間較長

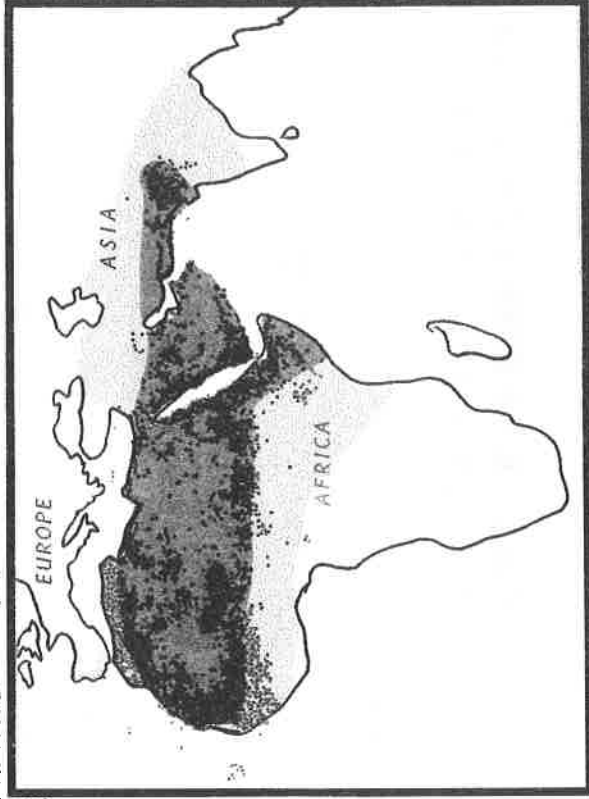
39.鈔票往往能反應一國最重要的文化或象徵，右圖為非洲某國的紙鈔，



鈔票中可看到裂谷邊緣壯闊的瀑布奔騰而下，請問該國最可能位於右下圖之何處呢? (A)甲 (B)乙 (C)丙 (D)丁

★2020 年 2 月 14 日聯合國糧食及農業組織 (FAO) 警告，來自非洲之角地區的蝗蟲仍在繼續繁殖並擴大規模，對東非形成嚴重的糧食威脅，鄰近的烏干達、南蘇丹及坦尚

尼亞都已受到波及，甚至向東影顏色越深代表災害程度越高



請問：

40.上圖深色範圍為蝗災嚴重的區域，依據你對深色範圍的氣候認識，你認為這種蝗蟲喜歡什麼樣的生活環境?

(A)	(B)	(C)	(D)
年均溫 24℃	年均溫 20.8℃	年均溫 19.9℃	年均溫 26℃
年降水量 1761mm	年降水量 1009mm	年降水量 883.1mm	年降水量 200mm

41. 深色範圍的氣候形成原因，主要是因為？ (A) 副熱帶高氣壓壟罩 (B) 距海遙遠 (C) 全年受到西風吹拂 (D) 位於西風的背風面

42. 請判斷這些蝗蟲最有可能啃食當地何種作物，導致東非農民血本無歸甚至面臨飢荒的問題？ (A) 茶葉 (B) 甜菜

(C) 玉米 (D) 橄欖

★『澳洲夏季野火，嚴重情形引發全球關注!!由於連續降雨不足，導致澳洲大部分地區面臨嚴重乾旱。乾旱時期，蒸發水份會減少，更容易導致極端高溫的出現。總而言之，降雨不足加上極端高溫的同時作用，造成澳洲如此酷熱，加上澳洲主要樹種是富含油脂的桉樹(尤加利樹)，在乾熱的夏季若遇閃電或人為小火苗，很容易造成山區大火，而澳洲大火不僅僅是澳洲國內的問題，野火產生的煙霧，籠罩了紐西蘭大部分地區，甚至還遠飄到南美洲。科學家預期，澳洲未來會出現更多極端野火...』右圖為 2019 年澳洲野火著火點示意圖(取自網路)，請同學閱讀上文，回答下列問題：

43. 澳洲每年都會因天乾物燥引發大火，就像臺灣的颱風與地震一樣，學校與政府會進行教育宣導，希望降低傷亡。從澳洲的氣候推測，哪段時間最容易產生森林野火，需要提早防範？(A) 3 月至 5 月 (B) 6 月至 8 月 (C) 9 月至 11 月 (D) 11 月至 1 月

44. 文中提到澳洲森林大火的濃煙飄至紐西蘭，推測這些濃煙乃是受到哪個行星風帶影響而吹至紐西蘭的呢？(A) 東北信風 (B) 東南信風 (C) 西風帶 (D) 東風帶。

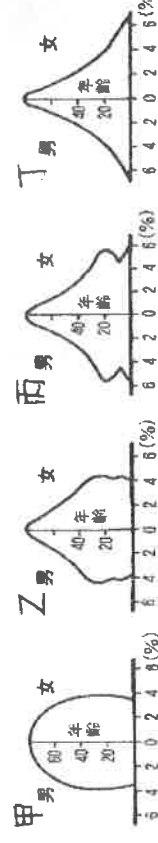
45. 造成森林大火的原因除了是氣候變遷導致澳洲夏季異常高溫乾燥之外，還有部分原因乃由於澳洲全球最大煤炭出口國，總理莫里森(Scott Morrison)為了經濟發展而不願縮減碳排放量，促使全國碳排放量連續五年攀升，也間接促成澳洲夏季溫度攀升。請問：澳洲煤礦豐富的主要原因為何？(A) 氣候乾燥炎熱，有利於石油、煤礦生成 (B) 屬於古老陸塊 (C) 位於板塊接觸地帶 (D) 位置孤立，物種長期獨立

46. 澳大利亞的移民部長曾在 2020 年 2 月的晚間新聞表示：『澳洲人最近受到森林大火的打擊，從今天起，他們僱用的背包客可以再待六個月，在重建的關鍵時刻提供幫助。』打工度假者可以幫助重建房屋、圍欄和農場，進行拆遷、土地清理、修築水壩，公路和鐵路。此項延長打工度假的新政策，除了因為災後重建工程龐大之外，更凸顯出澳洲在經濟發展上的何項劣勢呢？(A) 缺乏勞動人口 (B) 農村勞力老化 (C) 城鄉差距偏大 (D) 遠離歐美國

★【疾病扭曲的世界】-在右邊這張圖中，每個區塊的面積表示該區感染者的人數，由圖可發現非洲的面積膨脹到使其他各區塊如小巫見大巫。請問：47. 在這張比較圖中，代表的應該是何種疾病的感染人數與分布？

(A) 新型流感 (B) 鼠疫 (C) 愛滋病 (D) 新冠肺炎。

48. 由此統計地圖中，可以推測地圖中的波扎那人金字塔應屬於下圖中何種類型？ (A) 甲 (B) 乙 (C) 丙 (D) 丁。



★紐約時報報導：「數千年來尼羅河一直由埃及掌控，但現在衣索匹亞在尼羅河上游建了一座非洲最大水壩，預定 2020 年夏天開始蓄水，埃、衣兩國爭執日益嚴重，美國已介入調停…」

49. 過去，尼羅河因夏季定期氾濫，帶來大量沃土及充沛水量而孕育了古埃及文明。請問：造成夏季氾濫的原因，是因為尼羅河上游流經何種氣候類型？(A) 熱帶雨林 (B) 熱帶莽原 (C) 夏雨型暖溫帶 (D) 溫帶地中海型氣候。

50. 1970 年完成的亞斯文高壩，帶來防洪、灌溉、發電等利益，它曾是埃及人的驕傲。可是高壩對環境的不良影響日益嚴重，逐漸改變了人們對它的評價。請問：下列何者「非」高壩帶來的影響？ (A) 耕地肥沃度下降 (B) 三角洲面積縮小 (C) 海岸線往前推進 (D) 影響河流生態