

選擇題：1-50 題每題 2 分

1. 育伯在社群媒體上發表近況：「班上很多同學都喜歡玩電玩、手遊，我也是其中之一，大家都會互相交流。我以後想就讀電競相關科系，夢想是當上電競選手，參加亞運，與其他國家的選手同場競技。」請問下列何項正確？
(A) 電競活動屬異於主流文化的獨特文化 (B) 與其他文化比起來，電競活動為次文化 (C) 電競教育已經成為我國教育的主流文化 (D) 電競文化無法與社會中各文化同時共存。
2. 泰國有潑水節、日本有燈籠節、美國有萬聖節，我國則是農曆新年、中秋、端午三大節。每個人類社會都有節慶，社會成員共享相同的生活方式，這凸顯了文化的哪一項特徵？ (A) 普遍性 (B) 差異性 (C) 累積性 (D) 獨特性。
3. 對「文化位階」概念的理解，哪一項的說明完全正確？ (A) 只能藉由商品或媒體等方式進行 (B) 通常發生在文化比較低等的國家 (C) 有助於傳統弱勢文化的積極重建 (D) 可能出現文化之間的不平等現象。
4. 下列何者不屬於文化？ (A) 清明節掃墓 (B) 國三學生參加會考 (C) 防疫期間社交距離室內至少保持 1.5 公尺的距離 (D) 動物界的分工行為。
5. 同學在討論自己平常聽的音樂。易蘭：「韓國音樂就是厲害，女團跳舞都很好看。」依珊：「韓劇配的主題曲超好聽，很多首我都會唱。」予萱：「大家都在聽韓文歌，聽臺語歌、聖歌的應該是少數吧。」請問可觀察到何種文化現象？ (A) 文化位階透過過渡方式強化 (B) 強勢文化藉媒體、商品傳播 (C) 異國文化較難進行交流接觸 (D) 傳統文化產生抵抗反擊。
6. 元宵節賞花燈從古一直延續至今，而台中燈會的設計及活動的內容，讓我們體驗到多元而豐富的賞燈活動。由此可見，文化應具有下列何項特徵？ (A) 普遍性 (B) 差異性 (C) 累積性 (D) 制約性。
7. 在臺灣，朋友間會互相詢問購買商品的價格，比較商品買貴或買便宜，但對英國人來說，這樣的詢問會讓對方覺得你很失禮，所以他們在與人互動時，為尊重他人隱私，會避免詢問類似問題。請問這顯示文化具有哪一項特徵？ (A) 普遍性 (B) 差異性 (C) 獨特性 (D) 累積性。
8. 同學們正在分享對不同文化差異的看法，以下哪一位的發言帶有「我族中心主義」的立場？ (A) 小宣：次文化屬社會文化的一種，像嘻哈文化極具感染力 (B) 小舜：旅遊探訪不同文化，我都事先預做了解，入境隨俗 (C) 小芯：文化是自我認同的重要根源，我支持發展傳統戲劇 (D) 錡錡：新住民原有的文化素養不佳，應放棄舊有風俗習慣。
9. 關於清明掃墓的敘述何者錯誤？ (A) 強調慎終追遠的精神 (B) 這是一種風俗習慣 (C) 這屬於正式的社會規範 (D) 是長期累積的生活經驗自然而然形成的慣例。
10. 中國人對於身後事向來強調「入土為安」，現在，多元且節省空間的殯葬方式，如火葬、海葬、樹葬等也逐漸被國人所接受。這是屬於何種社會規範的改變？ (A) 風俗習慣 (B) 倫理道德 (C) 宗教信仰 (D) 法律。
11. 新冠肺炎影響到全球一百多個國家和地區，許多人心情焦慮，於是到廟宇求籤問卜，希望藉由神明的力量來獲得心靈上的慰藉，這是 (A) 風俗習慣 (B) 倫理 (C) 宗教 (D) 法律。
12. 下列關於法律的敘述，何者正確？ (A) 違反法律者，會受到超自然力量的處罰 (B) 法律是司法機關依一定程序制定而成的 (C) 政府為促進社會穩定，不須遵守法律規定 (D) 法律的最大特性是以公權力為後盾，給予違反者處罰，有效維持社會秩序。
13. 「父子有親、長幼有序、朋友有信」，是屬於哪一種類型的社會規範？ (A) 道德 (B) 倫理 (C) 風俗習慣 (D) 法律。
14. 我們從小被教導「要排隊」、「不可以插隊」，這樣的行為教導符合何項社會規範？ (A) 風俗習慣 (B) 倫理道德 (C) 宗教信仰 (D) 法律。
15. 政府在新冠肺炎防疫期間制定口罩購買實名制規定，請問：這是希望以何種社會規範來維持口罩購買秩序？ (A) 法律 (B) 風俗習慣 (C) 倫理道德 (D) 宗教信仰。
16. 楊校長強調：「萬物都有其生存的權利。」請問：楊校長是在說明哪一種倫理道德？ (A) 環境倫理 (B) 科技倫理 (C) 私德 (D) 公德

17. 20 世紀初，臺灣漢人的武裝抗日行動中，下列哪一事件是關鍵之役，此後漢人便轉為以政治社會運動向日本人爭取權益？ (A)西來庵事件 (B)郭懷一事件 (C)牡丹社事件 (D)霧社事件。

18. 總督府能深入控制臺灣社會的各個角落，主要得力於警察制度與何者的結合？ (A)專賣制度 (B)保甲制度 (C)皇民化運動 (D)教育制度。

19. (甲)內地延長主義(乙)殖民地特殊統治(丙)皇民化運動。上述日本治臺政策依時間先後順序排列，下列何者正確？

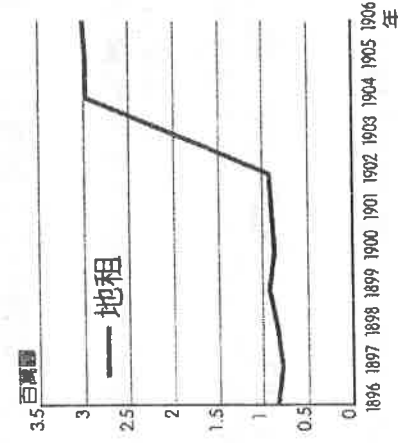
(A)甲乙丙 (B)乙丙甲 (C)甲丙乙 (D)乙甲丙。

20. 民族自決思潮對於日本治臺政策有很大的影響。下列關於此一思潮的敘述，何者正確？ (A)指各民族有權決定自身民族的事務 (B)日本治臺改採武力鎮壓的方式 (C)由美國總統羅斯福首先提倡 (D)第二次世界大戰後開始風行全球。

21. 霧社事件是臺灣武裝抗日史上非常著名的事件，其影響深遠。有關霧社事件的敘述，下列何者正確？ (A)發起者為西拉雅族 (B)因日本掠奪森林、樟腦資源而引發 (C)在國際組織的介入下和平解決 (D)事件後引發更大規模的武裝抗日行動。

22. 日本占領臺灣之後，為了進行殖民統治，獲取臺灣的資源，積極展開各項經濟基礎建設。下列何者不屬於此一方面的建設？ (A)實施土地調查 (B)修建縱貫鐵路 (C)統一貨幣 (D)實施開山撫番。

23. 附圖為 1896～1906 年臺灣總督府田賦收入圖。請問：圖中收入突然大幅提升的原因為下列何者？



(A)實施土地調查 (B)實施理蕃政策 (C)實施林野調查 (D)實施專賣政策。

24. 關於日治時期「保甲制度」的設置與管理方式，以下敘述何者正確？

(A)為加強管理台人日本總督設置此制度 (B)規定以十戶為一保，十保為一甲 (C)主要任務在於輔助憲兵執行地方行政事務 (D)保正、甲長也需負起連帶責任。

25. 日治初期，為了利用臺灣的資源，積極展開各項經濟基礎建設。當時日本政府在臺灣推行何種政策以利其本國的發展？ (A)工業日本，農業臺灣 (B)工業臺灣，農業日本 (C)工業南洋，農業臺灣 (D)工業臺灣，農業南洋。

26. 臺灣蔗糖一直以來是重要輸出產品，日本統治臺灣後，更使臺灣成為世界的糖業王國之一。請問：下列何者不是總督府所提倡的？ (A)成立製糖會社 (B)日本資金投入 (C)利用牛隻與石磨壓榨甘蔗 (D)設立新式糖廠。

27. 日治時期，有哪些措施與臺灣的經濟發展有關？(甲)設立新式糖廠(乙)完成高速公路(丙)整建基隆港和高雄港(丁)提倡「農業日本，工業臺灣」(戊)興建嘉南大圳 (A)甲丙戊 (B)甲乙丁 (C)乙丙丁 (D)丙丁戊。

28. 某人在 1930 年完成當時東亞最大的水利工程，嘉惠當地人民，他也因此得到「嘉南大圳之父」之名。為了感念他的功績，民眾在臺南的烏山頭水庫設立了一尊他的銅像，感謝他的貢獻。上文所述為何人？ (A)磯永吉 (B)後藤新平 (C)八田與一 (D)兒玉源太郎。

29. 日本以南洋為侵略目標，是因為要獲得下列哪些資源？ (A)軍火、鹿皮 (B)茶葉、樟腦 (C)石油、橡膠 (D)稻米、甘蔗。

30. 諺語會反映時代問題。請問：「三個保正，八十斤」，是指日治時期何種產業的農民受剝削？ (A)稻米 (B)茶葉 (C)樟腦 (D)蔗糖。


31. 日本開始在臺灣推動工業化後，下列何者是臺灣新興工業發展的重要指標？ (A)嘉南大圳 (B)蓬萊米的研發 (C)西部縱貫鐵路 (D)日月潭發電所。

32. 日本自 1930 年代以後，為侵略南洋而推動「南進政策」，臺灣因而改採為「工業臺灣」政策。所謂工業的發展重點是指下列何者？ (A)民生工業 (B)國防軍需工業 (C)交通工業 (D)化學工業。





33. 日本在 1896 年由日本國會通過「六三法」當作治臺的依據，促使何人可以專制集權的方式治理臺灣？ (A)日本天皇 (B)日本首相 (C)臺灣總督 (D)日本警察。

【題組 34-39】

※2019 年底爆發於中國的 COVID-19(武漢肺炎)至今疫情仍未平息，目前已傳播至世界多國，WHO 日前已正式宣告 COVID-19 為全球性的傳染性疾病，尤其目前歐洲疫情發展更被稱為是繼中國武漢後，最新的疫情震央，近來美國疫情也急速升溫，確診病患數已成為世界最多的國家。在疫情爆發時，台灣政府所做的防疫宣導，除了本國語言外，更用心彙整翻譯出多國語言(如下圖所示)，希望藉此呼籲在台灣的新住民、移工朋友或外國籍友人，大家一起來防疫。請問：



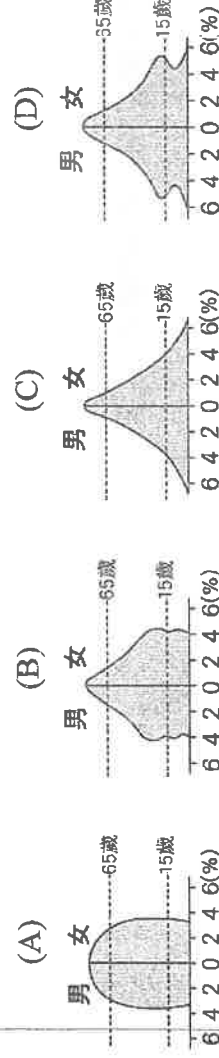
34. 政府的這項防疫措施可顯示出台灣社會的哪一現象？(A)人口眾多 (B)多元族群 (C)高齡社會 (D)醫療發達
35. 根據在台的新住民、移工人數與主要來源地判斷，上圖所示宣導文宣中，最不可能為哪一國家的語言？(A)緬甸文 (B)越南文 (C)印尼文 (D)泰文
36. 來台的外籍人士若成為台灣的新住民，對台灣而言屬何種人口成長？(A)自然增加 (B)社會增加 (C)群體增加 (D)短期增加
37. 料理常反映當地的自然環境與飲食文化，請問下列哪項美食與其特色描述正確無誤？

	(A)越南生春捲	(B)滷肉飯	(C)竹筒飯	(D)牛肉麵
美食				
特色	氣候溼熱，酸辣調味增加食欲	氣候乾燥，種植水稻發展的米食文化	客家人傳入台灣，是客家地區推廣的美食	氣候溼熱，種植小麥發展的麵食文化

38. 下列哪一活動主要是因應來台印尼人所衍生的節慶活動？



39. 右圖為勞動部公布最新數據，台灣的外籍移工在 2018 年已突衝破 70 萬人，產業與社福移工都快速增加，其中社福外勞人數因長照制度建置，追不上人口老化需求，2014 年起增速驚人。根據上述，下列何種人口組成對於社福移工的需求最大？



(背面尚有試題，請翻面作答)

台灣歷年外籍移工數

