

台中市三光國中一〇八學年度第二學期第一次定期評量八年級社會科試卷(第一頁)

選擇題：1-50 題每題 2 分

1. 《家庭教育法》、《全民健康保險法》、《環境影響評估法》等法律，在立法意旨及規定內容上，都突顯了公益色彩。根據上文所述，這是發揮下列哪種法律的功能？ (A)保障人民權利 (B)規範政府權力 (C)維持社會秩序 (D)促進社會進步
2. 卡玖基颱風來襲時，臺中市的開元橋意外斷裂，為了避免危險情況再次發生，在蕃蜜颱風侵臺前，交通部特別宣布提高「封橋標準」，將原本警戒水位線向下修正。交通部所修正的「封橋標準」屬於實義法律中的哪項？ (A)法律 (B)命令 (C)憲法 (D)條約
3. 當人民的價值觀與社會環境隨著時代潮流而改變，原本看似生硬枯燥的憲法也應做出些許的改變。下列有關我國《憲法》的修改方式，何者較為可行？ (A)只須廢除《憲法》便一勞永逸 (B)由總統頒布緊急命令取代《憲法》(C)由大法官做出《憲法》的解釋 (D)由立法院提出憲法修正案
4. 《中央法規標準法》規定：「法律不得抵觸憲法，命令不得抵觸憲法或法律，下級機關訂定之命令不得抵觸上級機關之命令。」因此若依照法律的位階，由低至高排列，其正確順序為何？ (A)命令→法律→憲法 (B)法律→命令→憲法 (C)憲法→法律→命令 (D)憲法→命令→法律
5. 教育部在新流感流行之際宣布《325 停課標準》，規定高中以下學校的停課標準，以防止疫情擴散。上述標準的法律位階與下列何者相同？ (A)《護理人員法》 (B)《中華民國憲法增修條文》 (C)《土地徵收條例》 (D)《內政部處務規程》
6. 《憲法》是人民權利的保障書，也是政府的組織法。下列關於我國《憲法》的敘述，請選出正確的選項？ (A)由制憲國民大會負責制定與修改 (B)「狹義的法律」就是指《憲法》 (C)對人民的基本權利做出細部性的規定 (D)任何法律和命令都不能抵觸《憲法》
7. 嘉欣研究《中華民國憲法》的制定內容時，發現不同於一般法律交由立法院立法並提案表決即可，它必須有四分之一立法委員提議，四分之三出席，且出席的四分之三委員同意提出修正案後，最後還須公民投票複決。以上的現象足可說明憲法的哪種特性？ (A)永久性 (B)固定性 (C)原則性 (D)公正性
8. 命令是用來補充法律的規定，所以要有法律的授權。下列何者是合理的授權方式？ (A)雲林縣教育局訂定《國民教育法施行細則》 (B)法務部訂定《國民教育法施行細則》 (C)教育部訂定《國民教育法施行細則》 (D)立法院訂定《國民教育法施行細則》
9. 最近國家財政困難，財政部決定為了增加政府財源，要增加課稅，因此提議修改《所得稅法》。《所得稅法》應如何修改？ (A)經由行政院同意即可 (B)交由立法院決議通過 (C)直接經總統同意後公布 (D)由財政部制定命令即可修改
10. 曾高懷是位國中生，因違反《少年事件處理法》的規定而被裁定進入「少年輔育院」接受感化教育。這主要是限制人民的哪種自由權？ (A)人身自由 (B)言論自由 (C)工作自由 (D)宗教自由
11. 依照《通訊保障及監察法》規定，檢察雙方如果發現重大犯罪情況，須對嫌犯從事「監聽」時，得先由各地法院法官核發監聽票才能執行。此一程序是為了防止檢察的作法侵害《憲法》保障人民的哪項自由權？ (A)宗教自由 (B)意見自由 (C)秘密通訊自由 (D)集會結社自由
12. 受到少子化的影響，許多縣市的偏遠小學都面臨廢校或併校的困境，由於轉學後，這些學校的學生必須長途跋涉才能來到新學校就讀，部分學生基於路程遙遠或是經濟欠佳的原因只得選擇中輟。政府廢校或併校的決定可能影響《憲法》保障的哪項基本人權？ (A)自由權 (B)參政權 (C)受國民教育權 (D)平等權
13. 幸福鄉鄉民希望政府規劃的快速道路能經過該鄉，以利當地觀光發展。為了達成上述目的，幸福鄉鄉民依法可採取哪種途徑為地方爭取權益？ (A)向行政院連署請願 (B)向交通部提出訴願 (C)向行政院提出訴訟 (D)請總統舉辦公民投票
14. 周杰倫、五月天等歌手與樂團，創作出許多膾炙人口的創作歌曲，但若是政府無法善盡《憲法》保障哪種權利之責，則將會使盜版猖獗，無人願意進行創作？ (A)自由權之言論自由 (B)受益權之財產權 (C)自由權之結社自由 (D)受益權之請願權
15. 近來常常被提出的「社會權」，是指為確保個人在社會中享有健全生活的基本條件，所賦予個人的保障。包括生存權、工作權、受教育之權、受健康照顧之權、環境權及文化權等。這些權利是「主動向國家爭取權益」，與《憲法》對於何種人權的保障內涵最接近？ (A)平等權 (B)自由權 (C)受益權 (D)參政權
16. 司法院大法官解釋：「學生如受到學校退學、開除等處分，經校內申訴未獲救濟者，可以提起訴願及行政訴訟。」上述的解釋，是為了維護人民的哪項基本權利？ (A)考試上、司法上的受益權 (B)司法上、經濟上的受益權 (C)經濟上、行政上的受益權 (D)行政上、司法上的受益權


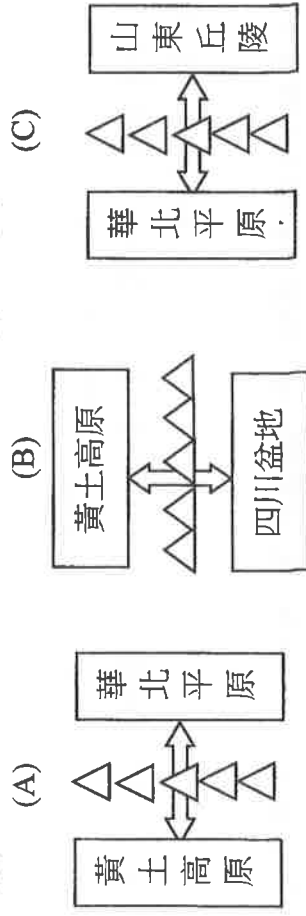
背面尚有試題，請翻面作答

17. 清朝晚期面對內憂外患，曾進行兩次改革：「自強運動」和「戊戌變法」。請問：這一場改革有何相同點？（A）重心皆著重器物層面（B）大臣曾國藩皆有參與（C）都推動教育改革（D）皆受到朝野支持。
18. 清末經歷了多場戰爭，而每一場戰爭也都對中國未來發展造成決定性的影響，下列何者是英法聯軍對中國發展的影響？（A）外人勢力進入內地（B）不平等條約的開始（C）促使百日維新開始（D）外人可在港口設廠，打擊中國工商業。
19. 中國曾是亞洲強國，許多附近鄰國會臣服於中國，尋求中國保護，稱之為「藩屬國」。但在清末國力衰微，自顧不暇，多數藩屬國因此喪失。下列有關藩屬國的喪失，請依照時間順序排列？（甲）日併琉球（乙）日侵朝鮮（丙）法侵越南（丁）英佔緬甸（A）甲乙丙丁（B）乙甲丙丁（C）丙丁甲乙（D）甲丙丁乙。
20. 在甲午戰爭後，中國面臨列強瓜分的危機，但在下列哪一國家要求在華經濟利益均等，不願列強壟斷中國市場，進而提出「門戶開放政策」，使中國暫時免於被瓜分的命運？（A）美國（B）俄國（C）英國（D）荷蘭。
21. 西元十八世紀時，約翰是一個來到中國買賣的英國商人，當他來到廣州後，發現無法直接和官方交涉，必須透過下列哪個組織進行買賣？（A）會館（B）郊行（C）公行（D）總理衙門。
22. 有關清末「自強運動」的敘述，下列何者正確？（A）是受到鴉片戰爭失敗後的刺激而開始（B）帶領人物皆為地方官員（C）以軍事國防為重心（D）改革過於片面，對中國現代化毫無助益。
23. 西元 1997 年，在一場典禮中，英國查爾斯王子說：「這一重要而特殊的儀式標誌著香港在一百五十多年的英國統治之後，交還給中國。」請問：下列哪一個事件與英國取得香港統治無關？（A）中法戰爭（B）英法聯軍（C）鴉片戰爭（D）瓜分風潮。
24. 有一位大臣上書給皇帝：「鴉片流毒於天下，則危害甚巨，……使數十年後，中原幾無可以禦敵之兵，且無可以充餉之銀。」皇帝因而派他到廣州查禁鴉片。請問：上文中的「皇帝」及「大臣」為何人？（A）同治；曾國藩（B）道光；林則徐（C）咸豐；林則徐（D）光緒；曾國藩。
25. 圓明園是清代著名的園林建築，也是皇帝常去的渡假處所，但在 19 世紀的一場戰役讓它慘遭焚毀。這場戰役被法國文學家雨果評為「兩個強盜的勝利」，許多稀有珍寶因此付之一炬或是遭搶。請問：上述的兩個強盜所指為何？（A）俄國、英國（B）英國、法國（C）法國、德國（D）日本、俄國。
26. 時中抽空到故宮參觀了一場展覽，在展覽中他看到了中國歷史上某一位皇帝的玉璽，請問：根據玉璽上的字樣，時中看到的最有可能是哪位皇帝的玉璽？（A）洪秀全（B）光緒皇帝（C）康熙皇帝（D）朱元璋。
27. 《南京條約》使中國加入國際條約體系，但也讓中國開始長達百年的不平等條約待遇，請問：清朝在此條約及其續約中，喪失哪些權益？（甲）租界（乙）領事裁判權（丙）開放天津通商口岸（丁）協定關稅（A）甲乙丙丁（B）乙丙丁（C）甲乙丙（D）甲乙丁。
28. 清末中國的某項政治改革，其中推行的措施被認為：「勢必觸動數百翰林，數千進士，數萬舉人，數十萬秀才，數百萬童生之忌。」由於該措施大幅變動科舉考試方式，造成大量士人反彈，使得此一改革未能成功。請問：此政治改革為下列何者？（A）太平天國（B）戊戌變法（C）自強運動（D）王安石變法。
29. 張三是同治年間的中國有為青年，他想參加語言學校，學習外語，成為外交翻譯人才，協助國家振興。請問：他最應該參加下列何所學校？（A）京師大學堂（B）總理衙門（C）江南製造局（D）廣方言館。
30. 把甲午戰爭與鴉片戰爭做比較，此兩場戰爭有何共同的特點？（A）都是因商務問題引起（B）都是歐洲國家入侵中國的戰爭（C）議和的中國代表都是李鴻章（D）結果都有割地、賠款。
31. 清朝末年內憂外患不斷，甚至還出現清代最大亂事—太平天國。下列有關太平天國政權的論述，何者正確？（A）落實「公有共享」制度，有效改善貧民生活（B）假借基督教教義統治，常以耶和華、耶穌之名發號施令（C）自廣西起事，一路北伐，佔領天津後，定為首都（D）獲得英法兩國協助編練軍隊，對付湘軍。
32. 俄國在東亞有一著名的不凍港—符拉迪渥斯托克，此港口原名：海參崴，原是中國的領土，但在清末時割讓給了俄羅斯，從此成為俄國的重點發展區域。請問：此事最有可能是受到哪個條約簽訂的影響？（A）《南京條約》（B）《馬關條約》（C）《北京條約》（D）《天津條約》。
33. 下列清末所簽的條約與失地的組合，何者不正確？（A）南京條約→香港（B）璦琿條約→黑龍江以北（C）中俄北京條約→九龍司（D）馬關條約→遼東半島。

〔下頁尚有地理科試題，請繼續作答！〕

34. 右列為席維尼上台所做的「海岸型態專題報告簡報」，請問他哪個部分的介紹出錯了？(A)甲 (B)乙 (C)丙 (D)丁
35. 太行山為中國重要地理分界，山脈東側的斷層阻礙了當地經濟發展與交通往來，中國在當地興建掛壁公路。請問：穿越太行山的道路主要可連繫下列哪兩個地理區的往來，如下列何圖所示(圖上方皆為北方)？

(甲)分布：中國東南丘陵沿海
(乙)成因：陸地上升海面下沉
(丙)特色：海岸曲折、多良港
(丁)影響：華南地區成為「僑鄉」

【題組 36-38】

※2008 年「青藏鐵路」通車，這是條令中國人驕傲的天路，但中國不以此為滿足，於 2014 年開始修築「川藏鐵路」。川藏鐵路從四川省成都最終到西藏拉薩，全長 1629 公里，建成後成都到拉薩搭火車約 13 小時，最快則只要 8 小時。川藏鐵路沿線崇山峻嶺、懸崖峭壁，更有所謂的「八起八伏」(如圖所示)，工程難度比青藏鐵路更高，川藏鐵路建成後，將提升四川西部交通樞紐的地位。請問：

36. 四川省近年的現代交通日漸發展提升了交通易達性，但自古其實有「蜀道難，難於上青天」的說法，請問昔日進出交通不便的主因為何？

(A)地勢落差大 (B)形式封閉 (C)山環水繞 (D)水土流失

37. 文中提及的「八起八伏」及工程的困難度，主因為川藏鐵路經過下列哪一地理區？(A)東南丘陵 (B)黃土高原 (C)橫斷山脈 (D)大興安嶺

38. 承上題，關於此地理區的描述，何者正確？(A)為印度半島河川源頭

(B)土樓為本區的傳統建築 (C)富含水力發電資源 (D)氣候上有「中國夏威夷」之稱

【題組 41-43】

※右圖為黃河的開封河段河床高於城市地面的「懸河」景觀，由於開封城地勢十分低窪，而黃河在此河段落差驟然變小，泥沙大量沉積，堤壩也被迫越築越高。請問：

39. 此問題主要發生於右列黃河示意圖的哪一段？(A)甲 (B)乙

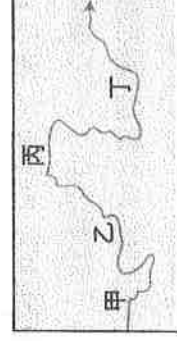
(C)丙 (D)丁

40. 黃河在此河段大量泥沙沉積的現象與下列哪一地理區最為

相關？(A)黃土高原 (B)雲貴高原 (C)橫斷山脈 (D)蒙古高原

41. 現今針對黃河的治理，下列哪一措施沒有實質的幫助，甚至可能造成環境生態惡化？

(A)上游砍伐森林增加耕地 (B)中上游興建水庫調節水量 (C)下游開闢分洪區並加固堤防 (D)中上游植草造林防止水土流失



【題組 44-46】

※右列為 2017 年中國前十大都市的 GDP 排名。請根據此表提供的資訊，

回答下列問題，請問：

42. 下列哪一地區沒有排名進前十大的都市？(A)華南地區 (B)華中地區

(C)華北地區 (D)東北地區

43. 承上題，該區未能有排名進前十大的都市，主因為產業發展面臨下列哪些瓶頸？(甲)缺乏出海港口 (乙)礦產逐漸枯竭 (丙)工廠設備老化

(丁)生產效率低落 (A)甲乙丙 (B)乙丙丁 (C)甲丙丁 (D)甲乙丁

44. 由哪一條河流沿岸城市排名進前十大的城市數量最多，為中國重要的經濟命脈？(A)遼河 (B)黃河 (C)長江 (D)珠江

排序	省、市	都市	人口數	GDP(億人民幣)
1	上海	上海市	23,019,196	30,133
2	北京	北京市	19,612,380	28,000
3	重慶	重慶市	16,044,027	19,530
4	廣東	深圳市	10,358,381	22,286
5	廣東	廣州市	12,701,948	21,500
6	天津	天津市	12,938,693	18,595
7	江蘇	蘇州市	10,459,890	17,000
8	四川	成都市	14,047,625	13,890
9	湖北	武漢市	9,785,388	13,400
10	浙江	杭州市	8,700,373	12,556


【題組 45-46】

※湖北省武漢市為本次 COVID-19(武漢肺炎)爆發地，從去年底至今疫情仍未平息，甚至已傳播至世界多國，除中國外，近來日本、韓國、伊朗、歐洲各國、甚至美國…等地區，也都爆發了規模不等的社區感染，WHO 日前已正式宣告

COVID-19 為全球性的傳染性疾病。請問：

(背面尚有試題，請翻面作答)

45. 病毒的來源一開始大家認為來自蝙蝠，事實上武漢市自然環境優越，歷史悠久，飲食文化多元，當地居民對於野生動物更是愛不釋手，果子狸、竹鼠、蠍子、蝙蝠等都是老饕口中的稀有「山珍」。而武漢市所在湖北省，請問其地形與氣候的搭配，下列何者正確？



46. 武漢市所在的地理區自古在中國糧產及經濟皆扮演重要角色，請問下列哪一諺語即是對該地理區的描述？(A)天府之國 (B)湖廣熟，天下足 (C)上有天堂，下有蘇杭 (D)山環水繞，沃野千里



【題組 47-48】

※灣區是由一個海灣或相連若干個海灣、港灣及鄰近島嶼共同組成的區域。而由灣區地理位置所衍生出的經濟效應被稱為灣區經濟。「粵港澳大灣區」則是中國經濟最發達的區域之一，經濟實力雄厚，城市包括：廣州、深圳、珠海、東莞、惠州、肇慶、佛山、中山、江門以及香港和澳門。而「環杭州灣大灣區」，則是中國經濟最具有發展潛力的經濟板塊，城市包括：上海、杭州、寧波、嘉興、紹興和舟山。請問：

47. 根據上文，請問：右列表格對於兩個

灣區的比較整理，何者正確無誤？

48. 下列哪些敘述為這兩個灣區同樣皆具有的**發展優勢**？(甲)海運便利 (乙)能源豐富 (丙)曾被殖民 (丁)勞力充足
(A)甲乙 (B)乙丙 (C)丙丁 (D)甲丁

	粵港澳大灣區	環杭州灣大灣區
(A)城市位置示意圖		
(B)省級行政區	廣州市	上海市
(C)所屬經濟圈	珠三角	環渤海
(D)氣候類型	熱帶季風為主	副熱帶季風為主

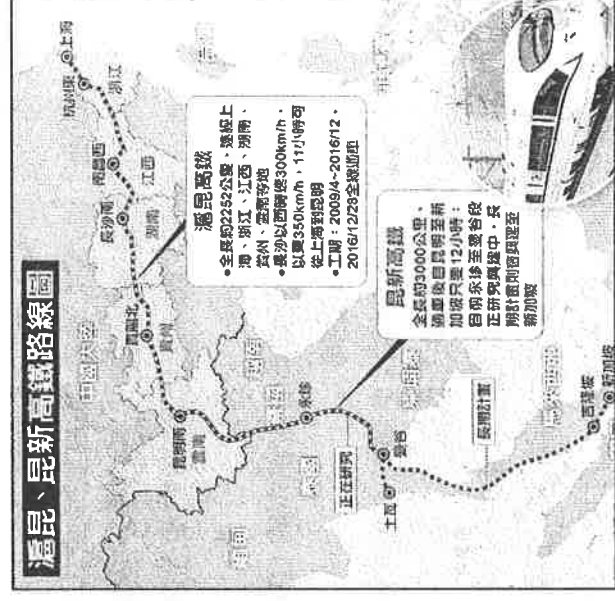
【題組 49-50】

※2018 年底，中國高鐵營業里程達到 2.9 萬公里，這已超過世界高鐵總里程的三分之二，成為世界上高鐵里程最長、運輸密度最高、交通網營運場景最複雜的國家。而 2016 年底通車的「滬昆高鐵」路線，從「經濟中心—上海」直達「通往東南亞的重鎮—雲南昆明」只要 11 小時，此外，昆明做為中國陸上通往東南亞的「一帶一路」政策門戶，中國更預計提供沿線各國低利貸款興建全長約 3000 公里「泛亞鐵路」，未來如真能全線通車，預計昆明穿過麻六甲海峽到新加坡，只要約 12 至 15 小時。此兩條重要高鐵幹線路線如右圖所示。請問：

49. 若麵包老師暑假時預計搭乘「滬昆高鐵」，她事先找了兩個城市的七月某日氣溫圖(如右所示)，請問：兩者七月溫度的差異，主要受下列哪一因素影響？

(A)距海遠近 (B)雨量多寡 (C)地勢高低 (D)緯度高低

50. 列車行經上海站—杭州東站路線時，乘客最有可能在窗外看見下列哪一景觀？



〔試題到此結束，請仔細檢查〕