

選擇題：【第 1~48 題，每題 2 分；第 49~52 題每題 1 分，滿分 100 分】

1. 中國人至今都是一個重「人情」的民族，其缺點之一是用時常只問「關係」，不問能力。為了防止濫用私人，於是孫中山主張將考試權從哪個部門中獨立出來？ (A)行政權 (B)立法權 (C)司法權 (D)監察權。
2. 下列關於「五權分立」學說的敘述，何者正確？ (A)監察權由行政權分立出來，可以監督政府人員的施政。 (B)將監察權從行政部門劃分出來，可以避免議會專制 (C)五權分立可有效提升政府施政效率、減少支出浪費 (D)將中央政府的權限劃分為行政、立法、司法、考試與監察五權。
3. 我國中央政府體制為了避免濫用私人與杜絕國會專制的缺陷，將考試權與監察權特別獨立出來。請問：這是採用何人提出的什麼理論？ (A)艾克頓爵士；權力分立 (B)孟德斯鳩；五權分立 (C)孫中山先生；五權分立 (D)孟德斯鳩；三權分立
4. 美國政府體制的設計具有權力分立精神，由以下新聞中可觀察到哪兩權的互動關係？

國際新聞

美國國會以全數票數通過《臺灣友邦國際保護及加強倡議法案》（簡稱為《臺北法案》），並遞交給美國總統川普簽署。這項法案的通過不僅促進兩國之間的友善合作關係，也增加我國參與國際社會的交流機會。

- (A)立法權、行政權 (B)行政權、司法權 (C)司法權、立法權 (D)監察權、立法權。
5. 民主國家採行分權制衡制度，以防範政府權力過於集中而腐化。為達成分權制衡的精神，在我國中央政府組織中，除了立法院外，哪一院也能發揮監督行政機關的效果？ (A)行政院 (B)司法部 (C)考試院 (D)監察院。
6. 雙十國慶日舉行國慶軍方表演活動，其中三軍的軍力展示仍然是重頭戲。請問：依法得以三軍統帥的身分參加典禮 並且曾宣示未來的每一天，都會和國軍站在一起，推動改革，負起保家衛國責任的是下列哪一公職人員？ (A)國防部部长 (B)總統 (C)行政院院長 (D)參謀總長。
7. 我國中央政府的運作，落實了「權力分立」的原則。關於總統與立法院之間的互動關係，下列敘述何者正確？ (A)立法院可對總統提出不信任案 (B)總統任命的行政院長不須經立法院同意 (C)立法院有向總統質詢之權 (D)立法院三讀通過的法案不須經總統公布即能生效
8. 行政院院長召開會議時所發表的談話 「這次通過法律案，將造成投機份子哄抬房價，影響民生甚鉅，實為不妥，行政院將…」。請問：行政院將採取何種處置 (A)提出不信任案 (B)提出彈劾案 (C)提出覆議 (D)提出糾正案
9. 對於違法或失職的公務人員，監察院依法得加以彈劾，一旦彈劾案成立，即交下列何者議處？ (A)行政院法務部 (B)憲法法庭 (C)公務員懲戒委員會 (D)地方法院
10. 下列何者是憲法法庭所負責的事項？ (A)提出對總統、副總統罷免案 (B)審理政黨違憲的解散事項 (C)審核政府的決算 (D)審議公務員的懲戒案件
11. 根據《憲法》規定，我國組成憲法法庭的成員，其產生方式為何？ (A)人民直接選舉 (B)由總統提名，經立法院同意後由總統任命 (C)行政院院長提請總統任命 (D)參加考試。
12. 下列對於監察院「糾舉權」、「彈劾權」及「糾正權」的相關敘述，何者正確？ (A)糾舉權向不當施政的行政機關提出，促其改善 (B)糾正權向被糾正人的主管或上級長官提出 (C)彈劾權是以「人」為對象；糾正權則以「機關」為對象 (D)糾舉權向公懲會提出。
13. 南韓前總統朴槿惠因涉及收賄、濫權、洩密等多項罪名而遭到彈劾，是南韓史上首位因被彈劾而下臺的總統。請問 若此彈劾案發生在我國，提出該彈劾案應屬於哪一中央機關的職權？ (A)立法院 (B)司法部 (C)行政院 (D)監察院。
14. 延愈在電視上看到立法院開會的新聞報導，畫面為某立委正在進行質詢。請問：下列何者可能為被質詢的中央政府官員？ (A)總統 (B)考試院院長 (C)台北市市長 (D)衛福部部长
15. 立法院若對行政院的施政不滿意時，得對行政院院長提出不信任案 亦即倒閣。下列相關敘述，何者正確？ (A)行政院院長可移請立法院覆議 (B)行政院院長可宣告解散立法院 (C)總統可直接宣告解散立法院 (D)不信任案通過後，行政院院長必須辭職。
16. 叔慧是負責採訪政治新聞的記者，她發現公教人員的撫卹、退休等事宜跟以往有些不同。根據上述內容判斷，叔慧應該採訪下列哪個機關的首長，才可以得到比較明確的資訊？ (A)考試院 (B)行政院 (C)監察院 (D)立法院。

17.北宋積弱且外患頻仍。這些外患以哪三國為主？

- (A)蒙古、遼、金 (B)金、匈奴、蒙古 (C)日本、朝鮮、越南 (D)遼、西夏、金

18.蒙古統治中國不足百年，統治期間民族融合的效果不顯著，蒙古人也是歷來漢化程度最淺的外來統治者。這與元朝哪項政策的實施有很大的關係？

- (A)差別待遇 (B)以漢制漢 (C)夷夏一家 (D)統而不治

19.「市舶司」多設立沿岸城市，負責管理與稅金之徵收。市舶司的出現反映了何種社會現象？

- (A)夷夏之防 (B)貿易興盛 (C)外患頻仍 (D)稅制改革

20.據《東京夢華錄》記載，為滿足市民的夜生活，原先的坊市制、宵禁全無法再實施了，城裡出現夜市、早市。各稱店舖經常營業至三更方盡，五更又重新開張。上述城市現象最早出現在何時？

- (A)明代 (B)清代 (C)宋代 (D)元代

21.蒙古西征後，在征服區內廣建下列何設施，使得東、西經貿大增？

- (A)會館 (B)公行 (C)市舶司 (D)驛站

22.英國學者李約瑟指出：「中國科學技術發展到宋元時期，已呈現巔峰狀態，在許多方面實際已經超過十八世紀工業革命前的英國或歐洲水平。」尤以火藥、印刷術、指南針，在該時期有劃時代的突破。若想進一步了解宋元的科技成就，應翻閱下列哪本古籍？

- (A)《資治通鑑》 (B)《四書集注》 (C)《夢溪筆談》 (D)《幾何原本》

23.英國窩本公園(Woburn Park)中的湖畔有亭臺、樓閣及迴廊建築，頗具中國特色。請問：這項文化影響與下列何者有關？

- (A)耶穌會傳教士的介紹 (B)鄭和下西洋 (C)蒙古西征 (D)張騫出使西域

24.下列關於宋代學術思想的敘述，何者正確？

- (A)強調儒家的經典，排斥其他思想 (B)稱為「理學」，倫理觀念成人民日常生活的指導 (C)稱為玄學，僅流行於宋代 (D)學者崇尚自然，避論時政，不管國家、社會之事

25.探險家團隊想重現「三保太監下西洋」的冒險歷程，因此照著史料上的記載，搭船到這位歷史人物所到之處，尋找其遺留的蹤跡。探險家團隊不可能到附圖中的哪個地區？



- (A)甲 (B)乙 (C)丙 (D)丁

26.明朝北方始終處於「甲」的威脅之下，而東南沿海則苦於「乙」的侵擾。請問：「甲」、「乙」依序應填入下列何者？

- (A)俄國、倭寇 (B)蒙古、倭寇 (C)匈奴、女真 (D)蒙古、流寇

27.下列哪一個地區並未納入清朝極盛時期的版圖？

- (A)蒙古 (B)西藏 (C)朝鮮 (D)新疆

28.明清時代，曾多次實施海禁。清朝曾將沿海居民向內遷徙三十里，不准船隻下海，是什麼原因？

- (A)倭寇作亂 (B)海上有強敵窺伺 (C)打擊臺灣鄭氏 (D)實施閉關自守政策

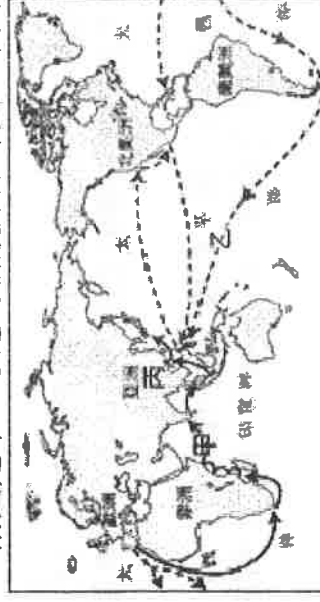
29.下列關於明清社會經濟之敘述，何者正確？

- (A)自越南傳入早熟稻，紓緩糧食不足問題 (B)形成地域性的商幫組織 (C)因人口增加，部分人民移民非洲東岸 (D)專業市鎮興起，如以紡織著名的江西景德鎮

30.中國自古即以天朝自居，於是以「番」來統稱外族。閩南語的「番薯」、「番麥」都是十六世紀西班牙人透過海上絲路傳入中國的作物。下列哪個朝代最早出現番薯、玉米等作物？

- (A)明 (B)宋 (C)元 (D)清

31.附圖是十七世紀的新航路路線圖。下列相關敘述，何者正確？



- (A)附圖中的甲路線是由西班牙人所建立的 (B)附圖中的乙路線是由葡萄牙人所建立的 (C)丙地是西班牙人在亞洲的據點澳門 (D)白銀、玉米、番薯等皆由這乙路線進入中國

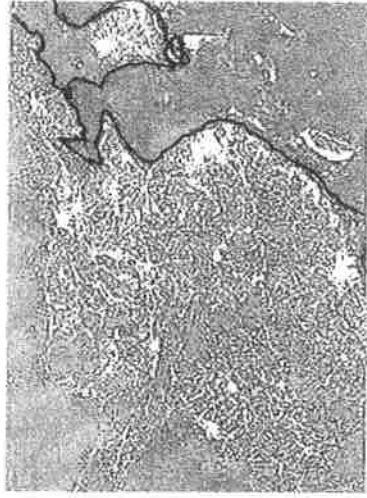
32.明末清初來華的傳教士，促成新一波中西文化交流的高峰。下列關於此時期的中西文化交流，何者敘述正確？

- (A)將中國造紙術、火藥傳往西方 (B)利瑪竇將《坤輿萬國全圖》獻給明神宗 (C)十六世紀初湯若望抵華，編修曆法和製作火炮，貢獻卓越 (D)因涉及皇位之爭，乾隆帝下令禁教

33.中國政府以天朝自居，發展出一套和周邊藩屬國家採行「冊封——朝覲——進貢」的特殊商業型態，這種貿易型態稱為什麼貿易？ (A)朝貢貿易 (B)公行貿易 (C)過境貿易 (D)進口貿易

34. 建築師如果對當地的氣候、風土人情有充分了解，才能建造出最適合當地居民的房屋。以下是三光建築事務所傳來的對話，哪位建築師對中國建築的評論有誤？ (A)陳小南：「中國南部因雨日多，房屋最好要有騎樓的設計」 (B)郭小嫻：「為了防止冬天冷風，中國傳統房屋大多坐北朝南」 (C)黃小城：「雲貴高原有石灰岩溶洞等地形，加上雨量相對較少，常見窑洞這種就地取材的建築」 (D) 康小盆：「新疆地區因氣候乾燥，適合蓋平頂、厚牆、窗小的平頂式建築」

35. 下圖的中國衛星夜景影像圖，亮度較大的地方，表示燈火通明，下列是四位同學對這一張圖的亮度分布分析，哪一位的說明是錯誤的呢



- (A)陳小瑾：沿海較亮，說明沿海經濟發展大於內陸
(B)張小錡：東部較亮，說明東部經濟發展大於西部
(C)粘小釐：亮度最集中的地方，是中國華中地區長三角
(D)葉小麟：東北地區有亮白色直線，是因為該區水運發達

36. 阿濬是馬來西亞的華人子弟，從小常聽長輩講家族移民故事：「...那時我爺爺住的地方都是丘陵，平原很少，眼看家中人口越來越多，糧食短缺的壓力迫使爺爺決定就近冒險出海往新世界開墾...」。阿濬很想知道祖先最有可能來自中國何處，根據故事內容判斷，阿濬的家族最可能來自右圖哪一帶附近？ (A)甲 (B)乙 (C)丙 (D)丁



37. 根據中國相關單位引述，英國勞氏日報近期發布的「2019 年全球百大貨

櫃港口排行榜」，前十名就有七個是中國的港口（如下表），百大港口裡中國亦有 21 個港口上榜。

排名	港口	所在國家/地區	2019 年集裝箱吞吐量 (單位：百萬 TEU)
1	上海港	中國	43.30
2	新加坡港	新加坡	37.20
3	寧波舟山港	中國	27.54
4	深圳港	中國	25.77
5	廣州港	中國	23.24
6	釜山港	韓國	21.99
7	青島港	中國	21.01
8	香港港	中國	18.36
9	天津港	中國	16.00
10	鹿特丹港	荷蘭	14.81

38. 『從呼和浩特出發，開車約 40 分鐘，便進入內蒙

說明：TEU 是指『20 呎標準貨櫃箱』(Twenty-foot Equivalent Unit)

古自治區和林格爾縣，一座一望無際、水草肥美的現代化牧場呈現在眼前。這座和林格爾牧場佔地 8848 畝，斥資 2 億元，集“種草、養牛、擠奶”於一體，是亞洲最大牧場，也是蒙牛控股現代牧業...』


根據描述，該牧場最可能在右圖何處？(A)A (B)B (C)C (D)D

39. 下列關於中國傳統的生活方式描述，哪些正確：(甲)傳統上秦嶺、淮河以南的居民主要種植小麥 (乙)新疆居民利用夏季高山融化雪水發展綠洲農業 (丙)青藏居民利用藏南縱谷河谷低地種植青稞



(丁)內蒙古高原東側多以逐水草而居的游牧維生？ (A)甲乙 (B)丙丁 (C)乙丙 (D)甲丁

40. 下列漫畫反映了中國的人口現況，其中何者與少子化現象 **最不相關**？



★『我們都爲了生活四處的東奔西走

蝸居在繁華城市北上廣深

總會爲房子車子孩子疲憊前

總是在憧憬中期待理想的生活……』

以上節錄自北上廣的我們這首歌。講到大陸城市排名，歌詞中的「北上廣深」是中國人心中的一線城市。不過，根據大陸媒體《第一財經》綜合最新商業品牌、19 家網路用戶行為數據等資料，目前四大城市排名已經翻轉成「上北深廣」了！請問：

41.北上廣深這四個一線城市的共同特色為何？

- (A)都位於長三角經濟圈 (B) 都屬於東部經濟帶 (C)都是直轄市 (D)都設立了經濟特區
- 42.文中排名超越廣州的深圳經濟快速起飛的同時，市容產生急速變化，摩天大樓林立。「深圳速度」，在中國被用來形容建設速度之快，請問其發展優勢不包含下列何者？(A)位置鄰近香港 (B)設立經濟特區 (C)大量外資投入 (D)礦產蘊藏豐富。

★2019 年上映的真人版電影《花木蘭》翻拍自 1998 年迪士尼製作的同名動畫，內容乃由中國民間傳說改編而來，描述花木蘭這位奇女子代父從軍的故事。花木蘭代父出征，在火鳳凰的指引下，從原居住地的華北平原，前往內蒙古高原的軍營準備作戰，抵抗柔然大軍。請問：

43.在花木蘭往軍營移動的過程中，最可能發現哪種地理現象的變化？

- (A)氣候逐漸轉變為乾燥氣候 (B)由畜牧業轉變為農業為主
- (C)交通方式以水運為主 (D)日夜溫度的變化不大

44.根據國文課本《木蘭辭》的敘述：“旦辭爺娘去，暮宿黃河邊”，花木蘭的家離黃河不遠，應該是北方人，因此電影中 最不可能 出現下列哪種場景？(A)花木蘭從小就擅於騎馬 (B)與家人一起住在杆欄式建築裡 (C)晚上吃刀削麵條和燒餅 (D)夜晚睡在溫暖的炕床上(註：炕床，可以燒火取暖的臥具)

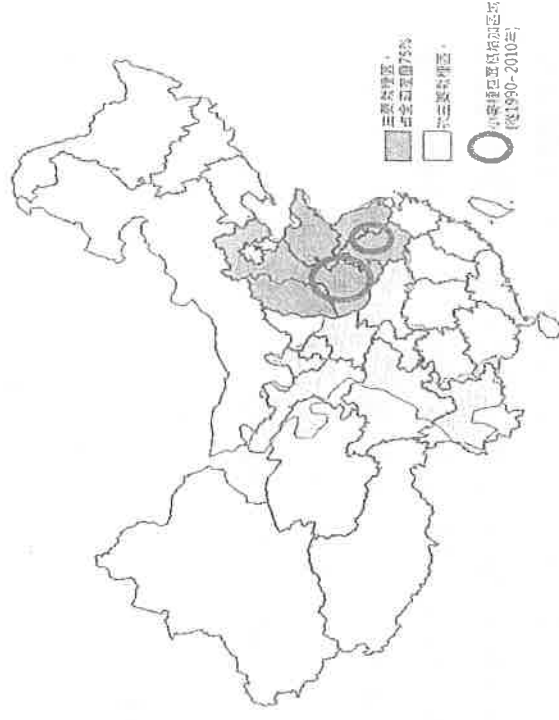


★中國人口占全世界的 1/5，境內卻只有 1/10 的可耕地，糧食供給因而成為一大難題。右圖是中國主要小麥栽種區的地理分布，請根據此圖回答下列問題：

45.根據上述:中國人口占全世界的 1/5，境內卻只有 1/10 的可耕地，可以推論中國農業的何項特徵？(A)農業技術提升

(B)市場需求改變 (C)人均耕地狹小 (D)城鄉差距嚴重

46.圖中小麥主要栽種區集中河北省、山東省、河南省等，產量佔了全國產量的 75%，其分布地區跟下列何種主題地圖的分布相類似？(A)中國自治區分布圖 (B)中國高原分布圖 (C)中國經濟特區分布圖 (D)中國水資源短缺分布圖



47.下列何者 不是 中國在農業發展上的現況？(A)集約耕作高密度經營造成農業生態環境惡化

(B)全面機械化取代人力，使得農民收入大增 (C)飲食習慣改變降低糧食作物種植面積 (D)提升農業技術以增加單位面積糧食產量



★右為中國積極推動之『一帶一路』路線規劃圖。請問：


48.請問中國哪項政策的實施，構建了『一帶一路』需要的基礎建設，可說是『一帶一路』的推手？ (A)西部大開發政策 (B)東北振興計畫 (C)改革開放政策 (D)人口城鄉分離政策

49.根據海陸位置、區域特性判斷，『絲綢之路經濟帶』旅客及貨物的運輸最適合的交通工具為何？(A) 船運 (B)空運 (C)鐵路運輸 (D)管線運輸。

50.透過『一帶一路』路網的建立，中國的投資觸手及資金也伸向了路線上的各個國家，甚至影響了該國的經濟與政局。請問選項中哪一國家不位在規劃路線上，暫時不被列為『一帶一路』重點投資國家？(A)日本 (B)哈薩克 (C)馬來西亞 (D)義大利

★中國的國務院發展研究中心 2005 年發布的《地區協調發展的戰略和政策》報告裡，將中國經濟劃分為東部、東北、中部和西部四大板塊，中國國務院亦按此方法劃分中國的經濟區域。下表是 2013 年的中國四大經濟區之生產總值（GDP）與人口所佔百分比，參考表中提供的數據，請問：

	甲	乙	丙	丁
GDP 百分占比	20%	20.2%	51.2%	8.6%
人口百分占比	27%	26.6%	38.2%	8.1%
一級行政區	1 個直轄市、 5 個自治區、6 個省	6 個省	3 個直轄市、7 個省 、2 個特別行政區	3 個省



51.上表中的丁區目前正積極更新工廠老舊設備或進行工業升級，並加強跟俄

羅斯、北韓進行邊界經貿合作，希望能因此而提振經濟；請問下列何種產業較不可能是丁區欲改善或重點升級的產業？(A)石化工業 (B)鋼鐵工業 (C)造船工業 (D)棉紡工業

52.『近年來因經濟蓬勃成長，消費水準高、物價上漲，加上中國二、三線城市逐漸開發，許多民工返鄉後不再回到原本的工作崗位，造成此區的企業竟出現了缺工潮(如上圖)……』這種困擾最可能發生在表格中的哪個經濟區？(A)甲 (B)乙 (C)丙 (D)丁

第 5 頁(試題結束，寫完別忘了多檢查幾次唷!)

【第 1~48 題，每題 2 分；第 49~52 題每題 1 分，滿分 100 分】