

台中市三光國中一〇九學年度第一學期第三次定期評量九年級社會科試卷(第一頁)

選擇題：第1～46題每題2分，47～54題每題1分；滿分100分

- () 1.行政院主計處公布某月份失業率是3.77%，假設失業率攀高是因為經濟不景氣，則下列哪一項是人民失業的主因？ (A)沒有工作能力 (B)沒有工作機會 (C)沒有工作意願 (D)沒有找工作的行動
- () 2.臺灣近幾年來由於產業結構的變化與轉型，造成了部分民眾失業。而縣市政府也成立了職業訓練中心，提供各項職業訓練。職業訓練的最主要作用為何？ (A)提升求職者的就業意願 (B)幫助求職者培養工作能力 (C)提高失業者的鬥志 (D)靠關係幫失業者安插職位
- () 3.財政部呼籲投資人，投資股市風險高，宜謹慎小心。下列敘述何者正確？ (A)買股票是非法的行為 (B)勸人不要買股票，不做投機的投資 (C)購買股票是合法投資，但要有承擔風險的準備 (D)臺灣股市處處陷阱，叫民眾小心上當
- () 4.陳大叔是個未雨綢繆的人，擔心銀行會倒閉，跟會不保險，所以她將所有的積蓄分開，存放在不同的地方，一些用來買外幣，一些用來跟會，一些則存放在郵局。由此可知，陳大叔具有何種觀念？ (A)分散風險 (B)降低成本 (C)追求利潤 (D)開源節流
- () 5.美麗是網路拍賣的愛好者，常將自己不需要的物品放到網路上拍賣，今天，美麗買了一件1200元的裙子，而後放到網路上拍賣，最後賣出價為1400元，則其投資報酬率為何？ (A)10% (B)16.6% (C)21.5% (D)23.3%
- () 6.「天有不測風雲，人有旦夕禍福。」日常生活中充滿了各種風險，即便是將預留的儲蓄存放在銀行，日後也可能產生形同財富縮水的情形。上述是在說明下列哪項情形？ (A)所賺到的利息收入比物價上漲程度多 (B)投資報酬率低的理財工具，其風險愈高 (C)所賺到的利息收入可能還不及物價上漲的幅度 (D)開源與節流的重要
- () 7.根據報紙報導：「中央銀行宣布利息調降三碼(0.75%)」。這項措施對下列使用哪一種理財工具的人影響最大？ (A)買10張台積電股票的玉祥 (B)在銀行開戶存定期存款的正男 (C)在大學附近買小套房準備出租的小閔 (D)買名畫收藏的安安
- () 8.阿德工作多年，每年最期待的便是年終尾牙餐敘的摸彩活動，除了每個人均有六個月員工分紅的年終獎金外，第一特獎是公司股票十張，市值一千萬，這也是大家搶破頭的大獎。該企業年終尾牙餐敘舉辦摸彩、發年終獎金與股票分紅的福利，與哪種精神相符？ (A)重視消費者權益 (B)保障員工權益 (C)重視環境保護 (D)從事社會公益
- () 9.奇美企業創辦人許文龍先生為了深扎南臺灣的文化藝術推廣，蓋了「奇美博物館」，提供民眾參觀。這樣的行為是企業倫理中哪種內涵的具體表現？ (A)重視消費者權益 (B)保障員工權益 (C)重視環境保護 (D)從事社會公益
- () 10.環保署呼籲民眾挑選年節禮盒時，應掌握「一多三少」原則，亦即產品份量多、包裝材料少、種類少、印刷少；更不要花錢買包裝。上述做法符合下列何種概念？ (A)綠色消費 (B)綠色管理 (C)綠色建築 (D)綠色能源
- () 11.「氣候變遷」為世界各國共同關心的議題，主要源自於各國工業大量排放二氧化碳，使得溫室效應增強，導致氣溫上升，而造成氣候的異常變化。此種為了經濟發展犧牲自然環境的現象，隱含了何項經濟學概念？ (A)機會成本 (B)外部效益 (C)供需原理 (D)需求法則
- () 12.綠光企業日前榮獲政府頒發的「國家永續發展獎」獎牌，該公司總裁表示：「企業不該只是獲利機器，也應該擔負起一個減少產業對環境污染的責任。」上述企業善盡了哪方面的社會責任？ (A)重視消費者權益 (B)保障員工權益 (C)重視環境保護 (D)從事社會公益
- () 13.秀珍每個月的薪資收入是55,000元，她每個月的日常消費約為14,000元，定存9,000元，投資共同基金9,000元，購買外幣13,000元，剩下的則用來支付每個月的房屋貸款。秀珍每個月投資理財的金額是多少元？ (A)10,000元 (B)18,000元 (C)22,000元 (D)31,000元
- () 14.新聞報導：「桃園市政府舉辦『廢棄物處理循環經濟特展』成果發表會，透過上百種廢棄物資源物的展出，讓民眾了解所有廢棄物其實都是資源，廢燈管也能新生。」上述政府的做法主要是基於下列哪項原因？ (A)比較利益 (B)永續發展 (C)供給法則 (D)機會成本
- () 15.駿霖投資的公司依法可向民眾招募資金，出資的股東則依投資額分享利潤並承擔虧損風險，但公司資產不足以承擔虧損時，股東無須以私人財產來支付債務。上述駿霖投資的公司應是屬於哪種型態？ (A)獨資 (B)零售 (C)合夥 (D)股份有限公司
- () 16.經濟部提出幾項新政策的推動，項目包括「擴大電費折扣獎勵節能措施」、「LED交通號誌燈全面汰換」等，並表揚去年全國各地省電表現卓越之十大省電達人。上述經濟及能源部的新政策主要是為了下列哪項目的？ (A)促進國際交流 (B)推廣理財觀念 (C)解決金融危機 (D)落實節能減碳

背面尚有試題，請翻面作答

17. 娚娟在準備段考時，整理了他的歷史筆記，他針對普魯士國王腓特烈二世、俄皇凱薩琳二世做了比較，請問在「共同點」部分，如何書寫最為正確？ (A)深信君權神授，力行中央集權 (B)倡導議會政治，推動責任內閣制 (C)傳播「自由、平等、博愛」的精神 (D)受到啟蒙運動影響，推動教育、法律改革。

18. 某傳記中出現以下內容：「贖罪券……對煉獄裡的靈魂毫無功效，教會所施的懲處僅能及於活人……基督徒凡真心悔改，就已從神得到恩赦，完全與贖罪券無關，因此無需贖罪券。」請問：這本傳記名稱應為以下何者？ (A)馬丁路德傳 (B)羅耀拉傳 (C)查士丁尼傳 (D)但丁傳。

19. 啟蒙運動的思想影響後世深遠，使得自由、平等及人權受到重視，而在啟蒙運動發展中，右圖中哪個國家因為聚集了許多學者成為啟蒙運動的重鎮，也是受到啟蒙運動影響最深的國家之一？ (A)甲 (B)乙 (C)丙 (D)丁

20. 法國名著《三劍客》以十七世紀法國宮廷為背景，記錄了年輕人達太安離家前往巴黎，加入火槍隊，最後成為國王護衛隊長的故事。經歷史學家考證，小說中的主角達太安確有其人。請問：身為國王護衛隊長長的達太安最有可能曾經歷下列何種情形？ (A)與國王一同視察凡爾賽宮的興建 (B)參加光榮革命，宣誓效忠新國王 (C)與思想家盧梭討論天賦人權 (D)在法國大革命中保護國王。

21. 下列有關啟蒙時代的大師之敘述，何者正確？ (A)伏爾泰抨擊教會，稱羅馬公會為惡棍、教皇為兩足禽獸 (B)洛克著有《國富論》，主張「天賦人權」 (C)孟德斯鳩主張「主權在民」，著有《民約論》 (D)亞當斯密主張理性，號召學者編《百科全書》以推廣知識。

22. 牛頓曾說：他是「站在巨人的肩上，所以看得遠。」這裡的巨人其實是在牛頓之前發表各項科學研究成果的科學家。請問：以下哪組人物符合牛頓所提之「巨人」敘述？ (A)佩脫拉克、但丁 (B)路易十四、亨利八世 (C)哥白尼、伽利略 (D)哥倫布、狄亞士。

23. 《人權宣言》的第三條提及：「一切主權的根源均屬於人民。」請問：此說法與下列何人的主張相符合？ (A)狄德羅 (B)伏爾泰 (C)洛克 (D)盧梭。

24. 有關十九世紀中葉美國的政治與社會情況，何者敘述正確？ (A)美國領土由南向北不斷擴展 (B)北方以工業為主，南方以農業為主，造成政治、經濟觀念分歧 (C)林肯當選總統後，因徵稅問題爆發「南北戰爭」 (D)因選舉的嚴格財產限制，國會推動改革法案。

25. 九年八班在討論有關「法國大革命」的背景與過程。下列何人的觀念最正確？ (A)翌豪：「三級會議是由貴族、平民及奴隸所組成的。」 (B)秉耆：「民眾進攻巴士底監獄被視為法國大革命的開始。」 (C)有威：「歐洲各國表示支持，組成聯軍援助法國大革命。」 (D)裕文：「拿破崙執政，實施恐怖統治。」

26. 「他自視為歐洲保守主義的維護者。他認為民主政治為亂政、法國大革命是洪水猛獸，相信革命破壞秩序而非建設秩序。」請問：此文描述最符合何人的作風？ (A)彼得大帝 (B)查理一世 (C)梅特涅 (D)路易拿破崙。

27. 下列有關十九世紀法國發生的事件，請依照發生的時間先後排列。(甲)滑鐵盧之戰(乙)法國二月革命(丙)法國七月革命(丁)維也納會議。 (A)甲→丁→乙→丙 (B)丁→甲→丙→乙 (C)甲→乙→丁→丙 (D)丁→甲→乙→丙。

28. 工業革命傳播開來後，給人類的歷史帶來下列哪些影響？(甲)交通工具的革命(乙)縮小貧富差距(丙)爭奪海外殖民地(丁)社會主義興起 (A)甲乙丙 (B)乙丙丁 (C)甲丙丁 (D)甲乙丙丁。

29. 清領後期，加拿大籍傳教士馬偕到臺灣傳教。當時阿華受到馬偕影響，受洗後成為忠實的基督教長老教會信徒，跟著馬偕四處行醫及傳教。請問：阿華所加入的長老教會在宗教改革時屬於哪一教派？ (A)東正教 (B)耶穌會 (C)喀爾文教派 (D)路德教派。

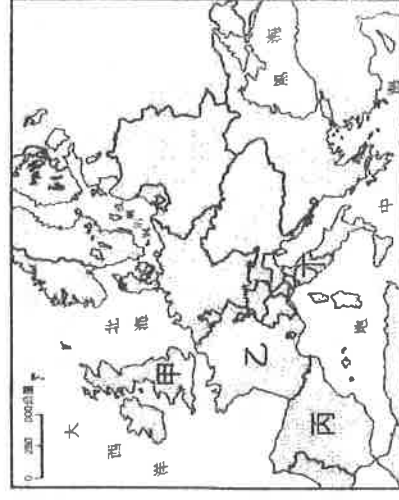
30. 愛德華身處在西元 19 世紀初的英國，他最有可能遇到哪一件事？ (A)工廠充斥許多勞工，工作環境惡劣 (B)議會推動法案，女子獲得投票權 (C)約翰王與貴族簽屬《大憲章》，王權受到限制 (D)爆發清教徒革命，國王查理一世戰敗。

31. 下列何者不是有助於十七世紀科學發展的因素？ (A)新科學研究方法的應用 (B)科學工具的發明與改良 (C)工業革命後的大量發明 (D)統治者的支持，成立研究機構。

32. 英國的民主政治成為許多國家的典範，尤其是君主立憲制度更是完善。但在英國歷史發展過程中，卻仍有一段短暫的共和體制時期，請問該時期是發生在何項事件之後？ (A)七月革命 (B)二月革命 (C)光榮革命 (D)清教徒革命。

33. 旅遊節目介紹：「這個城市位在美國東岸，是美國最早開發的城市之一。此外，在北美十三州時期，為了對抗英國的統治，北美殖民地代表也是在這個城市舉行大陸會議，並於 1776 年 7 月 4 日發表《獨立宣言》，宣布脫離英國。」此節目介紹的是哪個城市？ (A)紐約 (B)波士頓 (C)洛杉磯 (D)費城。

〔下頁尚有地理科試題，請繼續作答！〕



34.右圖是根據美國本土某種統計數據用電腦軟體繪製出來的圖表，顏色越深、

尖峰高度越高，代表該數值越大；這張圖最適合拿來輔助說明該國下列何種

研究主題？(A)龍捲風發生頻率報告書 (B)美國颶風分布與風險評估

(C)美國人口現況白皮書 (D)美國災害性地震分布統計

35.右圖顯示某國農業土地利用隨著高度增加而變化。該國家最可能位於下列哪

組經緯度涵蓋範圍內？(A)(20°E-27°E，45°N-50°N) (B)(80°E-87°E，25°N-30°N)

(C)(58°W-65°W，35°S-40°S) (D)(80°W-87°W，0°-5°S)

36.某地區民間音樂的特點是，帶有淡淡懷鄉、憂愁的色彩，重唱形式多，唱法放鬆，音色柔和抒情。一個音樂家評論：「原住民提供基本的五聲音階模式，並喜用單調的擊鼓聲作伴奏；殖民者帶來和弦的概念及西班牙慣用的節奏，黑人則增加了變化音的修飾。」該地最可能是何處？(A)歐洲伊比利半島 (B)南美洲彭巴草原 (C)北美洲聖羅倫斯河谷地 (D)南美洲巴西高原

37.『2019年12月10日美國、墨西哥與加拿大簽署新版《美墨加貿易協定》(USMCA)，意在取代北美自由貿易協定(NAFTA)；根據 USMCA 條款規定，未來 75% 的汽車零件須在美加墨製造，否則將被課以高關稅，此比例高於原本 NAFTA 規定的 62.5%。此外，40%~45% 的零組件須由時薪至少 16 美元的工人製造。(註：以往汽車工人的時薪只有 8 美元)』由上文來看，下列哪個地區的汽車產業會因新規定而復甦？(A)美墨邊境 (B)五大湖區 (C)矽谷地區 (D)墨西哥灣沿岸

38.在美洲某國，仙人掌是親切到不行的庶民食材，比方仙人掌炒蛋、仙人掌沙拉、仙人掌餡餅、仙人掌燒烤…等料理，仙人掌在當地相當普遍，該國居民將之充分融入生活，就連國徽上都有其圖像呢(如右圖)！當地仙人掌普遍的原因為何？(A)昔日受到殖民的原因，大量推廣種植 (B)因地勢較高，適合仙人掌生長 (C)因位於盛行西風的背風側，相對乾燥 (D)因位於北回歸線附近，受副熱帶高壓影響

(註：該國國徽圖案為一隻嘴裡叼著蛇的雄鷹佇立在一棵從湖中岩石上長出的仙人掌上，下方為象徵力量、忠誠及和平的橡樹和月桂樹枝。據傳，昔日阿茲特克人在神的啟示下在特斯科科湖的島上找到這個地方，並建立了特諾奇蒂特蘭城)

39.在大部分人眼中，龍捲風是災難，但也有立志要追龍捲風的人，這群人叫 Storm Chaser。要做個 chaser，既要有專業知識、也要有完善配備，同時，一輛牢固鋼化玻璃、無線電對講、收訊、高清晰音相機，牢固電腦支架標配的“香車”也十分必要，因龍捲風範圍內常會伴隨大暴雨甚至冰雹。以下哪位同學對龍捲風的認知最正確，具備當 storm chaser 的基本知識？

(A)阿達：地形平坦遼闊較有利於龍捲風的形成 (B)蓮哥：龍捲風多半發生在夏、秋兩季 (C)小文：龍捲風常形成於加勒比海附近海域 (D)涵涵：北美洲龍捲風的暴風圈旋轉方向跟颶風一樣是順時針

40.中南美洲城鄉發展失衡，鄉村人口大量遷移到都市，請問：中南美洲高度都市化對都市造成的諸多影響，**不包括** 下列何者？(A)遊民問題嚴重 (B)人口與交通擁擠 (C)失業率下降 (D)生活環境惡化

41.去年亞馬孫雨林大火失控的畫面，占據全球媒體重要版面。大火通常是農人為了放牧或種植農作物，要先清出一片土地而點火造成；另外，大量砍伐原始雨林的現象已達近 10 年最嚴重程度。請問亞馬孫雨林大量減少所造成的影響**不包括** 下列何者？(A)溫室效應加劇 (B)物種滅絕 (C)地層下陷 (D)水土流失

★《拉丁美洲：被切開的血管》一書揭露了拉丁美洲長達 500 年的殖民血淚史！拉丁美洲最初因豐富天然資源引來歐洲人的殖民，傳染病卻也因此進入、使當地原住民大量死亡，故而引進大量勞工來彌補勞力短缺；作者提到藏在拉丁美洲血管裡的血液是：黃金、白銀、農產品（蔗糖、可可、橡膠、咖啡）、勞動力、耕地與礦產（銅、錫、鐵、石油），殖民國彷彿切開了拉美的血管，在當地開礦、大量種植這些作物，時至今日各國雖已脫離殖民，但許多國家仍仰賴歐美國家的資金與技術。

請問：

42.關於此書所言，以下論述何者**有誤**？(A)當地的原住民指的是印地安人 (B)文中引進的大量勞工

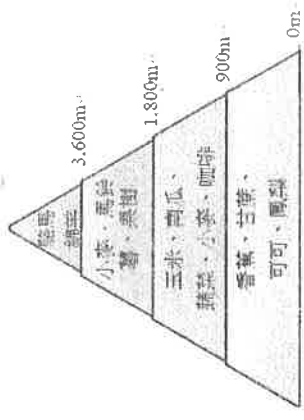
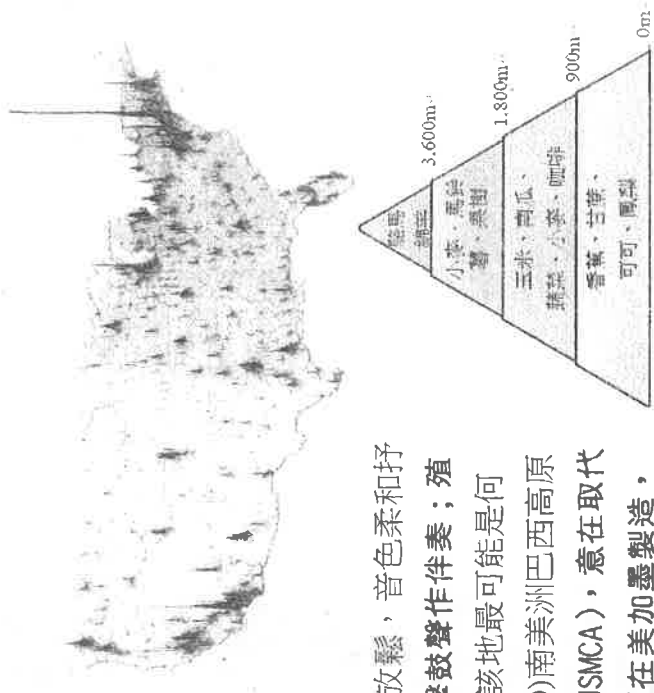
多來自非洲 (C)受殖民的影響，形成許多港埠型都市 (D)文中白銀在拉丁美洲最主要產地位於

委內瑞拉

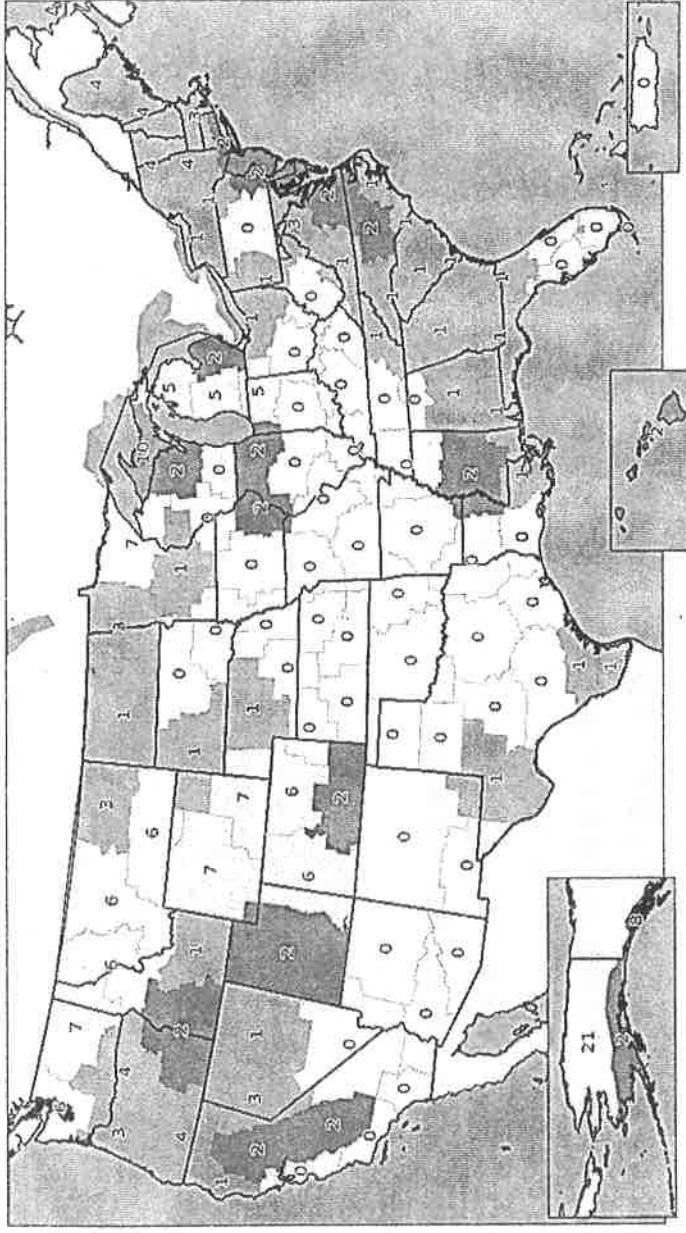
43.歐洲人未在母國種植甘蔗，卻選擇在殖民地大量推廣，最可能是考量到當時哪個因素？(A)產地鄰近美國，加上蔗糖不耐久放，故蔗糖需快速運到市場 (B)母國地處溫帶，國內並不適合種蔗，故尋找熱帶殖民地種蔗 (C)產地水力充沛，地勢高低落差明顯，故可提供製糖電力資源 (D)母國人力不足，多投入馬鈴薯生產，故需要到海外招工種蔗

44.時至今日，咖啡、可可、蔗糖等生產仍是當地重要經濟來源，關於該地區這樣的農產種植型態，以下正確有哪些：(甲)機械化耕作 (乙)出口產品單一 (丙)經濟結構穩定 (丁)廉價勞力充足 (戊)易受國際市場價格影響？(A)甲乙丁 (B)乙丙丁 (C)乙丁戊 (D)甲丁戊

★下圖是 2019 年美國暴風雪警報次數分布圖，圖中的數字越大代表發生暴風雪的次數越多，請根據圖中訊息回答下列問題：



45.觀察右圖，以下哪位同學的推論完全正確？(A)小宸：在『美國本土範圍』中，暴風雪發生次數最高的地區在五大湖區，是因為緯度相對偏高加上水氣來源充足 (B)小雅：圖中數據 21 的區塊暴風雪次數也好多啊！應該是因位處高緯加上沿岸有寒流經過 (C)阿紹：若要評估美國農牧帶因暴風雪的受損災情，棉花帶的損傷應該會比酪農帶慘重 (D)小雯：對比同緯度的美國東西兩岸，東岸各地暴雪次數普遍比西岸來的高一點點，很可能是因为東岸地勢較西岸來的高唷



46.下列哪個都市較易因暴風雪災害而停課呢？(A)西雅圖 (B)休士頓 (C)洛杉磯 (D)邁阿密。

47.根據地圖數據可發現墨西哥灣沿岸也偶見暴風雪侵襲，推測此處雖位處副熱帶地區仍難逃暴風雪災害的原因為何？(A)受西風帶吹拂帶來降雪量 (B)拉布拉多寒流導致沿海氣溫下降 (C)此處平原廣大無山脈阻擋寒流 (D)阿帕拉契山區地勢高易降

★這天，有百年歷史的礦場(右圖為該礦場所在的行政區阿塔卡馬大區 (Atacama))一如往常地等待前來開工的礦工，就在下午，礦場忽然崩塌了！地底 700 公尺處共三十三人等待救援，他們的家人也癡癡盼望他們的歸來。此真實的災害甚至還拍成電影《33：重生奇蹟》，請問：

48.請問這一群礦工主要挖掘的礦產是什麼呢？(A)煤礦 (B)鐵礦 (C)銅礦 (D)銀礦

49.從地理位置判斷，這群礦工所工作的礦場，大致上氣候條件為何？(A)終年降雨 (B)年溫差大

(C)冬雨綿綿 (D)乾熱無雲

★下圖為美國行政區圖，美國在 1997 年起陸續發行 50 州紀念幣，紀念幣正面以美國總統華盛頓



的肖像作圖案，背面則由各州民眾設計、州政府選拔最能代表該州歷史、地理或資源特色的圖案發

行，希望讓年輕一代了解各州的人文歷史。請問：

50.右圖是某州紀念幣，該州素來被稱為「乳酪之州」，也因鄰近美國某農業帶，紀念幣出現了玉米、牛隻跟乳酪。

的圖案，由此判斷該州可能位於左圖何處？(A)乙 (B)丙 (C)丁

(D)己

51.右圖的紀念幣上象徵的是這個州知名的火口湖國家公園，該國家公園有豐富的火山地質。若以此地景特色來判斷，該州最可能位於上面政區圖中何處？(A)甲 (B)乙 (C)丙 (D)戊

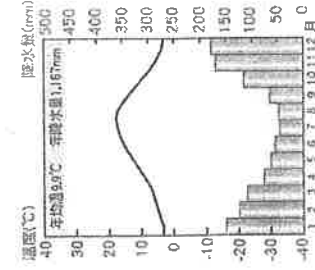
★美國自 1980 年代起工業衰退，由於多種經濟因素，如製造業向海外轉移、自動化程度提高及美國鋼鐵和煤炭工業衰退，這片曾被稱為 Rust Belt(鐵鏽地帶)的區域內，工業比重一直在降。這片地區的正式稱呼為 Rust Belt(鐵鏽地帶)具有的優勢生產條件？(A)石油產量豐富 (B)

主要的棉花生產帶 (C)高科技產業集中 (D)水陸交通運輸便利

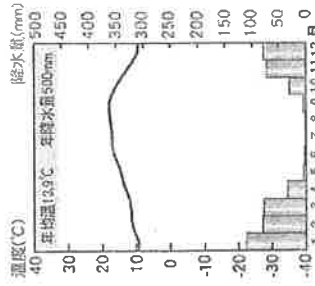
53.位於這片鐵鏽帶內的城市與重要產業配對，下列何者正確？(A)舊金山—高科技產業 (B)底特律—汽車產業 (C)西雅圖—資訊產業 (D)波士頓—航太產業

54.圖中判斷，鐵鏽地帶的氣候型態，應與下列哪張氣候圖的氣候類型相同？

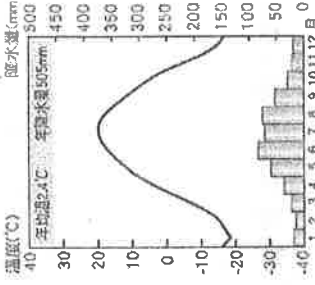
(A)



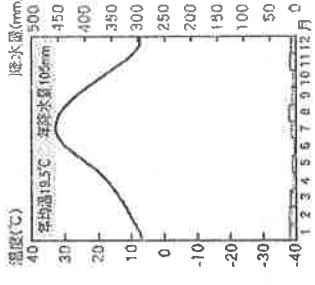
(B)



(C)



(D)



p. 4 (試題結束)

寫完記得檢查唷！

預祝大家考試順利

Happy 牛 Year ☺