

## 台中市三光國中一〇九學年度第一學期第三次定期評量七年級社會科試卷(第一頁)

### 選擇題：1-50 題每題 2 分

- ( ) 1. 「校園民主、學生自治」是今日校園的新思維，但學生自治並不是毫無限制的。下列有關學生自治應秉持的原則，哪項敘述正確？ (A)校園中每件事都屬學生自治的範疇 (B)學生自治可以涉及學校的行政工作 (C)民主是最高價值，學生自治可以不受校規約束 (D)學生自治應在不違反校規及法律的前提下進行
- ( ) 2. 七年一班的同學正在班會中討論班費金額的問題，此時小杉卻舉手提議全班可以在星期日舉辦班遊活動，針對小杉發言離題的情形，此時同學們可以對主席提出哪項建議來處理這個狀況？ (A)立即散會 (B)秩序問題 (C)臨時動議 (D)權宜問題
- ( ) 3. 小徑在週記中寫著：「學校每週都安排一節班會活動，真無聊，這個課程根本就是浪費時間。」下列是導師回應的內容，哪項說法較為正確？ (A)班會活動會增加學校管理學生的負擔 (B)班會活動可教導同學建立金錢管理的觀念 (C)班會活動可培養同學參與公眾事務的能力 (D)舉行班會活動可教導學生課外的休閒娛樂
- ( ) 4. 如果表決時，有部分同學未加入表決，等結果公布後，這些人再來反對，則應該如何處理？ (A)讓他們加入，全部再重新表決一次 (B)視同放棄權利，必須接受表決結果 (C)讓他們補投票一次，再公布結果 (D)請導師裁示，再做最後的決定
- ( ) 5. 依照學生自治的原則，開班會時，導師應扮演怎樣的角？ (A)可提示會議規則，並可參與表決 (B)可提示會議規則，但不可參與表決 (C)可參與表決，但不可提示會議規則 (D)不可提示會議規則，也不可參與表決
- ( ) 6. 開班會時，有同學在會議進行中提議要求表決「段考不及格的同學不得參與班會」的議案，結果有過半數同意。依據規定，上述的表決是否有效？ (A)有效，因超過半數同意 (B)無效，仍有同學不同意 (C)有效，因為老師沒表示意見 (D)無效，不能限制個人的基本權利
- ( ) 7. 社區不是法定的行政組織，而是自然形成的。社區形成最重要的因素為下列何者？ (A)社區居民遭遇共同的問題 (B)社區居民產生共同的需求 (C)居民對於生活周遭環境產生認同感 (D)社區內要有超商、學校與政府機關
- ( ) 8. 社區意識源自於社區居民對社區的認同，也是社區形成最重要的因素。下列哪位社區居民的行為可說是社區意識的具體表現？ (A)花蕾將自宅擴建成景觀豪宅 (B)三松老闆常常向居民推銷商品 (C)德波決定參選地方民意代表 (D)佐助發起搶救社區樹木的活動
- ( ) 9. 凡議場遇意外事件，足以影響議場全體或個人權利者，都構成權宜問題。下列何者屬於權宜問題？ (A)發言超出議題範圍，例如：班服變班遊 (B)燈光熄滅，引發騷動 (C)提案沒有經過討論，就直接表決 (D)以口頭方式提出議案，沒有經過附議
- ( ) 10. 依照會議規則，提案應經何種程序，才能開始討論，然後表決？ (A)以口頭提出者，須徵求一人以上「附署」 (B)以書面提出者，須徵求一人以上「附署」 (C)以口頭提出者，須徵求一人以上「臨時動議」 (D)以書面提出者，須徵求一人以上「附議」
- ( ) 11. 為推展節能減碳，明華社區成立社區發展協會，在低碳觀光、環保節能、健康慢食與農夫市集的推動上，都締造了成功的佳績，為社區居民營造了一個慢活樂活的典型環境。「社區發展協會」屬於社區的哪一個元素？ (A)社區組織 (B)社區參與 (C)社區營造活動 (D)社區意識
- ( ) 12. 宜蘭縣蘇澳鎮通往白米社區的路上三面環山，路旁有白米溪緩緩流過，狀似米甕故舊名為「白米甕」，這裡其實並不生產白米。從上述可以得知，社區的形成主要與何者有關？ (A)自然環境特色 (B)居民所從事的事業 (C)社區居民的認同感與歸屬感 (D)政府的行政劃分
- ( ) 13. 校園霸凌是學生之間存在不對等的欺凌與壓迫情形。下列何者可能已經構成校園霸凌？ (A)大霸邀請小虎下課後一起打球 (B)大偉經常提醒微胖的淳育減肥 (C)小玲聯合同學們一起排擠鎂霞 (D)娟娟向好友哭訴自己的家庭變故
- ( ) 14. 公民課時，同學各自介紹臺灣原住民族部落的認識，下列何者說法有誤？ (A)圓圓：部落是原住民地區的生活中心 (B)方方：部落擁有共通的宗教信仰 (C)圈圈：部落有屬於自己的語言 (D)點點：部落擁有自己的政治領袖
- ( ) 15. 位於海邊的討海人社區由於地勢低窪，所以只要颱風一來居民就提心吊膽，深怕會淹水，雖然有防波堤，但遇到颱風來襲時，仍然會淹沒部分街道；於是社區居民一起動員，安裝抽水馬達，清除淤積泥沙，解決淹水問題。上述討海人社區居民的做法，最能表現下列哪項概念？ (A)社區類型 (B)社區參與 (C)社區組織 (D)社區文化
- ( ) 16. 日前發生社區金紙店因爆竹存放不當而爆炸，引燃熊熊大火而發生死傷。事實上，各地都有類似的違法情形，但是居民卻不願意檢舉。若要避免此種情形再度發生，居民一定要放棄哪種心態？ (A)培養社區認同感 (B)培養社區意識 (C)個人自掃門前雪 (D)參與社區事務

背面尚有試題，請翻面作答

17. 附圖是清帝國時期被迫在臺灣開放的通商口岸。下列代號與港口名稱的配對，何者正確？



(A) 甲——安平 (B) 乙——淡水 (C) 丙——打狗 (D) 丁——雞籠

18. 下列有關清帝國時期臺灣農業的發展概況，何者正確？

(A) 土地拓墾大多是官民合墾的方式完成 (B) 多數移民採集資合股的方式開墾 (C) 為解決灌溉用水的問題，興築桃園大圳與嘉南大圳 (D) 臺灣東部平原多已開墾為農地

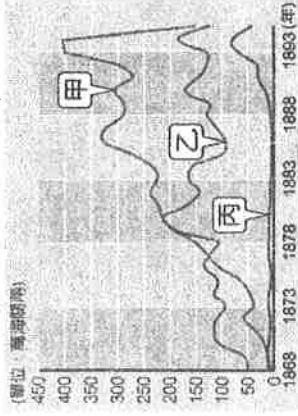
19. 清帝國時期的水圳開鑿，在臺灣的開拓史占有非常重要的歷史地位，在所有興築的水圳中，施世榜引濁水溪水所建的水圳遍及當地十三個半堡中的八個堡區。施世榜所建的水利建設主要位於今日哪一縣市？

(A) 雲林縣 (B) 南投縣 (C) 高雄市 (D) 彰化縣

20. 「一府二鹿三艋舺」和「頂港有名聲，下港真出名」這兩句話主要想傳達下列哪個情況？

(A) 貿易興盛 (B) 治安優劣 (C) 人口多寡 (D) 腹地大小

21. 附圖是 1856-1895 年臺灣三項重要物產出口價值統計針對此圖表，請問：下列哪個選項敘述正確？



(A) 甲、乙物產是茶葉、樟腦 (B) 此時臺灣經濟重心在南部 (C) 甲、乙物產是蔗糖、茶葉 (D) 此時臺灣經濟重心在北部

22. 清帝國統治初期，清廷最早是開放哪個港口與中國大陸貿易？

(A) 鹿耳門 (B) 鹿港 (C) 艋舺 (D) 淡水

23. 有關清帝國統治前期臺灣的貿易現象，何者錯誤？

(A) 貿易對象以中國大陸為主 (B) 前期手工業不發達，自大陸輸入紡織品與日用品 (C) 臺灣則將盛產的稻米與蔗糖輸往大陸 (D) 商人為自身利益，組成「行會」

24. 清末臺灣開港後的貿易活動有何種轉變？

(A) 行郊轉為會社 (B) 國內貿易轉為國際貿易 (C) 出口貿易轉為進口貿易 (D) 工業產品轉為農業產品

25. 清帝國時期，臺灣所發生的朱一貴事件、林爽文事件和戴潮春事件，這些事件的共同特色為何？

(A) 皆屬漢人反抗清政府的民變 (B) 都是屬於以職業不同而發生的械鬥 (C) 都是屬於以祖籍不同而發生的械鬥 (D) 皆屬漢原衝突事件

26. 臺灣各處可見有許多的「有應公廟」，祭祀無人祭拜的孤魂。此一現象可反映出清帝國統治前期的哪種社會現象？

(A) 衛生條件不良，瘟疫流行 (B) 戰爭頻繁，死傷慘重 (C) 羅漢腳眾多，無家可歸 (D) 勞役繁重，不堪負荷

27. 臺灣有以下俗諺：「仙拼仙，拼死猴齊天。」、「少年哪無一次慇，路邊哪有有應公。」上述俗諺的形成，和臺灣在清帝國時期的哪項社會背景有關？

(A) 分類械鬥頻繁 (B) 臺灣開港通商 (C) 實施劃界封山 (D) 秘密結盟盛行

28. 李春生是清末買辦，後以經營茶葉貿易致富，也是台灣基督教長老教會的奠基者，被譽為「台灣茶葉之父」、「台灣第一位思想家」。請問：關於買辦的身分，下列敘述何者正確？

(A) 開港前台灣的商人 (B) 主要負責與中國商人接洽 (C) 清代負責台灣貿易的官員 (D) 通曉外語，能與外商接洽

29. 「一群有血緣關係的同姓者，以來臺第一代祖先或其後代為祭祀對象」，此敘述的祭祀對象是指何者？

(A) 開臺祖 (B) 唐山祖 (C) 媽祖 (D) 來臺祖

30. 長老會傳教士馬偕，曾經在淡水地區建醫院、辦學校，並且將西式的醫療與教育制度引進臺灣北部。馬偕醫師來臺的背景為何？

(A) 荷蘭統治臺灣 (B) 清廷開放臺灣口岸通商 (C) 日本統治臺灣 (D) 西班牙占領北臺灣

31. 臺灣有句俗話說「有唐山公，無唐山媽」，以此形容社會上男女比例失衡的情形，以致漢人男子多娶下列哪一族群的女子為妻？

(A) 荷蘭人 (B) 西班牙人 (C) 原住民 (D) 日本人

32. 清帝國統治初期的臺灣，漢、番間的衝突時有所聞，主要的原因是漢人壓迫到原住民的生活空間，此時期的漢人透過幾種方式，從原住民手中取得土地。下列何者不是漢人取得原住民土地的主要方式？

(A) 入贅 (B) 承租 (C) 購買 (D) 強占

33. 清廷為取得山林資源，常侵擾山區原住民，造成漢原衝突不斷，如西元 1877 年曾發生一場嚴重的漢原衝突，造成阿美族人嚴重死傷。請問：這場衝突是發生在清帝國時期的哪一個事件？

(A) 麻荳社事件 (B) 牡丹社事件 (C) 大港口事件 (D) 大肚王事件

34. 右列為台灣南部地區「108 年年平均雨量分布圖」，枯水期與豐水期的雨量比達 1：9，請問：下列哪一現象與南部地區雨量分布特色的**關聯性**最小？  
(A)河流多荒溪型河川 (B)養殖漁業產值最高 (C)水利設施需求度較高  
(D)昔日發展曬鹽產業

35. 光光在閱讀雜誌的時候，發現一篇文章內容是：「台灣面臨 1964 年以來最大乾旱!2021 年沒水種田了，很多地區必須休耕。」請問：住在哪一個地方的農夫，**最不需要**擔心這個問題？ (A)桃園台地 (B)嘉南平原 (C)蘭陽平原  
(D)花東縱谷平原

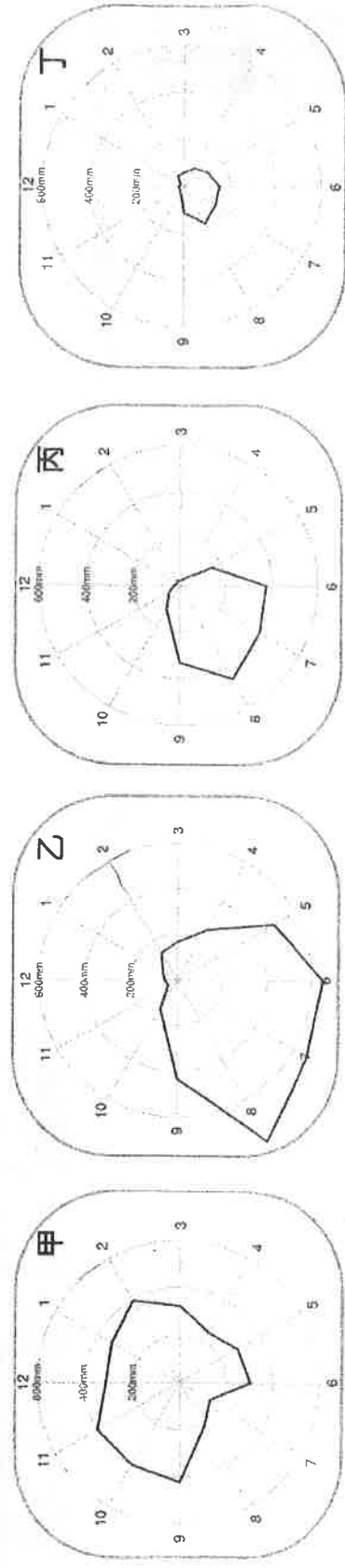
36. 右圖為中央氣象局所發布台灣地區 109 年某個時段的「風場與雨量預測圖」，請根據圖中資訊判斷，下列哪一敘述**正確無誤**？

- (A)此為暑假第一週的預測圖 (B)此時盛行風向為西南季風  
(C)此時降雨型態多屬對流雨 (D)此時降雨區主要在東北部

【題組 37-39】


※下列為台灣的阿里山、恆春、澎湖、基隆(請注意：此排列順序不代表下圖的甲、乙、丙、丁排序)四個地區「逐月雨量的氣候平均值」(1981 至 2010 年平均)的時鐘圖，1 至 12 點分別代表 1 至 12 月，距圓心愈遠表示該月份雨量愈多。請根據

圖中資訊回答問題，請問：



37. 圖中哪一地區的降雨季節分布較為平均，無明顯乾季？ (A)甲 (B)乙 (C)丙 (D)丁

38. 由圖中甲地雨量分布降水較多的月份來判斷，請問當地降雨主要應是來自下列哪一降水型態？



39. 觀察圖中乙、丁兩地的降雨月份分布特色及雨量差異，請問：造成兩地降雨差異的主要因素影響？

- (A)季風風向 (B)地勢高低 (C)緯度位置 (D)氣壓高低

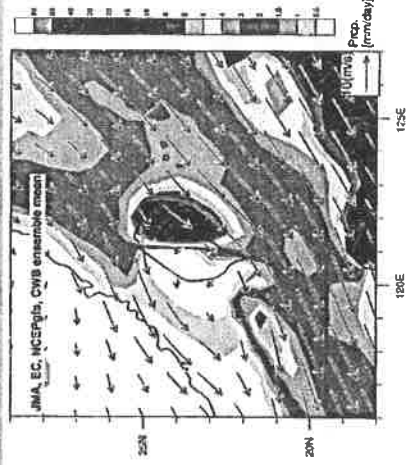

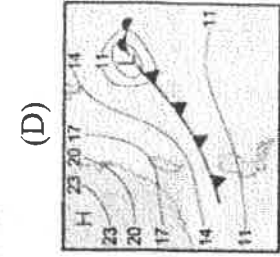
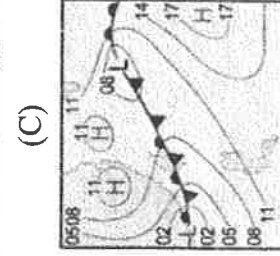
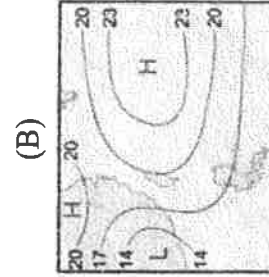
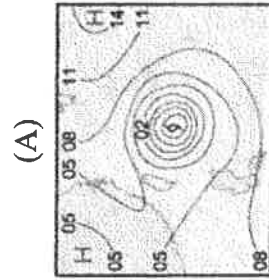
【題組 40-41】

※右列為中央氣象局所發布的長期天氣展望資料，請問：

40. 以下同學對資料內容的解讀，何者**正確無誤**？

- (A)瑪力歐：北部因地勢較高，平均氣溫較其他區域低  
(B)路易吉：北部因對流旺盛，平均雨量較其他區域多  
(C)庫巴：南部因位於盛行風的背風側，此時屬於乾季  
(D)慢慢龜：南部因緯度最高，平均氣溫較其他區域高

41. 下列哪張地面天氣圖，**最有可能**出現於此期間的預報資料？



發布日期：民國109年12月25日

有效期間：自民國109年12月26日至110年1月22日

下次預定發布日期：民國110年1月1日

●、平均氣溫與雨量氣候正常值範圍(氣溫單位：℃、雨量單位：毫米)

氣溫	第1週 (12月26日~1月1日)	第2週 (1月2日~1月8日)	第3週 (1月9日~1月15日)	第4週 (1月16日~1月22日)
北部	16.1~18.2	15.6~18.0	16.0~17.1	1.9~21.2
中部	16.2~18.4	15.9~18.1	16.2~17.5	0.0~4.4
南部	18.8~20.6	18.8~20.8	19.1~20.2	0.0~0.8
南部	17.9~19.6	17.4~19.6	17.7~19.0	3.8~21.5

※北部、中部、南部及東部分別以臺北、臺中、高雄及花蓮為參考氣象站。



## 【題組 42-46】

※下列為四位河神聊著所管轄的河川及其特色，請根據河神的聊天內容並依據右列臺灣河川(甲-己)及水庫(ㄅ-ㄘ)分布圖，

回答下列問題。請問：

42. 以下河神與河川的配對，何者有誤？

(A)河神 A-丁(B)河神 B-乙

(C)河神 C-甲 (D)河神 D-戊

43. 關於河神C所管轄的河流，哪一敘述正確？

(A)含沙量居全台之冠 (B)全台發電量最大河流

(C)德基水庫蓄水來源(D)下游河段有航運之利

44. 「右列為攝影師於 2020 年 12 月空拍曾文水庫的情況，水庫蓄水率僅 22.44%，經農田水利署評估蓄水率，恐將無法供應明年初農業灌溉所需用水。」請問：上述是

圖中哪一水庫面臨的窘境？(A)ㄅ(B)ㄆ(C)ㄇ(D)ㄈ

45. 觀察圖中「水庫」的分布情形，下列哪一敘述正確無誤？(A)東部多於西部

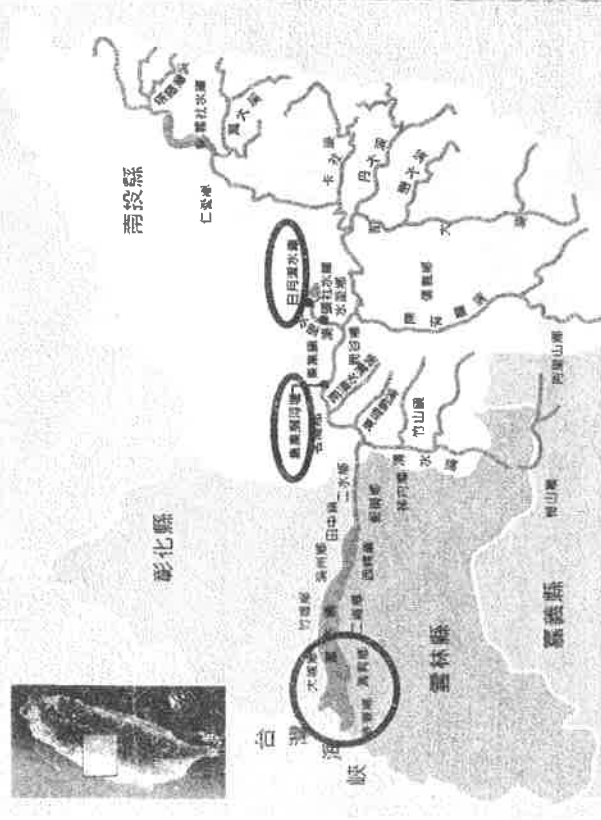
(B)多分佈於河川下游 (C)南部數量最多 (D)河神 C 沒有管轄水庫

46. 彌豆子在家用餐時，看到某新聞臺的新聞畫面(如右圖)。請問：這樣的保命黃金時間訊息，跟臺灣河川的何種特性關係最密切？

(A)坡陡流急 (B)泥沙含量高 (C)流向多東西向 (D)多麗荒溪型河川

【題組 47-48】

※附圖為濁水溪流區域圖與日月潭「九蛙」的點點照片，請根據附圖，回答下列問題。請問：



47. 根據濁水溪流域圖，可做出下列何種推論？

(A)集集攔河堰位於日月潭水庫的集水區範圍之內(B)大城、崙背、麥寮鄉等地區，水流較集集鎮湍急

(C)大城、崙背、麥寮鄉等地區，水量較集集鎮少(D)地勢東高西低，河川主要流向由東向西注入海洋

48.日月潭「九蛙」景點照由「二蛙」(左圖)到幾乎「九蛙」(右圖)全露，主要是因為當地可能發生下列哪一現象？

(A)遭逢颱風過境的西南氣流 (B)經歷冬末春初的嚴重乾旱 (C)人為開發過度抽取水資源 (D)遭受冷氣團南下低溫寒害

## 【題組 49-50】

※右圖為台灣某日的溫度分布圖，請根據圖中資訊回答問題。

49. 由圖中的溫度資訊，請問下列哪一推論最為正確？

(A)受到緯度影響，平地溫度高於山區(B)受到地形影響，山區溫度低於平地

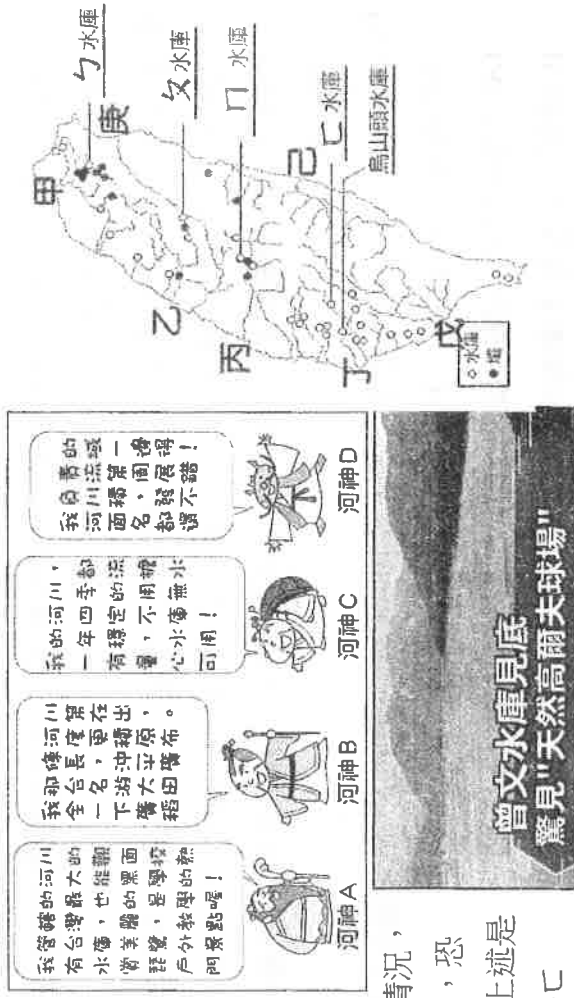
(C)受到季風影響，南部溫度比北部高(D)受到洋流影響，西部溫度高於東部

50. 此時台灣較不可能出現下列哪一現象？

(A)寒流來襲造成氣溫驟降 (B)水庫水位低於警戒線的乾旱危機

(C)滯留鋒面帶來連續降雨 (D)來自蒙古、西伯利亞的冷高壓來襲

〔試題到此結束，請仔細檢查!!〕



曾文水庫見底  
警見"天然高爾夫球場"

「發現溪水濁、聽到打雷」快跑  
溪水暴漲逃命時間只有10秒！

