

一、選擇題(每題2分，共50題，總分100分)：

- 01.當商品出現「供過於求」及「供不應求」的情況下，若是不考慮生產成本，生產者將分別有何反應？ (A)減少生產、增加生產 (B)減少生產、減少生產 (C)增加生產、減少生產 (D)增加生產、增加生產。
- 02.一般經濟活動的生產與分配都由「看不見的手」所主導，但下列哪一項交易的價格不是由「看不見的手」所主導？ (A)換季時的服裝售價 (B)每個月使用水電的費用 (C)從國外進口的水果商品 (D)聖誕節時的禮品售價。
- 03.下列有關經濟活動中「生產」和「消費」的敘述，何者正確？ (A)生產者的銷貨收入是消費者的支出 (B)生產者是商品市場的需求者 (C)消費者就是生產要素市場的需求者 (D)消費者是商品市場的供給者。
- 04.在市場中，商品的價格會隨著供需關係波動。請問：造成商品價格上漲的原因有哪些？(甲)需求減少(乙)需求增加(丙)供給增加(丁)供給減少 (A)甲丙 (B)乙丁 (C)甲丁 (D)乙丙。
- 05.請問：「網路上宅配銷售」相當於經濟循環圖中的何者？ (A)消費者 (B)生產要素市場 (C)有形市場 (D)商品市場。
- 06.因應金融海嘯，各國政府紛紛宣布降息。我國□□宣布從明日起降息半碼，以刺激經濟。上述□□應填入哪個單位？ (A)總統府 (B)經濟部 (C)中央銀行 (D)行政院。
- 07.加入WTO，對我國部分產業造成衝擊，為求生存，有毛巾業者將毛巾製作成蛋糕、點心模樣，色彩繽紛的毛巾商品，締造了銷售佳績，業者更因此轉型為觀光工廠，開創毛巾產業的第二春。根據上述，業者採取何種方式來面對危機？ (A)提升銷售技巧 (B)看得見的手 (C)看不見的手 (D)調整產業結構。
- 08.下列何人提及的行為能夠賺取外匯？ (A)志仁：我每個週末一定去買雞排 (B)斯慈：去日本時，我喜歡採購當地的土產 (C)嘉點：去年我賣到中東的小黃瓜賺了不少錢 (D)幼真：我在超市買了西班牙進口的橄欖油。
- 09.下列哪一句話可以用來形容比較利益法則？ (A)殺頭生意有人做，賠本生意沒人做 (B)人情一把鋸，你不來我不去 (C)行行出狀元 (D)自由競爭，適者生存。
- 10.兩位同學上技藝課程，附表是她們使用相同資源，一次只製作一種產品，分別製作 1 小時所完成的數量。假如小維在製作貝果上具有比較利益，那麼她 1 小時所完成的貝果數量最可能為下列何者？
- | | 瑞士捲 | 貝果 |
|----|------|-----|
| 小晴 | 10 個 | 8 個 |
| 小維 | 4 個 | ? 個 |
- (A) 1 個 (B) 2 個 (C) 3 個 (D) 4 個。
- 11.外電報導：「日本首相採貨幣寬鬆政策，造成日圓不斷貶值。」根據以上內容判斷，下列敘述何者正確？ (A)日圓貶值，有利於他國出口商品至日本 (B)日圓貶值，有利於日本進口外國商品 (C)日圓貶值，有利於日本人至他國觀光 (D)日圓貶值，有利於外國人至日本觀光。
- 12.日圓大幅貶值，對日本出口業有何影響？ (A)產品價格上揚，不利於出口 (B)產品價格上揚，有利於出口 (C)產品價格下降，有利於出口 (D)產品價格下降，不利於出口。
- 13.台幣持續升值中，對台灣出口業有何影響？ (A)產品價格上揚，有利於出口 (B)產品價格上揚，不利於出口 (C)產品價格下降，有利於出口 (D)產品價格下降，不利於出口。
- 14.11/24的九合一選舉中，請問誰才是候選人？ (A)宜秀：選我選我，我可以為大家監督行政院做事 (B)我滿24歲，我會為里民盡心服務 (C)梅玉：我一定會成為優秀的彰化市議員 (D)我今年25歲，參選彰化市長，請投我一票。
- 15.直轄市政府可支用的稅收，為下列何者？(甲)牌照稅 (乙)營業稅 (丙)房屋稅 (丁)娛樂稅 (A)甲乙丙丁 (B)乙丙丁 (C)甲乙丙 (D)甲丙丁。
- 16.不信任投票又稱為「倒閣」，是指國會對行政團隊的不信任，透過倒閣成功與否決定該行政團隊是否可以繼續施政，乃國會制衡內閣最重要的工具。請問，依我國憲法及憲法增修條文規定，如果倒閣成功，下列何者享有被動解散國會之權？(A)總統 (B)立法院院長 (C)行政院院長 (D)司法院院長。

17. 下列何者不是西歐中古時期的特色？
(A)莊園經濟 (B)封建社會 (C)中央集權的帝國 (D)基督教世界
18. 中古前期的西歐被稱為「黑暗時代」，同時期的「東方」各方面均優於西歐。上述「東方」不包括下列何者？
(A)阿拉伯帝國 (B)神聖羅馬帝國 (C)大唐帝國 (D)拜占庭帝國
19. 聖索菲亞大教堂現今是個博物館，館內的收藏主要是希臘正教與伊斯蘭教的文物，為哪兩個政權的統治作見證？
(A)羅馬帝國、阿拉伯帝國 (B)西羅馬帝國、東羅馬帝國 (C)東羅馬帝國、鄂圖曼土耳其帝國 (D)神聖羅馬帝國、鄂圖曼土耳其帝國
20. 卡通〈航海王〉某集內容簡介如下：「全世界的海盜都爭相尋找這個神祕的寶藏。魯夫也找了幾位夥伴一起去尋寶，他們的船航行到了中古時期的西哥德王國……。」請問：魯夫與他的夥伴將到達何處？
(A)伊比利半島 (B)義大利半島 (C)北非 (D)法國
21. 下列法蘭克王國與拜占庭帝國的比較，何者有誤？

國 家	法蘭克王國	拜占庭帝國
(甲)著名君王	查理曼	查士丁尼
(乙)最大疆域	今日西歐大部分地區	跨歐、亞、非三洲
(丙)通行文字	希臘文	拉丁文
(丁)宗教領袖	羅馬教宗	拜占庭皇帝

(A)甲 (B)乙 (C)丙 (D)丁

22. 自中世紀開始，伊斯蘭世界與基督教世界便不斷的相互抗爭，兩者亦皆曾出現過強大的政權，並指揮其勢力範圍內的民族進行對抗。下列為伊斯蘭世界的帝國，其興起的順序何者正確？
(A)阿拉伯帝國——鄂圖曼土耳其帝國——塞爾柱土耳其帝國 (B)鄂圖曼土耳其帝國——阿拉伯帝國——塞爾柱土耳其帝國 (C)塞爾柱土耳其帝國——阿拉伯帝國——鄂圖曼土耳其帝國 (D)阿拉伯帝國——塞爾柱土耳其帝國——鄂圖曼土耳其帝國
23. 資料一：「由於這個民族的商人活躍於各地，使得中國的造紙術與印度的數學、醫學知識能傳播到其他地方。」資料二：「現今社會中許多的商業技術，如何組股份公司分擔貿易風險、使用支票取代貨幣交易等，都是這個民族所發明。」資料中論述的是哪個民族？
(A)日耳曼人 (B)阿拉伯人 (C)波斯人 (D)腓尼基人
24. 十一世紀開始的數次十字軍東征，主要是哪兩個宗教間的征戰？
(A)希臘正教、羅馬公教 (B)基督教、印度教 (C)婆羅門教、伊斯蘭教 (D)基督教、伊斯蘭教
25. 市民階級的產生對文藝復興後的世界史有很深遠的影響。請問：市民階級的興起，主要是由於下列哪項因素所促成？
(A)銀行的興起 (B)商業的興起 (C)國家的擴張 (D)人文主義興起
26. 歐洲政治的演進分為三大階段，根據你的歷史知識判斷，下列哪一組順序最符合史實？
(A)封建王國→大帝國→王權國家 (B)大帝國→王權國家→封建王國 (C)大帝國→封建王國→王權國家 (D)王權國家→大帝國→封建王國
27. 中世紀時期，所有文化發展都受到宗教的影響。文藝復興時期，人們開始擺脫宗教的束縛，重新重視人的價值，這種新的精神是整個文藝復興的推動力。請問：此種精神被稱為什麼？
(A)人文主義 (B)寫實主義 (C)浪漫主義 (D)理性主義
28. 英、法兩國提高王權、加強中央集權的重要關鍵因素為何？
(A)十字軍東征 (B)英法百年戰爭 (C)政權聯姻 (D)宗教改革
29. 十五世紀時，西班牙透過什麼方式締造出與目前相差不遠的政治版圖？
(A)政權聯姻 (B)海外拓殖 (C)宗教結盟 (D)百年戰爭
30. 地理大發現促進世界文明有更多的交流與接觸。請問：促進歐洲人積極計畫找出亞洲航線的目的為何？
(A)宣揚國威 (B)希望與亞洲世界進行直接貿易 (C)尋找新大陸 (D)收復聖地
31. 關於十五、十六世紀歐洲的地理大發現與海外拓殖，下列敘述何者為真？
(A)最早進行海外探險的國家是西班牙 (B)哥倫布發現到東方印度的航線 (C)南美的印加帝國遭到葡萄牙人所滅 (D)麥哲倫船隊首先繞行地球一圈
32. 在基督教的發展歷史上，總共發生兩次的分裂，下列有關這兩次分裂的敘述，何者正確？
(A)第一次是與西羅馬帝國皇帝的衝突，第二次是與中產階級的衝突 (B)第一次是與中產階級的衝突，第二次是與西羅馬帝國皇帝的衝突 (C)兩者皆是政教衝突，第一次是與西歐各國的政教衝突，第二次是與東羅馬帝國的衝突 (D)兩者皆是政教衝突，第一次是與東羅馬帝國的政教衝突，第二次是與西歐各國的衝突
33. 英國發生宗教改革，進而成立新教派，其中有著諸多原因。請問：下列何者正確？
(A)英王為了國政不受教會干涉 (B)信徒不滿教條，憤而尋求政府支持 (C)英王因為婚姻關係而與羅馬公教教會決裂 (D)英王想兼任教宗職位

【題組 34-37】

※右圖為南歐國家簡圖，請根據圖中代號回答問題。請問：

34. 下列關於圖中「★」海域的相關敘述，何者正確？

- (A)西亞、北非難民海上偷渡必經，被稱為「難民墳場」
- (B)控制地中海進出大西洋航道 (C)世界石油蘊藏量最豐地區
- (D)屬於台灣式海岸，島嶼眾多

35. 以下哪位同學對本區農業特色的描述正確？

- (A)土維：作物供應歐洲國家所需，農作趨商業化 (B)晝煜：緯度高，生長季短，不利農業發展 (C)宗諺：棉花、椰棗、瓜果為本區主要作物 (D)仁駿：降雨集中夏季，雨季與生長季不符

36. 下列為麵包老師到南歐旅行過程中所拍攝的照片，請問：麵包老師所遊覽的國家依序為何？(A)戊丁乙甲 (B)甲丁丙戊 (C)戊丙丁乙 (D)戊丁丙乙



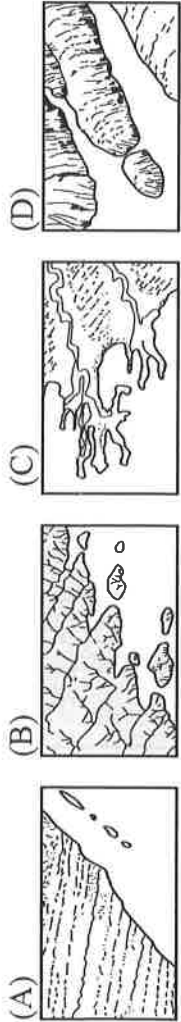
第一天	第四天	第七天	第十天

37. 關於圖中「★」地區的特色描述，正確者有哪些？(甲)曾為蘇聯附庸國 (乙)地形單調平坦 (丙)歐洲火藥庫 (丁)歐洲糧倉 (戊)歐洲門戶 (A)甲丁 (B)丙戊 (C)甲丙 (D)乙丙

【題組 38-40】

※右列為北歐國家簡圖，請根據圖中代號回答問題。請問：

38. 圖中「丙國」沿海主要的海岸形態，為下列何圖所示？



極光與火山共得的國度
賣點一：聖湖溫泉體驗
賣點二：北極光遊船之旅
賣點三：遠眺艾亞法拉火山
賣點四：索爾黑馬冰川健行
賣點五：壯觀史托克間歇噴泉

39. 下列同學對北歐各國的敘述，何者正確？

- (A)承毅：甲國湖泊眾多，有「峽灣國」之稱
- (B)靖為：乙國產鐵礦，汽車工業與家具業發達
- (C)正祐：丁國居板塊交界，有「溫泉島國」之稱
- (D)翊峰：戊國首都被喻為「北歐十字路口」

40. 根據右列旅遊行程介紹判斷，此應屬圖中何國的旅遊簡介？(A)甲 (B)乙 (C)丁 (D)戊

【題組 41-43】

※右圖為 2018 年俄羅斯世界盃足球賽的比賽場館分布圖。請問：

41. 若俄羅斯國家隊原先於葉卡捷琳堡的場館訓練一段時日，後來移地到

聖彼得堡 進行訓練，請問：球員們最有可能感受到甚麼氣候變化？

- (A)年溫差漸大 (B)降水量漸多 (C)氣溫垂直變化 (D)日出時間漸早

42. 哪個場地的所在城市位於黑海沿岸，為俄羅斯重要的渡假勝地？

- (A)加里寧格勒 (B)聖彼得堡 (C)莫斯科 (D)索契

何者正確？

43. 本屆世足賽最終的冠亞軍為法國與克羅埃西亞，下列兩國比較表，

	法國	克羅埃西亞
(A)分區位置	南歐	東歐
(B)主要氣候	溫帶海洋性	高地氣候
(C)主要信仰	東正教	天主教
(D)著名景點	「藝術之都」	「亞得里亞海上明珠」




〔請翻面作答〕

【題組 44-47】

※ 右列為西歐國家簡圖，請根據圖中代號回答問題。請問：

44. 關於「戊國」產業發展的特徵，何者正確無誤？(A)歐洲最大的農產品生產國
(B)首都為世界三大金融中心 (C)地形崎嶇，發展精細工業 (D)首都為歐盟總部
45. 「小孩堤防風車村(Kinderdijk)」是『低地國』境內其中一座完整保留傳統水車的聚落，被列為聯合國世界文化遺產，是遊客到此國必訪景點。但現在觀光人數超過居民負荷，每年這裡有 60 萬名遊客，但當地只有 60 名住戶。」請問：上文提及的過度觀光問題，是圖中何國景點？(A)甲 (B)乙 (C)丙 (D)丁
46. 關於圖中「丁國」的產業描述，何者正確？(A)東西向河川與南北向運河構成完善水運網 (B)為歐洲最大的橄欖油出口國 (C)利用多瑙河水運交易輸送本國煤礦與法國鐵礦 (D)為歐洲最大經濟體，是歐盟的主導國家
47. 以下西歐國家著名的風景名勝配對，何者正確無誤？



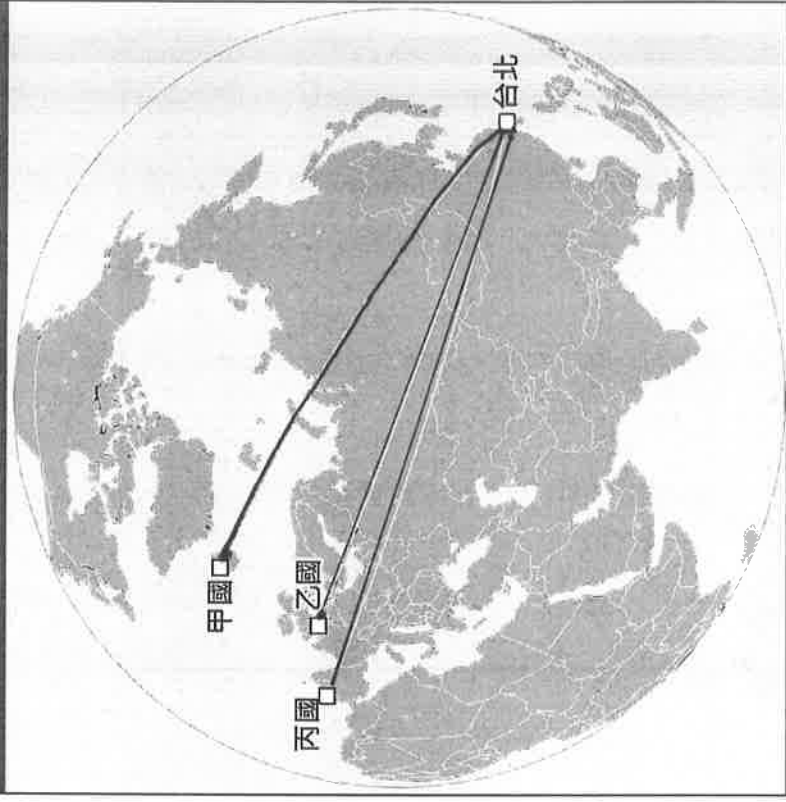
【題組 48-50】

※ 「麥卡托投影」是常見的地圖的投影方式，可以保持陸地輪廓的角度和形狀不變，不過緯度越高，面積和距離的失真程度越大。雖然在高緯度地區的面積和距離失真，麥卡托投影仍是應用最廣的地圖投影方式，就連一般人常用的 Google Map，都是利用麥卡托投影。不過，如果要從地圖上看出地球上兩個地點真正的最短距離，需要利用另一種投影方式：「正射切面投影」就是讓地球呈現圓球體的投影方式之一，在計算地球兩個地點的最短距離時，需要使用「大圓距離」的概念，可以想像成用一條直線，把一顆球的兩個點連起來，這條直線的距離就是兩個點的最短距離；機師開飛機都是按照大圓距離的路線(即「大圓航線」)，這樣才能最快且最省燃料抵達目的地，了解大圓距離，也能了解台灣到其他國家要花多少時間。以歐洲的例子來看，若只看一般地圖(下圖左)，會覺得「甲國」是離台灣最遠的歐洲國家，而且「乙國」最近，「丙國」次之；但是實際上(下圖右)，台北到「甲國首都」距離約 9,600 公里，到「乙國首都」距離約 9,800 公里，到「丙國首都」距離約 11,300 公里，「丙國」才是離台灣最遠的歐洲國家。請問：



一般地圖上看到的大圓距離 (麥卡托投影)

正射切面投影下的大圓距離



48. 依「正射切面投影」下的大圓距離判斷，台北飛往「甲國」是採用飛越哪一海域上空的捷徑？(A)波羅的海 (B)地中海 (C)北極海 (D)黑海
49. 圖中三個國家首都特色與別稱的整理表格，哪個部份有誤？

(A)甲國	(B)乙國	(C)丙國
「冒煙的港灣」	「霧都」	「音樂之都」

50. 「2016 年公投脫歐後，似乎左右著人才流動。近日報告顯示，隨著脫歐日程接近以及高遺產稅，使得該國富人們，傾向於離開，移民至澳洲或美國等地。」請問：上文所述為圖中哪一國家？(A)甲 (B)乙 (C)丙