

台中市三光國中一〇七學年度第一學期第二次定期評量八年級社會科試卷(第一頁)

選擇題：1-50 題每題 2 分

- 我國中央政府與地方政府所採用的分權方式有所不同，下列相關敘述中，哪項是正確的？ (A)中央政府分為五院，是採垂直分權的概念設計 (B)地方政府分為行政、立法機關，屬於橫向分權 (C)中央與地方政府的權限，是以經費的多寡劃分 (D)中央與地方政府權限發生爭議時，由總統解決。
- 為了預防腸病毒的疫情擴散，地方政府時常透過活動來呼籲學童要養成洗手的好習慣，讓孩童擁有正確的衛生常識。這是屬於地方政府的何項工作？ (A)教育文化 (B)經濟建設 (C)社會服務 (D)安全衛生。
- 由於臺灣省的人口數與土地面積，與中央政府所管轄者重疊太多，因此民國八十六年修憲時，乃將省長改為省主席，省議員改為省諮議員，不再民選，省政府的權力也收歸中央或併入縣市。從此以後，省成為行政院的派出機關，不再是地方自治機關。上述過程稱為？ (A)省的虛級化 (B)省的廢除 (C)省的組織鬆散 (D)省的職權擴張。
- 我國地方政府分為直轄市、縣（市）、鄉（鎮、市）三級，下列地方自治團體的組合中，何者皆屬同一層級？ (A)臺北市、彰化市、高雄市 (B)屏東縣、宜蘭市、彰化市 (C)基隆市、嘉義市、彰化縣 (D)新竹市、高雄市、花蓮市。
- 新竹市近來積極推動路平專案，過去「道路養護預算費」僅編列 8,300 萬元，這幾年提高到 2.3 億元，並設置「路平主題網」號召全民共同監督。關於路平專案的敘述，何者錯誤？ (A)屬於經濟發展的自治事項 (B)預算是由行政院負責編列 (C)具有因地制宜的事務性質 (D)市議員負責監督專案成果。
- 臺北市市長在接受質詢時表示：「貓空纜車站汗水處理設備不良，導致汙染過高是事實，主要由於貓纜每日人潮流量超過當初預期頗多所致。」臺北市市長是在下列哪機關接受質詢？ (A)立法院 (B)監察院 (C)臺北市政府 (D)臺北市議會。
- 屏東縣政府自從以黑鮪魚、櫻花蝦為主題舉辦黑鮪魚觀光季以來，一直深受遊客歡迎，多年來不僅成為重要的觀光活動，亦成功將東港塑造為全國首屈一指的海鮮首都。根據上述內容，此種活動屬於地方政府的何種工作事項？ (A)社會服務 (B)教育文化 (C)安全衛生 (D)經濟發展。
- 有地方行政首長指出，現行的統籌分配稅款分配公式對非直轄市的縣市很不公平，因而要求中央應盡速修法，以改善此種分配不公現象。若中央政府呼應此要求，可以修改下列哪部法律的相關規定？ (A)《憲法》 (B)《地方制度法》 (C)《人民團體法》 (D)《財政收支劃分法》。
- 由臺中市政府舉辦的「臺中市永續綠農活動」已舉辦兩場次，課程中除介紹在地農產文化，也帶領有興趣的民眾實地體驗，吸引許多觀光人潮湧入。根據上述內容，這是屬於哪一項地方政府的經費來源？ (A)中央補助 (B)地方稅收 (C)自行籌措 (D)企業捐款。
- 新聞報導：「有網通教父之稱的企業家日前突然過世，而他身後留下市值 10 億元左右的股票，讓其家人依法得繳交 5 億多元的遺產稅。」上述的「遺產稅」是屬於政府的哪項租稅類型？ (A)所得稅 (B)財產稅 (C)銷售稅 (D)公營事業收入。
- 老陳開車行經高速公路收費站時，使用了電子收費系統 (ETC) 繳交通行費。上述老陳所繳交的通行費，是屬於下列哪一種租稅的原則？ (A)受益原則 (B)負擔能力原則 (C)量能課稅原則 (D)成本原則。
- 臺北市主計處編列年度總預算案，其中包含許多項目，例如：世大運相關經費、臺北流行音樂中心興建工程、天文館展示場改裝暨擴大特展區工程等。上述列舉的項目屬於政府哪一種類型的支出？ (A)經濟發展支出 (B)國防支出 (C)一般政務支出 (D)教育科學文化支出。
- 國有財產署辦理多處國有土地標租，包含桃園市、高雄市、臺南市等交通便利，生活機能佳的地方，提供民間活化利用。根據上述內容，國有土地出租，屬於政府何種收入來源？ (A)舉債收入 (B)罰款收入 (C)規費 (D)財產收入。
- 「雲門舞集」在國家劇院演出時，主辦單位在場外架設電視牆，讓無法入場欣賞者，也能於戶外享受這場音樂盛宴。此舉最能顯示哪種意義？ (A)公共財的充分利用 (B)不買票是貪小便宜的行為 (C)外部效果的產生 (D)消耗了過多的社會成本。
- 新聞報導：「臺中市某公司的售屋廣告中，虛偽不實，誤導民眾認知，行政院公平交易委員會認定違反《公平交易法》的規定，依法處新臺幣 40 萬元罰鍰。」依據上述內容判斷，主管機關的裁決主要在落實政府的何種經濟職能？ (A)提供公共財 (B)處理外部效果 (C)維持經濟秩序 (D)健全社會福利。
- 臺北市環保局發現一排水溝渠長期受到非法排放水性環保漆料，雖然不具毒性，但由於未妥善處理，已違反《水汙染防治法》，處 3 萬元罰鍰，並要求立即改善。依據上文判斷，環保局的做法是屬於政府的何種經濟職能？ (A)處理外部效果 (B)保障私有財產 (C)維持經濟秩序 (D)健全社會福利。

背面尚有試題，請翻面作答

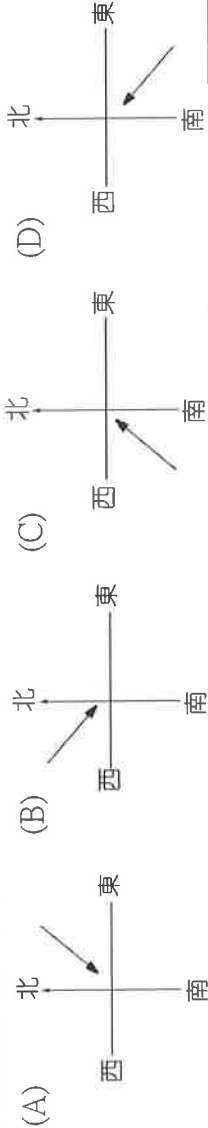
17. 唐太宗是唐代進入盛世時期的重要人物，請問下列哪一事項是屬於唐太宗時期的成就？ (A)創立科舉制度，增加社會階層流動機會 (B)打敗東突厥，被西北各族尊為「天可汗」 (C)展開「大化革新」，開創「貞觀之治」 (D)結束魏晉南北朝，重新統一中國。
18. 下列有關南北朝的敘述，何者正確？ (A)鮮卑族建立的北魏結束五代十國的混亂局面 (B)北魏推行漢化政策，導致朝廷意見不一，最後國家分裂 (C)佛教廣為流傳，出現眾多宗派，以禪宗最為著名 (D)南朝皆以餘杭為首都，對江南的開發貢獻很大。
19. 右圖是中國魏晉南北朝的某段時間的地圖。請問：會形成如此南北分裂、北方多國的局面，與下列哪個事件的關係最密切？ (A)赤壁之戰 (B)八王之亂 (C)永嘉之禍 (D)黃巾之亂。
20. 許多人對於有關「三國」的故事津津樂道，而依史實敘述，下列有關三國的立國與滅亡的敘述，何者正確？ (A)曹魏是三國之中最晚滅亡者 (B)孫吳建都於今日的南京 (C)曹魏的開國者是曹操 (D)蜀漢最終被楊堅篡位而亡。
21. 臺中市政府要舉辦「唐代生活展」，請問：下列何者不可擺放在展覽中？ (A)顏真卿的「多寶塔碑」 (B)「大秦景教流行中國碑」 (C)吳道子「孔子畫像」 (D)莫高窟的壁畫。
22. 一張告示提到：「欲加入的信眾，每人需準備白米五斗，並學習黃老思想。若遭逢任何災難，則可透過符籙、咒語等消災解厄。」此組織的創始人應該是下列何人？ (A)張角 (B)張機 (C)張陵 (D)張衡。
23. 小美在閱讀《大唐盛世》這本小說時，發現有一段敘述不符合史實，請問她發現的應該是下列哪一段情節？ (A)女主角到長安的東市購買生活用品 (B)女主角父親是市舶司的官員，專門負責科舉考試工作 (C)男主角在長安換了飛錢，可以到廣州後直接兌換成銅錢 (D)男主角旅途中碰到來自日本的遣唐使，討論對於佛教的看法。
24. 魏晉南北朝時期，有一個讀書人王元，出身太原王氏，生活相當清苦，有位家財萬貫的士財主想把女兒嫁給他，他竟嚴詞拒絕，只因這位富豪並非出身名門大姓。追究此事發生背景與下列何種觀念最為相關？ (A)門第觀念深厚，凡事講究門當戶對 (B)戰亂紛起，士人只求自保，不思上進 (C)科舉制度盛行，士人瞧不起一般平民 (D)北伐觀念堅定，不願與當地人聯姻。
25. 隋唐時期是中國歷史上相當強盛的時代，創造多次盛世，也發生許多重要事件。下列有關當時發生的史事，依照時間先後順序，選出正確的排列組合。(甲)貞觀之治(乙)開皇之治(丙)玄武門之變(丁)安史之亂(戊)開元之治(己)黃巢之亂。
(A)甲乙丙丁戊己 (B)乙甲丙戊丁己 (C)甲乙戊丙己丁 (D)乙丙甲戊丁己。
26. 中國的佛教發展歷史悠久，各種宗派林立，下列有關佛教在中國的發展敘述何者正確？ (A)西漢末年，中國建立第一座佛寺白馬寺 (B)佛教是由張陵、張角共同創立 (C)唐朝時，宗派林立，以淨土宗最具代表性 (D)石窟藝術是魏晉南北朝佛教發展的重要証明。
27. 隋代時，政府興建多條運河，對於隋唐以後的南北交通、貿易幫助甚大。請問：下列哪一條運河最可能是隋煬帝為了討伐高麗而興建的？ (A)永濟渠 (B)廣通渠 (C)通濟渠 (D)江南河。
28. 璦琿正在看一本書，書名為《北魏紀事：從平城到洛陽》，請問：她不可能在書中看到何種情節？ (A)士人們不在意禮教束縛，喜好談論玄妙道理 (B)北魏的貴族們配合政府的政策，學習漢語 (C)戰亂頻仍，人民需要心靈寄託，景教、回教深受人民喜愛 (D)世族階級受到皇帝重用，擔任重要官職。
29. 安史之亂與黃巢之亂是中國著名的事件。下列有關兩者的敘述何者錯誤？ (A)都發生於唐朝 (B)皆有攻佔長安、洛陽 (C)兩者皆屬於將領叛亂 (D)黃巢之亂造成唐代國勢由盛轉衰。
30. 唐代是中國歷史上最強盛的朝代之一，但自唐代中期之後，國勢大不如前、亂象叢生，請問：下列何者並非唐代中期以後所面臨的問題？ (A)外戚掌權 (B)宦官干政 (C)牛李黨爭 (D)藩鎮割據。
31. 「唐玄宗時，阿拉伯人興起，與唐朝軍隊在怛羅斯發生戰役；唐朝敗戰，被俘虜的唐朝工匠教授阿拉伯人，文化因此西傳。」請問：這一段話是在描述哪一個技術傳遞的過程？ (A)造紙術 (B)指南針 (C)火藥 (D)印刷術。
32. 魏晉南北朝中，有六個立國於南方的朝代，對於中國南方的開發極具貢獻。請問：下列哪一個朝代並非此六朝？ (A)東晉 (B)東魏 (C)孫吳 (D)南朝梁。
33. 晉惠帝在位時，人民因饑荒而困苦，他竟說：「為何他們不吃肉？」這位愚昧無知的皇帝導致紛亂的政局，促成八王之亂的發生。請問：關於這場亂事的敘述，下列何者正確？ (A)亂事發生的背景為東晉時 (B)屬於宗教性質的動亂 (C)惠帝最後為胡人所擄，國家滅亡 (D)使王室元氣大傷，以致於無力對付外族叛亂。

(下頁尚有地理科試題)



34. 建築師如果對當地的氣候、風土人情有充分了解，才能建造出最適合當地居民的房屋。以下是三光建築事務所傳來的對話，哪位建築師對中國建築的評論有誤？ (A)小瑜：「中國南部因雨日多，房屋最好要有騎樓的設計」 (B)豪豪：「為了防止冬天冷風，中國傳統房屋大多坐北朝南」 (C)怡真：「雲貴高原有石灰岩溶洞等地形，加上雨量相對較少，常見窯洞這種就地取材的建築」 (D)固固：「新疆地區因氣候乾燥，適合蓋平頂、厚牆、窗小的平頂式建築」

35. 北京的四合院多半都有修建「影壁」的傳統(如右圖)，入門便見牆，一方面是風水考量避免氣沖，另一方面也有遮擋冷風、遮蔽視線的作用。請問：如果就「遮擋冷風」而言，下列何者是該地最需阻擋的風向呢？



36. 地理課時彭彭把課文整理成筆記(如右表)，卻因少寫一個欄位而被圈起來。依表格提供的資訊判斷，圈起來的欄位應填上什麼內容呢？

- (A)含鹽度 (B)分布位置 (C)注入終點 (D)雨水多寡

37. 中國冬季時南北溫差大，當黑龍江省的哈爾濱辦理冰雪節時，海南省三亞市正舉行沙灘國際婚禮節。請問，上述差異主要是受下列哪項因素影響呢？ (A)緯度 (B)季風 (C)地形 (D)距海遠近

38. 下列是跟右圖有關的描述，以下選項何者完全正確 呢？

(ㄅ) 依照一月均溫，可分為 丁、戊、己 三種氣候區

(ㄆ) 甲 跟 乙 之間，以年降水量 500 mm 為分界

(ㄇ) 『朝穿皮襖午穿紗、懷抱火爐吃西瓜』大適合形容 甲 氣候區了！

(ㄋ) 丁 跟 戊，是以 墨河、騰衝 的連線為分界

(ㄌ) 『一年無四季、一日見四季』是形容 丙 的年溫差小、日溫差大

- (A) ㄅㄆㄇ (B) ㄅㄇㄋ (C) ㄆㄋㄇ (D) ㄅㄇㄇ

39. 承上圖，圖中^{❄️}是中國族群最多元的雲南省，中國有段流行的順口溜寫到：「北京人說他風沙多，內蒙人就笑了。內蒙人說他面積大，新疆人就笑了。新疆人說他民族多，雲南人就笑了…」請問：上文中雲南人為何笑了？

- (A)雲南氣候宜人，吸引多種民族聚集 (B)雲南位於邊疆，邊境少數民族眾多 (C)雲南地形崎嶇，民族更為多元複雜 (D)雲南推行政策，鼓勵各種民族遷居

★馬可·波羅是 13 世紀著名的旅行家，《馬可波羅遊記》更是轟動歐洲，打開了歐洲人對中國的想像。回顧馬可波羅的遊記，他跟爸爸、叔叔從義大利的威尼斯出發，沿途走西亞、中亞，而後經過青藏高原，穿過塔克拉瑪干沙漠，花了四年終於抵達新疆，隨後從甘肅、寧夏，一路前往當時中國元朝君王忽必烈所在的北京，展開了在中國十餘年的遊歷生活……。請回答第 40-41 題：

40. 到中國後，馬可·波羅立馬被這片廣大又富饒的土地所吸引而流連忘返，走訪了中國南北各地的城市。


請問：下列哪段文字最不可能出現在遊記當中？

- (A)起先經過青藏高原時，看到當地居民以犛牛為馱獸，飲食生活也跟犛牛息息相關，真是特別耶！
(B)到寧夏時，遇到許多到信奉伊斯蘭教的回族人
(C)沿著大運河南下時，行經洞庭湖等鹹水湖泊，見到附近居民採收湖鹽，十分有趣呢！
(D)在新疆這兒，也許是因為位置的關係，族群也挺多元的呢！

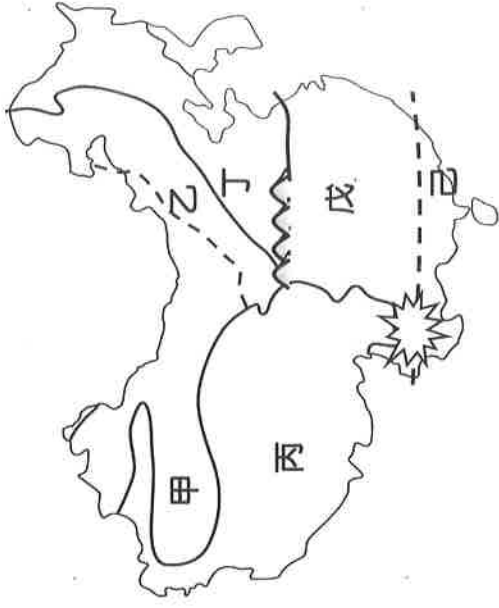
41. 當時的君王忽必烈，是成吉思汗的孫子，為蒙古族。請問：關於蒙古族的描述，下列何者正確？

- (A)信奉伊斯蘭教 (B)產業以農耕為主 (C)旗袍是其傳統服飾 (D)那達慕大會是其重要的節慶活動

[背面尚有地理科試題，請換面作答]



	?	水的來源
內流河	內陸湖泊、或消失在沙漠中	高山融雪
外流河	海洋	雨水



★11 月 11 日是中國大陸的「光棍節」，又稱單身節、雙 11 節。同時，這一天也是衆多爲單身男女脫離單身狀態而舉辦交友聚會活動的日子，因此又稱爲脫光節（意爲「脫離光棍單身的節日」）。因此，各大商家以「脫光」爲由，進行打折促銷，光棍節逐漸演變成網路購物日，2018 年 11 月 11 日，天貓的單日交易總額就超過人民幣 2000 億元，是美國黑色星期五網購業績的 5 倍…請回答 42-45 題：



42. 因中國男、女性別比失衡，男多女少的緣故，光棍節產生之初的光棍僅指「單身男性」，到後來才延伸出單身男女的說法。由最初的「光棍節」解釋，當時的性別比最可能為何？

(A)85 (B)100 (C)115

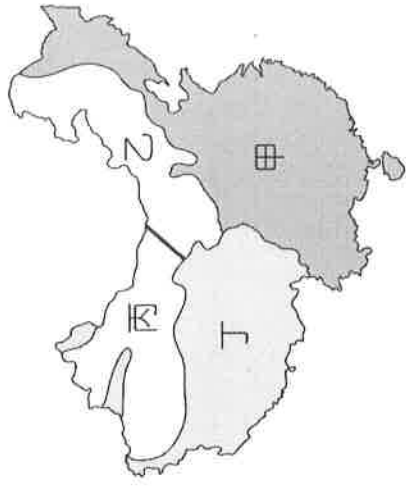
43. 造成中國男、女性別比例失衡、幾千萬男性成了「剩男」的原因為何？

(A)人口總數過多 (B)民族分布過廣 (C)實施一胎化政策 (D)人口素質不均

44. 由文中描述可知，中國一日內即展現了 2000 億元的龐大購買力，跟下列何者最有關？

(A)面積廣大 (B)人口眾多 (C)民族多元 (D)地形複雜

45. 中國的人口分布並非平均分散在每一地，而是有區域差異的。當員工遞上右圖



時，身為銷售網站老闆的你應該主打圖中那一塊區域，才是最大的消費市場呢？

(A)甲 (B)乙 (C)丙 (D)丁

★爲了加深同學們的課堂印象，地理老師設計了「中國氣候牌卡配觀看」的活動。請問：

46. 在活動進行前，老師請同學先對中國的氣候進行討論；而關於「季風」，以下誰的說法有誤？


(A)小玆：中國南部冬季吹東北季風，夏季吹西南季風 (B)小姿：中國的降雨時間分布不均，集中在夏季，與季風有很大的關聯唷 (C)翹翹：冬季季風的發源地是蒙古、西伯利亞 (D)健哥：夏季季風發源地是太平洋、大西洋

47. 除「季風」之外，「地形」、「緯度」、「距海遠近」也是影響中國氣候重要因素。關於這些因素的影響，誰的說法完全正確？ (A)阿斌：中國的降雨量由東南向西北遞減，是受了緯度的影響唷 (B)妍妍：受地形影響，西半部氣溫由山腳向山頂上遞減 (C)小詠：中國的降雨多集中在夏季、冬季相對乾燥，是因為距海遠近的關係 (D)阿達：中國東北部

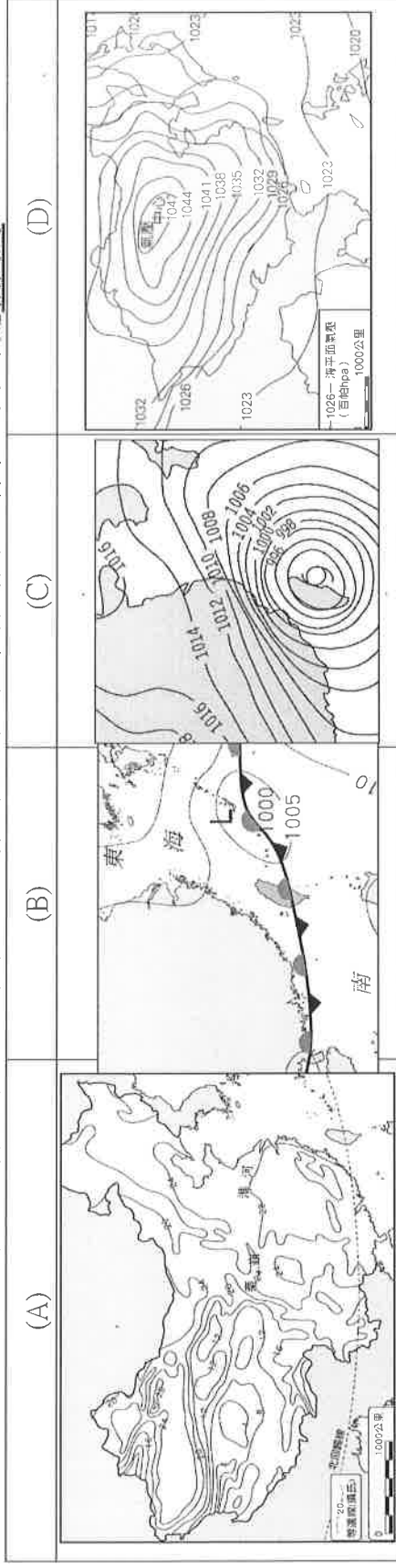
的年溫差、日溫差均比東南部來的大，主要是因為季風的影響

48. 在進行氣候圖與氣候類型配對時，下列哪一個氣候圖與類型的配對內容是正確的？

(A)漠河--溫帶沙漠氣候 (B)上海--熱帶季風氣候 (C)拉薩--溫帶草原氣候 (D)蘭州--溫帶草原氣候。



49. 在動力船使用之前，中國沿海與南洋(東南亞)之間貿易的船隻必須根據「舶棹風」來決定往返的時間，而這種「舶棹風」即是利用季風氣候冬、夏季節風向相反的特性。請問：當船員要前往東南亞、行經台灣時，發現海中有許多俗稱「烏金」的魚，抓起來烹煮時魚肚內的魚卵已十分飽滿成熟，此時與下列哪一張卡牌的圖表所代表的季節是相同的？



50. 當你沿著某河川的發源地一路往出海口考察，就能把中國三大氣候一網打盡，此河流應該是？(A)珠江 (B)黃河 (C)黑龍江 (D)雅魯藏布江

〔試題結束，記得多檢查幾次唷！預祝考試順利㊿〕