

台中市三光國中一〇七學年度第二學期第一次定期評量七年級社會科試卷(第一頁)

選擇題：1-50 題每題 2 分

- 自從 iPad 問世後，許多實習醫生利用它來記錄病人的情況，卻造成許多病人誤以為醫生在打電動玩具，引發他們對該醫生專業能力的質疑，由此可見人們的一舉一動必須受到哪方面的牽制？ (A)角色 (B)性別 (C)自我 (D)社會地位。
- 受到電視綜藝節目的影響，小崑動不動就對同學惡作劇，並不時仿效藝人的誇張表演，這凸顯出在資訊化的社會中，下列何者是我們所必須關注的重要課題？ (A)慎選傳媒提供的資訊 (B)傳播媒體種類普及化 (C)獲得最大的經濟效益 (D)資訊傳播的無遠弗屆。
- 阿耀從小生在黑幫家族中，在耳濡目染之下，經常攜帶刀械到學校「防身」，並對同學收取保護費，若有不從，就召集人手一陣毒打。阿耀上述行為主要是受到哪方面的影響？ (A)家庭 (B)學校 (C)同儕團體 (D)傳播媒體。
- 三光國中舉行七年級班際跳繩比賽，每一個班級的同學都相當勤奮的練習，希望可以得到勝利。這種全班同學共同參與體育競賽是屬於下列哪種社會互動的表現？ (A)競爭 (B)衝突 (C)合作 (D)交換。
- 美國總統大選開票結果出爐，共和黨候選人川普當選總統，部分民眾集結到街頭抗議，表達對選舉結果的不滿，但有幾名示威者企圖對警方施暴，最後被警察逮捕。上述的示威者和警察是屬於何種社會互動模式？ (A)合作 (B)競爭 (C)衝突 (D)交換。
- 臺北市立民生國中教師應用電子白板，學生人手一臺平板電腦，運用即時又快速的雲端教學服務系統答題，讓教室搖身為互動學習新樂園。上述師生間屬於哪種類型的互動？ (A)人與人 (B)個人與團體 (C)團體與團體 (D)團體與國家。
- 在重大的考試場合中，主辦單位都會針對身障考生增設特殊考場，提供盲用電腦、放大試題本或點字試題本，以協助考生克服障礙順利應考。上述特殊服務的提供，主要是基於下列哪項理念？ (A)社會角色 (B)政治參與 (C)社會正義 (D)社會衝突。
- 顯銓習慣每天利用網路收看政治新聞，但他總是會看見不同政黨的支持者在留言處互稱對方為「藍狗」或「綠蛆」等。由這些網友的留言觀察，這些人顯然缺乏現代公民的何種基本素養？ (A)尊重他人 (B)捍衛正義 (C)重視公德 (D)增進公益。
- 野柳地質公園以海蝕地形聞名於世，近日常見到觀光客在奇岩上刻下「○○○到此一遊」的字跡，破壞自然景觀。這些觀光客的行為，缺乏哪種公民素養？ (A)理性溝通 (B)積極參與 (C)維護正義 (D)重視公德。
- 元哲的媽媽說：「元哲自從參加國中校友會，就常參加其所舉辦的各項活動，和校友的感情變得很好。」由此可知，「校友會」主要是具有哪種功能取向的團體？ (A)利益取向 (B)興趣取向 (C)關係取向 (D)工作取向。
- 新聞報導：「台中人陳耀涉嫌以廟會名義吸收青少年成立幫派，並與其兄陳崑仗勢幫派勢力以暴力逼討債務，有被害人被其追討連夜跑路，日前陳耀、陳崑等十名嫌犯被逮捕歸案。」依據內容判斷，該幫派已經觸犯何部法律，必須接受制裁？ (A)《人民團體法》 (B)《憲法》 (C)《組織犯罪防制條例》 (D)《民法》。
- 宜蘭縣冬山鄉的珍珠社區發展協會致力於社區營造工作，將社區的文化產業——稻草工藝加以推廣，成效卓著。珍珠社區發展協會是屬於《人民團體法》中的哪種類型？ (A)政黨 (B)職業團體 (C)政治團體 (D)社會團體。
- 桃園市空服員職業工會為爭取中華航空公司空服員權益，於民國 105 年 6 月 24 日發動史上第一次空服員罷工行動。請問：桃園市空服員職業工會是屬於下列哪種類型的團體？ (A)職業團體 (B)政黨 (C)社會團體 (D)政治團體。
- 有知名婦運人士與學者組成民間團體，發起「臺灣 919，天災不再有」活動，民眾可登入「臺灣 919 網」寫下想為臺灣做的一件事，表達對臺灣的祝福。上述屬於哪種類型的團體？ (A)政治團體 (B)職業團體 (C)志願團體 (D)營利團體。
- 志願服務者不以獲取報酬為目的、將個人的知識、勞力、時間等貢獻於社會。下列何者可以稱為「志願服務者」？ (A)在量販店打工的勇洸 (B)在銀行上班的梓維 (C)在路口指揮交通的義警逸惟 (D)在夜市賣飾品的裕宥。
- 在民主社會中，公民主動積極參與公共事務的方法很多，下列哪種方式並不恰當？ (A)到養老院擔任志工，服務老人 (B)打聽政府官員行蹤，藉機送禮拓展人脈 (C)捐款給需要幫助的人 (D)參加守望相助隊，維護社區安全。

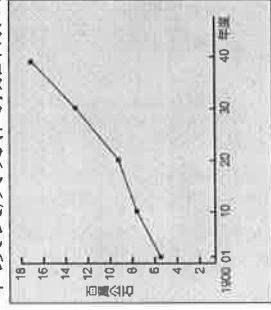
背面尚有試題，請翻面作答

17. 今日到北部濱海公園遊玩，可在貢寮看見日軍登陸澳底鹽寮的紀念碑屹立在公園中。這個紀念碑與下列何事的發生有關？
 (A)日軍藉口牡丹社事件，武力犯臺 (B)臺灣文化協會赴日請願運動 (C)甲午戰敗，《馬關條約》割臺 (D)中法戰爭時，日本趁機侵臺

18. 附圖為國立臺灣博物館最近正在展出的主題，根據該圖判斷，這次的特展主題可能為何？



- (A)孤臣無力可回天——臺灣民主國的興亡 (B)軍路藍縷——清代的臺灣開發 (C)安平追想曲——國際競爭下的臺灣
 (D)番薯芋頭一家親——戰後臺灣的發展
19. 第二次世界大戰日本戰敗後，許多在臺灣的日本人銅像都被破壞，後來八田與一銅像被重新豎起來，以紀念他對臺灣的貢獻。關於八田與一所設計的「嘉南大圳」，下列敘述何者錯誤？
 (A)為了要達成「工業臺灣，農業日本」的政策而興建 (B)興建完成後，使灌溉區內的農作物產量增加 (C)烏山頭水庫是圳的源頭蓄水庫 (D)興建完成後，增加水稻的種植面積
20. 附圖為日治時期臺灣稻米生產量的曲線圖。西元 1920 年以後稻米生產量增加的原因：(甲)農業臺灣政策的推行(乙)蓬萊米改良成功(丙)嘉南大圳的興建(丁)中國大陸地區對臺灣稻米的大量需求。正確的有哪些？



- (A)甲乙丙 (B)甲丙丁 (C)乙丙丁 (D)甲乙丙丁
21. 日治時期的臺灣有「糖業王國」的美譽。有關日治時期的糖業發展，下列敘述何者符合史實？
 (A)蔗糖與樟腦為日治時期兩大重點作物 (B)日人興建大型的糖廠來生產蔗糖 (C)總督府實施浮動價格制度以保障蔗農的權益 (D)「第一憨，種甘蔗給會社磅」的俗諺，道出蔗農被剝削的辛酸
22. 日治時期曾在日月潭進行大型建設，關於此一建設下列敘述何者正確？
 (A)是日治時期臺灣最重要的水利灌溉工程 (B)完工於第一次世界大戰以前 (C)最主要功用在於提供休閒觀光資源 (D)提供臺灣工業化發展所需的電力
23. 臺灣為一海島，經濟高度依賴對外貿易，港口建設十分重要。日治時期建造哪兩個港口，使臺灣成為往來東亞的重要中繼站？
 (A)安平港、高雄港 (B)高雄港、臺中港 (C)高雄港、基隆港 (D)基隆港、花蓮港
24. 日本取得臺灣作為殖民地之初，為了能充分利用臺灣配合日本經濟發展，積極推動各項經濟基礎建設，但並沒有實施下列哪項措施？
 (A)進行人口普查 (B)進行土地山林調查 (C)發行日圓作為單一貨幣 (D)統一度量衡
25. 西元 1919 年第一次世界大戰後，日本政府改採「同化政策」，高談「一視同仁」、「日臺合一」這是受哪一思潮的影響？
 (A)國族主義 (B)民族自決 (C)社會主義 (D)自由主義
26. (甲)殖民統治開端(乙)殖民統治強化(丙)皇民化時期，請依序將以上時期總督的屬性排列出來？
 (A)武官、文官、文官 (B)武官、武官、文官 (C)武官、文官、武官 (D)文官、武官、武官
27. 下列人物與其從事活動的配對，何者正確？
 (A)霧社事件——唐景崧 (B)苗栗事件——丘逢甲 (C)臺灣民主國——羅福星 (D)西來庵事件——余清芳
28. 日治前期，臺灣人民以武力反抗日本，在哪個事件後，臺灣人民的武裝抗日行動轉趨沉寂？
 (A)霧社事件 (B)苗栗事件 (C)西來庵事件 (D)劉永福離臺
29. 西元 1930 年代中後期，日本積極對外擴張，並計畫將臺灣建設為對外擴張的前進基地，此時日本政府在臺的施政原則，不包括下列何者？
 (A)皇民化 (B)工業化 (C)南進政策 (D)無方針主義
30. 總督府能深入控制臺灣社會的各個角落，主要得力於警察制度與何者之結合？
 (A)漢化政策 (B)保甲制度 (C)皇民化運動 (D)教育制度
31. 早期臺灣受限於地形及河川的險阻，南北交通以海運為主，直至南北縱貫鐵路全線通車，陸上交通才得以暢通。請問：上述的「南北縱貫鐵路」在何時完成全線通車？ (A)清領前期 (B)清領後期 (C)日治時期 (D)中華民國在臺灣
32. 承上題，這段鐵路連接下列哪兩地？ (A)臺北——高雄 (B)臺北——屏東 (C)基隆——高雄 (D)基隆——屏東
33. 霧社事件是日治時期原住民抗日的重大事件，它是由哪一族原住民所發動的？
 (A)賽德克族 (B)阿美族 (C)排灣族 (D)卑南族

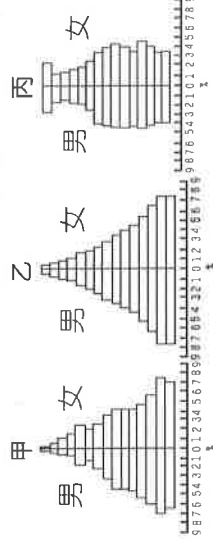
34.臺灣近年來積極推廣酪農業，頗具規模的牧場紛紛建立。此種畜牧業發展的目的為何？(A)大量外銷賺

取外匯 (B)農閒副業 (C)供應市場所需 (D)山坡地水土保持

35.附圖分別為甲、乙、丙三國的人口金字塔圖，若將三國經濟開發

程度由最好排到最弱，應為何者？(A)甲乙丙 (B)乙甲丙 (C)丙

甲乙 (D)甲丙乙



◎『當陽光~ 再次，回到那~ 飄著雨的國境之南~』隨著電影《海角七號》的主題曲響起，立於屏東大鵬灣水面上的黑鯨魚主燈，被水舞、煙火、無人機燈光秀包圍，就在遊客的掌聲與驚嘆中，屏東燈會風光落幕。今年這場在國境之南舉辦、被譽為「史上最美」的台灣燈會，連假首日湧入的參觀人次，就達到167萬人次，是屏東縣人口的兩倍，內容精采到被外國媒體譽為是沒有雲霄飛車的迪士尼呢！請問：

36.今年屏東燈會主燈跳脫生肖，改用當地特產黑鯨魚讓人耳目一新。黑鯨魚每年4~6月會順著[]洄游至台灣東部海域覓食。請問[]適合填入下列何者？(A)黑潮 (B)中國沿岸流 (C)親潮 (D)颱風

37.臺灣四面環海，海洋漁業資源相當豐富。漁民在進行漁業活動時，常會放生體積較小的幼魚，其目的為何？(A)維持價格 (B)肉質不佳 (C)永續發展 (D)淨化水質

38.屏東燈會除了黑鯨魚主燈外，造型水果燈籠也相當吸睛，設計者以屏東在地的特產作為設計理念，請問最有可能為下列何者？(A)三星蔥 (B)林邊蓮霧 (C)拉拉山水蜜桃 (D)梨山蜜蘋果。

◎地理老師們最喜歡用閱讀圖表或短文來”鍛鍊”同學，希望大家成為地理小達人，而魔鬼往往藏在細節裡，請仔細看好囉：

「吃炸雞喝檸檬」~某炸雞店的一句宣傳口號，帶動屏東縣的綠金奇蹟！全臺灣檸檬生產面積約2800公頃，屏東縣就佔了7成以上，2017年更透過與集團公司合作，打開行銷通路，不僅提高檸檬產量，更結合炸雞店的銷售策略，讓遠在中國的北京、上海都能喝到屏東檸檬汁香甜的滋味！

39.上述新聞報導，主要在形容台灣農業發展的哪一項特色？(A)耕地狹小、集約耕作 (B)農村人力不足 (C)農產品商品化 (D)品種改良技術先進

新北市是台灣最多人口的都會區，如今即將突破400萬人口大關！新北市民政局局長表示「原本預計今年(2019)六月達標的400萬人口，可望四月底提前達標。」市長侯友宜表示，原有的捷運「三環三線」打算擴充至「三環六線」，交通網絡也要與台北、桃園相接，打造更便利的共同生活圈；他鼓勵年輕人到新北市居住，因為房價約為台北市的一半，新北市政府也在捷運站周圍蓋青年社會住宅，希望讓年輕人住得起。

40.依據上文判斷，誰的觀點最不恰當？(A)阿威:新北市人口密度為全台之冠 (B)小麗:增加人口可能來自出生或移入 (C)小婷:房價是年輕人考慮居住地的因素之一 (D)梵哥:捷運通車後，往台北通勤的人會變多

台灣農業從業人數占全國就業人口4.9%，農民平均年齡約62歲。農委會認為傳統管理模式已逐漸被機械化、自動化所取代，特別鼓勵「專業農民透過大面積智慧型無人機噴灑，降低環境污染、改善生產效率及人力投入…」

41.關於上述文章內容，以下誰提出的說法有誤？(A)喬喬:根據從業人數的比例，可以判斷農業不是台灣主要的產業 (B)世雅:台灣的農業經營模式正在從粗放走向集約呢！ (C)阿佑:使用無人機噴灑，可以解決農業人力不足和老化的問題唷 (D)小任:政府鼓勵青年返鄉務農，可以減緩農村人口老化

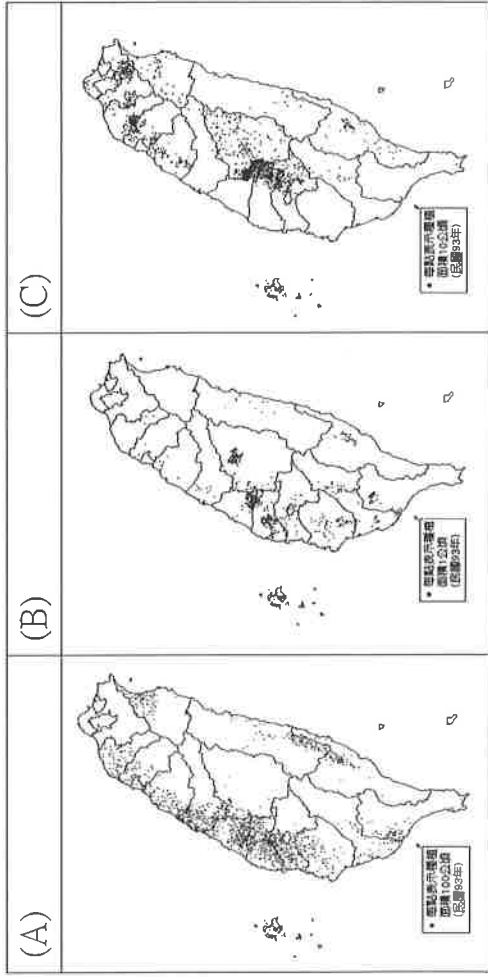
「在雲林虎尾，正舉辦一場有趣的活動，參加者將要追逐載著甘蔗的小火車，體驗早期追火車搶甘蔗的鄉村生活。台灣糖業發展甚早，從荷蘭人來台期間，鼓勵種植甘蔗，到了日治時期，糖業成為台灣出口主要產品，全台紛紛建立現代化糖廠。光復之後，糖廠收歸國有，但台灣糖業卻因製糖的成本過高，在國際市場上，產品價格無法競爭，漸漸停工關廠。

台糖虎尾糖廠的小火車，成為目前台灣僅剩還在載運甘蔗的列車，虎尾糖廠保留較多的歷史風貌，成為許多人參觀的地點。糖廠經營起導覽解說的业务，原本駕駛火車載甘蔗的司機員，也開始學著載運乘客。糖廠內的員工，經過訓練後，當起解說員，面對年齡不同的遊客，必須展現不同的導覽功力。」

42.依據文中所述，臺灣糖業曾經非常興盛，但目前多數糖廠皆已停工關廠，以下誰歸納的原因最正確？

(A)小均：夏天多颱風造成產量不穩 (B)邵邵：國外蔗糖品質較臺灣好 (C)涵涵：臺灣耕地狹小，產量太少無法供應國外訂單 (D)慈慈：臺灣製糖成本較高，價格相對失去競爭力

43.上文中所提及之農作物，依據其適合生長的自然環境判斷，在臺灣種植分布的情況應是左下哪張地圖？



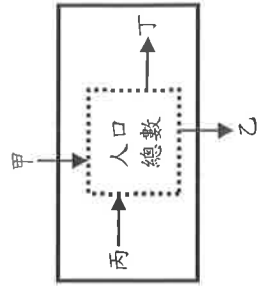
44.右圖是108年農委會的農產品外銷海外市場目標，讀完此圖提供的資訊後，誰做出的判斷最正確？(A)阿楷：台灣的農作物多樣，這跟緯度低、地勢落差大有關 (B)學姊：台灣農產品的主要市場是新南向國家、中東、加拿大、俄羅斯 (C)小明：出口茶葉的縣市是南投，由此可知道茶葉喜歡生長在高溫多雨的平原 (D)浩哥：台灣出口的農產品多以糧食作物為主

◎光光村是個可愛的小聚落，佔地面積約4平方公里、住了三戶人家，其家庭成員組成、年齡、職業或就讀年級如下表所示。請回答下列問題：

大雄家	花家	蠟筆小新家
爸爸 (43 歲) - 貨運司機	花爸 (47 歲) - 種植蘭花	爸爸 (39 歲) - 工程師
媽媽 (41 歲) - 幼稚園老師	花媽 (46 歲) - 花店老闆	媽媽 (37 歲) - 報社記者
大雄(男)- 14 歲學生	花橘子 (姐) - 17 歲 學生	小新 (兄) - 4 歲
哆啦 A 夢(男)-65 歲 銅鑼燒銷售員	花柚子 (弟) - 15 歲 學生	小葵 (妹) - 0 歲

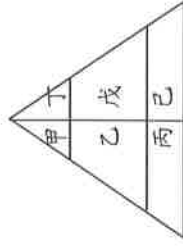
45.請問光光村的人口密度應該是多少?(A) 0.33 (B) 3 (C) 12 (D) 48 人/km²

46.若附圖為光光村的人口成長示意圖，下列敘述何者有誤？(A)甲：移入 (B)乙：移出 (C)丙：死亡 (D)若 (甲+丙) > (乙+丁) 時，光光村的人口成長為正成長狀態



47.請問光光村的性別比呈現何種特色？ (A)小於 100 (B)等於 100 (C)大於 100

48.關於光光村扶養比的相關描述，下列何者有誤？(A)光光村壯年人口有 7 個 (B)花家的扶養壓力最小 (C)扶養比約為 50% (D)光光村的老年和幼年人口有 4 個



49.請問柚子在右圖人口金字塔中的位置是？ (A)甲 (B)乙 (C)戊 (D)己

50.若將光光村居民從事的職業進行產業分類，下列何者有誤？ (A)第一級：2 人 (B)

第二級：1 人 (C)第三級：5 人