

台中市三光國中一〇七學年度第一學期第三次定期評量八年級社會科試卷(第一頁)

選擇題：1-50 題每題 2 分

- 政黨常會藉由設立服務處等方式服務民眾，協助人民解決問題；也能從服務選民的過程中，了解人民的需求，進而形成政見。上述為哪種政黨功能的發揮？ (A)組織政府或監督政府 (B)推荐候選人參與選舉 (C)教育民眾增進民主知能 (D)服務選民與匯集民意。
- 在民主社會中，有一句名言，「沒有永遠的執政黨，也沒有永遠的在野黨」。這句話的意思是指下列何者？ (A)一個政黨能否執政是以人民的決定為依據 (B)民主社會中執政黨的執政時間都很短 (C)執政黨執政一段時間後必須讓給在野黨 (D)執政黨的黨員流動性高因此無法永遠執政。
- 新聞報導：「針對 2018 年即將進行的地方選舉，各個政黨陸續啟動初選機制，為了鼓勵青年黨員參選，也祭出民調加權等機制。」政黨實施民意調查的主要目的在於下列何者？ (A)籌組聯合政府 (B)監督執政黨施政 (C)籌措更多的選舉經費 (D)提名最可能當選之候選人。
- 日本在 1993 年以前，除了少數時候未能取得眾議院大多數席位外，大部分時候均由自由民主黨執政，並號稱為萬年執政黨。根據以上日本自由民主黨發展之歷史研判，當時的日本政府屬於何種政黨體制？ (A)多黨制 (B)一黨專政制 (C)兩黨制 (D)一黨獨大制。
- 冰島國會大選結果近日揭曉，沒有政黨取得絕對多數，很可能組成聯合政府，右翼執政聯盟的「獨立黨」與「進步黨」共獲得 41% 選票，選前民調曾位居第一的「海盜黨」開票則不如預期漂亮。根據上述內容，冰島的政黨型態屬於下列何者？ (A)兩黨制 (B)多黨制 (C)一黨獨大制 (D)一黨專政制。
- 在國會中，占有較多席次的大黨對議案表決具有相對優勢，但也不能因此忽略其他政黨所代表的民意。上述為哪種政黨政治的運作原則？ (A)依法組黨與公平競爭 (B)國家與人民利益優先 (C)服從多數與尊重少數 (D)尊重寬容與理性協商。
- 一群具有共同理念或利益的人所組成的團體，其組成的目的，不在於取得執政權，而是企圖影響政府公共政策的制定與執行，以保障或增進該團體的利益與目標。上述所指為何種團體？ (A)政黨 (B)財閥 (C)利益團體 (D)市場。
- 相較於政黨，利益團體所表達的意見是為了保障或增進特定群體的利益。下列哪一項最有可能是利益團體提出的訴求？ (A)加強邦交國家的維繫 (B)刪減政府人事的經費 (C)提高工資與降低工時 (D)提升國民年平均所得。
- 在民主國家，人民有權參與政治並決定公共事務，下列何者不是人民參與政治的方法？ (A)新怡叩應到政論節目發表意見 (B)宜需爺爺加入長青學苑的氣功研習社 (C)歡蓓參加美濃水庫興建的說明會 (D)梅慈寫信向市長反映資源回收政策的利弊。
- 平安鄉鄉長耿業出馬角逐下屆的鄉長，由於耿業執意要在該鄉興建垃圾掩埋場，民眾於是透過選舉投票支持另一位主張興建的候選人，結果耿業落選。上述是民眾發揮選舉的哪一項功能？ (A)展現責任政治 (B)政權合法轉移 (C)影響政府決策 (D)政黨輪替。
- 黎巴嫩將近有兩年處於無總統的權力真空狀態，日前終於在國會 127 名議員全體出席會議下，選出基督教政黨領袖奧恩，擔任黎巴嫩共和國第 13 任總統。根據上述內容，顯示出選舉具備的何項功能？ (A)選出公職人員 (B)影響政府決策 (C)合法轉移政權 (D)展現責任政治。
- 我國選舉活動的進行，有法定的程序，依照時間的先後順序，下列哪項排列是正確的？ (A)登記→競選→投票→開票→公告結果 (B)公告結果→登記→競選→投票→開票 (C)開票→競選→投票→公告結果→登記 (D)登記→競選→開票→投票→公告結果。
- 索施是個在臺南市讀書的二十歲青年，雖然他平常都住在臺南市，但他的戶籍地還是設在老家臺北市。若索施想參與總統大選的投票，他應該要去哪裡投票？ (A)臺南市內的任一投票所 (B)中央選務機構 (C)臺北市內指定的投票所 (D)臺南市市政府。
- 2018 年舉辦的地方選舉，包含縣(市)長、鄉(鎮、市)長和縣(市)議員，依照我國法律規定，這三種候選人的年齡資格限制，由小至大依序為何？ (A)嘉義市長、太保市長、嘉義縣議員 (B)嘉義市長、嘉義縣議員、太保市長 (C)嘉義縣議員、嘉義市長、太保市長 (D)嘉義縣議員、太保市長、嘉義市長。
- 2018 年舉辦的地方公職人員選舉中，以六個直轄市的選情最受矚目。下列關於該次選舉的敘述，何者正確？ (A)由各地的選務機關依《地方制度法》來辦理 (B)直轄市民須選出市長、市議員、立法委員及里長等公職 (C)該次選舉公職人員的任期皆為 4 年，連選得連任一屆 (D)民意代表及村(里)長的候選人至少須年滿 23 歲。
- 2008 年 1 月，我國首度實施「立法委員單一選區兩票制」選舉，臺灣首富郭台銘、第一名模林志玲等，與一般民眾在此選舉中，同樣都可領取兩張選票，「一票選人、一票選黨」，這也是民主選舉的何項原則？ (A)普通 (B)平等 (C)直接 (D)無記名。

背面尚有試題，請翻面作答

17. 宋初為解決唐末以來藩鎮割據的問題，實施「強幹弱枝」政策，雖然能夠控制地方，集權中央，但也產生下列哪一項流弊？

(A)宗室相殘 (B)邊防不振 (C)外戚專權 (D)土地兼併

18. 北宋初期，中國北方最強大的外患是契丹族建立的遼，遼時常南下侵擾中國北方。請問：遼能夠屢次南下侵擾中國，與中國失去哪塊領土有很大的關係？

(A)涼州 (B)汴京 (C)潭州 (D)燕雲十六州

19. 據《東京夢華錄》記載，為滿足市民的夜生活，原先的坊市制、宵禁全無法再實施了，城裡出現夜市、早市。店舖經常營業至三更方盡，五更又重新開張。上述城市現象最早出現在何時？

(A)唐代 (B)清代 (C)宋代 (D)元代

20. 宋元時期，海外貿易繁榮，市舶司的稅收為國庫重要收入。當時政府在哪兩個港口設有「市舶司」？

(A)廣州、泉州 (B)上海、廣州 (C)福州、泉州 (D)廈門、寧波

21. 北宋司馬光主編的《資治通鑑》，是一部記述了從戰國到五代史實的史學巨著，在中國史學上占有一席之地。請問：《資治通鑑》是中國第一部什麼體例的史書？

(A)紀傳體的通史 (B)編年體的通史 (C)紀事體的斷代史 (D)紀事本末體的通史

22. 宋元時期，三大科技開始達應用階段，其中不包括下列何者？

(A)造紙術 (B)指南針 (C)印刷術 (D)火藥

23. 張居正的「一條鞭法」，其內容屬於哪一個層面的改革？ (A)軍事 (B)吏治 (C)教育 (D)經濟

24. 電影「錦衣衛」是圍繞在明代特務機構錦衣衛而展開的。我們應如何正確解讀錦衣衛的歷史？

(A)錦衣衛為皇帝貼身侍衛，隸屬於宰相 (B)明太祖為鞏固政權創設，以監督官員 (C)與東廠同為特務機關，皆由宦官擔任 (D)滿清為穩固政權所設的，目的在監督漢人

25. 三寶太監鄭和下西洋的動機與影響，不包括下列何者？

(A)宣揚國威 (B)文化交流 (C)貿易和探險 (D)奠定華僑在南洋之基礎

26. 金國被蒙古滅亡後，原金國境內的契丹人應該被分在哪一種等級？

(A)蒙古人 (B)色目人 (C)漢人 (D)南人

27. 明代有許多小說是改編自歷史，同學將自己已經看過的明代小說與作者整理如附表，但何者錯誤？

選項	作者	小說
(甲)	施耐庵	《水滸傳》
(乙)	吳承恩	《西遊記》
(丙)	曹雪芹	《紅樓夢》
(丁)	羅貫中	《三國演義》

(A)甲 (B)乙 (C)丙 (D)丁

28. 關於明清的科學制度層級，由低到高排列順序何者正確？

(A)鄉試→童試→會試→殿試 (B)童試→鄉試→會試→殿試 (C)童試→鄉試→殿試→會試 (D)童試→會試→鄉試→殿試

29. 下列關於明清社會經濟之敘述，何者正確？

(A)形成地域性的商幫組織 (B)自越南傳入早熟稻，紓緩糧食不足問題 (C)因人口增加，部分人民移民非洲東岸 (D)專業市鎮興起，如以紡織著名的江西景德鎮

30. 下列哪位清朝的皇帝以傳教士介入皇位之爭為理由，下令全面禁教？

(A)康熙 (B)雍正 (C)乾隆 (D)嘉慶

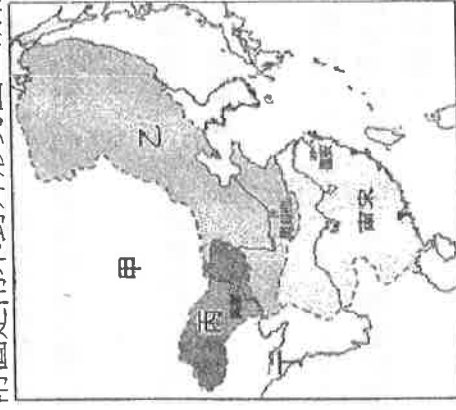
31. 元代征服歐亞大陸，建立一個空前的大帝國，並實施許多措施。請問：下列哪一措施使歐亞交流更加頻繁，中外經貿大增？

(A)整建大運河 (B)鼓勵歐人來華發展 (C)實施種族融合政策 (D)廣設驛站

32. 西方啟蒙運動時代，狄德羅著有百科全書；而中國的明代也有一本百科全書式的著作，內容記載農業、手工業的生產技術和操作方法，並有附圖說明。這本百科全書式的著作是下列何者？

(A)《天工開物》 (B)《夢溪筆談》 (C)《幾何原本》 (D)《皇輿全覽圖》

33. 附圖是南宋對外形勢圖，請依圖回答下列問題：



金庸小說《射雕英雄傳》中兩位男主角的父親（結拜兄弟）分別將自己的兒子取名為郭「靖」與楊「康」，為了是希望後代不要忘記亡國之恨——靖康之禍。引發靖康之禍的外族位於附圖中何處？ (A)甲 (B)乙 (C)丙 (D)丁

【題組 34-39】


※右列圖一是根據中國經濟發展所劃分的三大經濟帶(甲、乙、丙)及經濟圈(ㄅ、ㄆ、ㄇ)。

請根據圖中代號回答下列問題。請問：

34. 右列漫畫顯示中國某一經濟帶所面臨的缺工問題，中國近年有愈來愈多的農民工選擇留在離家鄉比較近的地區工作，而不願意到本區工作；外資亦因本區工資上揚，為降低生產成本，也使得中國工廠和產業逐漸朝向其他經濟帶轉移。請問：右列漫畫及上文所陳述的問題是描述圖一的哪一經濟帶？(A)甲 (B)乙 (C)丙



35. 「右列為泛亞鐵路中國段示意圖，是東南亞國家除了既有的湄公河的水運聯繫外，重要的陸運聯結建設，中國將以昆明為中心，分東線、中線、西線三路並進，將本區鐵路網一舉串起，最南到達新加坡，預計鐵路總長將達到1萬4600公里，完工日期未知。目前此工程面臨既有鐵路網統一軌距、通關、邊檢、資金來源等需要各國協商的問題。」請問：關於此工程的敘述，何者錯誤？(A)促進圖一的「丙經濟帶」的發展 (B)是新疆的重大聯外鐵路建設 (C)可帶動中國與中南半島之間的經貿發展 (D)屬「一帶一路」策略的重大發展



36. 右列為2018年10月正式通車的港珠澳大橋示意圖，通車後，穿梭香港、珠海、澳門三地的交通時間將銳減，港珠澳形成「一日生活圈」。此大橋是中國新的地標性建築之一，是現在世界上最長的沉管隧道及世界跨海距離最長的橋隧組合公路，被譽為世界橋樑界的「珠穆朗瑪峰」，英國《衛報》稱之為「現代世界七大奇蹟」之一。請問：此大橋是圖一中哪一經濟圈的重大建設？(A)ㄅ (B)ㄆ (C)ㄇ



37. 下列關於圖一的「乙經濟帶」的描述，正確者有哪些？(甲)直轄市重慶市位於本區 (乙)海運交通便利於進出口 (丙)能源礦產資源豐富 (丁)透過「中部崛起」政策發展迅速 (A)甲乙 (B)乙丙 (C)甲丙 (D)丙丁

38. 地理課時，同學們對中國產業發展的描述，何者說法正確無誤？(A)舒閔：經濟特區主要分布於圖一的「丁經濟圈」 (B)育恩：目前台商投資中國仍以勞力密集型的產業為主 (C)晶量：所得提升消費潛力大，讓中國成為「世界工廠」 (D)宜臻：人均GDP及貿易總額均名列世界前茅

排名	行政區	人均GDP (人民幣)	排名	行政區	人均GDP (人民幣)
1	北京市	128,927	27	山西省	40,557
2	上海市	124,571	28	西藏自治區	39,258
3	天津市	119,240	29	貴州省	37,956
4	江蘇省	107,189	30	雲南省	34,546
5	浙江省	92,057	31	甘肅省	29,326

39. 右表為中國行政區2017年人均GDP排名節錄，請根據表中

資訊判斷下列敘述何者錯誤？(A)排名首位的行政區位於圖一的「ㄆ經濟圈」 (B)前五名均位於圖一的「甲經濟帶」 (C)排名後段的行政區均不臨海 (D)呈現出中國區域發展不均的現象

【題組 40-44】

※右圖為中國農業分布圖，請根據圖中代號回答問題。請問：

40. 「乙農業區」的水氣來源為哪一風向帶來哪一大洋的水氣？

(A)ㄗ，印度洋 (B)ㄣ，印度洋 (C)ㄞ，太平洋 (D)ㄣ，太平洋

41. 若考量設廠的「原料區位」，下列哪間工廠所選擇設廠的農業區，最需要重新考量設廠位置，以降低生產成本，避免賠錢？

(A)甜在心葡萄乾工廠－甲區 (B)真純正沙拉油工廠－丙區 (C)好香醇製茶葉工廠－戊區 (D)超柔韌棉紡織工廠－己區

42. 下列表格中對四個地點的傳統畜牧活動描述，何者正確無誤？

(A)	ㄅ點	牧草豐美，牧民定居放牧牛、羊。
(B)	ㄆ點	牧民隨著季節呈垂直移動的方式轉換牧場。
(C)	ㄇ點	牧草稀疏，牧民多逐水草而居維生。
(D)	ㄎ點	地狹人稠，農民多以欄舍飼養牲畜家禽。

43. 承上題，下列哪一因素是造成ㄆ、ㄇ兩地畜牧方式的差異主因？

(A)地形 (B)溫度 (C)降水量 (D)民族性

44. 右列投影片為詹臻對中國現代農業發展所做的整理，請問：

她的整理中哪個敘述不小心出錯了？

(背面尚有試題，請翻面作答)



甲~己為農業區

中國現代農牧業發展

- (A)糧食作物栽種面積下降
- (B)自給自足轉為市場導向
- (C)東北為最大商業性農業區
- (D)內蒙古棉花產量為中國第一

【題組 45-48】

※右圖為中國山脈與河川簡圖，請根據圖中代號回答問題。請問：

45. 圖中哪一地區開發塔里木河水資源發展灌溉農業，造成其下游斷流及

羅布泊消失的環境問題？ (A)甲 (B)乙 (C)丙 (D)己

46. 承上題，此區農業活動過度灌溉亦容易引發下列哪一環境問題？

(A)土壤鹽鹼化 (B)水土流失 (C)凍土消融 (D)沙塵暴

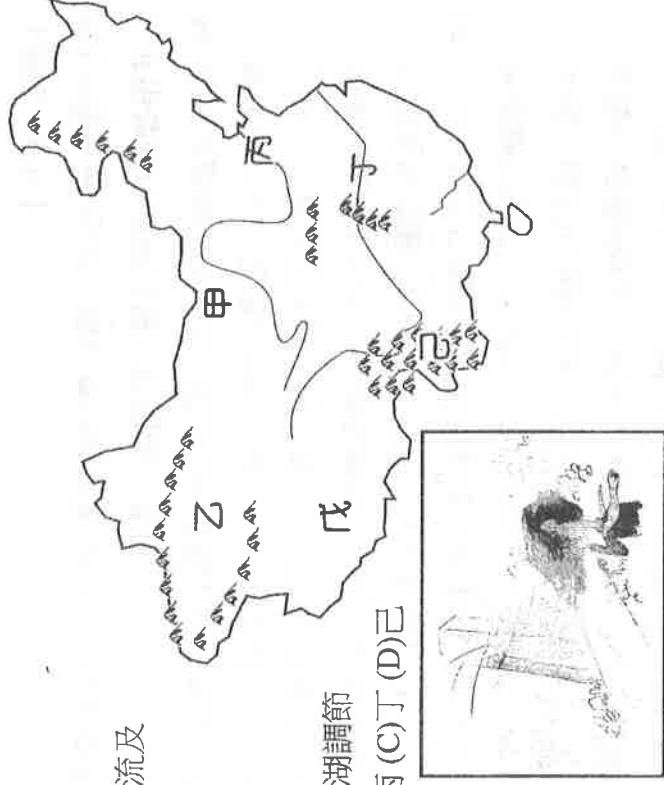
47. 圖中哪一地區居民於湖區圍湖造田、在山坡地開墾耕地，造成河湖調節

洪水的功能下降，而在雨季來臨時，水患災害頻傳？ (A)乙 (B)丙 (C)丁 (D)己

48. 右列漫畫顯示中國某項災害，關於此災害的描述，何者正確？

(A)源自圖中「戊區」的不當開發 (B)主要發生時間為夏末秋初

(C)由西北季風吹出影響東亞地區 (D)「退田還湖」為治理對策



【題組 49-50】

※右圖為專家學者所繪製的 2015 年「中國水資源壓力基準線」示意圖，藉以辨識中國各區的用水趨勢，請你根據圖中資訊回答下列問題。

請問：

49. 圖中數值>40%代表「可用水資源高度缺乏與極度缺乏的地方」。

請問：這樣的地方主要位於哪些氣候區？(甲)熱帶季風 (乙)高地氣候

(丙)乾燥氣候 (丁)溫帶季風 (A)甲乙 (B)乙丁 (C)甲丙 (D)丙丁

50. 為解決圖中「☆地」的水資源供應問題，中國採取的對策為何？

(A)藏水入疆 (B)西氣東輸 (C)南水北調 (D)退牧還草



〔 試題到此結束，請仔細檢查 〕