

一、選擇題(每題2分，共50題，總分100分)：

- 01.全球首富比爾蓋茲曾說：「省一塊錢，就是賺一塊錢。」由此可知這句話強調何者的重要？ (A)賺錢 (B)開源 (C)消費 (D)節流。
- 02.投資債券是社會大眾常見的理財方式，關於「債券」的敘述，下列何者錯誤？ (A)政府所發行的債券稱為公債 (B)債券比基金的投資風險高，獲利也較固定 (C)債券上會清楚記載借款利率 (D)是企業或政府籌措資金時所發行的有價證券。
- 03.下列何者不是「失業」的原因？ (A)經濟不景氣 (B)個人轉換工作 (C)沒有工作意願 (D)產業轉型。
- 04.下列何者是社會最基本的經濟單位？ (A)個人 (B)家庭 (C)學校 (D)社團。
- 05.育誠網購，看到許多想要的商品，忍不住用信用卡訂購，結果帳單寄來時卻沒有足夠的現金可以支付，因此積欠大筆卡債。請問：育誠的消費方式應如何做調整？ (A)當現金不足時，才用信用卡支付 (B)消費時，選擇「想要」的商品購買 (C)刷卡購物時須考慮自己的支付能力 (D)申請更多的信用卡額度。
- 06.下列何人屬於失業人口？ (A)阿美辭掉工作後在南部開休閒農場 (B)阿勁為了2歲的女兒請育嬰假 (C)小惠大學剛畢業，一時找不到合適的工作 (D)正在準備創業的詠正。
- 07.25歲的丁丁向銀行貸款60萬元，租店裝修成咖啡店，開始做生意。請問：下列哪一項屬於投資行為？ (A)少丞贈送開幕花籃 (B)丁丁訂購咖啡機 (C)家人贊助櫥櫃用品 (D)客人進行點餐消費。
- 08.關於「合夥」的企業經營型態，下列敘述何者正確？ (A)可讓他人購買公司股份 (B)利潤共享，無盈虧風險 (C)可由一人單獨出資 (D)共同經營者有承擔虧損的責任。

09.附表為佩玲去年利用三種理財工具的獲利狀況，其投資報酬率的高低應為下列何者？

理財工具	投資金額	獲利金額
甲	20,000 元	1,500 元
乙	50,000 元	1,000 元
丙	36,000 元	1,800 元

(A)甲>丙>乙 (B)甲>乙>丙 (C)丙>甲>乙 (D)丙>乙>甲。

10.西方俗諺說：「好的倫理就是好的經營。」就企業本身而言，下列何者的經營態度是正確的？(甲)只重視生產的利潤(乙)兼顧社會責任(丙)強調上司與下屬的階級畫分(丁)使企業與社會大眾同得其利 (A)乙丁 (B)乙丙 (C)甲丙 (D)甲丁。

11.新聞中屢屢出現「過勞死」案件，已經喚起社會大眾關注勞工超時工作的問題。上述凸顯出下列何者的重要性？ (A)企業應善盡社會責任 (B)企業應具備大愛精神 (C)企業應提升生產力素質 (D)企業應依法發加班費。

12.若少年觸犯處罰較輕的犯罪行為，法官可能會將其交付給下列何者，實施保護管束？ (A)父母 (B)學校師長 (C)警察 (D)少年保護官。

13.(甲)競選公職(乙)公投(丙)加入政黨或利益團體(丁)罷免失職的市長(戊)參加警察特考(己)不滿軍人年改到立法院抗議。以上是靜雯在報紙上看到政府宣導人民可勇於參與政治的事項。請問：有幾個屬於參政權的範圍？ (A)2個 (B)3個 (C)4個 (D)5個。

14.行政訴訟採二級二審制，交通裁決事件的第一審法院為下列何者？ (A)高等行政法院 (B)地方法院行政訴訟庭 (C)地方法院民事法庭 (D)最高行政法院。

15.偉哲訂購一戶豪宅預售屋，但卻在房子蓋好後，發現屋內的結構與當初原設計不符，因此要求解約並向建商求償。請問：偉哲的要求是要建設公司負起何種法律責任？ (A)債務不履行賠償責任 (B)侵權行為的賠償責任 (C)行政責任 (D)回復原狀。

16.日本航空公司不滿台北市府因認定資遣空服員一事違反《就業服務法》，而處以罰鍰新台幣60萬元整，故提起行政訴訟。請問：日本航空公司最高可上訴至哪個法院？ (A)高等法院 (B)最高法院 (C)高等行政法院 (D)最高行政法院。


17. 《獨立宣言》中提及：「人人生而平等，造物主賦予每個人某些不可轉讓的權利，其中包含生命權、自由權及追求幸福的權利。」請問：這個說法與下列哪一位啟蒙運動的學者觀念相符？ (A)孟德斯鳩 (B)盧梭 (C)伏爾泰 (D)洛克。
18. 下列有關法國大革命的史事，按發生先後時間排列，正確為何？(甲)發表人權宣言 (乙)攻陷巴士底監獄 (丙)處死路易十六(丁)拿破崙帝國 (A)甲乙丙丁 (B)乙甲丙丁 (C)丙乙丁甲 (D)乙丙甲丁。
19. 小智整理了他的歷史筆記，他針對普魯士的腓特烈二世、俄皇凱薩琳二世做了比較，請問在「共同點」部分，小智如何整理才是正確的？ (A)深信君權神授，力行中央集權 (B)推動法律改革、標榜宗教自由、贊助藝文活動 (C)擴張領土，傳播「自由、平等、博愛」的精神 (D)提倡君主立憲體制，實踐民主政治。
20. 十九世紀的英國在選舉制度上仍有許多缺失，而從西元 1832 年起，英國議會開始多次改革，使得選舉更加公平。下列何者不是當時英國議會所解決的問題？ (A)新興都市沒有代表議員席次 (B)沒落的市鎮卻有較多議員席次 (C)成年女子沒有參選的權利 (D)財產不足不可參與議員選舉。
21. 下列是影響世界歷史發展的重要文件，請依出現時間順序排列？(甲)《大憲章》 (乙)《獨立宣言》 (丙)《權利法案》 (丁)《人權宣言》 (A)甲乙丙丁 (B)乙甲丙丁 (C)丁乙丙甲 (D)甲丙乙丁。
22. 九年七班的同學探討有關美國獨立與法國大革命的經過，下列何人所言正確？ (A)小明：皆因徵稅問題，而與政府開始爆發衝突 (B)典典：皆在革命當時受到各國支持，派兵協助 (C)璘璘：皆於革命後成立共和國政府，實施君主立憲 (D)阿美：皆對啟蒙運動思潮造成影響。
23. 珍珍針對歷史題目中，有關十八世紀開始的工業革命資料進行整理，她所整理的資料中，哪點是完全正確？ (A)最早起源於法國 (B)以電力為動力的機器，逐步取代獸力 (C)首先在交通產業開始革命 (D)造成貧富不均問題，使得學者提出社會主義。
24. 牛頓被喻為「20 世紀之前最偉大的科學家」，而他曾謙虛表示：「他是站在巨人的肩上，所以看得遠」。這裡的巨人是指在牛頓受到科學家前輩影響頗深。請問：以下哪組人物符合牛頓所提之「巨人」？ (A)孟德斯鳩、盧梭 (B)馬丁路德、喀爾文 (C)伽利略、哥白尼 (D)哥倫布、達伽馬。
25. 拿破崙政權被推翻後，歐洲各國保守勢力希望將歐洲回復以往的秩序，因此召開哪一場會議，維持十九世紀前半的歐洲和平與穩定？ (A)倫敦和會 (B)巴黎和會 (C)柏林會議 (D)維也納會議。
26. 小喻兒看到一本西方名人傳記，內容中提到：「這位英國政治家，提出『知識就是力量』，並認為科學研究應以觀察、實驗為開始，再把資料做有系統的分析，而『歸納』出普遍的原理。」小喻兒所看的應該是何人的傳記？ (A)培根 (B)馬克思 (C)笛卡兒 (D)洛克。
27. 中世紀開始，英國與其他西方國家的政治發展走向了截然不同的道路。下列關於英國政治發展的敘述，何者正確？ (A)發生清教徒革命，開始限制王權 (B)英王約翰王，成為專制王權的代表 (C)逐漸形成以下議院多數黨黨魁為首相的制度 (D)瑪莉與威廉簽署《大憲章》，確認識會為最高立法機構。
28. 《食尚玩家》介紹美國的一個城市：「這個城市位在美國東部海岸，是美國最早開發的城市之一。此外，在 1776 年 7 月 4 日，北美殖民地代表也是在這個城市舉行大陸會議，並於發表《獨立宣言》，宣布脫離英國，建立美利堅合眾國。」請問：節目中介紹的應是哪個城市？ (A)費城 (B)華盛頓 (C)波士頓 (D)舊金山。
29. 十八世紀時，英國學者亞當斯密提出「一隻看不見的手」，認為在經濟市場中，供給與需求會自己決定價格。請問：亞當斯密在經濟上是如何主張？(A)政府應完全控制 (B)政府進行共產統治 (C)政府應自由放任 (D)政府有條件性干預。
30. 工業革命後改善了人們的生活環境，但也衍生許多社會問題。請問：下列哪些是工業革命後所產生的社會問題？(甲)童工工作環境惡劣(乙)大批工人失業，湧向鄉村(丙)居住環境骯亂，治安不良(丁)勞資對立，社會不安 (A)甲乙丙 (B)乙丙丁 (C)甲丙丁 (D)甲乙丙丁。
31. 法國歷史上有兩位拿破崙皇帝，即拿破崙與路易拿破崙。請問有關這兩位皇帝的敘述，何者正確？ (A)拿破崙因法國大革命得勢，路易拿破崙則因七月革命而獲得政權 (B)兩者都將法國自共和改為帝國 (C)拿破崙一世稱帝後，曾與英國合作，發動「英法聯軍」攻打中國 (D)路易拿破崙最終因為滑鐵盧之役失敗，宣布退位。
32. 南北戰爭又稱美國內戰，是美國歷史上唯一的內戰。請問：下列有關南北戰爭的敘述，何者錯誤？ (A)發生在 19 世紀 (B)主要是因為茶稅問題，南北產生歧異 (C)當時的美國總統為林肯 (D)最終由北方獲勝，美國重新統一。
33. 下列西方近代名人與其提倡思想的配對，何者正確？ (A)伏爾泰——言論自由 (B)羅伯斯比——共產思想 (C)路易十四——開明專制 (D)馬克思——主權在民。

(下頁尚有地理科試題，請繼續作答！)

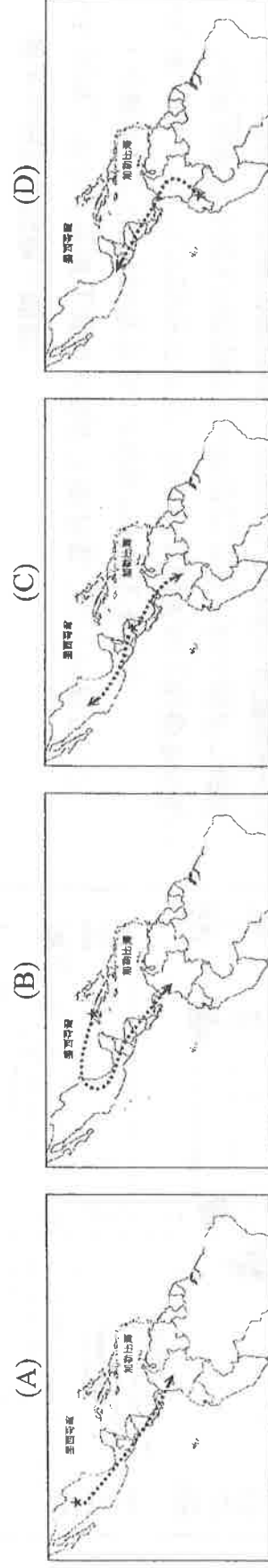
【題組 34-36】

※在過去，有不少人相信巧克力源於4,000年前的馬雅文化，當時的馬雅人已經懂得用乾燥的可可豆製作巧克力飲品。然而最近考古學研究發現，早在5,300年前南美洲的厄瓜多東南部高原、亞馬遜河上游地區，古代馬由-欽奇佩文化(Mayo-Chinchipe)考古遺址中陶器工藝品上殘留的古代化學物質上，發現了Theobroma cacao 可可樹的痕跡，顯示當時的文化就懂得製作巧克力飲料。在進一步的基因組研究下，更證實了厄瓜多就是可可被人類馴化的地區，這是美洲最早、也是考古學上首次在南美洲找到能推測出巧克力年代的例子，這也讓巧克力被人類馴化的歷史，一口氣多了1,300年。如果馬由-欽奇佩人真的會吃巧克力，這就意味著巧克力的起源很有可能是從亞馬遜上游開始，再透過交易的方式傳到哥倫比亞、巴拿馬，最後才抵達中美洲和墨西哥。請問：

34. 本區適合可樹生長，主因為擁有下列哪一氣候型態的分布？



35. 文中所提近來研究的巧力起源(★)及交易路線(▲)，應為下列何圖所示？

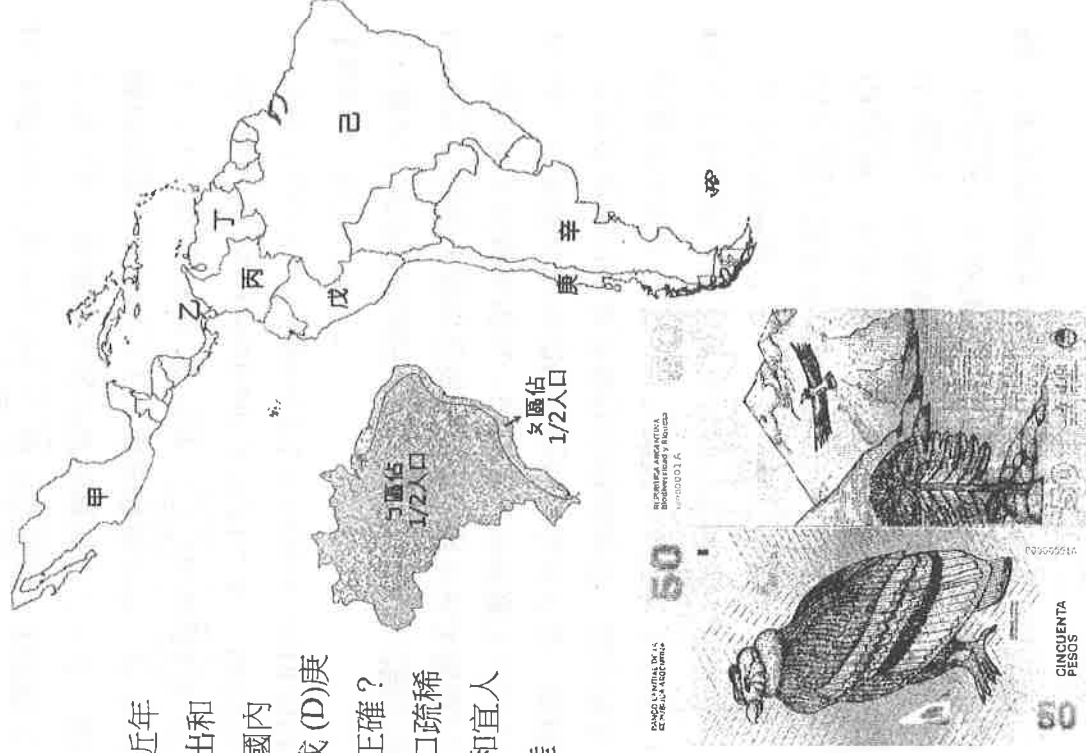


36. 到了現代，可可生產仍然是本區重要的經濟來源，關於本區的可可生產模式與經濟型態敘述，正確有哪些？(甲)機械化耕作(乙)出口產品單一(丙)經濟結構穩定(丁)廉價勞力充足(戊)易受國際市場價格影響(A)甲乙丁(B)乙丙丁(C)乙丁戊(D)甲丁戊

【題組 37-40】

※右圖為中南美洲國家簡圖，請根據圖中代號回答問題。請問：

37. 此國原有「南美白油王」之稱，石油輸出曾為國家帶來經濟榮景，但近年國際油價下跌，造成國家收入銳減，政府無力負擔對國民的福利支出和進口商品的財政補貼，透過不斷印鈔票來填補財政赤字，卻也造成國內通貨膨脹的經濟危機。請問：此國圖中哪一國家？(A)丙(B)丁(C)戊(D)庚
38. 右列為「己國」人口分布圖，請根據圖中資訊判斷，下列哪一敘述正確？
(A)為均衡區域發展遷都至里約熱內盧 (B)為區內陸沙漠地廣人稀人口稀疏
(C)人口大多分布於沿海的港埠型城市 (D)為溫帶海洋性氣候溫和宜人
39. 「庚國北部」的氣候型態與下列那一地區相同？(A)北美西南部內陸
(B)南亞西部印度河流域 (C)美國東南部 (D)北美西北沿海



40. 平面設計師和插畫師 Gilda Martini 和 Gabriela Lubiano 為「辛國」貨幣比索 (Pesos) 做了一套全新的設計提案，新設計的靈感來自於生物的多樣性，票面正面是動物，背面則是動物們居住的風景。右列貨幣圖案設計是南美許多國家的象徵-禿鷹，常出現在南美洲的傳說及神話中，是西半球最大及世界上最長壽的飛行鳥類。請問：根據圖中居住風景來判斷，禿鷹主要生活環境為下列哪一地理區？

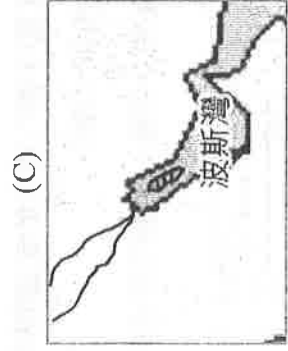
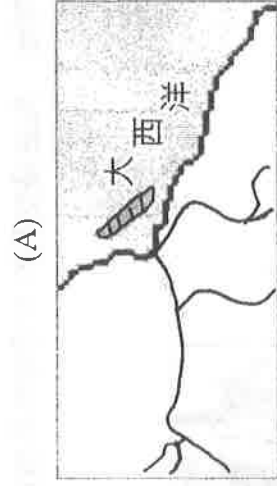
(A)亞馬孫盆地 (B)安地斯山 (C)巴西高原 (D)落磯山區

〔背面尚有試題，請翻面作答〕

【題組 41-42】

※在巴西北部、臨近亞馬孫河口，科學家在此發現面積達 9,500 平方公里的珊瑚礁生態系統，並於 2016 年發表文章將這個全新的海洋生物群落及所發現的新物種公諸於世。然而，這獨特的生態寶藏正面臨莫大危機，法國道達爾石油公司 (Total) 及英國石油公司 (BP) 企圖在這片珊瑚礁附近勘探石油。其中，Total 的一個石油勘探選址距離珊瑚礁僅僅 8 公里。勘探、鑽油及運輸等，每個環節都有風險，這不僅威脅珊瑚礁，更可能威脅整個亞馬孫河口的生態。請問：

41. 文中描述的生態系統所分布的地理位置，應為下列何圖所示？(註：海域中的斜線區塊為珊瑚礁群)



42. 除了河口之外，巴西於亞馬孫河流域的森林開發，亦會帶來下列哪些環境問題？(甲)生物多樣性消失 (乙)加劇溫室效應 (丙)地層下陷 (丁)水土流失 (戊)土壤鹽鹼化 (A)甲乙丙 (B)甲乙丁 (C)甲乙戊 (D)甲丁戊

【題組 43-46】

※右圖為世界主要汽車品牌在墨西哥設置的工廠分布圖，請根據

圖中資訊回答問題。請問：

43. 這些企業品牌選擇在墨西哥設廠主要考量的區位因素為何？

(A)廉價勞力 (B)原料豐富 (C)交通便利 (D)技術先進

44. 承上題，下列企業的投資情形，何者考量因素與上題最為相似？

(A)鴻海集團在捷克的開發案 (B)星巴克在上海拓展新的據點
(C)谷歌公司在芬蘭設數據中心 (D)BP 公司的墨西哥灣探勘計畫

45. 下列哪些敘述為美國農作型態的特色？(甲)單位面積產量大

(乙)自給自足 (丙)粗放耕作 (丁)總產量大 (戊)機械化

(A)甲丙丁 (B)甲乙丁 (C)乙丁戊 (D)丙丁戊

46. 美國總統川普曾批評「貿易協定」為「美國歷史上最糟糕的協定」。他認為此協定生效以來，雖讓會員國間貿易量增加了三倍，卻也讓美國大批製造業者將生產基地轉移到墨西哥，導致工作機會嚴重流失。他上任後便宣布要與其他會員國「重新談判」，而於 2018 年 10 月起，貿易協定似乎正式告終，而由「United States-Mexico-Canada Agreement, U.S.M.C.A.」取而代之。請問：上文提及的貿易協定為何？(A)OPEC (B)NAFTA (C)ASEAN (D)UNESCO

【題組 47-50】

※右圖為北美洲的氣候分區圖，請根據圖中代號回答問題。請問：

47. 來自巴西聖保羅的足球明星內馬爾若到美國進行訓練，右圖何區氣候

類型與家鄉最為相似，能讓他最快適應？(A)丙 (B)丁 (C)戊 (D)庚

48. 哪一氣候區多數時間相對乾燥，陽光充足，被稱為「陽光帶」，成為北美重要的科技業及娛樂業發展地帶，但也因為此氣候特徵，讓本區的夏季常常發生乾旱，甚至引起森林火災？(A)乙 (B)丙 (C)己 (D)庚

49. 右列為北美某種天氣災害的示意圖，下列哪位同學對這種天氣災害的說法正確無誤？

(A)以真：地形平坦氣流無阻利於此災害生成
(B)品瑾：多形成於加勒比海附近的熱帶海域
(C)函翌：生成後影響時間為幾天到一周左右
(D)好安：大多發生於夏、秋兩個季節時間內



50. 北美洲西部地形具有下列哪一特徵？(A)多火山、地震 (B)地質年代古老 (C)平原面積廣大 (D)屬環大西洋火環帶

〔試題到此結束，請仔細檢查!!〕

