

台中市三光國中一〇九學年度第二學期第二次定期評量九年級社會科試卷(第一頁)

選擇題：【第 1-48 題每題 2 分，第 49-52 題每題 1 分；滿分 100 分】

1. ( ) 國際組織可以按分布區域或身分屬性加以分類，以下所列的國際組織，哪一組無論按分布區域或官方身分來分類，其屬性皆相同？ (A)非洲聯盟、聯合國 (B)東南亞國協、歐盟 (C)紅十字國際委員會、世界衛生組織 (D)國際特赦組織、國際刑警組織。
2. ( ) 新聞報導：「台積電創辦人張忠謀先生第三度擔任總統代表，於西元 2019 年 11 月出席在智利的亞太經濟合作經濟領袖會議。」我國是以下列何種名稱加入亞太經濟合作會議？ (A)臺灣 (B)中華民國 (C)中華臺北 (D)臺澎金馬個別關稅領域。
3. ( ) 政府的國際組織所能發揮的功能及範疇有限，仍需要非政府的國際組織來輔助，以發揮更多元、積極的功能。下列關於非政府的國際組織的敘述，何者正確？ (A)主要由各國官員和官方團體所組成 (B)比政府的國際組織更具強制力 (C)所關心的議題一致，均著重在政治面 (D)對國際社會在經濟、文化及公益服務等各方面貢獻良多。
4. ( ) 世界貿易組織(WTO)成立於西元 1995 年，主要目的在保障國際間的自由貿易，是國際上最重要的經貿組織。民國 90 年 12 月我國獲准以何種名稱加入該組織？ (A)中國臺北 (B)中華臺北 (C)臺灣共和國 (D)臺澎金馬個別關稅領域。
5. ( ) 新聞報導：「國際原子能總署與伊朗共同簽署了合作架構聯合聲明，國際原子能總署將對伊朗進行核能安全檢查，以減少伊朗發展核武的可能性，降低戰爭的威脅。」上述國際原子能總署的措施，展現了國際組織的何種功能？ (A)維護國際安全與和平 (B)協助經濟發展 (C)促進文化交流 (D)推動環境保育。
6. ( ) 伊斯蘭教國家經常憂心年輕世代接觸歐美文化後，遵循伊斯蘭教傳統文化的意願將愈來愈低落，因此出現反對美式文化的聲浪與政策。伊斯蘭教國家的憂慮和做法，反映出全球化下的哪項影響？ (A)宗教文化面臨科學文明的強力挑戰 (B)強勢文化對本土文化造成不利影響 (C)外國文化影響政府統治的公權力 (D)媒體雙向傳播讓文化多元化。
7. ( ) 在某部描述複製人的電影中，複製人突破自然的限制，發展出自我的意識，不願意被摘取器官以救治原來的「自己」，最後複製人逃出研究中心，希望能被承認為「人」而活下來。從上述內容判斷，生物科技的發展可能引發下列哪方面的問題？ (A)人倫關係 (B)生態環境 (C)資訊倫理 (D)經濟發展。
8. ( ) 伯納李發明全球資訊網後，並未登記專利，使得網際網路可以迅速的發展及普及，且使得全世界都可以免費使用這項發明，是個值得我們尊敬的人。請問：他所持的理由為何？ (A)科技發展不會受人類的價值觀影響 (B)人類成就都是互助的結果，應彼此分享 (C)不清楚該如何申請專利 (D)科技發明的結果由個人承擔。
9. ( ) 日前通訊軟體 LINE 曾流傳一則來源不明的訊息，指稱「某速食業者宣稱慶祝週年，將贈送三千個零食桶，只要點取連結就可免費領取。」消息傳開立刻造成騷動，該速食業者緊急澄清這則訊息是詐騙活動，請民眾不要點選帳號，避免個資外洩。請問：前述內容凸顯了何者的重要性？ (A)通訊業者 (B)跨國公司 (C)手機的品質 (D)媒體識讀能力。
10. ( ) 國際合作是國與國之間為了共同利益和目標，透過結盟或簽訂條約等方式，進行資源、資金、人才、技術，以及軍事等各方面的跨國合作。下列哪項敘述最符合國際合作的精神？ (A)臺灣影片積極參加世界各大影展 (B)我國政府邀請外國的表演團體來臺演出 (C)我國農技團至中南美洲協助改良農耕技術 (D)我國與邦交國進行觀光合作計畫。
11. ( ) 聯合國訂定每年 2 月 21 日為「國際母語日」，強調語言是文化生活的核心，多語言使用可以促進文化間的溝通交流與教育發展，還有助於對少數民族文化與知識的保護與傳承，世界各國應尊重與維護少數民族的語言。上述「國際母語日」的訂定，有助於達到下列何種目標？ (A)加速資金跨國流通以發展經濟 (B)促進多元文化並存的現象 (C)傳播強勢文化的價值觀念 (D)擴大跨國企業的影響力。
12. ( ) 新聞報導：「全球新冠肺炎(COVID-19)疫情尚未趨緩，2020 年亞太經合會(APEC)領袖高峰會議，將於 11 月 30 日至 12 月 4 日在馬來西亞改以視訊方式召開……。」上述 APEC 是亞洲太平洋地區定期舉行的經濟諮詢會議，其性質屬於下列何者？ (A)全球性、政府組織 (B)全球性、非政府組織 (C)區域性、政府組織 (D)區域性、非政府組織。
13. ( ) 某學者指出，原先電腦軟體最基礎的程式是使用者相互流通、修改、創作出來的，但後來因為商業化才改成相互不流通的狀況，讓廠商控制消費者，並得以獲利。自由軟體則反對這種封閉和商業化的趨勢。根據上述內容判斷，自由軟體體現了何種精神？ (A)經濟發展 (B)知識共享 (C)生命倫理 (D)隱私權利。
14. ( ) 某次颱風來襲，各家電視臺根據中央氣象局所提供的資料，對颱風動向與降雨量提出各種分析、研判，但卻與實際的情況差距甚大，造成臺灣中南部地區意外受到暴雨的襲擊，損失慘重，民眾抱怨不已。上述情形顯示，傳播媒體未能正確發揮哪一項應有的功能？ (A)提供訊息 (B)監督政府 (C)休閒娛樂 (D)教育文化。
15. ( ) 馬紹爾群島的物資須仰賴進口，我國派遣技術團協助島民發展農業生產技能，提升農業種植技術，改善島民生活品質及營養，並宣導均衡飲食等公共衛生觀念。上述做法屬於國際社會的何種互動型態？ (A)國際合作 (B)國際交流 (C)國際援助 (D)國際衝突。
16. ( ) 國際綠色和平組織呼籲，各國應協助處理日本福島核電廠的核汙水問題，以防止汙水流入大海，並對海洋中放射性物質擴散情況進行長期調查。上述國際綠色和平組織的做法，有助於發揮國際組織的何種功能？ (A)維護國際安全與和平 (B)協助經濟發展 (C)提供醫療協助 (D)推動環境保育。

背面尚有試題，請翻面作答

臺中市立三光國民中學 109 學年度第二學期第二次定期評量 九年級 社會科試卷

17.第一次世界大戰後，民族自決的風潮在世界各地引起了廣大的迴響，其中亞洲有許多地區也出現了民族復興運動。此風潮不包括下列何者？

(A)土耳其 (B)朝鮮 (C)日本 (D)印度

18.附表中人物與其相關史事的配對，何者正確？

選項	人物	相關史事
甲	列寧	發動十月革命
乙	史達林	成立法西斯黨
丙	墨索里尼	撕毀凡爾賽條約
丁	希特勒	迫害猶太人

(A)甲乙 (B)丙丁 (C)甲丁 (D)乙丁

19.大多史學者認為第二次世界大戰，在中國是以 1937 年七七盧溝橋事變為起始，稱為「八年抗戰」，而在西方卻被稱做「六年戰爭」。西方是以哪件事的發生開始算起？

(A)德國侵略波蘭 (B)義大利侵衣索比亞 (C)德國進占法國 (D)義大利退出國際聯盟

20.「每一個理事國均有一票。關於程序問題的決定以十五個理事國中至少九個理事國的同意票通過。關於實質性問題的決定也需九票通過，其中包括五個常任理事國（中、美、英、法、俄）的同意票。這就是「大國一致」規則，通常稱「否決」權。以上敘述指的是聯合國哪一機構的規定？

(A)大會 (B)經濟社會理事會 (C)安全理事會 (D)國際法院

21.二戰期間，原本美國並無參戰，但哪事件導致美國對軸心國宣戰，結果亞洲、歐洲兩戰場合而為一，成為名符其實的界大戰？

(A)德軍無限制潛艇政策 (B)日軍偷襲珍珠港 (C)德國策動墨西哥反美 (D)德日夾擊蘇聯

22.西元 1938 年，參加完慕尼黑會議的英國首相張伯倫，意氣風發地在機場拿著協定文件宣布：「這是我們這個時代的和平。」但是代價則是捷克被迫割讓蘇臺德區給德國，這種以退讓的手段來安撫希特勒的做法，是基於當時英法等國的什麼理念？

(A)孤立主義 (B)民族自決 (C)姑息政策 (D)同情德國

23.波蘭於 1999 年加入北約組織，象徵著傳統上被俄羅斯視為勢力範圍的東歐地區，已被美國勢力滲透。請問：在二戰期間哪一場會議的召開決定東歐收復交由蘇軍處理，以致於東歐地區在冷戰時期被劃分為蘇聯勢力範圍？

(A)慕尼黑會議 (B)雅爾達會議 (C)聯合國大會 (D)巴黎和會

24.1930 年代，日、德、義除了發展向外侵略，還有哪個共同點？

(A)三個國家都反對共產黨 (B)侵略過程皆大量屠殺猶太人 (C)皆是第一次世界大戰戰敗國 (D)皆實行計畫經濟

25.印度為推翻英國統治，在甘地的領導下，推行「不合作運動」，使英國喪失廣大的印度市場，而同意印度獨立。印度的獨立時間大約在何時？

(A)第一次世界大戰中 (B)戰間期 (C)第二次世界大戰中 (D)第二次世界大戰後

26.十九世紀，日本的「明治維新」、巴爾幹半島和拉丁美洲的獨立運動，主要是因為下列哪種思想的體現？

(A)共產主義 (B)民族主義 (C)浪漫主義 (D)帝國主義

27.下列亞洲地區受到帝國主義國家侵略的配對，何者有誤？

(A)朝鮮——日本 (B)越南——法國 (C)琉球——日本 (D)緬甸——法國

28.歐美國家大約在何時開始重視婦女的權益，並立法給予婦女投票參政的權利？

(A)維也納會議後 (B)普法戰爭後 (C)第一次世界大戰後 (D)第二次世界大戰後

29.巴黎和會原是要解決戰爭問題，以追求和平的國際關係，然而卻被後人稱為「為和平送終的和會」，其原因是下列何者？ (A)《凡爾賽條約》過於苛刻引起戰敗國報復 (B)侵略國的土地完整，隨時可東山再起 (C)因為沒有控制侵略國的經濟 (D)因為並未廢除侵略國的軍隊

30.世界第一個共產主義政權成立時，各國以為這只是單一國家政權型態的轉變，後來共產勢力陸續蔓延到其他國家，對於近代世界局勢造成很大的影響。請問：第一個共產政權在何時獲得機會可大力擴張共產勢力，引起後來與美國的對立局勢？

(A)第一次世界大戰前 (B)第一次世界大戰期間 (C)戰間期 (D)第二次世界大戰期間

31.在全球化的市場經濟下，往往容易出現牽一髮而動全身的骨牌效應，接連幾波的經濟危機，使全世界的民眾強烈感受到對未來的不確定感。請問：1920 年代後期，歐洲世界逐漸復甦，美國為此採取何項策略，以保護自己國內的工商業？

(A)降低關稅 (B)增設工廠 (C)放棄市場 (D)提高關稅

32.人類歷史上曾經經歷過兩次大規模的世界性戰爭，即「第一次世界大戰」與「第二次世界大戰」，兩次的戰爭都造成非常大的傷亡與損失。請問：關於戰爭的結果，正確的是哪個選項？

(A)兩次世界大戰都由同盟國獲得最後的勝利 (B)第一次世界大戰結束後，美國的經濟高度繁榮 (C)第二次世界大戰後，姑息主義盛行 (D)第二次世界大戰後，成立國際聯盟

33.十九世紀的浪漫主義蔑視注重清晰、典雅、勻稱的古典主義和形式主義，並反對一味的追求理性，轉而鼓吹人性、情感的抒發。請問：浪漫主義藝術家較不會在作品中使用下列何種題材？

(A)本國文化 (B)民族歷史 (C)英雄傳奇 (D)社會觀察

中國歷史上眾多朝代裡，就☆朝遷都次數最多，總共遷了八次，直到某位帝王將都城遷到殷（河南省的安陽）之後，都城才固定下來。當時遷都原因有很多，除了政治內鬥、有時也是受自然災害的拖累而遷移。右圖加粗區塊是☆朝的核心疆域圖，請問下列說法何者完全正確？(A) ☆朝主要多分布在珠江流域，飽受水土流失之苦

35.臺灣有兩處鐵道自行車，一是位於新北瑞芳的深澳鐵道自行車，一是位於苗栗的舊山線鐵道自行車。在車體設計上，舊山線鐵道的只有車頂，而深澳的包覆性更強，連背面都有遮擋(如右圖)。假設車體設計考量了兩地的自然環境而有不同做法，其最可能的考量為何？ (A)深澳迎風，全年有雨 (B)苗栗地勢較高，冬天太冷 (C)深澳緯度較高，夏天偏涼 (D)苗栗地勢較高，地形雨多

36.右圖是昔日西班牙在其殖民地設立的教育機構，圖中數字代表該機構成立年份，字母則是以西班牙文書寫的機構名稱。這些機構的設置點，除了殖民因素設立在港口附近、其餘多數考量了當地自然環境而影響其分布呢！根據上述，以下論述何者有誤？

- (A) 這些機構大部分位於中南美洲 (B) 圖中虛線內主要居民多信天主教  
(C) 這些教育機構除了分布在港口，多位於地勢較高處  
(D) 文中某種自然環境，乃因地處中緯地區

37. 非洲的發展和歐洲關係相當密切，兩者卻有不同的區域特色。右下圖為歐、非二洲國家某種社會發展指標的統計地圖，圖中各國的面積代表該項指標值的大小。請問：該項指標最有可能為何？(A) 國家礦產蘊藏量

- (B)平均國民生產毛額 (C)死亡率之高低 (D)平均每人擁有的土地面積

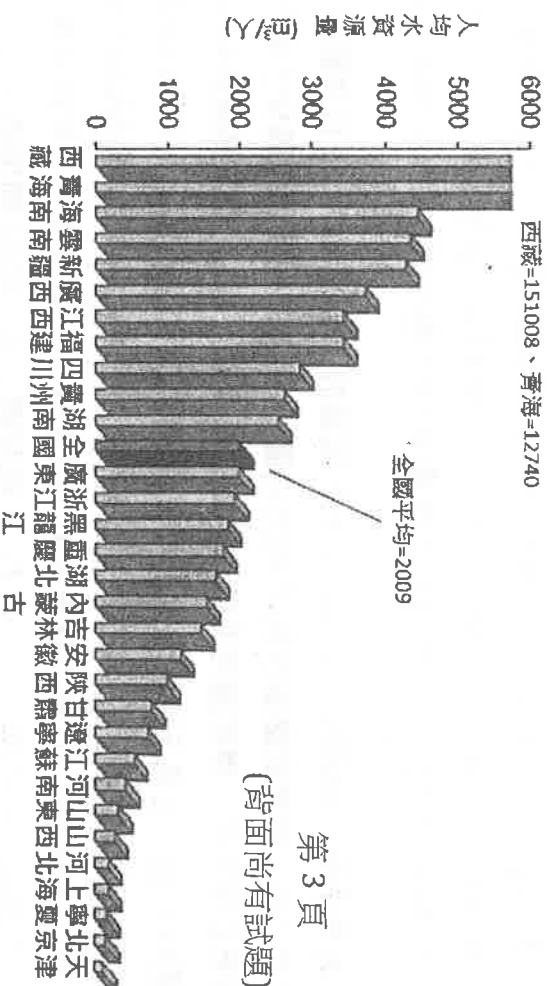
38. 今年三月起中國暫停進口臺灣鳳梨，引發臺灣水果過度依賴中國市場的

港口	經緯度
甲	22.6° N, 120.3° E
乙	23.9° N, 121.6° E
丙	24.3° N, 120.5° E
丁	25.1° N, 121.8° E

- (C) 𠄎 (D) 𠄎

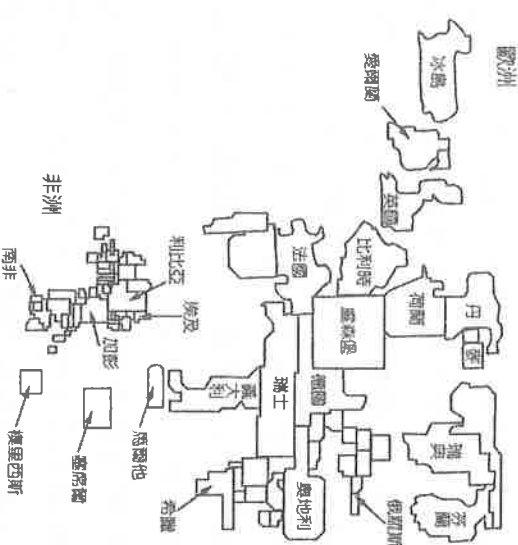
39. 中國人口占全球 1/5，境內卻只有 1/10 的可耕地，由此可以推論出中國農業的何項特徵？(A) 農業技術提升 (B) 市場需求改變 (C) 人均耕地狹小 (D) 城鄉差距嚴重

40.右圖是中國各行政區人均水資源量長條圖。關於此圖，以下哪些推論最適切？(甲)四個直轄市的人均水資源均高於平均值 (乙)人均水資源的高低，跟年降雨量的多寡成正比 (丙)人均水資源最低的五個行政區多數位於中國的北部地區 (丁)中國三大氣候類型中，高地氣候區內的行政區人均水資源最多：(A)甲乙 (B)丙丁 (C)乙丙 (D)甲丁



◎新冠肺炎導致國際間邊境的管制，因而形成許多困擾，比方說澳洲因缺乏海外進入打工的勞動力，光農業部門就有2萬6千多名勞動力的缺口，因此希望開放大洋洲的勞工安全進入澳洲。

41. 根據上文，下列哪個國家不會是澳洲要開放勞工進入的地區或國家？(A) 夏威夷 (B) 馬爾地夫 (C) 大溪地 (D) 吐瓦魯





42. 受到疫情關係，澳洲的農民原本要在冬天種植草莓，卻因為疫情導致的缺工，無法建立種草莓的基礎設施，更別談種植了！請問澳洲農民原本可能是打算在下列哪個月份種植草莓的呢？(A)1 月 (B)4 月 (C)7 月 (D)10 月

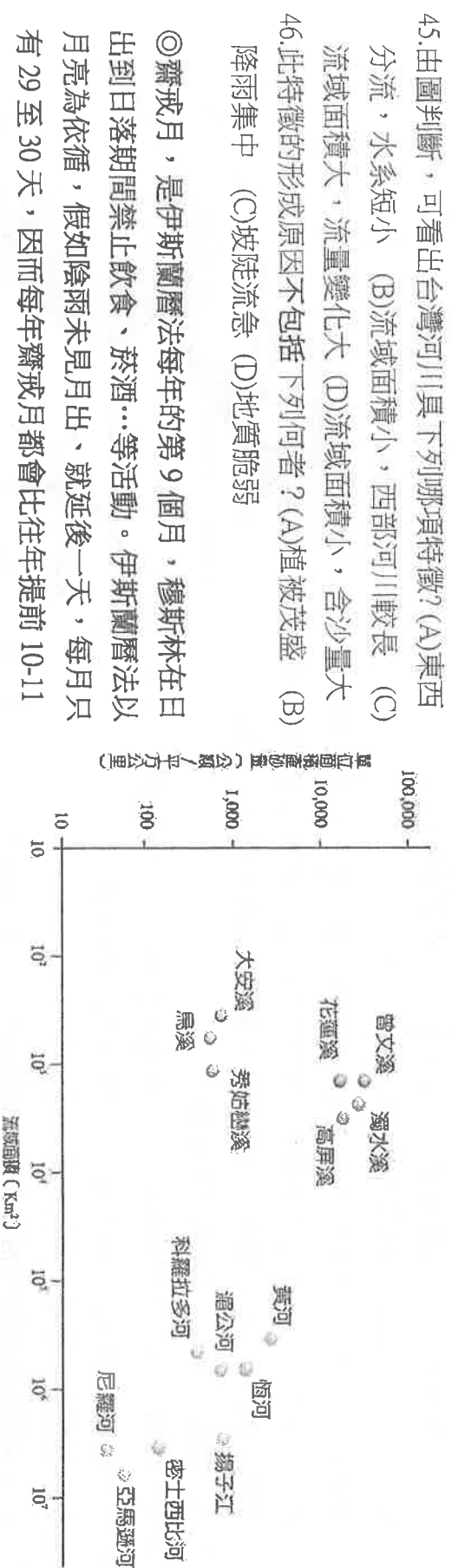
◎走進台灣紡織大廠 宏遠集團在衣索比亞阿瓦薩的工廠，一千四百位車縫工正把來自泰國、台灣、中國的布料，縫製成 Nike、adida、迪卡儂…等運動休閒品牌的成衣，之後這些衣服就會送往歐洲市場銷售。越過海洋到另一端，宏遠集團在美國北卡羅萊納州設置了從研發、織布一路到成衣縫製的一貫紡織廠；此處的優勢是交貨期短，不論布料或成品，從亞洲船運過來通常要花六星期，在美國製造就能省下船期、也更方便與設計師直接溝通……。

43. 宏遠集團在非洲衣索比亞設立工廠所考量的區位條件為何？(A)交通 (B)原料 (C)勞力 (D)市場。

44. 根據上文推測，宏遠集團到美國設置的紡織廠與衣索比亞的相比，應該更具什麼特色？(A)工人的薪資較低 (B)產品從設計、生產到交貨所花費的時間較長 (C)蓋工廠所需要的資金較少 (D)使用較多 AI 人工智慧和機器來降低努力成本

◎右圖是臺灣與世界重要河川的單位面積泥沙含量：

單位面積泥沙量比較圖



45. 由圖判斷，可看出台灣河川具下列哪項特徵？(A)東西分流，水系短小 (B)流域面積小，西部河川較長 (C)流域面積大，流量變化大 (D)流域面積小，含沙量大

46. 此特徵的形成原因不包括下列何者？(A)植被茂盛 (B)降雨集中 (C)坡度流急 (D)地質脆弱

◎齋戒月，是伊斯蘭曆法每年的第 9 個月，穆斯林在日出到日落期間禁止飲食、菸酒…等活動。伊斯蘭曆法以月亮為依循，假如陰雨未見月出、就延後一天，每月只有 29 至 30 天，因而每年齋戒月都會比往年提前 10-11 天，年年下來，齋戒月可能在冬天、也可能在夏天。2021 年齋戒月從 4 月 12 日至 5 月 11 日，右圖是此期間穆斯林平均齋戒時數，各地有所不同。

47. 請觀察此圖作出圖說，以下哪個說明需要修正呢？

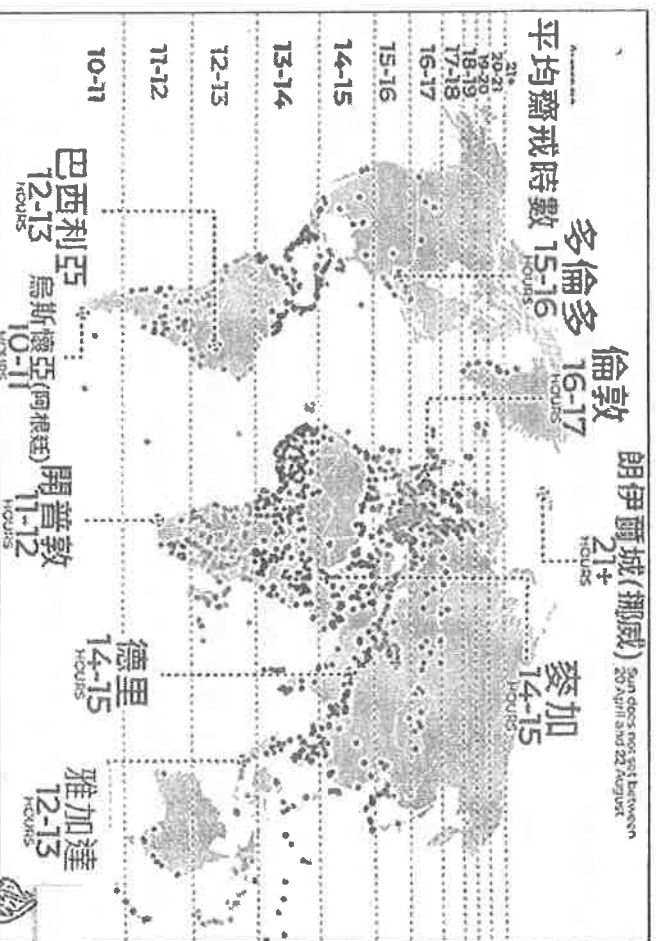
(A)雅加達的平均齋戒時數比麥加來的少 (B)圖中的城市裡，伊朗爾城的齋戒時數是最長的 (C)此圖來自北美洲的觀察點比來自非洲的少 (D)此圖標註的城市裡，有兩個位於季風氣候分布區

48. 考量今年齋戒月的時程，若在此時程前往德里體驗齋戒月的文化氛圍，最可能遇到何種氣候狀況？(A)濕熱多雨 (B)涼爽舒適 (C)乾燥炎熱 (D)細雨綿綿

49. 若要對這張 2021 齋戒平均時數圖做出推論，以下哪種論述最為合理？(A)從低緯往高緯度地區移動，平均齋戒時數越來越高 (B)平均齋戒時數以赤道為中心、有南北對稱分布的傾向 (C)一地的緯度、經度，均會影響到平均齋戒時數的多寡 (D)開普敦的平均齋戒時數比麥加少，是因為南北半球季節相反的緣故

50. 在整個齋戒月(第九個月)結束、第十個月開始時，會有為期三天的開齋節(Eidul Fitri)，這就像華人農曆新年一樣重要。

在地圖列出的城市裡，哪個地方會最早開始慶祝開齋節？(A)多倫多 (B)雅加達 (C)倫敦 (D)巴西利亞



◎臺灣長榮「長賜號」(Ever Given)貨輪於 2021 年 3 月 23 日在蘇伊士運河擱淺，除堵住運河近一周，影響全球航運與經濟之外，亦造成嚴重空氣汙染(如右圖)，因為其他要通過蘇伊士運河的數百艘船隻只能被迫停下來，導致運河北側海洋的二氧化硫(SO<sub>2</sub>)濃度提高到以往的五倍。

51. 觀察右圖，空氣汙染的地點位於哪個海洋？(A)紅海 (B)地中海 (C)黑海 (D)死海

52. 下列何項貨物較不受此次擱淺意外影響運送時程(請單就運送路線判斷)？(A)波斯灣石油輸出到希臘 (B)義大利皮鞋輸出到臺灣 (C)臺灣捷安特腳踏車輸出到日本 (D)印度茶葉輸出到英國。

【1-48 題每題 2 分，49-52 題每題 1 分；滿分 100 分】

