

台中市三光國中一〇八學年度第一學期第二次定期評量九年級社會科試卷(第一頁)

選擇題：1-50 題每題 2 分

1. 大雄是位優秀的電腦銷售員，月薪5萬元，在今年的資訊展中為公司創下80萬的業績。就大雄及其老闆在經濟活動中所扮演的角色而言，下列敘述何者正確？ (A)老闆是商品市場的需求者 (B)大雄是生產要素市場的需求者 (C)80萬業績是銷貨收入 (D)月薪5萬是大雄的消費支出
2. 在民主國家中，消費者和生產者改變消費及生產的數量，使得商品或生產要素的供給和需求趨於均衡的行為，通常是由一隻「看不見的手」來調整的。所謂「看不見的手」是指下列何者？ (A)政府 (B)生產者 (C)國際社會 (D)市場價格
3. 凱迪國農人組團訪問拉克國，他們在蔬果批發市場上看到一個現象，負責包裝蔬果的工人在工作時顯得漫不經心，也不處理蔬果腐爛或毀損的狀況。後來凱迪國農人才知道，拉克國的農人不管工作認真不認真，都領固定的薪水，所有的農產品都屬於政府的，所以他們不在乎。依照上述的情況，拉克國是屬於下列何種制度？ (A)統制經濟 (B)資本經濟 (C)自由經濟 (D)市場經濟
4. 新聞報導：「從開幕到現在一直是焦點話題的台北一蘭拉麵，現在用餐時段已不復見排隊現象，業績表現也比不上許多日本門市。」根據上文判斷，下列敘述何者正確？ (A)拉麵店會排隊是因為供給量大於需求 (B)拉麵店屬於商品市場 (C)拉麵的價格將會因沒有排隊而上升 (D)民眾花時間排隊的現象符合比較利益法則
5. 某信用卡公司的廣告：「魔法棒，100元；披風，1,500元；雞蛋，20元；兒子心中的魔法老爸，無價。」下列有關「貨幣」和「信用卡」的敘述，何者正確？ (A)廣告詞說明了貨幣具有衡量價值的功能 (B)信用卡是交易的媒介，所以是貨幣的一種 (C)貨幣可以衡量任何東西的價值，包括父子親情 (D)信用卡的出現，已經完全取代了貨幣的角色
6. 中央銀行簡稱央行，可以說是「銀行中的銀行」，保衛貨幣，使幣值穩定，被認為是中央銀行的首要責任，中央銀行本身具備了許多重要任務，下列何者並「不在」其業務範圍內？ (A)讓一般民眾存錢與貸款 (B)參與制定貨幣政策 (C)保管國家黃金與外匯 (D)控制貨幣供給數量
7. 野比中學舉辦童軍露營活動，在烹飪時間時，每位小隊員根據專長分配工作，擅長廚藝的靜香、小夫分別擔任大廚、二廚，胖虎則擔任伙夫等。在大家的同心協力下終於煮出豐盛的一餐。上述的分工主要是依據經濟學的哪一項原理原則？ (A)受益原則 (B)需求法則 (C)比較利益法則 (D)負擔能力原則
8. 印度擁有龐大的內需市場，高人力素質以及相對低廉的工資等條件，皆有助於「甲」產業的發展，近年來已吸引不少外資進入印度設廠，未來「印度製」將取代「中國製」。由上述情況判斷，「甲」所指的最有可能為下列哪種類型的產業？ (A)知識密集 (B)勞力密集 (C)技術密集 (D)資本密集
9. 去年瑪莎國對拉蒂國的出口總額為300億美元，進口總額為400億美元。上述現象顯示去年瑪莎國對拉蒂國的貿易呈現下列何種情況？ (A)貿易平衡 (B)貿易出超 (C)貿易順差 (D)貿易逆差
10. 梁耀報名參加韓劇浪漫景點五日遊，出發前用新臺幣兌換韓元，回國後將未花完的韓元換回新臺幣，結果發現同樣一筆錢現在換回新臺幣比之前有利。下列何者最可能是梁耀旅行前後的匯率？（以新臺幣：韓元換算） (A)1:33→1:35 (B)1:33→1:34 (C)1:33→1:33 (D)1:33→1:31
11. 附表一是小蘭、小寶、小堅、小妮四個人包水餃與做包子每小時的產量。哪一個人包水餃的機會成本最低？ (A)小蘭 (B)小寶 (C)小堅 (D)小妮
12. 莫名與奇妙合資開了一間玩偶小物工廠，附表二是他們兩人每人每天單一生產兔子玩偶或小熊玩偶的產量，請問：奇妙在生產一個兔子玩偶的機會成本是多少個小熊？ (A)3/2個 (B)2/3個 (C)7/4個 (D)4/7個
13. 附表三是海洋國和森林國兩國從事生產的生產力資料，海洋國與森林國若要都能享用到地瓜與芋頭（公噸/小時），他們應如何分工再進行交易？ (A)海洋國負責種地瓜，森林國負責種芋頭 (B)森林國負責種地瓜，海洋國負責種芋頭 (C)都由海洋國負責 (D)都由森林國負責
14. 愛紗和安娜兩姊妹一起在超商打工，附表四是她們各自擦玻璃與拖地所花費的時間。依「比較利益」法則，兩人應如何分工較好？ (A)愛紗負責擦玻璃，安娜負責拖地 (B)愛紗負責拖地，安娜負責擦玻璃 (C)安娜一手包辦兩項工作 (D)愛紗一手包辦兩項工作
15. 附表五是蓮花工廠內四位員工每小時可組裝塑膠百合花與玫瑰花的數量。在不考慮其他條件的情形下，哪一位員工生產「玫瑰花」具有絕對利益？ (A)大科 (B)大尼 (C)大塞 (D)大格。
16. 附表六是法拉利國石榴市場每公斤的價格與數量表，依照供需法則，最後成交的石榴價格「最有可能」是多少？ (A)65元 (B)75元 (C)85元 (D)95元

	小蘭	小寶	小堅	小妮
水餃	25	27	30	40
包子	6	9	12	15
表一				

	莫名	奇妙
兔子	14	6
小熊	8	4
表二		

	地瓜	芋頭
海洋國	4	3
森林國	6	5
表三		

	擦玻璃	拖地
愛紗	25	27
安娜	30	23
表四		

	大科	大尼	大塞	大格
百合	30	36	42	48
玫瑰	40	48	54	52
表五				

價格(元/公斤)	需求量	供給量
85	33公斤	30公斤
65	38公斤	25公斤
表六		

背面尚有試題，請翻面作答

17. 中世紀時期，在西亞地區因為伊斯蘭教信仰，使得許多民族勢力壯大。請同學依照各民族興起的時間順序加以排列？  
(甲)鄂圖曼土耳其人(乙)阿拉伯人(丙)塞爾柱土耳其人 (A)甲乙丙 (B)乙丙甲 (C)乙甲丙 (D)丙甲乙。
18. 右圖為近期的新聞報導，文中提及的疾病曾在歐洲造成人口大量銳減，社會、經濟與文化都受到嚴重打擊。請問：若要查詢歐洲當時疫情記錄，下列何時、何地的記錄最值得參考？ (A)六世紀的君士坦丁堡 (B)八世紀的巴格達 (C)十一世紀的羅馬 (D)十四世紀的威尼斯。
19. 騎士文學名著《羅蘭之歌》內容寫到「騎士羅蘭在山谷中遭到敵軍十萬大軍伏擊，不肯吹號角求援，最後枕劍而亡。國王查理曼要求全軍奮勇殺敵為羅蘭報仇。」根據以上文字，關於騎士之敘述，下列何者錯誤？  
(A)騎士應是注重忠誠、勇敢且有俠義精神的 (B)無論是騎士或是領主皆為貴族階級 (C)騎士為領主的附庸，必須為領主出征 (D)查理曼曾向羅蘭行臣服禮，宣誓對他效忠。
20. 中世紀後期，西歐的商業逐漸復甦，關於這個時期的商業情形，下列敘述何者錯誤？ (A)莊園經濟的形成 (B)商業城市的興起 (C)行會組織的創立 (D)市民階級的興起。
21. 傳教士利瑪竇於明末來到中國，除從事傳教工作外並與大臣徐光啟合譯《幾何原本》，對中國影響深遠。關於利瑪竇所屬的教派，下列敘述何者正確？ (A)屬於希臘正教系統 (B)重視神職人員的品德與素質 (C)由馬丁路德所創立 (D)教義中贊同贖罪券的使用。
22. 基督教創立後，由於對教義、儀式的見解紛歧，曾經歷兩次的分裂，甚而引發各國慘烈的宗教戰爭。下列有關基督教發展的敘述，何者正確？ (A)創立於西元前一世紀 (B)中世紀時，成為穩定歐洲社會秩序的重要力量 (C)十一世紀時分裂為天主教與基督教分庭抗禮 (D)基督教比天主教更強調教會與教宗的地位。
23. 蔡波能在電視上看到了一部影片，片名為「聖女貞德」。請問：該劇是描寫哪一場戰爭時，法國少女貞德從軍抗敵，激發法國士氣的故事？ (A)宗教戰爭 (B)蒙古西征 (C)十字軍東征 (D)英法百年戰爭。
24. 葡萄牙是最早開始找尋新航路的國家，王室資助許多航海家進行探險，促進了日後葡萄牙的對外殖民發展。請問：何人得到葡萄牙王室資助，成為第一位從歐洲航海到右圖中「★」的人？ (A)哥倫布 (B)麥哲倫 (C)達伽馬 (D)狄亞士。
25. 西元 476 年西羅馬帝國滅亡後，日耳曼民族在建立數個國家。請問：下列有關現在地名與日耳曼人建立國家的配對，何者正確？ (A)義大利—西哥德王國 (B)英國—法蘭西王國 (C)北非—汪達爾王國 (D)西班牙—盎格魯撒克遜王國。
26. 三光國中戲劇社想要演出「拜占庭帝國興亡錄」，但下列何種情節不會出現在其中？  
(A)故事背景設定在君士坦丁堡 (B)拜占庭皇帝派遣傳教士將希臘正教傳給斯拉夫民族 (C)查士丁尼在位時期是帝國最為興盛的時期 (D)最後亡於塞爾柱土耳其人之手。
27. 中世紀時，阿拉伯商人相當活躍，曾到歐亞各地經商。並且在經商過程中，將許多技術傳入西方，對歐洲的發展貢獻極大。下列哪些技術是經由阿拉伯人傳入歐洲？ (甲)造紙術(乙)印度數字系統(丙)封建制度(丁)支票制度(戊)印刷術  
(A)甲乙丙 (B)乙丙戊 (C)甲乙丁 (D)丙丁戊。
28. 查理曼是中世紀著名的法蘭克國王，他推動多項措施，使得西歐逐漸形成共同的文化背景。下列哪一項屬於查理曼的貢獻？ (A)推動基督教信仰與拉丁文 (B)建立橫跨歐、亞、非三洲的大帝國 (C)恢復古羅馬帝國的版圖 (D)建立神聖羅馬帝國。
29. 文藝復興運動對於歐洲文化發展具有承先啟後的作用，促進歐洲歷史發展的興起。而文藝復興的主要內涵為何？ (A)以人為本，肯定人生現世的價值 (B)倡導「因信得救」，重新定義基督教精神 (C)提倡科學方法，建立科學宇宙觀 (D)發現新大陸，改變世界發展。
30. 隨著新航路及新大陸的發現，使得歐洲國家可直接航行至美洲與亞洲，造成世界歷史發展的轉變，而下列對歐洲海外拓殖後造成影響的敘述，何者正確？ (A)對阿茲提克與印加古文明的破壞 (B)番薯、玉米和小麥等作物引進歐亞地區 (C)歐洲歷史重心由大西洋移轉到地中海 (D)黑奴貿易的衰敗。
31. 在臺南的新樓醫院有一塊對馬雅各醫生的介紹板，文中提及「馬雅各是長老教會的傳教士」。請問：此教會應是屬於下列哪一個宗教教派的一支？ (A)路德教派 (B)英國國教派 (C)喀爾文教派 (D)耶穌會。
32. 歷史課時，老師請同學舉例兼具基督教和伊斯蘭教文化色彩的建築物，下列何者最適當？ (A)比薩洗禮堂 (B)聖索菲亞大教堂 (C)麥加大清真寺 (D)馬雅金字塔。
33. 大雄為了考好段考，他認真準備了有關「文藝復興作家與作品」的整理，但下列何項整理有誤？ (A)達文西→最後的晚餐 (B)塞凡提斯→十日談 (C)但丁→神曲 (D)馬基維利→君王論。

〔下頁尚有地理科試題，請繼續作答！〕

#### 中國傳鼠疫 我不排除發布旅遊警示

2019-11-19 聯合報

中國本月 12 日公布一對內蒙古夫妻經北京官方確診為「肺鼠疫」，感染源仍不明，日前又新增一名內蒙古男性確診為「腺鼠疫」，初步判定是因食用野兔而感染。衛生福利部疾病管制署副署長羅一鈞表示，疾管署將密切監視中國鼠疫情變化，若評估社區感染風險提升，將及時發布旅遊疫情警示。



34. 歐洲 2019 年夏季出現熱浪，導致歐洲最重要航線之一萊茵河水位降低，而該河流是□□最重要的航道，□□水運的貨物中，有 80% 藉萊茵河運輸，尤其是煤炭、石油和天然氣或化學產品，約有將近 30% 透過萊茵河運輸，而這些是重要的價值鏈初期主要原料，因此低水位的萊茵河，使工業生產受到限制。請問□□最有可能是哪一個國家？(A) 德國 (B) 英國 (C) 丹麥 (D) 奧地利

35. 政治上看似誓不兩立的烏克蘭與俄羅斯，民生經濟上卻有著密切互賴的關係。俄羅斯境內因為農業活動的不利條件，因此每年需從烏克蘭進口大量的農產品。請問：下列何者「並非」烏克蘭發展農業的優勢？(A) 平原地形為主 (B) 年均溫相對較高 (C) 富含黑土帶 (D) 坎井灌溉盛行


36. 一星期每日的英文拼音，其實源於羅馬人、日耳曼和北歐民族，例如：星期四(Thursday)來自挪威神話中的雷神索爾，神話中傳達了維京戰士熱血堅毅、驍勇善戰的一面。維京戰士給人的形象，可能和哪個自然環境有關？(A) 北方威尼斯，人工河渠發達 (B) 峽灣廣布，利於出海 (C) 谷灣海岸，航運發達 (D) 冰火王國，暖流流經

37. 右圖為西歐某國知名巧克力，其巧克力外型的設計靈感來自於該國特殊的山岳冰河地形景觀，且外包中上也呈現出該國最著名的景點「馬特洪峰」(Matterhorn)，是該國旅遊首要目的地之一。關於該國的描述，下列何者有誤？

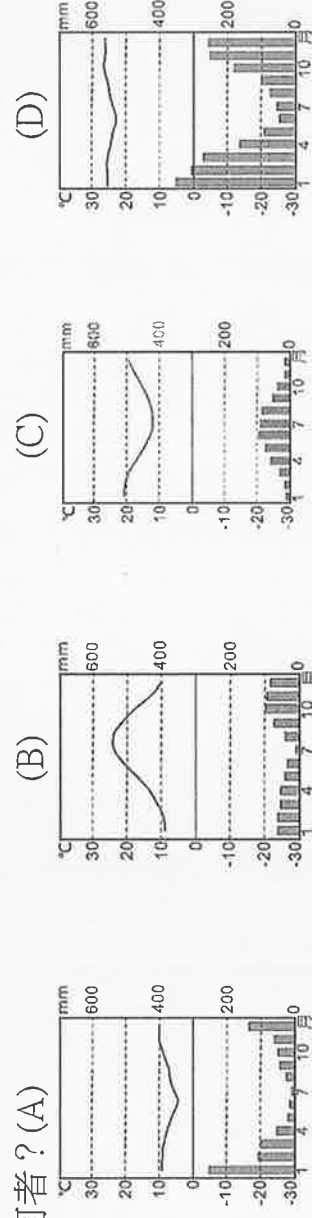
- (A) 該國未加入歐盟，為永久中立國 (B) 因地形崎嶇交通不便，發展出精細工業  
(C) 多瑙河流經處為該國人口精華區 (D) 鐘錶、金融產業發達

38. 下表是丁丁自助旅遊依序探訪的著名景點，請問他依序探訪了圖中哪些國家？(A)

甲→庚→丙→己(B)乙→戊→己→甲 (C)庚→戊→己→甲 (D)甲→庚→辛→戊。



39. 「這個都市向來以旅遊業聞名，旅遊業賣點是蔚藍的天空、林立的天主教堂和羅馬帝國時代的古蹟。最佳的旅遊季節是春天和秋天，夏季雖然晴朗但有時天氣太熱，冬季則潮濕冷涼。」引文中的都市，其氣候圖最可能是何者？(A)



40. 在荷蘭，嬰兒出生後，父母要準備一雙小木鞋；結婚時，丈夫準備木鞋做為愛情信物送給妻子，並親手為她穿上。流傳數百年的荷蘭木鞋象徵「美好祝福與愛的意義」，到了近代成為觀光客遊荷蘭的必備紀念品之一。傳統上荷蘭人以穿著木鞋為主，這和下列哪項因素關係最大？(A) 土地低溼 (B) 氣候乾冷 (C) 冰蝕湖泊多 (D) 地形崎嶇

41. 右圖為某一種原料指向的農產加工產品分布圖。

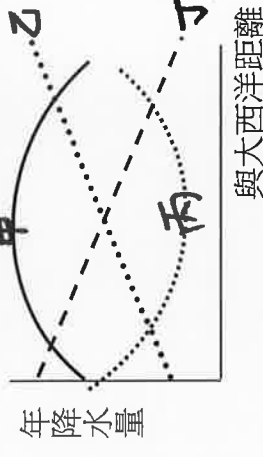
此原料作物最有可能是下列何者？

- (A) 小麥 (B) 葡萄 (C) 咖啡 (D) 茶樹

42. 冰河時期歐洲曾被大範圍的冰河覆蓋住，所以有許多冰河留下來的遺跡。請問：下列四種現象中，何者跟冰河地形最有關係？(A) 遊玩威尼斯，坐落於潟湖的水都 (B) 前進

布拉格，漫遊百塔之城 (C) 前往東歐，深度觀賞喀斯特地形 (D) 洗芬蘭浴，桑拿後跳進冰冷湖裡





43. 東歐的降水分布在空間上有所差異，最主要是受到大西洋海域的影響；請問關於東歐降水量跟位置的關係，右圖中哪條曲線最符合事實？(A)甲 (B)乙 (C)丙 (D)丁

●隨著觀光產業的發展，各家飯店挖盡心思，提供旅客貼心精緻服務。其中，有一間飯店主打該飯店全面採用某某國家原裝進口的有機橄欖系列沐浴用品，清爽保濕不油膩，洗完還能散發淡淡的海洋風情。請同學回答下列問題：

44. 從橄欖系列用品的推薦推測，可能是從哪一個國家進口？(A)中國 (B)哈薩克 (C)西班牙 (D)馬來西亞

45. 承上題，該國家有特殊的冬雨現象，與下列何項因素有關？ (A) 風帶北移，西風帶移入

(B)風帶北移，副熱帶高壓帶南移，西風帶移入  
(C)風帶南移，副熱帶高壓帶北移，西風帶移入  
(D)風帶南移，副熱帶高壓帶北移，西風帶移入

●請閱讀下文，並回答相關問題：「在瑞典，每年的聖露西亞節(Lucy Light)比任何節慶來得更重要，因為這天是瑞典一年中黑夜最長白晝最短的一天，從此日開始，白天將慢慢變長，而令瑞典人鬱悶煩惱的悠長黑夜則會一日短過一日。從17-18世紀開始，聖露西亞節這天全瑞典每個城鎮都會舉行聖露西亞遊行，被選為聖露西亞的女孩將身穿白袍，腰間繫上紅緞帶，頭上帶著由越橘莓樹枝標成的花環，花環上插上一枝枝的點燃的蠟燭。帶著一群女孩男孩組成的合唱團，一路遊行一邊唱著節慶歌曲，象徵露西亞作為光明使者，在瑞典最黑暗、最寒冷的時刻，給人們帶來溫暖，振奮人們的精神……。」

46. 請問根據上文敘述，聖露西亞節最可能在哪一個月份呢？(A)3月 (B)6月 (C)9月 (D)12月。

47. 聖露西亞的產生背景乃因緯度高，下列哪個現象的產生跟緯度高「無關」呢？(A)北歐諸國多峽灣、冰蝕湖地形  
(B)俄羅斯境內針葉林面積廣大 (C)冰島地熱有助發展煉鋁業 (D)挪威北角海岸可見午夜的太陽。

●下圖是三光旅行社推出的《俄羅斯·西伯利亞·北國印象》行程表，本行程將於十二月出發，規劃15日的行程如下圖，地圖中的數字代表日期，請同學依據該圖，回答下列問題：

