

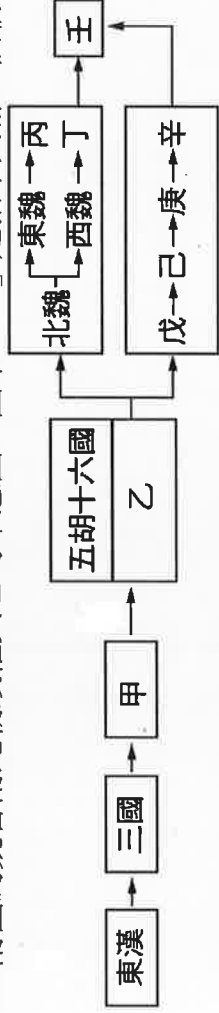
台中市三光國中一〇八學年度第一學期第二次定期評量八年級社會科試卷(第一頁)

選擇題：1-50 題每題 2 分

1. 政府為推動公共建設卻常苦無資金，因而引入民間企業投資，締造政府與民間雙贏。除民間資金有去處，公共建設也可提高效率。例如：台灣高鐵公司就屬於此項措施的產物。關於上述措施，何者正確？ (A)英文簡稱為 BRT (B)可以增加政府罰款收入 (C)可以提升行政效率並節省財政支出 (D)民間企業可永久經營，無須轉移營運權給政府
2. 國立海洋生物博物館將水族館部門委由海景世界企業股份有限公司負責經營管理，從事導覽功能與對外宣傳行銷工作；館內研究人員則專注於各項海洋研究計畫，提高臺灣在海洋學的國際學術地位。這種政府與民間企業合作經營的模式稱為什麼？ (A)地方自治 (B)民營化 (C)政府開放民間企業興建或經營公共建設 (D)企業型政府的模式
3. 太原社區近來接連發生搶案，居民於是決定成立社區守望相助隊，共同維護社區治安，其中即使未分擔輪守的居民，也無法將他排除在保護之外。上述是在說明公共財的哪一個特性？ (A)無法收費 (B)無法共享 (C)可以排他 (D)無法排他
4. 「希率任職於高科公司，公司內部設有社區人士可以付費使用的健身房及游泳池，還有一座私人的高爾夫球場，提供高科公司的員工們使用，每到黃昏時，希率最喜歡到球場附近的海邊堤防欣賞日落美景。」上述內容何者屬於公共財？ (A)海邊堤防 (B)高科公司 (C)健身房 (D)高爾夫球場
5. 行政院在「該降就降」原則下，協調臺糖、超商、量販店等業者針對麵粉及沙拉油等民生物資降價，其中沙拉油降幅最高可達 20%。政府對物價處理，將以國際價格為指標，繼續監視民生物資是否還有調降空間，讓消費者以合理價格購買商品，這是政府所發揮的何項經濟作為？ (A)改善所得分配 (B)保障私有財產 (C)確保公平交易 (D)健全社會福利
6. 我國對於所得稅的課徵採取「累進稅率制」，也就是高所得者負擔較多的稅，低所得者負擔較少的稅，並將課稅所得提供低收入者醫療、失業等各項補助。這是政府為了達到何種目的的採行的措施？ (A)提供公共財 (B)處理外部效果 (C)維持經濟秩序 (D)縮短貧富差距
7. 臺灣地狹人稠，交通網絡緊鄰住宅區，噪音問題嚴重，於是立法院通過《噪音管制法》修正案，明定快速道路、高速公路、鐵路、大眾捷運系統、機場，噪音超過標準，主管機關得限期 180 天內改善；若無法改善，就制定噪音防制補助計劃。上述管制措施是為了達成哪一目的？ (A)保障私有財產 (B)解決外部成本 (C)處理外部效益 (D)維持經濟秩序
8. 一年一度的綜合所得稅申報從五月份開始，賦稅署預估今年報稅戶將達 650 萬戶，除了往常結算申報管道之外，還新增以健保卡申報的途徑。根據上述內容，民眾繳交的稅金屬於政府的哪一種收入來源？ (A)租稅收入 (B)規費收入 (C)公營事業收入 (D)國有財產收入
9. 水電費等事業單位開始開立統一發票，且陸續導入小獎獎金直接匯入扣繳帳戶服務，預計將有 1273 萬戶受惠，民眾只要採自動扣繳，就不怕忘記對獎及領獎。民眾繳交的水電費用，屬於政府何種收入來源？ (A)租稅收入 (B)規費收入 (C)公營事業收入 (D)國有財產收入
10. 近年來各縣市經常為了「統籌分配款」的問題爭得面紅耳赤。中央補助與地方稅收的部分，基本上是依哪項法律來劃分？ (A)《所得稅法》 (B)《營業稅法》 (C)《財政收支劃分法》 (D)《遺產稅法》
11. 臺灣省政府管轄的範圍與中央政府管轄的範圍高度重疊，為了精簡政府組織，民國 86 年將省政府精簡調整。下列有關虛級化後的省政府狀態，何者正確？ (A)省政府虛級化是由行政院各部會決議完成 (B)虛級化的省仍具有地方自治團體的性質 (C)虛級化的省，不只是精簡掉，而且將其廢掉 (D)虛級化後的省主席、省諮議員不再以民選方式產生
12. 臺中市政府積極推動舊市區再造，除活化中區閒置大樓外，北區中央市場將比照東區建國市場的遷建模式，透過都市更新，朝興建商場、社會住宅與停車場的方向發展。根據上述內容，此舉屬於地方政府發揮的何種功能？ (A)教育文化 (B)社會服務 (C)經濟發展 (D)安全衛生
13. 新聞報導：「有感於行動不便者及長者參與調解時不便，廣濟宮與福和宮特別捐贈輪椅給區公所，盼提升更友善的無障礙環境。」依據內容判斷，這則新聞的發生地應該是在哪個地方？ (A)基隆市 (B)苗栗縣 (C)彰化市 (D)東港鎮
14. 新竹市近來積極推動路平專案，過去「道路養護預算費」僅編列 8,300 萬元，這幾年提高到 2.3 億元，並設置「路平主題網」號召全民共同監督。關於路平專案的敘述，何者錯誤？ (A)屬於經濟發展的自治事項 (B)預算是由行政院負責編列 (C)具有因地制宜的事務性質 (D)市議員負責監督專案成果
15. 我國地方政府分為直轄市、縣（市）、鄉（鎮、市）三級，下列地方自治團體的組合中，何者皆屬同一層級？ (A)臺北市、嘉義市、高雄市 (B)新竹市、宜蘭市、彰化市 (C)新竹市、嘉義市、彰化縣 (D)台中市、高雄市、花蓮市
16. 我國中央政府與地方政府所採用的分權方式有所不同，下列相關敘述中，哪項是正確的？ (A)中央政府分為五院，是採垂直分權的概念設計 (B)地方政府分為行政、立法機關，屬於橫向分權 (C)中央與地方政府的權限，是以經費的多寡劃分 (D)中央與地方政府權限發生爭議時，由總統解決

背面尚有試題，請翻面作答

17.附圖為魏晉南北朝政權興亡的示意圖。圖中「乙」是指下列哪一個朝代？



(A)曹魏 (B)西晉 (C)東晉 (D)隋

18.中國歷史上「魏晉南北朝」的「魏」是指下列何者？

(A)戰國時代的魏國 (B)三國時期的曹魏 (C)南北朝時代的北魏 (D)南北朝時代的西魏

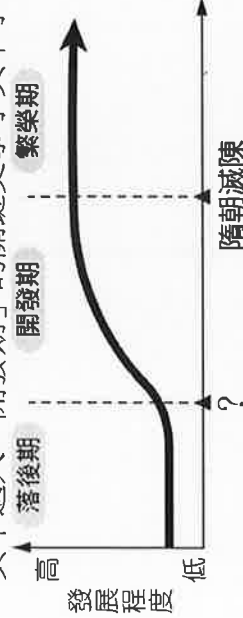
19.赤壁之戰後確立三分天下的局面，有關這場戰爭的敘述，何者正確？

(A)曹操帶領大軍北上攻打孫劉聯軍 (B)曹軍為劉備與孫權的聯軍所敗 (C)戰敗的主因是曹軍不善戰 (D)曹軍採取火攻，燒毀敵軍的船隻

20.九品官人法設置的目的，是為評選人物設立標準，而將人才分九個等級。但因品選人才的官員多是世族，導致評比時特重家世背景，不問才德，反而成為鞏固世族權位的工具。九品官人法是從何時開始推行？

(A)東漢 (B)曹魏 (C)西晉 (D)東晉

21.為了解中國南方經濟發展的脈絡，小英特別將其發展歷程圖示化(如附圖)，並分成落後期、開發期與繁榮期三個階段。其中邁入「開發期」的關鍵史事小英不小心遺漏了，請問同學「？」應填入下列何者？



(A)赤壁之戰 (B)八王之亂 (C)永嘉之禍 (D)安史之亂

22.下列有關於魏晉南北朝時期佛教發展的敘述何者錯誤？

(A)於東漢末年傳入中國 (B)獲得部分君主的支持 (C)在中國發展日益興盛 (D)有許多西域高僧來華

23.魏晉時期著名的竹林七賢，是當時社會風尚的代表。下列何者最適合用來形容竹林七賢？

(A)漠視禮法，自由放縱 (B)循規蹈矩，盡忠職守 (C)憂國憂民，志向遠大 (D)汲汲功利，爭權奪位

24.台北故宮正在籌畫舉辦「唐朝文物展」，下列哪一項展覽品不適合出現在會場？

(A)三彩陶 (B)李白詩文集 (C)顏真卿-多寶塔碑 (D)兵馬俑

25.附表是有關安史之亂與黃巢之亂的比較表，其中哪一項正確？

選項	安史之亂	黃巢之亂
(甲)發生時間	唐太宗	唐玄宗
(乙)為亂區域	黃河南北一帶	長江流域以南
(丙)亂事性質	人民造反	將領叛亂
(丁)影響	唐國勢由盛而衰	破壞江南經濟

(A)甲 (B)乙 (C)丙 (D)丁

26.上歷史課時，老師以「胡漢融合，兼容並蓄」說明某一時期的社會特色，下列何者最符合以上的敘述？

(A)秦漢時期 (B)隋唐時期 (C)南北朝時期 (D)春秋戰國時期

27.唐代海外貿易十分興盛，為了要增加政府的稅收，唐政府於下列何地設置市舶司，增加關稅的收入？

(A)長安 (B)洛陽 (C)廣州 (D)泉州

28.唐朝以文成公主進行和親政策，促成了中國與何地之間的文化交流？

(A)吐蕃 (B)大食 (C)突厥 (D)朝鮮半島

29.阿拉伯帝國曾在唐玄宗時與中國發生怛羅斯之役，唐朝戰敗，唐士兵被俘，因而促成中國哪一項科技成就西傳？

(A)指南針 (B)火藥 (C)造紙術 (D)印刷術

30.文學作品《木蘭詩》描述花木蘭代父從軍的故事，文中敘述「東市買駿馬，西市買鞍轡……」，這代表當時城市規畫可能具備何種特色？

(A)坊市分離 (B)坊市合一 (C)夜市出現 (D)金城湯池

31.莫高窟、龍門與雲岡等三大石窟，均開鑿於魏晉南北朝時期。這些石窟規模龐大，保留無數藝術精華，其中以雕刻與繪畫居多。上述石窟藝術可以見證哪個宗教在此時期流行的盛況？

(A)佛教 (B)道教 (C)景教 (D)伊斯蘭教

32.五代十國介於下列哪兩個時期之間？

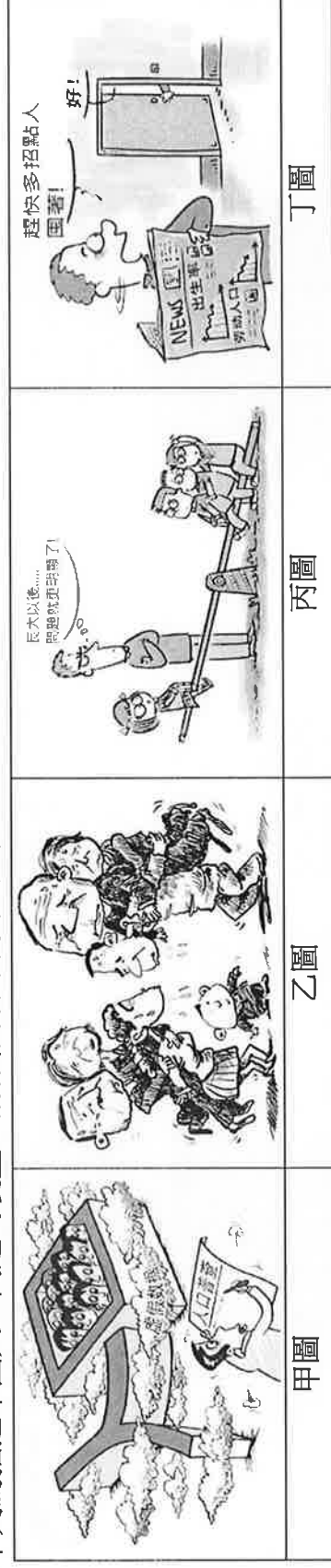
(A)魏晉南北朝、隋朝 (B)隋朝、唐朝 (C)唐朝、宋朝 (D)宋朝、元朝

33.隋朝國祚雖短，卻留下重大建設，其中哪項建設除了在軍事上強化國家統一外，在經濟上也促進南北交流，解決糧食北運的問題？

(A)營建新都 (B)開鑿運河 (C)修建馳道 (D)修築長城

【題組 34-37】

※下列為描述中國人口問題的漫畫，請你根據圖中資訊及代號回答下列問題。請問：



34. 「甲圖」描述中國人口普查數據不夠準確，有隱匿未報的黑戶人口，請問上述現象與下列哪一政策的實施最為相關？

(A)人口城鄉分離政策 (B)開放二胎政策 (C)改革開放政策 (D)一胎化政策

35. 高齡化社會主要讓中國的勞動人口需面臨上列何圖所呈現的壓力？ (A)甲圖 (B)乙圖 (C)丙圖 (D)丁圖

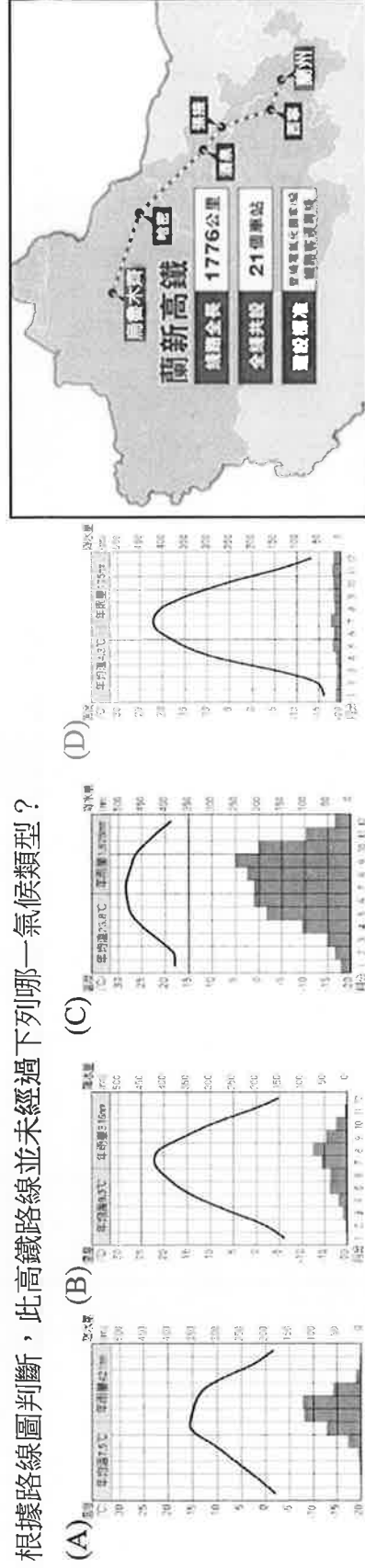
36. 對於「丙圖」所描述的中國某一人口現象，請問下列哪一敘述正確無誤？ (A)呈現幼年性別比例失衡的問題 (B)代表中國失去人口紅利的優勢 (C)因應措施為健全老人福利政策 (D)顯示中國的扶養比愈來愈沉重

37. 中國在不同時期所推出的人口政策都會配合宣傳的口號，請問：在 2016 年所推出的人口政策口號最有可能為下列何者？
(A)少生優育，利國利民 (B)寧添十座墳，不添一個人 (C)莊稼稠了苗瘦小，孩子多了難養好 (D)該生不生，後悔一生；該養不養，老無所養。

【題組 38-40】

※2014 年底，中國甘肅省蘭州至新疆烏魯木齊的首趟高速列車的发動，標誌著中國首條高原高鐵路線起航，實現了「6 小時進青出甘入疆」的目標。這條中國首次在高原、高海拔和荒漠地區修建的高速鐵路，自蘭州鐵路樞紐蘭州出發，共設 21 個客運車站，最後抵達新疆烏魯木齊站，全長 1776 公里，被稱為是世界上一次性建設里程最長的高鐵。蘭新高鐵的全線通車，將結束烏魯木齊至西寧沒有直通列車的歷史。附圖為蘭新高鐵的路線圖，請問：

38. 根據路線圖判斷，此高鐵路線並未經過下列哪一氣候類型？



39. 由起點站蘭州到終點站烏魯木齊的路程中，主要會出現下列哪些地理現象？ (甲)冬季溫度漸高 (乙)稻田變為麥田

(丙)年溫差漸大 (丁)年雨量漸減 (A)甲丁 (B)甲丙 (C)乙丁 (D)丙丁

40. 抵達終點站烏魯木齊後，下列哪一敘述並非當地主要少數民族的特色？ (A)傳統上以綠洲農業維生 (B)到清真寺進行祈禱 (C)傳統住屋為平頂式建築 (D)人口數量最多的少數民族

【題組 41-44】

※右圖為中國氣候分區圖，請根據圖中代號回答問題。請問：

41. 右列傳統建築型態是適應何地氣候環境所發展而來？

(A) a 地 (B) b 地 (C) c 地 (D) d 地

42. 「甲區」氣候內可分為 A、B、C 三個分區，請問：由 A→B→C 將會看到下列哪些現象的變化？ (甲)年溫差愈大 (乙)降水量愈多 (丙)生長季愈長 (丁)雨季愈集中

(A)甲乙 (B)甲丙 (C)丙丁 (D)乙丙

43. 下列關於中國人口分布特色的描述，何者有誤？ (A)人口多分布於「甲氣候區」 (B)「乙氣候區」人口多分布於綠洲地帶 (C)「丙氣候區」乾熱少雨人口密度低 (D)「甲氣候區」分布大致與黑河-騰衝連線以東相符合

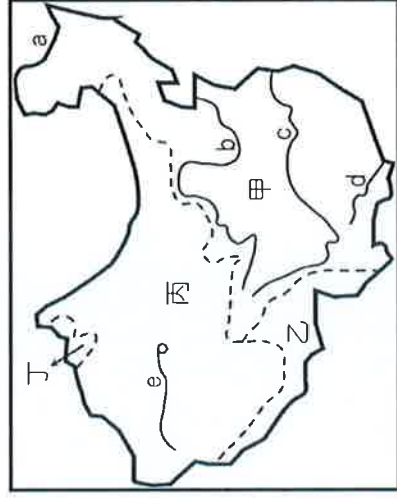
44. 中國屬於季風亞洲的一部分，下列哪些是對季風的正確描述？ (甲)成為大範圍海陸性質差異 (乙)冬季為主要降水季節 (丙)冬、夏季節風向相反 (丁)冬季陸地因比熱小散熱快，形成低氣壓 (A)甲乙 (B)甲丙 (C)丙丁 (D)甲丁

【背面尚有試題，請翻面作答!!】

【題組 45-47】

※右圖為中國主要河川示意圖，圖中甲、乙、丙、丁代表內、外流區，a、b、c、d、e 代表河川。請問：

45. 「甲區」面積最大的主因為何？ (A) 緯度高低 (B) 距海遠近 (C) 地勢走向 (D) 洋流分布
46. 「丙區」河流水源主要來源為？ (A) 湖泊湖水 (B) 海洋海水 (C) 大氣降水 (D) 高山融雪
47. 「2013 年中國宣布將在 河流興建 3 座大壩，印度政府隨即要求中國，不得在上游進行任何有損下游利益的活動。2015 年 10 月，中國在此河所規畫建設第一座水 電站--藏木水電站，正式併網發電，許多環保人士擔憂，恐嚴重影響此河的生態，印度也擔心造成阿薩姆地區水位下降。」請問：由上文所述判斷，哪一敘述正確？ (A) 此河為額爾齊斯河 (B) 此河位於右圖「甲區」 (C) 為含沙量最高河流 (D) 此河發源於青藏高原



【題組 48-50】

雙十一熬夜剁手地圖出爐！你是「剁手」還是「凍手」？ 2019-11-08 中國經濟網 來源：中國天氣網

今年「雙十一」期間，中國北方將會受到一股冷空氣影響。其中，大部份東北地區等地最低氣溫都在 0℃ 以下，不過上述地區基本在 11 月 5 日前已經實現供暖，因此無論是熬夜添加購物車，還是守候「雙十一」零點搶購統統不受低溫影響，不用擔心因「凍手手抖」錯失購物良機了。

華北地區目前還有部分地區，夜間的低溫氣溫基本在 0-10℃。只能奉勸上述地區的小夥伴們，還是躲在被窩裡瘋狂下單吧，不然「剁手」只會變「凍手」。

相對來說，南方大部分的小夥伴這個周末熬夜刷單會更加淡定。華中一帶夜間最低氣溫普遍在 8-12℃，再加上注意力全部在購物掃貨上，所以到時候只怕是「熬夜不覺冷，處處剁手聲」。而華南南部一帶，夜間最低氣溫將會在 15℃ 上下，部分地方甚至超過 20℃，這樣的溫度下單搶得急冒汗也是有可能的。

每年雙十一過後小夥伴們就是開始心繫「查看物流」了，你的快遞是否會被天氣「耽擱」在路上呢？從 11 月 11-13 日，強冷空气將影響中國北方和東部地區，長江中下游及其以北大部地區有 4~6 級風，尤其是在新疆北部，內蒙古中西部，華北北部等地，陣風還將達到 6 級以上。新疆北部，內蒙古東北部以及東北地區還可能有風雪天氣。

48. 右圖為上述新聞的發布的『雙十一熬夜剁手地圖』，請依新聞內容判斷，地圖中四個地點所發生的購物情形，下列敘述何者正確？ (A) A 地—瘋狂剁手汗淋漓 (B) B 地—棉被裹緊刷單忙 (C) C 地—暖氣加持手不抖 (D) D 地—淡定熬夜不覺冷
49. 新聞中提及中國某些地區在雙十一時，最低溫度會超過 20℃，但也有其他地區最低氣溫 0℃ 以下，請問主要原因為何？ (A) 地形 (B) 經度 (C) 緯度 (D) 距海遠近
50. 新聞最後提及將影響北方及東部地區的「強冷空气」，請問下列關於此「強冷空气」的敘述，何者正確無誤？



(A)空氣的發源地	(B)空氣的流動情形	(C)此時華北地區風向	(D)此時地面天氣圖
太平洋			

【試題到此結束，請仔細檢查!!】