

## 台中市三光國中一〇八學年度第一學期第一次定期評量八年級社會科試卷(第一頁)

### 選擇題：1-50 題每題 2 分

- 電影《賭神》當中膾炙人口的臺詞「是不是到公海啦？」是為了確定在公海上的行為不受到船艦所屬國家以外的其他國家所干預。公海為距離陸地多遠範圍之外的海域？ (A)100 哩 (B)200 哩 (C)300 哩 (D)400 哩。
- 臺灣新住民人數已經超過 51 萬人，根據內政部統計數字分析，到了 2030 年，臺灣 25 歲的青壯年世代，將有 13% 為新住民子女。根據上述內容，新住民子女人數增加，可以顯示我國哪一項國家組成要素產生變化？ (A)主權 (B)人民 (C)政府 (D)領土。
- 臺灣在 2004 年希望爭取成為世界衛生組織的觀察員，但在中共的打壓之下失敗。其主要原因是國際只承認中共代表「中國」，而不承認我們是一個國家，這也就是國家構成要素中哪一項的爭議？ (A)人民 (B)領土 (C)主權 (D)政府。
- 日本天皇明仁向大眾表達希望「生前退位」的消息，然而因相當於皇室法律的《皇室典範》並無相關規定，國會因此通過特別法，讓明仁天皇可以依此退位。若以國家的型態來看，日本和下列何者的國體相同？ (A)法國 (B)北韓 (C)荷蘭 (D)古巴。
- 達爾和悟空在玩三國誌線上遊戲，以下是他們的對話：達爾：「我要皇帝下令全國百姓每年要繳六次稅賦，每個男丁要服勞役半年。」悟空：「我更慘，忘了繳田租，財產要充公了，再不逃，我就完了。」他們所描述的應是哪一種政體？ (A)民主 (B)獨裁 (C)共和 (D)共合。
- 每年的教育會考，教育部都會讓身心障礙者的考生申請設置「特殊試場」來符合他們的需求，使其跟一般的考生一樣，擁有基本的應試權利。這樣的作法說明國家成立的哪項目的？ (A)保障人民安全 (B)維持社會秩序 (C)發展社會福利 (D)保存文化傳統。
- 國軍基於建軍備戰需求，近來積極爭取調增國防預算，而行政院衡量當前經濟情勢與未來發展，同意調高額度支持國軍建軍所需，以強化整體國防戰力。政府此項舉動，主要在落實國家的何種功能？ (A)提供福利 (B)伸張正義 (C)保障安全 (D)維護人權。
- 政府在研擬某項政策之前，多會舉辦公聽會，廣納各方的意見，政策草案完成後，尚須經決議通過才能公布施行。上述做法，可以表現出民主政治中的那些內涵？ (A)政黨政治、民意政治 (B)法治政治、責任政治 (C)責任政治、政黨政治 (D)民意政治、法治政治。
- 艾克頓爵士曾說：「權力使人腐化，絕對的權力，帶來絕對的腐化。」為了避免權力過度集中所引發的濫權問題，應該以下列何種制度來因應？ (A)地方自治 (B)權力分立 (C)均權制度 (D)權能區分。
- 上公民課時，老師要同學們針對三權分立中的行政、立法與司法三權進行角色扮演。下列哪一位同學的臺詞內容完全正確？ (A)小新：「我代表司法權，審理訴訟案件是我的主要工作。」 (B)大義：「我代表司法權，代表民眾行使制定法律的工作。」 (C)承時：「我負責針對有疑義的法律進行解釋工作，是立法權的代表。」 (D)阿信：「我最主要的工作是為民服務，進行預算的審查與把關，是行政權的代表。」。
- 近年來，國內人士有意提案廢除我國監察院的呼聲日高，研究我國監察院的設立起源可知是依據孫文的「五權分立」學說而創立，理由是其認為若將監察權從下列何者獨立出來，可避免因權力過大而遭到濫用？ (A)行政權 (B)考試權 (C)立法權 (D)司法權。
- 新聞報導：「針對臺中市政府文化局長期未善盡監督管理責任，導致臺中兒童藝術館經營不善一案，監察院表示，已向該主管機關提案□□。」依據上文判斷，文中的□□應該是屬於何種職權？ (A)糾舉 (B)彈劾 (C)審判 (D)糾正。
- 我國曾發生監察委員任期屆滿而卸任以後，卻因總統提名的新任監察委員遲遲未獲通過，而使監察院的業務無法正常運作。監察委員的提名必須經過那一個機關的同意後，總統才能任命？ (A)行政院 (B)立法院 (C)司法院 (D)考試院。
- 一位正直優秀的員警在追捕煙毒犯時車禍身亡，家人悲痛、社會大眾不捨。該名員警身後留下年邁的母親與妻兒，政府表示將從優撫卹、照顧他的家人。上述撫卹事宜，屬於哪個政府機關的業務？ (A)考試院 (B)立法院 (C)監察院 (D)行政院。
- 立法院初審《公民投票法》修正案，降低公投門檻，但最敏感的領土變更案要不要納入公投適用範圍，國民黨突然表態支持。根據我國《憲法》及《憲法增修條文》的規定，「領土變更案」必須先由下列哪個機關提出？ (A)總統 (B)行政院 (C)立法院 (D)司法院。
- 在英國，若多數國會議員對內閣之政策或施政不滿，則通過不信任案，即可倒閣，迫使內閣總辭下臺，繼由能獲得國會多數支持的新領袖組織新內閣。我國哪些中央政府機關性質分別等同於英國的國會與內閣？ (A)法院、總統 (B)司法院、行政院 (C)立法院、行政院 (D)行政院、立法院。



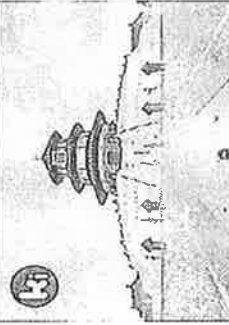



背面尚有試題，請翻面作答

17. 春秋戰國時期，思想開放、百家爭鳴。但從秦始皇到漢武帝，思想逐漸歸於統一。請問：從秦初到漢武帝，中國的思想是如何的變化？ (A)法家→道家→儒家 (B)道家→法家→儒家 (C)儒家→法家→道家 (D)法家→儒家→道家。
18. 夏、商、周三代各有特色，下列敘述何者正確？ (A)商朝是中國歷史上第一個家天下王朝 (B)根據「二里頭」遺址，可知周朝工藝技術頗高 (C)夏朝是封建王朝，實施「宗法制度」 (D)中國崇拜祖先的觀念從商代延續至今。
19. 秦漢帝國都致力於對外的開拓，對於中國疆土的拓展極有貢獻，請問：下列描述何者正確？ (A)秦始皇派兵征服匈奴，使之分裂為南、北兩部 (B)東漢光武帝時派遣張騫出使西域 (C)佛教經絲路由中國傳入大秦 (D)東漢和帝派兵攻打北匈奴，使其西遷。
20. 雅真研究春秋戰國諸子百家思想，發現墨家學說最與自己理念相符。下列何者最能夠反映墨家對他的影響？ (A)熱心參與各種反戰活動 (B)贊成政府以「嚴刑峻法」治國 (C)對一切事務順其自然，不強求 (D)強調人性本惡，須以「禮」教育。
21. 考古學家於西元 1929 年在中國某個地區挖掘出中國猿人的完整頭蓋骨，不久後又在同地區發現「山頂洞人」的遺骸。考古學家應是在右圖中的哪個地區發現上述考古遺骸？ (A)甲 (B)乙 (C)丙 (D)丁。
22. 三皇五帝是中國歷史傳說中的古代帝王，尤其是在當時推行的禪讓制度，更是今後人推崇。請問：下列古代君王中，何人跟禪讓制度完全無關？ (A)堯 (B)禹 (C)黃帝 (D)舜。
23. 春秋時代，齊桓公號召各諸侯「尊王攘夷」，共同抵禦四周戎狄的侵略，成為「春秋五霸」的首位霸主。請問：齊國所提出「尊王攘夷」口號中的「王」指的是何人？ (A)黃帝 (B)秦始皇 (C)西周天子 (D)東周天子。
24. 下列有關春秋戰國的敘述，何者正確？ (A)春秋時代，各國為了確保勢力，紛紛推行封建制度 (B)戰國時代，周天子地位更加無足輕重，各國紛紛稱王 (C)「晉」國既是春秋時期的霸主，也是戰國七雄之一 (D)秦穆公用張儀為相，推行變法，富國強兵。
25. 大雄與哆啦 A 夢搭乘時光機器到了中國秦代，親眼目睹大秦帝國的崛起。如果已經成為秦朝子民的大雄，走在街上不會看到下列哪一種景象？ (A)太學生們談論儒家思想、關心朝政 (B)姑娘用半兩錢買胭脂、水粉 (C)老闆使用小篆文字登記著當日盈餘 (D)鄰居家的男丁都被徵召去修築長城。
26. 表藝課時，八年七班同學策劃製作一部「河姆渡文化」的生活劇，描寫史前時代中國先民的生活。下列哪種劇情不應出現其中？ (A)人們在長江河畔清洗陶器 (B)村長集合大家到半穴居的房子中討論事務 (C)主角是個農夫，主要種植稻米 (D)將陶鼎放在火上，烹煮捕來的魚。
27. 在漢朝時期，漢武帝推動眾多措施，並且對後世造成深遠的影響。請問：下列何項措施並非由其推動？ (A)統一文字、貨幣、度量衡等文物制度 (B)創立「年號」制度 (C)實施鹽鐵酒專賣制度 (D)察舉制度選舉人才。
28. 歷史老師請同學分組報告「中國古代的科學發展」，晶文想以兩漢時期的醫學為題材，他應選擇下列哪一組人物？ (A)商鞅、張儀 (B)張衡、蔡倫 (C)司馬遷、班固 (D)張機、華佗。
29. 漢朝雖分為西漢與東漢，但在政治、文化發展上皆有非凡成就，影響後世深遠。然而到了後期兩朝皆遭遇相同困境。請問：下列何者是西漢、東漢後期的共同困境？ (A)平民起義 (B)群雄割據 (C)外戚干政 (D)宦官亂政。
30. 蘇秦是中國有名的布衣卿相代表，他以平民身分提出「合縱」策略，成為六個國家的宰相。此策略的目的是在團結六國，一同對抗當時強國。請問：合縱政策所要對抗的就是附圖中的哪一個國家？ (A)甲 (B)乙 (C)丙 (D)丁。
31. 現代我們常以「夢周公」說人打瞌睡，其實周公是西周初期的一位政治家，他輔助成王攝政，為周朝立下了重大功勳，後世尊他為先賢。請問：下列這些措施是周公的貢獻？(甲)改行郡縣制度(乙)建立禮樂制度(丙)營建東都雒邑(丁)建年號，尊儒術 (A)甲乙 (B)乙丙 (C)丙丁 (D)甲丁。
32. 司馬遷是西漢史學家，平日努力蒐集史料，經多年撰寫完成《史記》一書，為後世留下許多珍貴史料。今日學者不可能從《史記》中了解哪個歷史事件？ (A)秦始皇滅六國 (B)楚漢相爭經過 (C)班超經營西域 (D)盤庚遷都於殷。
33. 歷史課中，老師要各組同學上台發表對從西周到東周社會的轉變看法，甲組說：「西周的貨幣制度混亂，到了東周開始使用統一貨幣」，乙組說：「西周時土地皆為貴族所有，東周起平民也可買賣土地」，丙組說：「東周時，道家與儒家最受歡迎，並稱『顯學』」，丁組說：「東周時，因為戰亂繁多，工商業逐漸衰弱」。請問：只有哪一組的觀念正確？ (A)甲 (B)乙 (C)丙 (D)丁。

(下頁尚有地理科試題)

43.列車由圖中起點重慶駛向終點杜伊斯堡的過程中，下列何描述何者完全正確? (A)該列車由東半球行駛至西半球 (B)沿途會行經全中國水土流失最嚴重的高原 (C)該路線因全程海拔高，需防範高山症 (D)行經中國境內時，雨量越來越多、溫差加大

★旅行蛙蛙這次來到了中國，這是牠沿途拍的照片，請回答下列問題：

第一站--香港維多利亞港	第二站--上海外灘	第三站--北京天壇
		
第四站- 甘肅敦煌月牙泉	第五站--拉薩-布達拉宮	第六站--廣西桂林灘江
		

44.蛙蛙在旅途中雖然沒有感冒，卻在到達某一站後出現噁心、嘔吐、全身無力、頭昏又頭重腳輕的高山症症狀，他最可能是抵達哪一站? (A)第一站 (B)第二站 (C)第五站 (D)第六站

45.請參考右圖代號，蛙蛙這次在中國旅行的路線順序應為下列何者? (A)甲乙丙丁戊己 (B)己戊丙丁乙甲 (C)己戊丙甲乙丁 (D)甲乙丙丁己戊

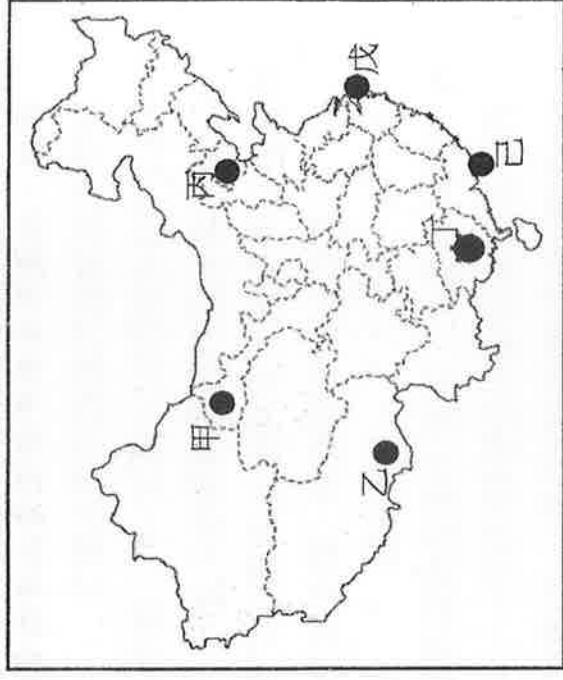
46.關於蛙蛙這次的旅行，下列描述何者有誤?

(A)中國地勢三大階梯蛙蛙都有經過

(B)這次旅程中，蛙蛙的手錶都不用調整時間

(C)由第一站到第三站，蛙蛙感受到的地形起伏是最小的

(D)蛙蛙的旅程一共遊歷了中國的三個直轄市



★以下為中國地形區的順口溜，請閱讀完後，回答問題！

「青藏高原有雪山，遠看是山近成川。內蒙古原第二大，一望無際地面坦。

黃土高原黃土鬆，A。雲貴高原峰巒眾，岩溶壩子到處看。

準噶、塔里、柴達木，盆地內光壁灘。四川盆地山嶺環，內有成都像把扇。

三大平原東向西，華北東北長江岸。」

47.此順口溜描寫的都是中國各地形特色，依此推斷，「黃土高原黃土鬆」的下一句 A 應該填入哪段文字最合適? (A)山環水繞面積廣 (B)支離破碎多溝坎 (C)山河縱橫阻交通 (D)石頭長到雲天外

48.「雲貴高原峰嶺眾，岩溶壩子到處看」，這句話在形容的是雲貴地區的哪種著名地形? (A)石灰岩地形 (B)火山地形 (C)冰河地形 (D)梯田地形

49.「四川盆地山嶺環」的地形特色，導致當地在昔日出現何種適應環境的傳統交通方式? (A)羊皮筏 (B)犂牛 (C)棧道 (D)溜索

50.世雅發現順口溜中最後一段有錯誤，於是畫了底線做記號，請問要如何修正成正確的句子? (A)三大平原北向南，東北華北長江岸 (B)三大平原北向南，華北東北長江岸 (C)三大平原南向北，東北華北長江岸 (D)三大平原南向北，長江東北黃河岸

34.右圖為根據真人真事改編的公益電影《走路上學》的海報，此片講述生活在怒江邊上的瓦娃和娜香姊姊，為了到江對面的學校上學，不得不每天命懸一線用圖片上的方式過江，請問此片最有可能拍攝於下列哪個地區？

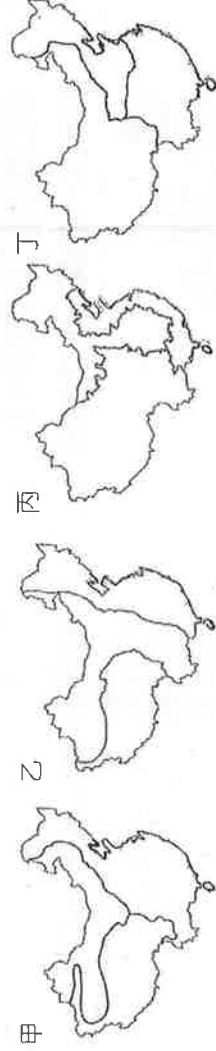


(A)四川盆地 (B)青藏高原 (C)東南丘陵 (D)橫斷山脈

35.隨著美國於 2019/8/21 批准軍售臺灣 F-16V 戰機，中國外交部除表達抗議外，更將在 8/27 舉行軍演。右下圖是中國軍演的示意圖，請問軍演範圍位於中國的哪一個緣海？(A)東海 (B)南海 (C)黃海 (D)北海



36.涵涵想要以「經濟發展情況」為原則，繪製中國的地理分區圖，請問下列哪一張圖會是成品？(A) 甲 (B)乙 (C) 丙 (D)丁



37.阿成看到雜誌上介紹中國某地區的特色料理：「馬介休球可說是當地必點

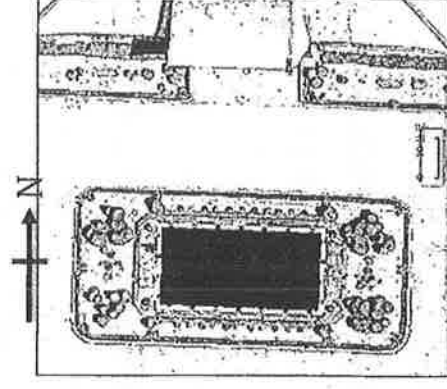
菜式，當時因為航海的緣故，許多易腐壞的食材會用醃漬的方式延長保存期限，馬介休就是醃漬的深海鱈魚，也是天主教平安夜齋戒時的食物。這是一道老少咸宜的菜式，也幾乎是葡萄牙料理的入門。」請問關於此地區的敘述何者正確？

(A)這裡是中國的自治區之一 (B)目前當地因反送中議題而成為國際焦點

(C)博彩業為當地經濟重要收入之一 (D)這裡位於長江出海口

38.英慈從衛星圖上發現臺北市國父紀念館前方水池的形狀酷似手機，如右圖所示。下列哪些山脈的走向，與水池長軸的走向最為接近：甲、秦嶺；乙、太行山；丙、天山；丁、大興安嶺？ (A)甲丙 (B)乙丁 (C)乙丙 (D)甲丁

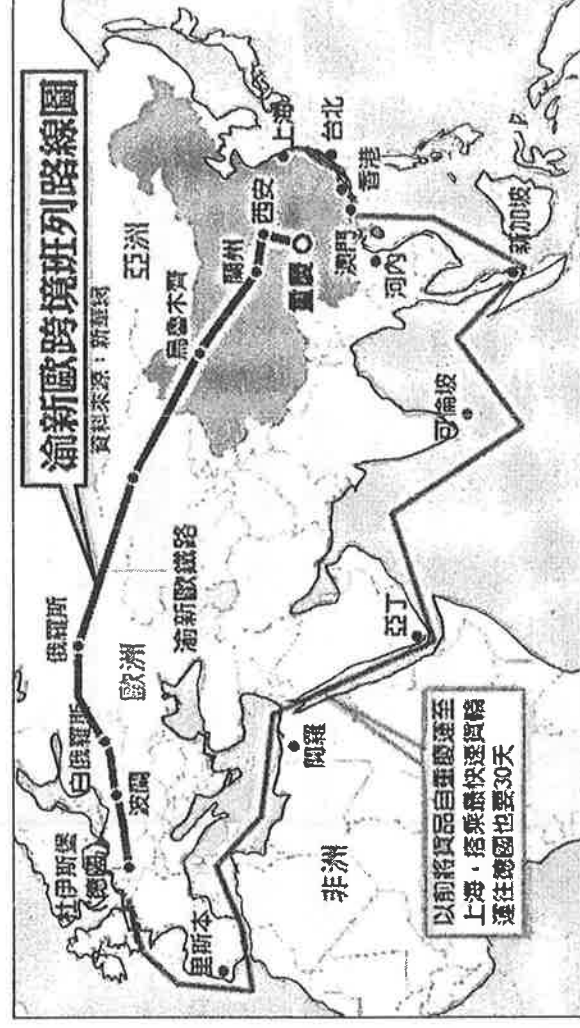
39.中國幅員廣大，涵蓋多樣氣候與各種地形，呈現多元的自然景觀帶分布。下列哪個經度沿線的地形起伏較小、大多位於第三級階梯？



(A)東經 75 度 (B)東經 90 度 (C)東經 105 度 (D)東經 120 度

★網路上曾流傳一句話「全世界 3 台筆記型電腦有 1 台產自重慶」。這些電腦很大一部分搭著『渝新歐』班列，從重慶出發，經西安、蘭州、烏魯木齊，到達位於甲的邊境口岸-阿拉山口，再經哈薩克、俄

羅斯、白俄羅斯、波蘭，至德國的杜伊斯堡，走向全球千家萬戶。此通道全長 11179 公里，昔日海運需要 30 多天才能到歐洲，而今日僅需 13 天。藉由該路線的開通，中國改變了世界物流格局，使得重慶成為物流中心。請問：



40.文中的甲應填入下列何選項？(A)內蒙古自治區 (B)西藏自治區 (C)寧夏回族自治區 (D)新疆維吾爾自治區

41.由圖中路線來看，「渝新歐」班列在中國境內主要經過下列哪一地形階梯呢？

(A)第一級階梯 (B)第二級階梯 (C)第三級階梯

42.依圖中資料判斷，該路線所經過的中國大陸上鄰國可能包括下列哪一國家？

(A)哈薩克 (B)蒙古 (C)北韓 (D)印度