

## 台中市三光國中一〇八學年度第一學期第一次定期評量九年級社會科試卷(第一頁)

### 選擇題：1-50 題每題 2 分

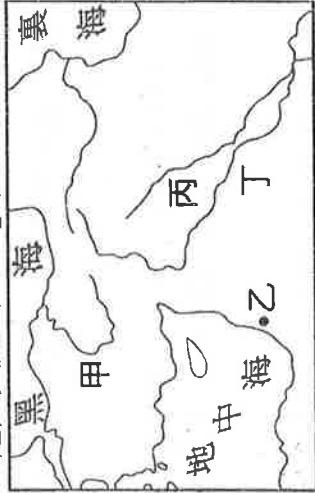
1. 對夏威夷的居民來說，陽光與海水是免費的，但是觀光客就必須花時間、精力、金錢才能去那邊度假。依此敘述判斷，陽光與海水對夏威夷的居民來說是屬於下列何者？ (A)生產財 (B)資本財 (C)自由財 (D)經濟財。
2. 資源的「稀少性」，在經濟學上是指什麼意思？ (A)人類的欲望有限而資源的數量無窮 (B)在現實生活中使用每樣東西都要付錢 (C)貧窮的人沒有錢，所以不能使用資源 (D)資源的數量相對於人類的欲望而言是不足的。
3. 今年大學畢業的塔巴，找到三份工作，甲工作月薪 26,000 元，乙工作月薪 24,000 元，丙工作月薪 22,000 元，塔巴最後決定選擇丙工作。請問塔巴選擇此項工作的機會成本是下列何者？ (A)26,000 元 (B)24,000 元 (C)22,000 元 (D)44,000 元。
4. 玲玲生日，白鹿請假沒去兼家教(家教費 1,200 元)，兩人看電影 580 元，吃牛排 1,400 元，去 PUB 跳舞花了 2,000 元，以上花費全部由白鹿支付。白鹿為玲玲過生日的機會成本是多少元？ (A)1,200 元 (B)2,000 元 (C)3,980 元 (D)5,180 元。
5. 哈吉貝自己開的冷飲店，推出「紅茶特價一杯 10 元」、「飲料買四送一」的活動，結果讓冷飲大賣。這顯示著「消費行為」受到何種因素的影響？ (A)商品的價格 (B)所得的增加 (C)偏好的改變 (D)產品的成本。
6. 新聞報導：「國際紙漿大漲，為了反映成本，各賣場決定下個月起調高定價至少 50%。」米塔一聽到這個消息，趕緊去購買了許多衛生紙存放。根據上述判斷，影響米塔消費行為的主要因素為下列何者？ (A)商品降價 (B)預期心理 (C)所得水準提高 (D)消費者偏好。
7. 在其他條件不變的情況下，商品的需求量與其價格間通常是呈現反向變動關係，但也有例外情形。下列哪種現象即符合上述的例外情形？ (A)周年慶消費滿 5,000 送 500 (B)麻辣雞排買五送一 (C)情人餐兩人同行一人免費 (D)鑽石恆久遠，一顆永流傳。
8. 「消基會抽檢市售標榜臺製之蔓越莓乾，發現其蔓越莓乾並非全由臺灣製造，而是摻雜了中國的劣質果乾，業者的製造標籤讓民眾誤以為全由臺灣製造，涉及廣告內容不實，若認定違法，還可罰鍰。」上述中提及的「違法」，是指何項法律？ (A)《民法》 (B)《刑法》 (C)《公平交易法》 (D)《消費者保護法》。
9. 「得來速」的車道購物服務，免除消費者停車的麻煩，是一個方便現代人購物的窗口。下列何者是得來速車道提供產品中，係屬於「無形的勞務」？ (A)服務員的笑容與問候 (B)薯條、漢堡、麥克雞塊 (C)兒童餐的免費玩具 (D)免費升級大杯的飲料。
10. 電影「功夫 2」上映，吸引許多民眾前往觀賞。若以「生產要素的種類」來看，下列何者是製作該影片所投入的「資本」？ (A)擔任演出的演員 (B)拍攝影片的攝影機與燈光組 (C)拍攝現場附近圍觀的居民 (D)主導影片的導演。
11. 巨子新能源公司舉行新產品發表會，該公司宣布，已開發出全球太陽能能界最大的 G8（第八代）多晶硅錠，單顆投爐量可達 2,000 公斤，轉換效率可達 18% 以上的業界水準。依據上文判斷，這最能彰顯何種生產要素？ (A)自然資源 (B)人力資源 (C)資本 (D)企業才能。
12. 每年的兒童節，各大遊樂園都會推出兒童好康優惠活動，以吸引更多遊客。上述遊樂園的做法，符合生產選擇中的何項課題？ (A)生產什麼 (B)如何生產 (C)為誰生產 (D)如何推銷。
13. 對於生產者而言，當成本不變而商品價格愈高，利潤相對也會提高，所以生產者對於各種產品供給的數量與商品價格間會成正比關係，此即「供給法則」。下列何者符合「供給法則」的現象？ (A)家電業者推出「買家電、送小家電」的活動 (B)節能減碳風潮起，業者增加自行車生產數量 (C)有價無市！市中心頂級豪宅乏人問津 (D)百貨公司改裝拍賣，服飾特價出清。
14. 生產者創造最大利潤的方法除了減少「生產成本」外，還有增加銷貨收入，下列那一種方法主要目的就是「增加銷貨收入」？ (A)減少員工人數 (B)提供網路訂單服務 (C)到國外尋找便宜的原料 (D)使用自有資金投資生產。
15. 楊柳是廣告公司的財務主管，由於同業競爭激烈，公司只好削價競爭。為了降低成本，他提出幾項建議，提供老闆參考。其中哪一項建議值得採納？ (A)增聘業務助理 (B)贊助公益活動 (C)聘請名模為產品代言 (D)搬遷辦公室節省租金。
16. 在學校園遊會中，琵琶班上共賣出 25 元冰淇淋 70 個，15 元汽水 90 瓶，但需支付 1300 元的材料成本費，則當天琵琶班上所得利潤為多少錢？ (A)1,750 元 (B)1350 元 (C)3100 元 (D)1800 元。

背面尚有試題，請翻面作答

17. 下列關於西亞文明的敘述，何者為真？

- (A) 波斯人創立一週七天的制度 (B) 腓尼基人擅長使用鐵器 (C) 蘇美人發明象形文字 (D) 巴比倫人編訂《漢摩拉比法典》

18. 《人類的故事》書中有以下敘述：「他們是群最早使用鐵器的人，他們曾入侵這片肥沃的土地，並毀掉所有文明，直到亞述人興起為止。」他們來自於附圖中何處？



- (A) 甲區 (B) 乙區 (C) 丙區 (D) 丁區

19. 有關埃及的名詞解釋，下列何者正確？

- (A) 木乃伊：埃及人相信人死後會復活的具體呈現 (B) 法老：埃及社會中德高望重的長老們 (C) 金字塔：國王的雄偉皇宮 (D) 太陽神：象徵生命周而復始，不死力量的來源

20. 埃及文明可以分為三個時期，分別是：古王國、中王國與新王國。請問：下列哪一時期的版圖最為遼闊？

- (A) 古王國 (B) 新王國 (C) 中王國前期 (D) 中王國後期

21. 文化內涵分為三個層次，宗教信仰屬於理念層次。若要探究婆羅門教的信仰，應該先了解其核心理念。請問：下列何者是婆羅門教的理念？

- (A) 超脫輪迴之苦 (B) 靈魂輪迴 (C) 信仰唯一真神耶和華 (D) 善神終將打敗惡神
22. 西元四世紀時，哪個宗教融合佛教、婆羅門教及各種民間信仰內涵，發展迄今成為印度境內信仰人口最多的宗教？

- (A) 吠教 (B) 道教 (C) 天主教 (D) 印度教

23. 希臘城邦擊敗波斯帝國之後，因為陷入內戰、削弱了團結力，導致後來被哪一個王國給征服了？

- (A) 馬其頓 (B) 波斯 (C) 羅馬 (D) 日耳曼

24. 雅典與斯巴達皆為希臘城邦的代表，附表為兩者之比較，何者正確？

	雅典	斯巴達
(甲) 民主政治	嚴密控制	
(乙) 無個人自由	熱愛自由	
(丙) 專制體制	民主憲政	
(丁) 接受軍事訓練	可參與公共事務	

- (A) 甲 (B) 乙 (C) 丙 (D) 丁

25. 下列何者最能代表希臘化文化的特色？

- (A) 藝術表現均衡、對稱、和諧之美 (B) 推行拉丁文與法律，建築堅固的公共建設 (C) 科學研究成果豐碩 (D) 神話充滿靈魂轉世與因果報應的觀念

26. 下列何者不屬於希臘文化的成就？

- (A) 雅典的帕德嫩神廟 (B) 希羅多德的《歷史》 (C) 歐幾里德的《幾何原本》 (D) 荷馬的《伊里亞德》

27. 基督教建立後，經常受到壓迫，然而自從成為羅馬帝國國教以後，也開始壓迫異教徒。請問：自哪位皇帝後，基督教成為羅馬帝國的國教？

- (A) 君士坦丁 (B) 凱撒 (C) 屋大維 (D) 狄奧多西

28. 古羅馬歷史中，曾有一段兩百多年的安定時期，史稱「羅馬和平」。請問：「羅馬和平」屬於羅馬的哪一個時代？

- (A) 王政時代 (B) 共和時代 (C) 帝國時代 (D) 城邦時代

29. 歷史課時，老師要甲、乙、丙、丁四人分別針對羅馬文明的歷史發表提出各自的看法，四人中何人的觀點正確？

- (A) 甲生：羅馬文明在政治發展上，經歷了王政、共和與帝國三個階段 (B) 乙生：共和時期的政治事務由執政官決定，元老院無實質的權力 (C) 丙生：羅馬帝國的開創者為凱撒 (D) 丁生：西羅馬帝國最後是被土耳其人所消滅

30. 關於希臘羅馬文明的敘述，下列何者為真？

- (A) 亞歷山大帝國與羅馬帝國都曾占領西班牙半島 (B) 亞歷山大大帝政績卓越，在羅馬建立新都 (C) 凱撒遭暗殺後，由屋大維繼起掌權 (D) 狄奧多西在位時期，被後代史家稱為「羅馬和平」

31. 日本爭取到 2020 年奧運的主辦權，主辦國除了可藉由國際賽事增加觀光消費成長，又可提高城市的透明度。請問：奧運最初的性質為何？

- (A) 運動賽事 (B) 祭神慶典 (C) 新年慶祝 (D) 民間娛樂

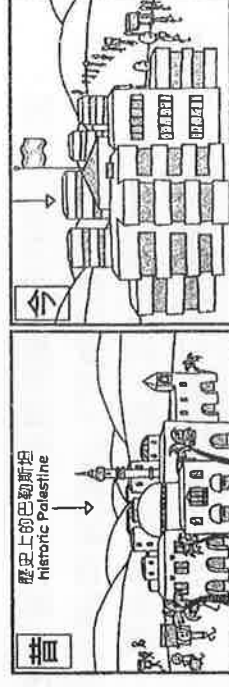
32. 基督教能夠不斷向各地傳播，逐漸成為世界性的重要宗教，與其成為哪個國家的國教有密切關係？

- (A) 羅馬帝國 (B) 波斯帝國 (C) 亞歷山大帝國 (D) 阿拉伯帝國

33. 下列何者不是古代印度社會的特色？

- (A) 職業世襲 (B) 階級不平等 (C) 不同種姓不能通婚 (D) 貴族武士地位最高

34. 右列圖片說明原先流亡於各地的某一民族，在二戰後回到巴勒斯坦地區建國，反而造成了另外一群難民。根據資訊判斷回到此地建國的民族，下列哪一敘述正確無誤？



- (A)此建國的民族為庫德族 (B)此民族建立的國家為以色列  
(C)此國為波斯灣沿岸國家 (D)此民族宗教信仰為伊斯蘭教

35. 近來，西亞戰亂造成大量的難民向歐洲湧入，進而造成歐盟會員國間意見分歧，右圖為來自敘利亞難民的偷渡路線，難民通常走陸路到了甲國後，再經由海路到達丙區或丁區。請問：下列對圖中國家、地區及海域的配對，何者正確？



- (A)甲－哈薩克 (B)乙－波羅的海 (C)丙－伊比利半島 (D)丁－義大利半島

36. 某國於 2018 年 10 月 29 日建國 95 周年當天，在該國橫跨歐、亞兩洲的重要城市揭幕了嶄新的機場，此座機場分 4 個建造階段，計畫於 2028 年全面完工。2019 年 4 月，從原先的舊機場搬遷至新機場，宣告這座新機場正式營運。請問：上



文所指的某國應為哪一國家？(A)土耳其 (B)以色列 (C)伊拉克 (D)阿拉伯聯合大公國

37. 右圖為西亞的時事諷刺漫畫，探討兩地水源分配不平等的問題。當地民眾表示：「他們家的水龍頭已經 2 個月沒流出一滴水……」，這個景象在每個巴勒斯坦家庭上演，因為根據 1995 年奧斯陸協議，         西岸 8 成的水資源都給了         ，這裡的

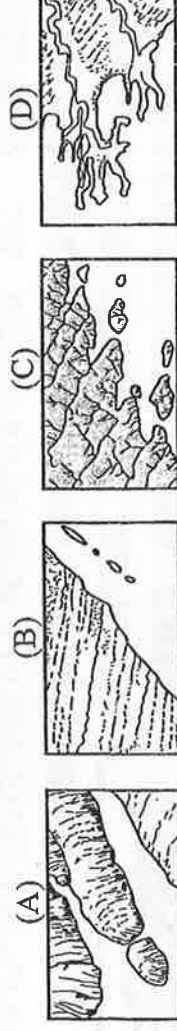
巴勒斯坦城鎮只能靠稀少的自然水源，以及          的自來水廠供給飲用水，但最近水越來越少。請問上述          及          指的應是哪條河流及哪一國家？(A)錫爾河，哈薩克 (B)約旦河，以色列 (C)阿母河，伊拉克 (D)底格里斯河，土耳其



#### 【題組 38-44】

※右列為歐洲分區簡圖，請根據圖中代號回答問題。請問：

38. 「甲區」沿海主要的海岸形態，為下列何圖所示？



39. 「維蘇威火山是歐洲大陸唯一的活火山，公元 79 年時大爆發，導致龐貝城被大量火山灰掩埋。有科學家擔心，火山近期內又會發生和當年同樣規模的噴發，為確保居住在火山口附近的居民安危，義大利各區政府於今年六月中共同簽署一份緊急疏散計畫協議，一旦火山爆發，在維蘇威火山周圍的城市及拿坡里 Campi Flegrei 火山周圍 7 城市的居民，均可疏散至義大利各地。」請問：上文所述的火山活動，位於圖中哪一分區？(A)甲 (B)乙 (C)丙 (D)丁



40. 歐元為歐洲主要的通用貨幣，硬幣一面設計相同，另一面由各國依國家特色自行設計，右列硬幣上的圖案為歐洲某地一種常見的漿果，它主要生長在北極圈聖誕老人村座落的地區。請問：該硬幣最有可能來自圖中哪個分區的國家？(A)甲 (B)乙 (C)丙 (D)丁

41. 鋼鐵人若由乙區搬至丁區居住，會感受到哪些氣候變化？(甲)年雨量漸減 (乙)降雨日數增加

(丙)年溫差變小 (丁)冬季溫度降低 (A)甲丙 (B)乙丙 (C)丙丁 (D)甲丁

42. 丙區與丁區間有山脈橫亙，但卻未構成兩區往來的阻礙，主要原因為何？

- (A)山脈的海拔高度不高 (B)冰蝕谷地成交通孔道 (C)斷層陷落成通行道路  
(D)河蝕峽谷利於河運往來

43. 右列漫畫說明某一事件以來，因前景不明導致許多跨國企業計畫將位於倫敦的歐洲總部，遷移至歐洲其他城市，德國法蘭克福或法國巴黎等城市，均冀望能取代倫敦成為歐洲金融中心。請問上述的某一事件為何？(A)英國脫歐  
(B)難民入歐 (C)中美貿易戰 (D)北韓軍演



44. 歐洲全境無沙漠分布，與下列哪項因素的關聯性最小？(A)西風吹拂 (B)冰河發達 (C)山脈走向 (D)地勢平坦

#### 【題組 45-48】

※右圖為某一湖泊於 1989 年與 2014 年的衛星影像變化圖，此湖曾名列世界第四大內陸湖泊，但由於前蘇聯的引水灌溉工程，造成水位下降，曾經產量豐富的漁業資源也隨之減少。如今，湖泊面積只有原來的十分之一，甚至還被一分為二。湖泊北部，位於哈薩克境內，該國於 2005 年完成建造科卡拉爾 (Kokaral) 大壩後，成功增加了湖泊深度及面積，也挽救了當地的漁業。另一方面，位於烏茲別克境內的湖泊南部，則因該國財政緊縮、農業用水的需求，水位仍在不斷下降

，甚至於 2014 年，湖泊東岸 600 年來首次乾涸。兩國不同的因應措施，造成同一湖泊南北兩種不同命運的演變。請問：

45. 文中所敘述的湖泊為何？(A)鹹海 (B)裏海 (C)黑海 (D)死海  
 46. 烏茲別克的用水需求，最主要用來耕作哪一作物？(A)茶葉 (B)甘蔗 (C)水稻 (D)棉花  
 47. 此湖泊面積縮減除了造成漁業資源減少外，還造成當地哪一環境生態衝擊？  
 (A)地層下陷 (B)土壤鹽鹼化 (C)水土流失 (D)森林銳減  
 48. 下列哪一敘述，最有可能是本區的氣候特徵？(A)副熱帶高壓籠罩，終年乾燥少雨  
 (B)位於西風背風側，雨量稀少 (C)距海遙遠，年、日溫差均大 (D)行星風系季移，造成夏乾冬雨

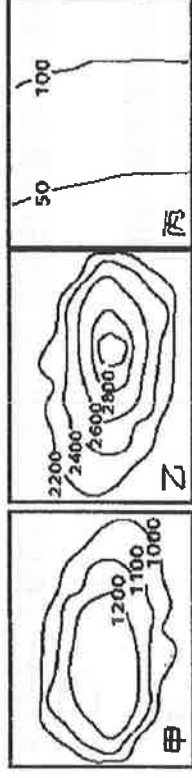
#### 【題組 49-52】

※右圖為南亞國家簡圖，請根據圖中代號回答問題。請問：

49. 右列圖片為南亞地區某國的國徽，圖中央為國花睡蓮，下方波浪象徵當地河道縱橫、地勢低窪的地理環境，而上方的黃麻為當地主要的經濟作物，兩旁的作物則是稻穗。根據上文的線索判斷，該國為右圖中的哪一國家？(A)甲 (B)乙 (C)戊 (D)己



50. 麵包老師若乘坐飛機飛越本區進行地理實察，飛行路線如圖所示，請問飛行過程看到的地形主體，其等高線依序為何？(A)甲→乙→丙 (B)甲→丙→乙 (C)乙→甲→丙 (D)丙→甲→乙



51. 承上題，下列哪一敘述最有可能出現於麵包老師在「乙國」實查時所做的實察紀錄？(A)信眾前往聖河-恆河洗滌罪惡

(B)六月是最涼爽舒適的旅遊季節 (C)全球暖化造成島嶼國土淹沒危機 (D)傳統的種姓制度讓社會財富平均分配

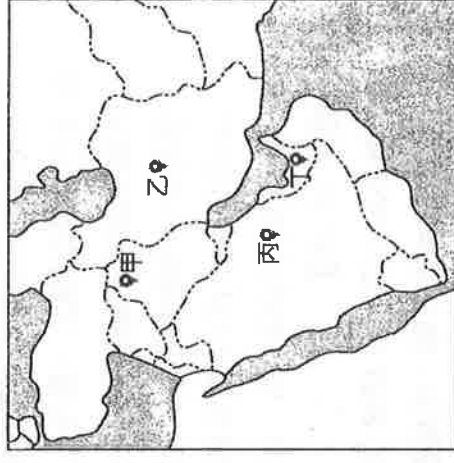
52. 南亞為世界重要的紅茶產地，右列圖片為南亞某國所生產的紅茶包裝標示，該國所生產的茶葉仍以古名「錫蘭 Ceylon」行銷全世界，只要是當地生產的純正紅茶，包裝上就會有這個當地茶葉公會認可的獅子標誌。該國做為世界第三大的茶葉出產國，雖然只占世界總產量的 9%，不過缺供應全世界 19% 的茶葉市場需求。請問根據上文所述，下列哪一選項的敘述正確無誤？(A)此國為圖中「己國」(B)茶葉生產與該國曾受法國殖民有關 (C)茶葉生產地多位於此國沿海平原 (D)此為馬爾地夫所生產的茶葉標示



#### 【題組 52-55】

- ※2019 年 9 月 14 日清晨，全球石油龍頭—沙烏地阿拉伯的兩座重要的石油設施，遭到 10 架無人機空襲，巨大的爆炸重創了位於沙國東部省的阿布蓋格煉油中心 (Abqaiq) 與胡萊斯油田 (Khurais)，並癱瘓沙國近半、平均每日超過 500 萬桶的石油輸出量，也衝擊了全球 5% 的供油。沙國官方不願公布油田受創的詳細狀況，也還未表態要向哪一方究責，目前只專注在滅火和消除外界對缺油的恐慌。沙國石油公司表示，他們的儲油量充足，將會釋出儲油來填補短缺，直到再度恢復產油為止。另外，沙國也計畫向 組織方面提出臨時會議的申請，希望能藉此拜託其他組織成員國「調高生產量」，以填補沙國產能中斷的緊急缺口。但此一事件，仍造成國際市場的恐慌情緒，讓油價創下了 1991 年第一次波灣戰爭以後、近 30 年來的最大單日漲幅。請問：

53. 文中所提的遭空襲受創石油設施，應是位於右圖哪個位置？(A)甲 (B)乙 (C)丙 (D)丁  
 54. 關於文中提及的 組織，下列哪一敘述正確無誤？(A)此組織為 APEC (B)主要成員國為歐洲國家 (C)成立目的為會員國間的貿易互惠合作 (D)成員國多位於波斯灣沿岸  
 55. 無人機在沙國境內飛行經過的地表景觀，最有可能出現下列哪一景色？(A)連綿的咖啡莊園 (B)黃沙滾滾的沙漠 (C)廣闊的橄欖樹叢 (D)雄偉壯麗的冰蝕谷地



【試題到此結束，請仔細檢查!!】

※第 1~45 題，每題兩分，第 46~55 題，每題一分，總分 100 分