

選擇題：1-50 題每題 2 分

1. 來自印尼的汪慧玲，是我國首位考取移民署的新住民。關於她的身分與擁有的權利，下列何者錯誤？ (A)可參加國家考試，顯示她已達法定年齡 (B)在移民署任職，是在行使她的參政權 (C)她應已透過歸化的程序取得我國國籍 (D)在權利上屬於公民，但不具國民資格。
2. 憲彰和英真夫妻開心的談論，英真：「我們終於收養到孩子了！」，憲彰：「雖然他也在外國出生，但我們可以幫助他盡快適應台灣的生活。」他們的孩子是採取何種途徑獲得我國國籍？ (A)天生取得 (B)歸化取得 (C)血統原則 (D)出生地原則。
3. 下列四人中，何人的資格敘述符合取得我國國籍的規定？ (A)父母為外籍人士，來臺灣旅遊時早產的莉美 (B)父母均為我國國民，在美國出生的小莊 (C)剛和我國籍男子新婚的韓國女子庭瑜 (D)申請到台中念大學的留學生淑慧。
4. 電視劇《我們與惡的距離》熱映，引發民眾對於許多社會議題的熱烈討論，其中包括民眾對精障者既定的刻板印象，導致排擠他們，使他們不能平等享有基本權利。在現實生活中衛山基金會經常在許多場合為精障者發聲，希望社會給予公平對待。請問：該基金會的作為是在實現現代公民應具備的何項德性？ (A)理性思考批判 (B)和平尊重包容 (C)遵守法律規範 (D)捍衛公平正義。
5. 依據法律的相關規定，人民如具有某國國籍，就是該國的國民。下列敘述何者最足以判斷他是中華民國國民？ (A)「我在三光國中擔任外師教英文。」 (B)「我的大學學生證號碼是 1080150。」 (C)「明年總統選舉時，我有投票權。」 (D)「我居住在台中，就讀高職一年級。」
6. 住在台中市昨天剛慶祝 18 歲生日的語宣，今天和 23 歲的哥哥一起到投開票所，打算行使他人生第一次參政權。哥哥告訴他，這次的地方自治選舉，包括里長、市長以及市議員，合併公投一共有 10 案，因此要他行前先做好功課，弄清楚所有議題的意涵，不要僅聽信網路上的懶人包，這樣會失去自己的價值判斷。請問：語宣此次共可領取幾張選票？ (A)10 張 (B)11 張 (C)12 張 (D)13 張。
7. 承上題，語宣積極地親身前往投下神聖的一票，展現了現代公民應具備的何項基本德性？ (A)參與公共事務 (B)遵守法律規範 (C)理性思考批判 (D)捍衛公平正義。
8. 承上題，哥哥要語宣自己做好功課，不要人云亦云，是希望他有現代公民應具備的何項基本德性？ (A)參與公共事務 (B)遵守法律規範 (C)理性思考批判 (D)和平尊重包容。
9. 下列說明的內容及其配對的權利種類，何者正確？ (A)學校辦理營養午餐，有專業的營養師為我們的飲食健康把關——受保護權 (B)學校辦理反霸凌宣導，提醒同學要懂得保護自己——發展權 (C)利用下課時間跟同學一起遊戲、打球——參與權 (D)學校有專業的護理師，並且設有保健室，如果不小心受傷，可請護理師協助處理——生存權。
10. 對於班會，下列說明何者正確？ (A)是培養學生日後參與公眾事務的意願及處理能力很重要的課程 (B)對於議題進行中發生程序錯誤，可提權宜問題 (C)導師維持會場秩序，主席主持表決 (D)會議中小海和小凱在一旁玩手机遊戲嬉笑吵鬧，同學可以提出秩序問題。
11. 依照我國《國民教育法》的規定，受國民教育的年齡層為下列何者？ (A)7 歲至 15 歲 (B)6 歲至 15 歲 (C)6 歲至 18 歲 (D)7 歲至 18 歲。
12. 下列哪一事件屬於人民權利的行使？ (A)長榮空姐依法罷工爭取工作福利 (B)警察率拖吊大隊將違規停放的車輛拖吊 (C)法官依法判處犯罪者無期徒刑 (D)為確保消防救災，建設局拆除違章建築。
13. 在學校若遇到性騷擾事件時，被害人或其父母、檢舉人等，可向校內哪一個單位提出申訴？ (A)輔導室 (B)校長室 (C)學務處 (D)教務處。
14. 三光國中開辦多種全校性社團、一般性社團，讓學生可以依自己的興趣選擇參加，以協助學生適性發展。請問：三光國中為學生規畫多元課程，是對學生何項權利的保障？ (A)生存權 (B)發展權 (C)受保護權 (D)參與權。
15. 三光國中某班進行班會時，突然發生地震，此時主席彥忠該如何因應？ (A)處理王晨提出的秩序問題，由老師裁示是否避難 (B)處理凡雲提出的權宜問題，進行表決決定是否避難 (C)處理文萱提出的權宜問題，由主席裁示避難 (D)處理友橋提出的秩序問題，進行表決決定是否避難。
16. 某男子搭乘公車時，趁機觸摸身旁女子的左胸，臺北地方法院判該男子 3 個月徒刑，可易科罰金。請問：上述案例中，法官應該是依照下列何法而做出判決？ (A)《性別平等教育法》 (B)《性別工作平等法》 (C)《民法》 (D)《性騷擾防治法》。

17. 附圖是臺灣史前文化中出土的物品。若依照文化的演變來看，圖中三項文物出現的時間順序為何？

(甲)人面陶罐

(丙)玻璃手環



(A)乙甲丙 (B)乙丙甲 (C)甲乙丙 (D)甲丙乙

18. 臺灣大約在四百年前從史前時代進入了歷史時代，是因為下列哪一項文明的出現？ (A)陶器 (B)鐵器 (C)文字

(D)農耕

19. 大約七千年前，臺灣進入新石器時代，新石器時代人類生活的共同特徵為：磨製石器、燒製陶器、飼養家畜，以及農業的出現。請問：下列哪些遺址是新石器時期的代表？(甲)大坌坑文化(乙)長濱文化(丙)圓山文化(丁)卑南文化(戊)十三行文化

(A)甲乙丙 (B)甲丙丁 (C)乙丙丁 (D)丙丁戊

20. 下表是某一組織的重要事件整理，根據內容判斷，下列何者最適合放入表中的「？」處？

重要事件
1. 成立於十七世紀初
2. ？
3. 曾在台灣、南非好望角建殖民地
4. 在日本鎖國時期，獲准與日本貿易

(A)從印度輸出大量瓷器販賣至中國 (B)以白銀吸引中國商人至馬尼拉交易 (C)以澳門為據點，推動亞洲傳教事業

(D)設亞洲總部於巴達維亞，統籌經營

21. 中華民國總統府前面的馬路，是為了紀念原本在臺北盆地居住、活動的哪一個平埔族而命名？ (A)西拉雅族 (B)道卡斯族 (C)噶瑪蘭族 (D)凱達格蘭族

22. 臺灣歷史上的大航海時期，介於哪兩個時期之間？ (A)史前時代、清帝國時期 (B)鄭氏時期、清帝國時期 (C)清帝國時期、日治時期 (D)鄭氏時期、日治時期

23. 臺灣是 17 世紀漢人、日本人、荷蘭人、西班牙人等在東亞地區進行貿易的重要據點，當時台灣會扮演這種角色的原因，主要是具備了下列哪一項優越的地理條件？ (A)位置優越 (B)自然資源豐富 (C)氣候適合 (D)人口多

24. 16 世紀末，明朝為了防止日本人騷擾東南沿海地區，派兵進駐澎湖，此項政策所造成的影響為何？ (A)導致澎湖的貿易絡繹不絕 (B)臺灣本島取代澎湖成為海商的活動場所 (C)日本趁機占領臺灣本島 (D)臺灣因此變成倭寇的大本營

25. 明代所實施的海禁政策，使得東南沿海貿易幾乎停頓，進而迫使沿海居民成為海商，在臺灣海峽一帶從事走私貿易。在明末的海商中，何人曾大規模在福建招募漢人進入雲林、嘉義一帶開墾，奠定漢人在臺拓墾事業的基礎？ (A)施琅

(B)沈有容 (C)鄭芝龍 (D)鄭成功

26. 地理大發現後，許多西方國家紛紛東來，其中 17 世紀時首先在台灣安平登陸且築城的是下列哪一國人？ (A)西班牙人 (B)荷蘭人 (C)葡萄牙人 (D)英國人

27. 以下古今地名之對照，何者有誤？ (A)熱蘭遮城—安平古堡 (B)普羅民遮城—赤崁樓 (C)大員—台南 (D)蛤仔

難—淡水

28. 南島語系是現今世界唯一主要分布在島嶼上的一個語系。下列哪一地區不屬於「南島語族」的分布區？ (A)紐西蘭

(B)菲律賓

(C)印度 (D)復活節島

29. 關於荷治時期與鄭氏時期之比較，下列何者錯誤？ (A)主要輸出貨品都是蔗糖、鹿皮 (B)都曾引起當地漢人的反抗 (C)在國際貿易方面都很成功 (D)主要經營地區都在臺灣南部

30. 16、17 世紀隨著新航路的發現，歐洲各國紛紛在東方建立殖民地、貿易站與傳教據點，而形成一股海外拓殖。請問：下列歐洲國家與其在東亞據點的配對何者正確？ (A)荷蘭—印尼巴達維亞 (B)西班牙—澳門 (C)葡萄牙—菲律賓馬尼拉 (D)英國—日本

31. 荷蘭聯合東印度公司的臺灣長官曾經說：「臺灣真是公司的一頭好乳牛。」依照你所學的歷史知識判斷，上述這句話的涵義為何？ (A)臺灣作為貿易轉運站，為荷蘭帶來商業利益 (B)臺灣對外輸出牛奶與奶製品，賺取大量利益 (C)臺灣原住民剝悍善戰，為荷蘭向外征服天下 (D)臺灣盛產乳牛，可大量輸出日本與南洋地區

32. 土地拓墾與土地改革建設是各政權財經建設的重點。請問：鄭氏治臺時期，土地拓墾的最主要目的為何？ (A)準備大量移民 (B)解決糧食匱乏問題 (C)以農產品做為輸出商品 (D)用農產品交換軍火

33. 關於荷蘭統治時期和鄭氏治臺時期的比較，何者正確？ (A)前者統治時間較後者短暫 (B)前者將臺灣視為貿易據點，後者視為「反清復明」的基地 (C)前者拓墾地區範圍較後者範圍廣泛 (D)兩者皆重視海外貿易，與中國、日本、南洋、美國貿易

【題組 34-37】

※右圖為 108 年 8 月 26 日地震後，由中央氣象局所發布的地震資料，★表震央位置，數字表示該測站震度，請你根據右圖資訊，回答下列問題。請問：

34. 下列哪一新聞台主播對本次地震所做的描述，最能精確為民眾表達本次地震的震央所在位置？(A)山粒台：震央位在台灣東部 (B)終天台：震央鄰近東部海域 (C)冬深台：震央位於花蓮縣 (D)大艾台：震央位置北緯 24 度，東經 121.55 度

35. 根據圖中震度分布的判斷，下列哪些縣市的測站有偵測到本次地震的震度？

- (甲)新北市 (乙)苗栗縣 (丙)南投縣 (丁)新竹縣 (戊)宜蘭縣
(己)台中市 (A)甲乙丙 (B)乙丙戊 (C)丙戊己 (D)丁戊己

36. 請你根據圖中的比例尺判斷，三光國中距離震央的直線距離約為多少公里？

- (A)50 公里 (B)100 公里 (C)150 公里 (D)200 公里

37. 根據圖中的經緯度數字，台灣位於下列哪些半球？(甲)東半球 (乙)西半球

- (丙)南半球 (丁)北半球 (A)甲丁 (B)乙丁 (C)甲丙 (D)乙丙

【題組 38-40】

※2019 年暑假期間，在台灣東側海域已發布 11 個颱風，大部分的颱風都往日本前進。而在暑假尾聲形成的「白鹿颱風」為這兩年來首個登陸台灣的颱風，請你依據各國氣象局所做的颱風路徑預測圖回答下列問題。請問：

38. 白鹿颱風的行徑路線主要朝哪個方向前進？(A)東北方 (B)西南方

- (C)西北方 (D)東南方

39. 持續關注颱風動態後，中央氣象局於 8/24 的預報資料為白鹿颱風將於 (120.9° E, 22.0° N) 位置登陸台灣。請問：根據此經緯度座標位置判斷，白鹿颱風的登陸位置最有可能在哪一個縣市？

- (A)花蓮縣 (B)宜蘭縣 (C)屏東縣 (D)新北市

40. 根據白鹿颱風的行進路線判斷，下列哪位同學的說法正確無誤？

- (A)冠邑：颱風生成於大西洋海域 (B)欣逢：颱風侵台後往中國前進 (C)昱凱：颱風侵台後往日本前進 (D)哲宇：颱風生成於高緯度海域

【題組 41-44】

※右圖為「國際電話分區以及各國國碼地圖」，地圖上的這些號碼是要撥到「目的」國家，意即要從外國打電話回台灣，就必須撥台灣所位的分區碼「8」，再按台灣國碼「86」，最後才是台灣境內的電話號碼，例如：若從外國打電話給三光國中，就必須撥「886-04-22313699」。請你根據右圖資料，回答下列問題。請問：

41. 下列何者為分區碼「2」的大洲的正確敘述？(A)國際換日線經過

- (B)面積最大的洲 (C)臨世界最大洋 (D)赤道通過此大洲中部

42. 恰恰在中秋節前夕依序撥打國際電話「444-xxxxxxx」問候好久不見的大阿姨，也打了「661-xxxxxxx」給許久未見的表弟聊聊天，請問：恰恰分別是撥打電話到了到哪兩洲？

- (A)亞洲、非洲 (B)美洲、歐洲 (C)歐洲、大洋洲 (D)美洲、非洲

43. 恰恰若在臺灣時間 9 月 11 日晚上 8 點，打電話給住在英國倫敦的小阿姨，此時小阿姨的生活作息最有可能是？(A)清晨 5 點剛起床 (B)中午 12 點吃午餐 (C)傍晚 6 點吃晚餐 (D)晚上 11 點準備就寢

44. 右圖中甲、乙兩架飛機於圖上所示位置同一時間出發，然後分別沿著緯度 40° N 及 0° 緯線，以相同速度向東方飛行，繞行地球一周後回到原來的出發地點。下列為兩架飛機的機長所做的飛行紀錄，請問哪個部分有誤？

	(A)出發地點之氣候帶	(B)沿途經過之陸地	(C)沿途經過之海域	(D)抵達時間
甲→	溫帶氣候	北美洲、歐洲、亞洲	未經過印度洋	較晚返回原地
乙→	熱帶氣候	南美洲、非洲、亞洲、大洋洲	三大洋皆經過	較先返回原地

【背面尚有試題，請翻面作答!!】

【題組 45-46】

※「日前剛結束的台中世界花卉博覽會，在籌備期間為了保育『台灣特有亞種－石虎』而更改場地，獲得國際園藝生產者協會肯定，從國際花博冠名為世界花博。台中市政府除了以石虎作為花博吉祥物外，也正研擬『石虎保育自治條例』，將成為全國第一個將石虎保育法制化的城市，未來亦將規劃后里作為石虎保育示範區，透過減少環境用藥、防止路殺等措施，為石虎打造友善生活環境。」請問：

45. 石虎與台灣許多特有種是原先棲息於亞洲陸地的生物，牠們是在哪個時期及海岸如何變化，而來到台灣本島？

(A)冰河期，海平面上升 (B)冰河期後，海平面上升 (C)冰河期，海平面下降 (D)冰河期後，海平面下降

46. 台灣成為東亞地區候鳥遷徙中繼站的主要因素為何？

(A)位居海陸交界帶 (B)氣候帶過渡地帶
(C)沿岸寒暖流交會 (D)地勢高低落差大

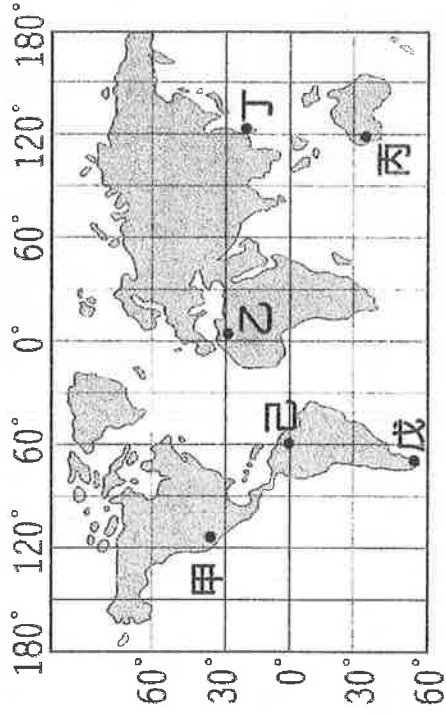
【題組 47-48】

※右列世界地圖有六個地點，請根據右圖回答問題：

47. 何地位處熱帶氣候，氣溫最高？(A)甲 (B)乙 (C)戊 (D)己

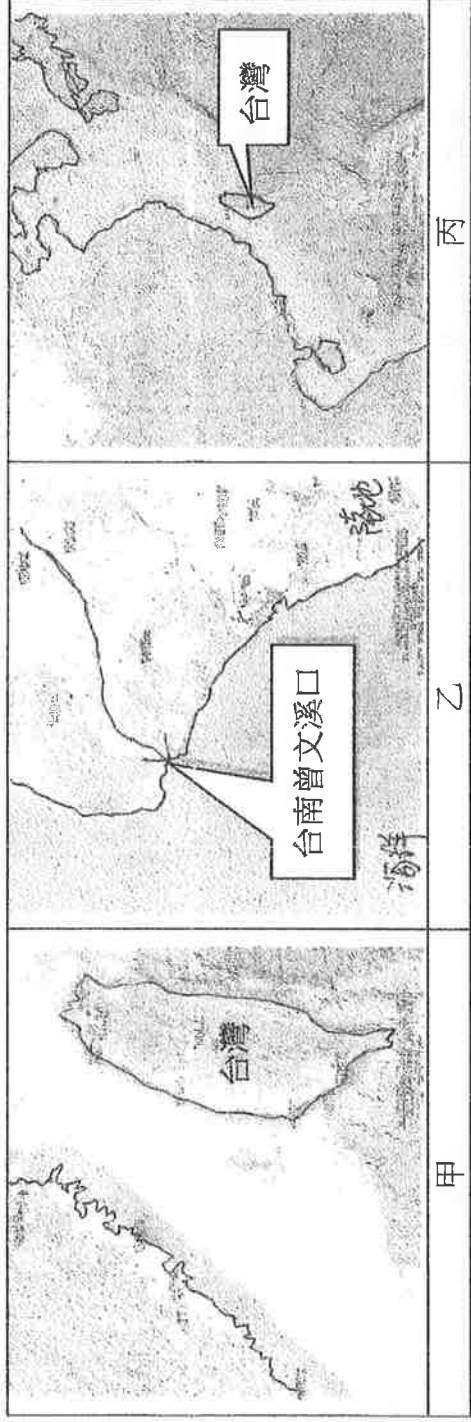
48. 下列哪兩地間沒有時間差異，屬於同一時區？

(A)甲乙 (B)乙丁 (C)丙丁 (D)丁己



【判圖題】

49. 地理課時，老師請同學搜尋臺灣地圖，三位同學找到以下三張圖，下圖為三張「圖紙大小相同，比例尺相異」的地圖，請問：根據地圖資訊，這三圖的比例尺大小「由小至大」順序為何？(A)丙甲乙 (B)甲丙乙 (C)乙甲丙 (D)甲乙丙

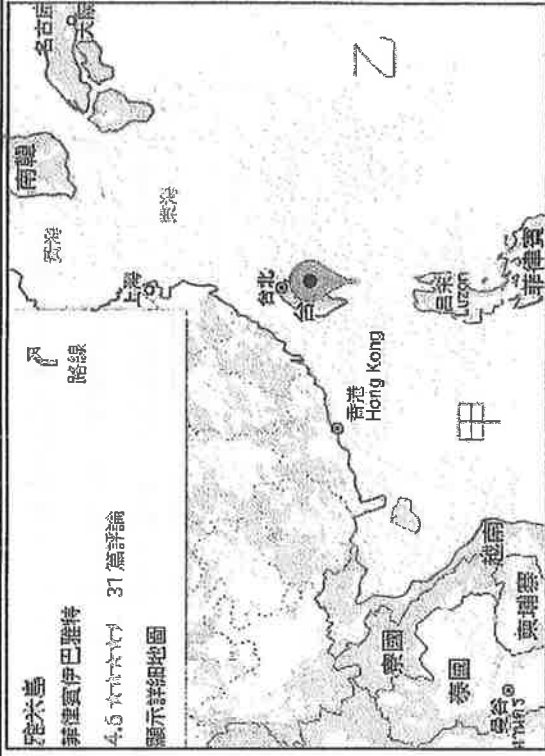


【新聞報導題】

菲律賓最北端有個長約 2.2 公里，寬約 1 公里，面積約 1.2 平方公里的小島「雅米島」，此島屬於菲律賓最北省分巴丹群島 (Batanes)，島名「雅米」源自於巴丹人所說的語言「伊巴丹語」(Ivatan)，即為北方的意思。該島距離台灣本島最南端約 141 公里，而距台灣東南離島僅 98 公里。而在菲律賓 2004 年人口普查中，確認為無人定居地，但不少菲律賓漁民會到附近海域捕魚，而菲律賓 2018 年宣布在該島興建建軍事設施，目前已有全新的直升機停機坪和漁民避風所。雅米島上的軍事基地會協助監控船隻通行巴林坦海峽 (Balintang Channel)，此海峽為連接重要海域(圖中的甲、乙)間往來的重要國際航道，2013 年曾造成台、菲兩邊外交緊張的「廣大興衝突事件」發生地點即位於此海峽，因此，此次菲律賓在雅米島設置軍事設施的行動，造成台灣以此海域維生的漁民緊張，希望政府有所因應，以保障漁民安全。

50. 請根據上述新聞報導及右列地圖內容判斷，下列哪一敘述有誤？

(A)台灣與菲律賓群島均為東亞島弧的一部分
(B)巴林坦海峽為連繫南海與太平洋間重要航道
(C)文中所提的台灣東南離島指的應是釣魚台列嶼
(D)台、菲之間的緊張情勢原因為彼此經濟海域重疊



【試題到此結束，請仔細檢查!!】