

選擇題：1-50 題每題 2 分

1. 婷婷：「你改名字了？」巴布：「我改回族名了，因為身為部落的一份子，我期許自己能永遠記得族裡的美麗文化。」根據現行法律，原住民族可以到戶政機關登記，恢復族名，由以上對話內容可知，巴布改名主要在彰顯什麼意義？(A)遵循法律規定 (B)保障言論自由 (C)產生身分認同 (D)改變傳統風俗。
2. 阿美發現同學撰寫的報告錯誤百出，只有哪一段完全正確？(A)第一段：根據《原住民族基本法》，查找「部落」的意義。(B)第二段：由於各部落的生活空間經常遷移，管轄區域並不固定。(C)第三段：召開部落會議，由政府官員主持會議過程。(D)第四段：部落領袖產生的方式，各族均是由家族世襲。
3. 臺中和平區的深耕德瑪文化協會，成立了部落共同廚房，恢復全族共工共享的傳統生活型態，它的活動性質與下列何者相似？(A)中秋節烤肉 (B)社區內老人共餐 (C)社區住戶大會 (D)過年團圓。
4. 以往經常有將「部落」認定為「社區」的說法，但原住民族並不認同這樣的看法，關於部落的敘述何者為非？(A)部落是原住民族的生活中心 (B)部落是原住民族的自治組織 (C)部落須經內政部核定 (D)部落凝聚原住民族的情感。
5. 近幾年來，花蓮縣噶瑪蘭族的新社部落將獨有的香蕉絲編織技藝作為傳承重點，當地婦女會從香蕉假莖抽取纖維製成絲，用來編織傳統服飾及生活用品。上述部落要達成的主要計畫目標為何？(A)復振部落傳統文化 (B)發展部落經濟產業 (C)落實部落會議組織 (D)回復共工共耕文化。
6. 欽德參加縣府舉辦的「體驗原住民族文化活動」，下列何者較可能是他在活動中學到的正確知識？(A)目前原民會認定的有 16 個部落 (B)政府指派代表協助管理原住民族部落共同事務 (C)多個原住民族共同聚居在一起而組成一個部落 (D)原住民族具有共享互惠、共工互助的精神。
7. 泰雅族認為苦花魚是最好吃的魚，每年春天會將需要溯溪逆流而上的小苦花魚撈起，用籬筐背到深山放回溪中，期待小魚長大再捕抓；整個過程稱為「種魚」。請問：泰雅族的做法，呈現了何種精神？(A)自力更生 (B)永續經營 (C)現代化 (D)符合法律規定。
8. 汶哲想以原住民族的生活經驗，做為自然資源永續發展的例子，下列哪一舉例最為符合？(A)將獵捕到的動物共同分享，平均分配 (B)部落領袖扶養老人和幼童 (C)舉辦祭神慶典，感謝神靈的恩惠 (D)輪流休耕的農業，讓土地能休養生息。
9. 維護人性尊嚴的具體方式就是要落實人權的保障，而一個重視人權的國家通常會以何種方式來落實人權保障的內涵，最能讓民眾的權利得到保障，不受到政府或他人的非法侵害？(A)透過教育 (B)制定法律 (C)公開呼籲 (D)集會遊行。
10. 台灣自東南亞引進移工已30年，但國人對移工始終有偏見。《遠見雜誌》對此製作專題報導，呼籲國人尊重移工。請問《遠見雜誌》製作此專題的目的為何？(A)督促政府制定相關的法律 (B)改善社會底層民眾的生活 (C)提升移工的薪資 (D)破除偏見以提升人性尊嚴。
11. 「無罪推定原則」是強調任何人在做出判決前都應被推定為無罪，請問，做出判決的應該是何人？(A)法官 (B)警察 (C)律師 (D)檢察官。
12. 德國《基本法》第1章的內容和哪一部國際公約第1條的精神相符？(A)《兩公約施行法》(B)《中華民國憲法》(C)《世界人權宣言》(D)《A公約》。
13. 2017年台北發生陳姓小模命案，兇嫌程男被逮捕後，一口咬定梁姓女友是主謀，因梁女嫉妒陳女，故教唆程男誘殺之，梁女因此無辜遭到羈押，並被網友留言謾罵。即使事後梁女證明清白，但形象已嚴重受損。請問：案件中梁女受到哪一種侵犯人性尊嚴的對待？(A)性別歧視 (B)未審先判 (C)假新聞 (D)種族歧視。
14. 承上題，本案違反《世界人權宣言》中的哪一項條文？(A)人人生而自由，在尊嚴及權利上一律平等 (B)人人有權被公正公開的審訊 (C)人人有思想、良心與宗教自由的權利 (D)在被證明有罪之前，人人應被視為無罪。
15. 公民課老師說了「每個人都是獨立個體，都有人權」，到底如何具體保障我們的人權，下列敘述何者正確？(A)力輪：透過法律保障人權才是王道 (B)瑛紋：天賦人權，不用靠外力幫忙就有保障啦 (C)國魚：內心堅定，自己捍衛自己的人權 (D)楚魚：政策僅能保障社會地位高者的人權。
16. 社會上有些人因為先天疾病或受傷，導致臉部長相與一般人不同，常須承受異樣眼光。有公益團體推動「臉部平權運動」，強調尊重每個人的差異，企業也紛紛響應取消履歷表之照片欄。請問「臉部平權運動」的宗旨為何？(A)種族平等 (B)爭取工作福利 (C)維護人性尊嚴 (D)消除性別歧視。

17. 臺灣開港通商後，對外貿易不斷增加，尤其是負責對外貿易的「買辦」更是成為新興領導階級，像是出身於大稻埕的李春生就是一例，而李春生的崛起與何者的出口增加最有關係？(A)稻米 (B)甘蔗 (C)茶葉 (D)樟腦。

18. 下表是清領時期臺灣進出口值統計表。表中哪一期間開始，反映出臺灣對外貿易開始呈現出超情形？(A)甲 (B)乙 (C)丙 (D)戊。

期間	出口		進口	
	年平均值	172.0	年平均值	174.4
(甲)1870~1874	172.0	172.0	年平均值	174.4
(乙)1875~1879	282.3	282.3	年平均值	272.0
(丙)1880~1884	427.3	427.3	年平均值	318.8
(丁)1885~1889	435.7	435.7	年平均值	361.8
(戊)1890~1894	570.7	570.7	年平均值	431.0

19. 三光旅行社規畫「跟著清領時期外國傳教士玩臺灣」的套裝行程，需要規畫參觀地點，請問下列何地不可能是其參觀地點？(A)臺南新樓醫院 (B)淡水理學堂大書院 (C)安平長老教會教堂 (D)臺北電報學堂。

20. 「國家地理頻道」播出「發現臺灣」的節目，節目介紹清領時期的臺灣社會

現象。請問：下列相關敘述，何者正確？(A)各族群始終只祭拜自己的原鄉神明 (B)漢人與原住民通婚，形成「有唐山公，無唐山媽」的現象 (C)臺灣考上舉人與進士人數愈來愈少 (D)番界的移動，顯示原住民越界開墾情形嚴重。

21. 臺灣諺語：「一府二鹿三艋舺。」請問：這句話反映出下列哪些意義？(甲)械鬥民亂的多寡 (乙)商業發展的過程 (丙)貿易港口的發展 (丁)土地拓墾的順序 (A)甲丙丁 (B)甲乙丙 (C)甲乙丁 (D)乙丙丁。

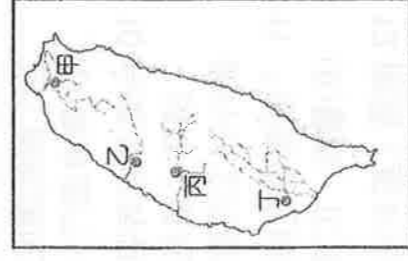
22. 「面對漢人拓墾者的蠶食鯨吞，原本生活於宜蘭的□族人在 1840 年（道光 20 年）左右遷往到花蓮的奇萊平原，重新建立家園。」文中所述的□族，應是下列何族？(A)噶瑪蘭族 (B)西拉雅族 (C)道卡斯族 (D)凱達格蘭族。

23. 清領時期臺灣時常發生分類械鬥，主要是以祖籍別的閩、粵分類械鬥和漳、泉分類械鬥為多。由此可知，臺灣早期的移民多來自中國哪兩省？(A)廣東、福建 (B)東北、山東 (C)福建、雲南 (D)廣東、浙江。

24. 愛麗莎莎到淡水遊玩，他參觀了真理大學內的牛津學堂。請問：這座建築是下列哪一位傳教士集資興建的？(A)馬偕 (B)陳福謙 (C)利瑪竇 (D)馬雅各。

25. 張三四於康熙年間從潮州移民到臺灣鳳山居住，下列何者是他最有可能的人生經歷？(甲)信仰清水祖師(乙)信仰三山國王(丙)祭祀唐山祖(丁)娶高山族女子為妻 (A)甲乙 (B)乙丙 (C)乙丁 (D)丙丁。

26. 小新在歷史課讀到「貓霧揀圳」，它是由漢人與原住民族通力合作，共同修築而成的。請問：小新想要趁著寒假假造訪貓霧揀圳，他應到右圖何處參觀？(A)甲 (B)乙 (C)丙 (D)丁。



27. 「少年若無一次憨，路邊哪有有應公」，這句臺灣俗諺反映出清帝國早期臺灣的何種現象？(A)顯示出男多女少的社會狀態 (B)反映當時好賭迷信的宗教風氣 (C)當時有許多年輕的羅漢腳經常參加械鬥 (D)清朝政府對民亂份子的嚴厲懲罰。

28. 陳火是清帝國時期的臺南人，他經常到廈門從事臺灣稻米的買賣生意，他想加入行會組織，增加人脈，他應該選擇下列何者？(A)糖郊 (B)泉郊 (C)廈郊 (D)布郊。

29. 「乾隆末年，李耀祖從泉州遷來臺南居住，育有三子，死後留下公產三甲作為祭祀公業，建「李氏家祠」，由三房輪流負責該年祭祀祖先之費用。」請問上述的宗族組織是何種祭祀團體？(A)血緣祖 (B)後山祖 (C)唐山祖 (D)開臺祖。

30. 臺灣發展史中，原住民面對外來政權的統治，常在壓迫下發生流血衝突。右表中的相關事件，請按照時間發生順序，正確排列？(A)甲乙丙 (B)乙甲丙 (C)乙丙甲 (D)丙乙甲。

甲	加禮宛事件
乙	麻豆社之役
丙	大甲西社事件

31. 清領初期不論來自中國大陸何地，為了保佑生活平安、發展順利，當時臺灣民眾經常寄託於宗教信仰，而下列哪些是屬於大家的共同信仰？(甲)王爺 (乙)媽祖 (丙)開漳聖王 (丁)土地公 (A)甲乙丙 (B)甲乙丁 (C)乙丙丁 (D)甲乙丙丁。

32. 十九世紀時，有些西部的平埔族群，因為漢人人數越來越多，擠壓了他們的生活空間，選擇離開居住地遷往他處。請

問：下列何處不是他們遷移的地點？(A)臺北盆地 (B)埔里盆地 (C)宜蘭平原 (D)花東地區。

33. 《臺灣的物產》中提到：「這種物產在清領時期主要生產於中、北部，多由淡水出口，產量曾是世界第一。」請問：文中提及的物產應是何者？(A)茶葉 (B)稻米 (C)蔗糖 (D)樟腦。

〔下頁尚有地理科試題，請繼續作答！〕

34.阿國看到蠟筆小新卡通裡，日本在兒童節家家戶戶懸掛鯉魚旗的景象感到新奇，便上網找了圖一當作電腦桌布，從鯉魚旗擺動的方向並參考圖中方位，可判斷出當時的風向應該是？(A)東風 (B)西風 (C)南風 (D)北風。



圖一

35.近年露營已成風潮，是最夯的假日休閒活動之一。阿凱想找個氣溫較為涼爽的地點露營，圖二是天氣預報 7 月 13 日五個露營地點的白天氣溫，造成氣溫不同的主因為下列何者？(A)緯度位置 (B)盛行風向 (C)地勢高低 (D)洋流性質



圖二

36.關於水循環，下列誰的說法最正確？(A)小潔：人滲到土壤裡的水，不會再回到大氣中 (B)廷哥：水從液態變成氣態，稱為凝結 (C)小筠：植物的水氣往大氣擴散，稱為蒸發 (D)睿哥：蒸發作用在陸地跟海洋都有可能發生的！

37.陸地上的水，其中何者佔的比例最高？(A)地下水 (B)大氣中的水

(C)極區跟高山的水河 (D)河川跟湖泊

38.圖三是某地區水系圖，請問下列敘述何者有誤？(A)圖中一共有 5 個水系 (B)圖中甲、乙、丙、丁四點，甲的地勢應該最低 (C)圖中甲、乙、丙、丁四點，丁的集水區範圍最小 (D)圖中的 A 河 河川流向為東北向

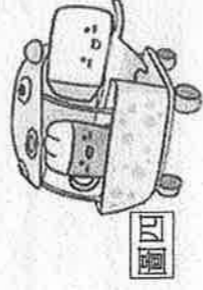


圖三

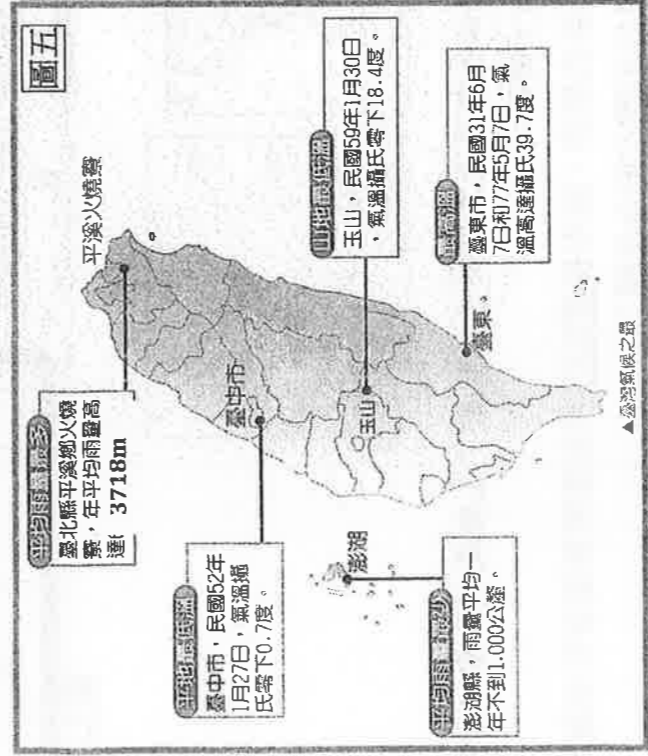
39.在台灣有兩處鐵道自行車，一是位於新北市的深澳鐵道自行車，一是位於苗栗的舊山線鐵道自行車。在車體的設計上，苗栗鐵道的自行車只有車頂，而深澳鐵道自行車的包覆性更強，連背面都有遮擋（如圖四）。請問，兩者車體包覆性的不同跟何者最相關？

(A)深澳迎風，全年有雨 (B)苗栗地勢較高，冬天太冷

(C)深澳緯度較高，夏天偏涼 (D)苗栗地勢較高，地形雨多



圖四



圖五

40.圖五是《台灣氣候之最》，由圖可之，

台灣東部平溪鄉山區雨量高達 3718 公

釐，澎湖地區則為全台平均雨量最少的地方，普遍而言，離島的年平均雨量都比本島少，請問造成上述現象的原因為何？(A)位處季風背風側 (B)颱風不會侵襲離島 (C)地勢低平不易攔截水氣 (D)緯度較低

★2014 年就有研究指出世界上風力最強的 20 處離岸風

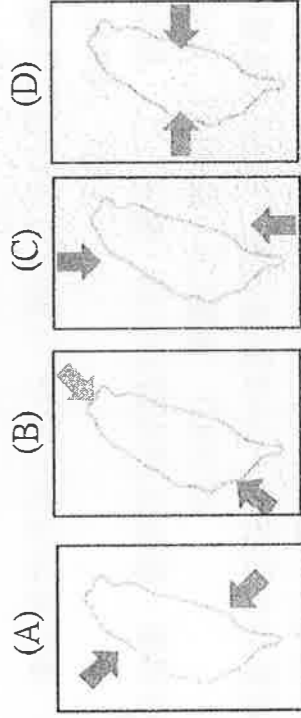
場，其中有 16 處位於台灣的 內，其風力強勁的原因除了受季風影響外，還因受台灣中央山脈與中國福

建武夷山脈的夾擊，狹窄的地形使風力更強勁。請問：

41.依據上文判斷，台灣的 內風力強勁，適合興建離岸風場。 應指下列哪一個海域？(A)東海 (B)太平洋

(C)巴士海峽 (D)台灣海峽

42.承上題，季風為台灣帶來豐富的風力資源，下圖何者為台灣正確的季風風向？



(A) (B) (C) (D)

★圖六是世界知名大河與台灣部分河川的《單位面積泥沙含量圖》，請回答 43-44 題：

43. 從右圖資訊判斷，可以看出台灣河川具有下列哪一項特徵？
 (A) 東西分流，水系短小 (B) 流域面積小，含沙量大 (C) 流域面積小，西部河川較長 (D) 流域面積大，流量變化大

44. 承上題，造成這個現象的原因不包括下列何者？

- (A) 植被茂盛 (B) 降雨集中
 (C) 坡陡流急 (D) 地質脆弱

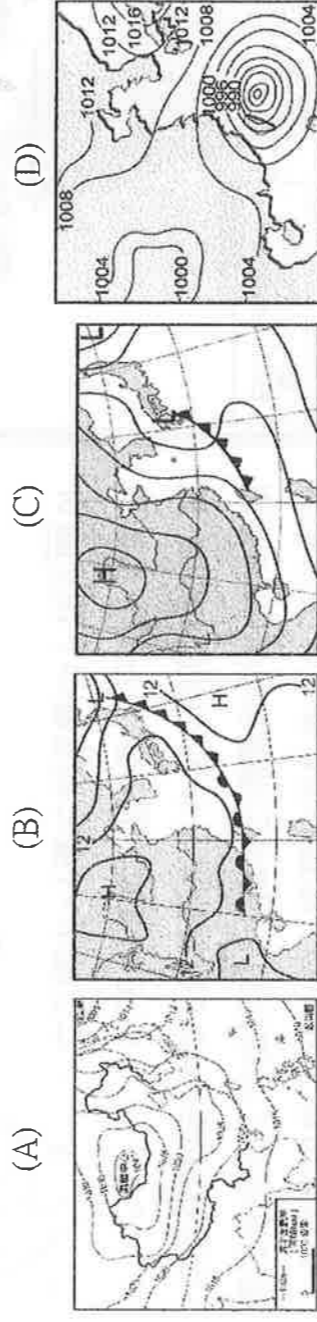
★位於台中市太平區的太平買菸場，興建於 1955 年，是公賣局向菸農鑑定、收購菸葉的場所。1994 年裁撤後閒置良久，因見證太平菸業發展歷程，加上建築構造特殊，整體空間具有再利用潛力，經修繕後重新開放，孕育出結合歷史與藝術文化的新場域。請問：

45. 日治末期，台灣原有宜蘭、台中、嘉義、屏東、花蓮等五大菸產區，國民政府也延續發展，由於台灣夏季雨水與颱風多，不得不選擇栽植秋菸，但宜蘭菸區冬季多雨，不適合栽植秋菸，因此於 1962 年遭裁撤。請問：宜蘭不適合栽植秋菸的情況，與下列哪一種類型的降水最相關？




46. 為讓社區民眾對太平買菸場有更進一步的了解，提供的導覽服務如圖七所示。

若鈺鈞一家想參加**第二梯次**的導覽，但該梯次的部分活動卻因天候不佳而使參加人數稀少。請問：上文中的天候不佳可能是因下列哪種地面天氣圖造成的



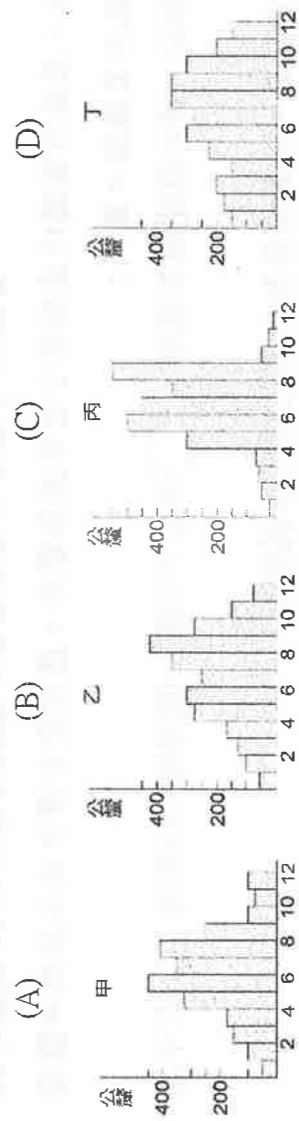
太平買菸場導覽

第一梯次：109年2月~3月週日下午
 第二梯次：109年5月~6月週日下午
 第三梯次：109年8月~9月週日下午
 第四梯次：109年11月~12月週日下午



★隨著全球氣候變遷的影響加劇，颱風、乾旱、熱島效應等以往認為是異常的天氣現象，逐漸成為常態。臺灣數個縣市在填寫氣候風險問卷中揭露城市所面臨的氣候風險，請問：

47. 高雄市政府以「高雄新頁」為題，召開記者會向市民報告新政績，副市長葉匡時要求幕僚準備資料來說明「改善乾旱」的新政策，市府團隊應該要準備哪張降水量分布圖才符合主題？



48. 臺北市長柯文哲在臺北市議會報告市政，用圖卡說明「臺北市極力推動綠屋頂和綠化，改善了都市熱島現象」，資料中氣溫的單位應使用何者才正確？ (A)mm (B)hPa (C)km/hr (D)°C

49. 一月初，屏東縣長潘孟安上電台提醒民眾「氣象局發布低溫預報，來襲，請漁民提前做好準備，避免魚塭損失慘重。」請問：文中應是指哪種氣象災害？ (A)旱災 (B)寒害 (C)颱風 (D)水災

50. 嘉義縣長翁章梁委託里長宣傳「今年因『空梅(梅雨季時期雨量偏少)現象』導致嚴重缺水，農田因無水灌溉而休耕，請民眾節約用水，做好抗旱的心理準備。」請問下列哪個選項常是台灣最乾旱的時段？ (A)冬末春初 (B)春末夏初 (C)夏末秋初 (D)秋末冬初