

## 台中市三光國中一〇八學年度第一學期第三次定期評量九年級社會科試卷(第一頁)

### 選擇題：1-50 題每題 2 分

1. 上譜上臺報告說：「這種合作方式的優點是籌資能力較強；但缺點是容易因意見不合而拆夥。」上譜報告的是哪一種企業經營型態？ (A)合夥企業 (B)股份有限公司 (C)無限公司 (D)獨資企業
2. 燕霖投資的公司依法可向民眾招募資金，出資的股東則依投資額分享利潤並承擔虧損風險，但公司資產不足以承擔虧損時，股東無須以私人財產來支付債務。上述燕霖投資的公司應是屬於哪種型態？ (A)獨資 (B)無限公司 (C)合夥 (D)股份有限公司
3. 勞動部勞動保險司指出，勞工因雇主遷廠而選擇自行離職，不論雇主是否已提供必要協助，仍屬「非自願離職」，勞工在失業期間可依「法」申請失業給付。上述的「法」是指哪部法律？ (A)《性別工作平等法》 (B)《勞資爭議法》 (C)《勞働基準法》 (D)《就業保險法》
4. 許多大學生除了用功讀書爭取獎學金外，還利用課餘時間到超商、加油站打工，有些甚至還會在晚上兼差當家教，想辦法增加收入。這些大學生所做的經濟規畫，是著重哪一項理財觀念？ (A)分配 (B)節流 (C)開源 (D)消費
5. 美君拿新臺幣 50 萬元操作股票時，曾經在一天內就賺到 4 萬元，也曾經在一小時內就賠掉 3.8 萬元。由上述內容判斷，下列何者最能詮釋這種現象？ (A)高風險，高利潤 (B)高風險，低利潤 (C)低風險，高利潤 (D)低風險，無利潤
6. 奔騰：「最近各家銀行又陸續公告調降存款的利率了。」天菜：「那麼以後要靠存款賺利息就難囉！看來個人的理財規畫要更多元了！」根據上述兩人的對話內容判斷，存款利率的調降可能產生下列哪一種現象？ (A)生產數量減少 (B)投資意願提高 (C)消費需求降低 (D)儲蓄動機增強
7. 陳先生為了籌措兩年後全家人出國度假所需的旅費，家人分別提出開源計畫。下列何者是屬於「風險相對低又安全」的作法？ (A)陳先生把錢交給投資公司去操作股票，等股價上漲了再賣掉 (B)陳太太購買政府公債累積債券利息，等時間到了再贖回來 (C)哥哥拿積蓄去購買彩券，只要中大獎，旅費就全有了 (D)妹妹購買日幣，等它升值再兌換成新臺幣，賺取價差
8. 魯美是網路拍賣的愛好者，常將自己不需要的物品放到網路上拍賣，今天，魯美將一年前買了一件 3000 元的裙子，放到網路上拍賣，最後賣出價為 2400 元，則其投資報酬率為何？ (A)-30% (B)-24% (C)-20% (D)-18%
9. 臺積電文教基金會致力社區總體營造及文化藝術推廣，持續舉辦「臺積電心築藝術季」，這樣的行為是哪種精神的具體表現？ (A)企業回饋社會 (B)企業獲取利潤 (C)企業培育人才 (D)企業推銷產品
10. 鐵雄的老闆老崑認為：「我珍惜創業之初的理念，為了建立優質形象，我必須為環境盡一份心力。」下列何者的做法不會是老闆老崑的做法？ (A)公司夏天冷氣調至合適溫度 (B)提供員工免費保麗龍飲料杯 (C)使用二手紙張做為構思草稿 (D)在公司電腦佈告欄上公布公司訊息
11. 臺灣因為過度開發，造成環境汙染與生態破壞，每逢大雨時山區總釀成災害，為矯正此「外部成本」，政府該如何進行處理？ (A)制定並嚴格執行生態與環境保護法規 (B)在災後進行撫卹與補償 (C)將怪手與推土機常駐於山區 (D)將山區民眾遷居至中南美洲
12. 曉東閱讀報紙，其中內容寫著「……隨著公路大量修築，山地的利用逐漸達到飽和，而接連的地震、颱風，更是造成沿線嚴重的土石流災情。……促使國人重新審視道路興建與國土開發等政策。」根據內容的判斷，下列何者最可能是這篇報導的標題？ (A)社區營造 (B)區域均衡 (C)經貿發展 (D)生態保育
13. 「溫室效應」為世界各國共同關心的議題，主要源自於各國工業大量排放二氧化碳，使得溫室效應增強，導致氣溫上升，而造成氣候的異常變化。此種為了經濟發展犧牲自然環境的現象，隱含了何項經濟學概念？ (A)機會成本 (B)外部效益 (C)供需原理 (D)需求法則
14. 新聞報導：「桃園市政府舉辦『廢棄物處理循環經濟特展』成果發表會，透過上百種廢棄物資源物的展出，讓民眾了解所有廢棄物其實都是資源，廢燈管也能新生。」上述政府的做法主要是基於下列哪項原因？ (A)比較利益 (B)永續發展 (C)供給法則 (D)機會成本
15. 經濟部提出幾項新政策的推動，項目包括「擴大電費折扣獎勵節能措施」、「LED 交通號誌燈全面汰換」等，並表揚去年全國各地省電表現卓越之十大省電達人。上述經濟及能源部的新政策主要是為了下列哪項目的？ (A)促進國際交流 (B)推廣理財觀念 (C)解決金融危機 (D)落實節能減碳
16. 碳信用是計算碳減量的計量單位，可交換買賣。例如居全球碳排放量之冠的美國，可花錢向「芝加哥碳信用交易所」或歐盟等碳交易市場購買碳信用，來平衡其汙染行為，也可協助開發中國家發展再生能源、種樹等工作，取得經認證的碳信用，彌補國內做不到的碳減量。上述「碳信用」買賣，是以何種方式達成環保的目的？ (A)善用有限的資源 (B)開發替代的能源 (C)外部成本內部化 (D)提高資源使用率

背面尚有試題，請翻面作答

17. 十七世紀的科學革命，除了在天文學與物理學方面有卓越的貢獻外，對後來的政治與社會發展也產生了很大的影響。請問：下列何者可以支持上述的說法？

- (A) 羅馬人將這些理論用於公共建築的建設 (B) 相信理性可以解決所有問題，促成啟蒙運動的出現 (C) 「地球中心說」使基督教神學體系崩解 (D) 統治者支持科學研究，施行開明專制
18. 歷史事實與歷史解釋不同，最大的差別在於歷史事實是呈現客觀的事實本身；而歷史解釋則是史學家對史實的詮釋。就歐洲歷史上的「科學革命」而言，下列哪一項敘述屬於「歷史解釋」？
- (A) 牛頓提出三大運動定律 (B) 政府成立科學研究機構 (C) 溫度計、顯微鏡等新工具問世 (D) 這個時期被稱為「天才的世紀」

19. 亞當斯密：「要讓一個國家從野蠻走向富足，需要的只是和平、適度的稅收和完善的司法制度，其他的一切都會在自然趨勢下循序漸進。」請問：這些類似的言論可以在以下哪本書中看到？

- (A) 《民約論》 (B) 《國富論》 (C) 《九十五條論綱》 (D) 《政府論》

20. 啟蒙時代有許多思想家分別提出政治理念，附表中的配對何者正確？

(甲)	洛克：行政、立法、司法三權分立
(乙)	孟德斯鳩：真正的統治權力屬於人民
(丙)	伏爾泰：抨擊暴君政治，倡議言論自由
(丁)	盧梭：上天賦予人生命、自由、財產權

- (A) 甲 (B) 乙 (C) 丙 (D) 丁

21. 在啟蒙運動的影響下，部分歐洲國家的君主逐漸採行開明專制的統治方式。請問：下列哪一個國家在十八世紀曾出現過開明專制的君主？

- (A) 英國 (B) 俄國 (C) 法國 (D) 義大利

22. 十八世紀以後，工廠興起，大量人口湧入城市，卻也使得社會產生哪些問題？(甲)勞資對立(乙)貧富不均(丙)勞力短缺(丁)治安隱憂

- (A) 甲乙丙 (B) 甲乙丁 (C) 甲丙丁 (D) 乙丙丁

23. 某位學者曾說：「工業革命是給予那些經濟與技術發展的名詞，這些發展在十八世紀結合起來的力量與速度產生了近代工業主義。」請問：工業革命最初發源於哪個國家？

- (A) 美國 (B) 法國 (C) 英國 (D) 義大利

24. 工業革命造成了許多的社會問題，許多學者紛紛提出其見解，希望能解決這些問題。工業革命的問題促成了何種主張的盛行？

- (A) 三民主義 (B) 資本主義 (C) 專制主義 (D) 社會主義

25. 影響英國政治制度演變的重要事件有(甲)約翰王簽署大憲章(乙)清教徒革命(丙)光榮革命。若依其發生的時間先後排列，正確的順序為何？

- (A) 甲乙丙 (B) 乙丙甲 (C) 乙甲丙 (D) 甲丙乙

26. 十九世紀初的英國雖然號稱民主，但除了議員的席次分配不公外，選舉權也受到嚴格的財產權限制。為了應付不斷呼籲改革的聲浪，因此國會通過哪項法案？

- (A) 權利法案 (B) 改革法案 (C) 大憲章 (D) 權利請願書

27. 強森想要擔任英國的首相。請問：強森可能由下列哪一方式當選？

- (A) 由上議院議員推選 (B) 英國國王就國會議員中任命 (C) 由下議院多數黨的黨魁擔任 (D) 由全國公民直選產生

28. 促成美國爆發獨立運動的導火線是什麼？

- (A) 英國對美洲殖民地開徵新稅 (B) 殖民母國英國政治壓迫美洲殖民地人民 (C) 法國的煽動 (D) 英法於美洲開戰，法國尋求其支持

29. 十九世紀中葉，美國爆發了南北戰爭，這場內戰的發生與下列哪一因素無關？

- (A) 聯邦政府權力大小 (B) 經濟生產方式 (C) 奴隸制度存廢 (D) 徵收新稅問題

30. 下列關於法國大革命的描述，何者錯誤？

- (A) 國民會議發表獨立宣言，宣揚自由與平等的理念 (B) 刺激歐洲國家組成反法聯軍 (C) 法國革命政府建立共和體制，一度實施恐怖政治 (D) 內外動亂為拿破崙崛起的重要原因

31. 下列關於美國獨立戰爭與法國大革命的比较，何者有誤？

- (A) 皆因徵稅問題而起 (B) 美國獨立獲得外國支持，法國革命則遭各國干涉 (C) 皆成立長期穩定的共和政權 (D) 美國獨立後制定成文憲法，法國革命後制定《拿破崙法典》

32. 資料一：維也納會議討論拿破崙戰爭結束後的各項局勢安排事宜。資料二：在奧國首相主導下，堅持保守主義的原則，並恢復各國的君主專制體制。由資料一、二判斷，這位首相是誰？

- (A) 梅特涅 (B) 路易拿破崙 (C) 羅伯斯庇爾 (D) 克倫威爾

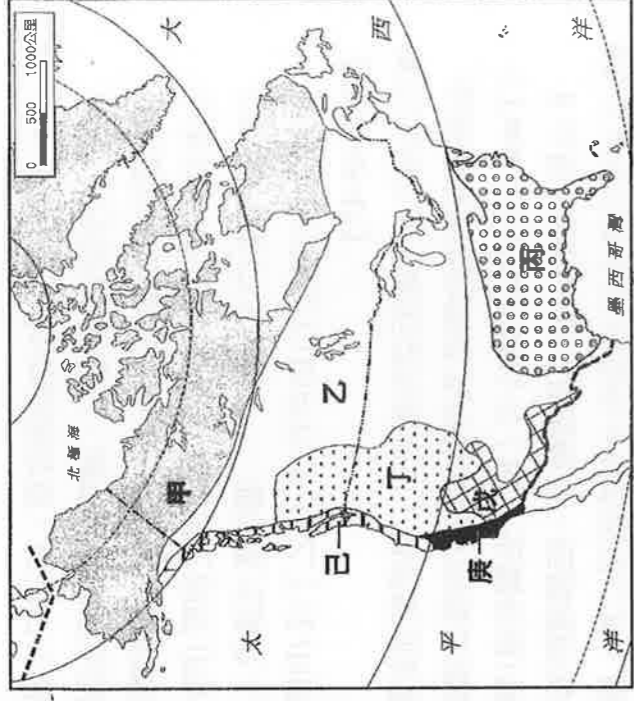
33. 維也納會議後，法國王室復辟，但未獲得人民的支持，加上啟蒙思想深入人心，因此法國在十九世紀中葉以前接連爆發兩次革命事件。依序是以下哪組革命事件？

- (A) 清教徒革命、光榮革命 (B) 法國大革命、二月革命 (C) 七月革命、二月革命 (D) 二月革命、十月革命

【題組 34-37】

※右圖為北美洲的氣候分區圖，請根據圖中代號回答問題。請問：

34. 來自阿根廷南部高原的足球明星梅西若到美國進行訓練，右圖何區氣候類型與家鄉最為相似，能讓他最快適應？(A)乙 (B)丙 (C)戊 (D)庚
35. 「2019 年 1 月 30 日，美國受到極地渦旋侵襲，許多地區降下嚴重大雪，測得氣溫介於零下 23°C 到零下 40°C 之間，部分地區體感溫度比南極洲部分地區還冷。美國國家氣象局也開玩笑的幫芝加哥改名為芝加哥伯利亞，說明芝加哥的酷寒不亞於俄羅斯的西伯利亞。」上文提到的天氣現象，應是發生在右圖中何區？(A)乙 (B)戊 (C)庚 (D)己
36. 「庚區」的氣候環境下，發展出獨特的農作型態。請問：下列何國無法看到此氣候與農作型態？(A)以色列 (B)西班牙 (C)巴西 (D)智利
37. 右列為北美某種天氣災害的示意圖，下列哪位人物對這種天氣災害的說法正確無誤？




說法正確無誤？

- (A)終鳴宣：生成後影響時間為幾天到一周左右 (B)潑特王：多形成於加勒比海附近的熱帶海域 (C)鼓阿末：大多發生於夏、秋兩個季節時間內 (D)世網模：地形平坦氣流無阻利於此災害生成

【題組 38-40】

※2019 年 12 月 10 日美國、墨西哥與加拿大簽署新版《美墨加貿易協定》(USMCA)，意在取代北美自由貿易協定 (NAFTA)，美國國際貿易委員會 (ITC) 預估，在 USMCA 實施後，美國每年農產品出口可望攀升 1.1% 或 22 億美元，主要來自於美國對加國出口乳製品、家禽、小麥與酒精等品項。另外，據 USMCA 條款規定，75% 的汽車零組件須在美加墨製造，否則將被課以高關稅，此比例高於 NAFTA 規定的 62.5%。此外，40%~45% 的零組件須由時薪至少 16 美元的工人製造。(註：以往汽車工人的時薪是 8 美元)。綜合上文所述，請問：

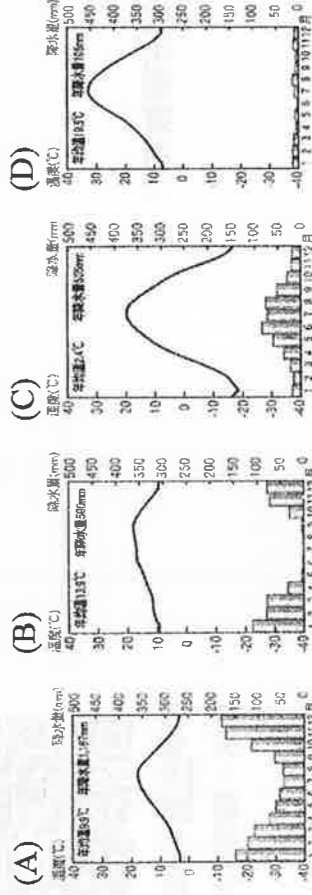
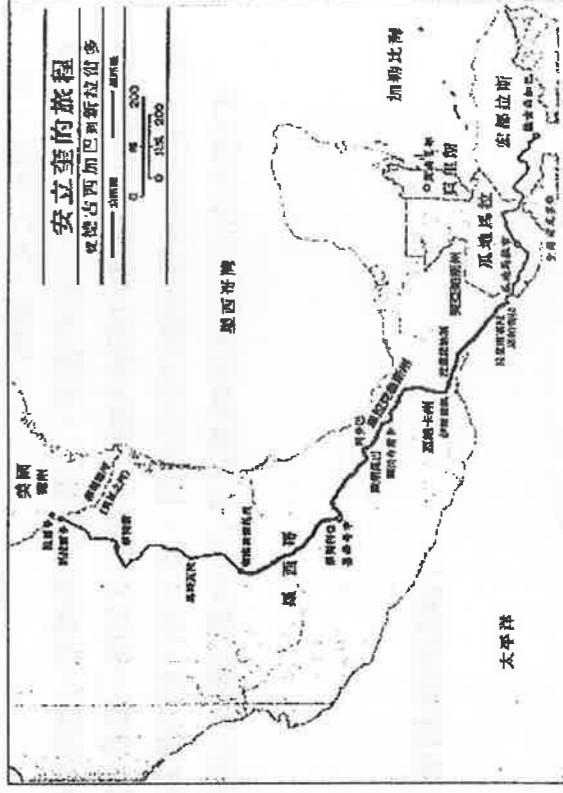


38. 根據上文提及的限制，下列哪一個地區的汽車產業最有可能因此而復甦？  
(A)墨西哥灣沿岸 (B)五大湖區 (C)矽谷地區 (D)美墨邊境
39. 右圖為 2017 年的全球前十大汽車生產國家，由圖可知墨西哥擠身名列前十大生產國，請問下列哪些因素為其主要的發展條件？(甲)廉價勞力 (乙)資金充足 (丙)NAFTA 成立 (丁)技術先進 (A)甲乙 (B)乙丙 (C)甲丙 (D)丙丁
40. 下列哪些敘述為美國農業生產的特色？(甲)單位面積產量高 (乙)市場導向 (丙)集約耕作 (丁)總產量大 (戊)機械化 (A)甲丙丁 (B)甲乙丁 (C)乙丁戊 (D)丙丁戊

【題組 41-44】

※《被天堂遺忘的孩子》是一本描述來自宏都拉斯的少年安立奎的故事，安立奎的母親因為窮到養不起孩子，在他五歲時，便忍痛拋下子女，遠赴美國工作。漫長的十一個年頭過去，極度思念母親的安立奎決定動身去尋找母親。帶著母親的電話號碼，他獨自一人從宏都拉斯出發。身上僅有五十七塊美金的他，只有一種方法能夠進入美國——那就是偷搭人稱「死亡列車」的載貨列車，沿著墨西哥鐵路非法潛入美國。右圖即是安立奎偷渡的路線圖，請問：

41. 安立奎的名字最有可能是源自於哪一種語言命名？  
(A)英文 (B)阿拉伯文 (C)西班牙文 (D)葡萄牙文
42. 安立奎從宏都拉斯出發的路途中，沿途最常看到的應是下列哪一景象？(A)香蕉園 (B)葡萄田 (C)棉花田 (D)蘋果樹
43. 當安立奎到達墨西哥北部時，應是面臨下列哪一氣候的考驗？



44. 安立奎如同史詩般的偷渡故事，但它只不過是更慘烈的中南美洲移民史詩的一環而已。請問：下列哪些因素造成中南美洲大多數國家面臨政局不穩、人民普遍貧窮的問題？(甲)境內多缺乏自然資源 (乙)缺乏公平健全的民主制度 (丙)受英、法殖民時期的陋習影響 (丁)仰賴一、二種物產支撐收入 (戊)人民的貧富差距擴大 (A)甲乙戊 (B)甲丙戊 (C)乙丁戊 (D)丙丁戊

【題組 45-47】

※在巴西西北部、臨近亞馬孫河口，科學家在此發現面積達 9,500 平方公里的珊瑚礁生態系統，並於 2016 年發表文章將這個全新的海洋生物群落及所發現的新物種公諸於世。然而，這獨特的生態寶藏正面臨莫大危機，法國道達爾石油公司 (Total) 及英國石油公司 (BP) 企圖在這片珊瑚礁附近勘探石油。其中，Total 的一個石油勘探選址距離珊瑚礁僅僅 8 公里。勘探、鑽油及運輸等，每個環節都有風險，這不僅威脅珊瑚礁，更可能威脅整個亞馬孫河口的生態。請問：

45. 文中描述的生態系統所分布的地理位置，應為下列何圖所示？(註：海域中的斜線區塊為珊瑚礁群)



46. 除了河口之外，巴西於亞馬孫河流域的森林開發亦帶來許多環境問題。2019 年 8 月亞馬孫雨林的火災影像在網路上流傳，影像中可見大團濃煙從翠綠森林中升起，火舌舔噬後的大地一片焦黑。大火濃煙一路擴散，幾乎覆蓋半個巴西國土，甚至溢散到周圍鄰國。濃煙也一路飄到 2735 公里外的巴西第一大城聖保羅，8 月 19 日下午聖保羅市的天空突然暗了下來，從白天一瞬變成了黑夜，接著落下「黑雨」，經分析證實，雨中存在燃燒顆粒。統計資料更顯示，2019 年 1 月至 8 月亞馬遜地區已發生超過 7 萬 5000 起森林火災，與 2018 年同期相比增加 84%，網友們紛紛轉傳亞馬孫雨林所面臨的生態浩劫，呼籲巴西政府正視本區問題～「救救亞馬遜」。請問：根據上文所述，下列哪一敘述正確無誤？(A)巴西第一大城聖保羅位於巴西高原 (B)祕魯、玻利維亞及墨西哥為被濃煙波及的周圍鄰國 (C)開發本區雨林主因為巴西人口增加對農牧用地的需求 (D)雨林開發面臨的生態浩劫為加劇溫室效應及土壤鹽鹼化

47. 右圖為巴西的人口分布圖，請根據圖中資訊判斷，下列哪一敘述正確？

- (A)人口大多分布於沿海的港埠型城市 (B)ㄅ區內陸沙漠地廣人稀人口稀疏
- (C)為開發內陸地區遷都至里約熱內盧 (D)ㄆ區為溫帶海洋性氣候溫和宜人



【題組 48-50】

※國家地理頻道 2016 年發布了一段影片，位於華盛頓州聖海倫火山曾在 1980 年 5 月 18 日爆發，創下美國史上最長、最具爆發威力的火山事件。當時，有 57 人罹難，數不清的動物死亡，一整座森林因而被夷平，而火山灰瀰漫範圍甚至遠及五大湖區附近的明尼蘇達州。至今，聖海倫仍維持活火山狀態，在 2016 年發布的影片，便是火山口長了個「小火山」的神奇畫面。根據上文，請問：

- 48. 這段影片所記錄的畫面，主要位於美國哪一個地形區？(A)落磯山脈 (B)中部大平原 (C)阿帕拉契山 (D)拉布拉多高原
- 49. 從火山灰瀰漫的範圍判斷，主要是受到哪一股風勢的影響呢？(A)西風 (B)東南信風 (C)東北信風 (D)西南季風
- 50. 上文所述地質景觀的形成原因，與下列何者的最為相似？(A)雲貴高原的地下溶洞與地表峰林 (B)台灣西南部沿海多沙岸 (C)智利南部海岸曲折峽灣眾多 (D)台灣的陽明山有硫磺氣和溫泉



( 試題到此結束，請仔細檢查!! )

同學考後可掃描連結，觀看影片。